

1. Ugotovi imena likov, če poznaš vrednosti stavkov v danem svetu, ki so podane v spodnji tabeli.

1. Ali lik A je siv ali lik D ni majhen.

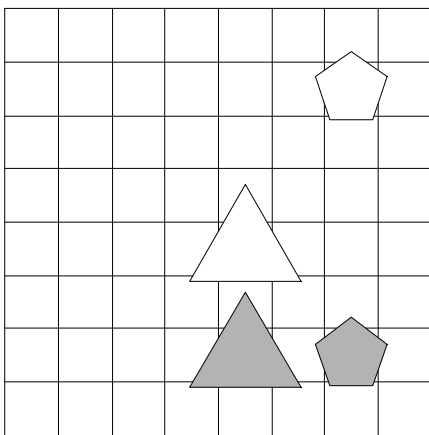
2. Lik C je bel ali lik D je petkotnik.

3. Lik C je večji kot D in lik A je manjši kot D.

4. Lik A je nad C, če in samo če je lik B večji kot D.

5. Lik C je pod D in lik B je večji kot D.

1	2	3	4	5
R	R	N	R	R



2. Ugotovi imena likov, če poznaš vrednosti stavkov v danem svetu, ki so podane v spodnji tabeli.

1. Lik C ni bel ali lik D ni bel.

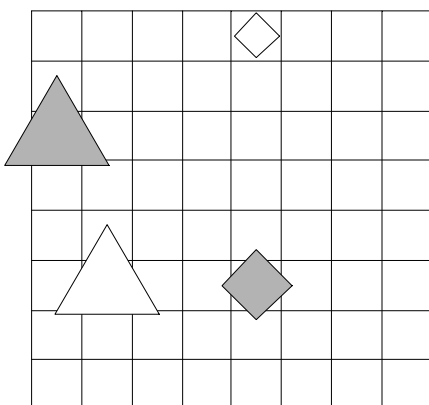
2. Lik A ni petkotnik ali lik B ni majhen.

3. Lik A je pod C ali je lik A pod B.

4. Lik B je nad D in lik B je nad C.

5. Če je lik A desno od B, potem je lik C levo od D.

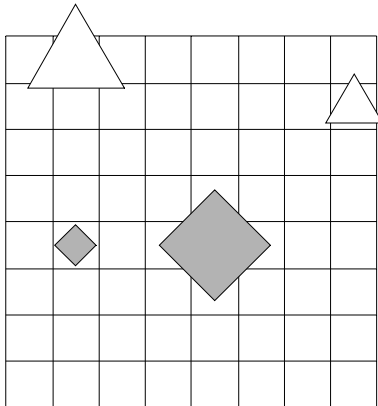
1	2	3	4	5
R	R	N	R	R



3. Ugotovi imena likov, če poznaš vrednosti stavkov v danem svetu, ki so podane v spodnji tabeli.

1. Če lik C je majhen, potem lik C je kvadrat.
2. Lik D ni kvadrat ali lik D je kvadrat.
3. Če je lik B nad C, potem je lik A levo od D.
4. Ali je lik B večji kot C ali je lik A večji kot B.
5. Če je lik A manjši kot D, potem je lik A pod C.

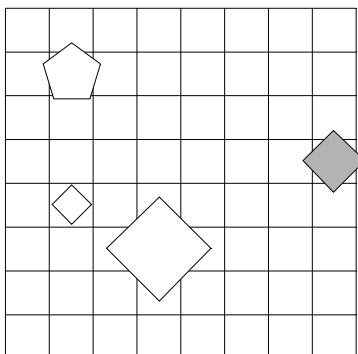
1	2	3	4	5
R	R	N	N	N



4. Ugotovi imena likov, če poznaš vrednosti stavkov v danem svetu, ki so podane v spodnji tabeli.

1. Lik B je siv, če in samo če lik C je majhen.
2. Lik C je kvadrat, če in samo če lik D je velik.
3. Lik B je manjši kot D ali je lik A levo od C.
4. Lik A je levo od B in lik B je manjši kot C.
5. Če je lik B manjši kot C, potem je lik B desno od D.

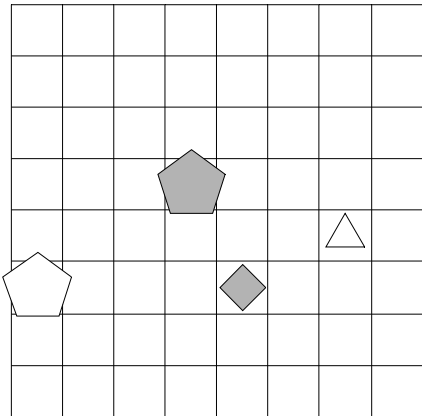
1	2	3	4	5
R	N	N	N	N



5. Ugotovi imena likov, če poznaš vrednosti stavkov v danem svetu, ki so podane v spodnji tabeli.

1. Lik D ni petkotnik in lik A ni kvadrat.
2. Lik C ni srednje velikosti ali lik C ni siv.
3. Lik A je levo od C ali je lik A pod B.
4. Lik A je manjši kot C in lik B je levo od C.
5. Lik C je levo od D in lik A je manjši kot B.

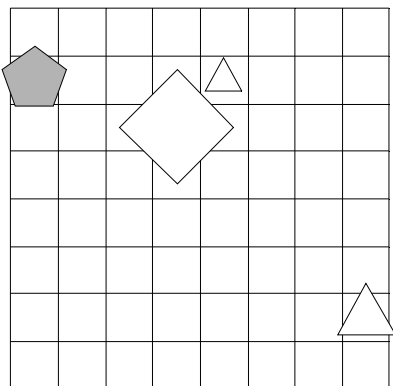
1	2	3	4	5
N	N	N	R	R



6. Ugotovi imena likov, če poznaš vrednosti stavkov v danem svetu, ki so podane v spodnji tabeli.

1. Če lik D je trikotnik, potem lik B ni srednje velikosti.
2. Lik B je velik ali lik D je majhen.
3. Če je lik B nad C, potem je lik C manjši kot D.
4. Ali je lik A levo od B ali je lik B nad D.
5. Lik C je desno od D ali je lik C levo od D.

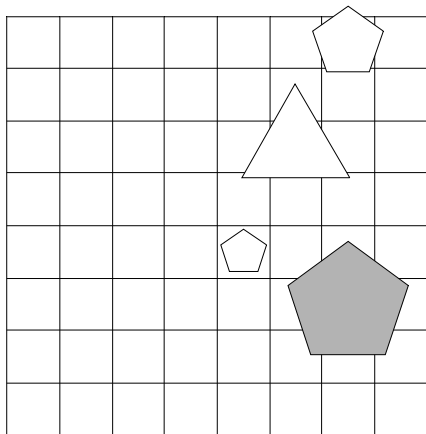
1	2	3	4	5
R	R	N	N	R



7. Ugotovi imena likov, če poznaš vrednosti stavkov v danem svetu, ki so podane v spodnji tabeli.

1. Ali lik C je bel ali lik B je trikotnik.
2. Lik B ni srednje velikosti in lik C je trikotnik.
3. Lik A je večji kot D in lik C je pod D.
4. Lik C je pod D in lik A je manjši kot B.
5. Lik B je pod D ali je lik B manjši kot D.

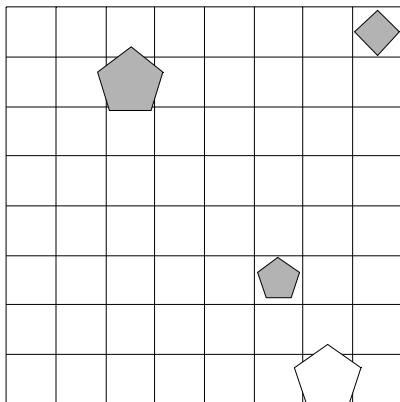
1	2	3	4	5
N	N	N	N	R



8. Ugotovi imena likov, če poznaš vrednosti stavkov v danem svetu, ki so podane v spodnji tabeli.

1. Lik D je trikotnik ali lik B je bel.
2. Ali lik A je velik ali lik A ni majhen.
3. Ali je lik C večji kot D ali je lik B desno od C.
4. Če je lik C levo od D, potem je lik B levo od D.
5. Lik A je nad B in lik B je manjši kot D.

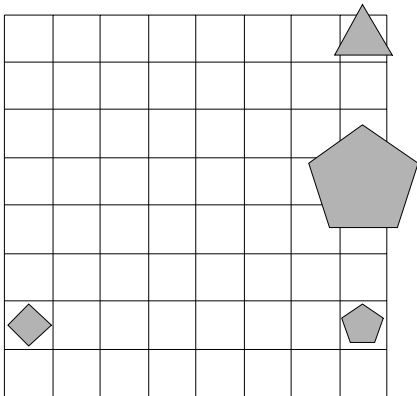
1	2	3	4	5
N	R	R	N	N



9. Ugotovi imena likov, če poznaš vrednosti stavkov v danem svetu, ki so podane v spodnji tabeli.

1. Ali lik A ni petkotnik ali lik B ni bel.
2. Lik D ni siv ali lik D ni kvadrat.
3. Lik A je desno od D in lik B je nad D.
4. Če je lik B nad D, potem je lik A levo od D.
5. Če je lik A desno od C, potem je lik A manjši kot D.

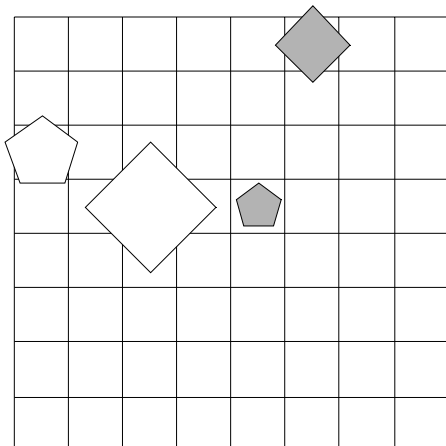
1	2	3	4	5
N	R	N	N	N



10. Ugotovi imena likov, če poznaš vrednosti stavkov v danem svetu, ki so podane v spodnji tabeli.

1. Lik C je majhen ali lik B je kvadrat.
2. Ali lik B je siv ali lik B je kvadrat.
3. Lik C je manjši kot D in lik B je levo od D.
4. Če je lik A manjši kot B, potem je lik A nad C.
5. Ali je lik B desno od C ali je lik B nad C.

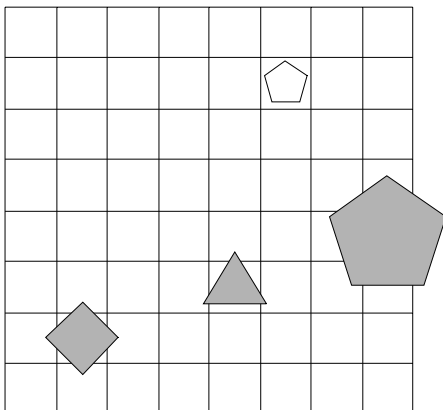
1	2	3	4	5
N	N	N	R	N



11. Ugotovi imena likov, če poznaš vrednosti stavkov v danem svetu, ki so podane v spodnji tabeli.

1. Če lik D je petkotnik, potem lik B je trikotnik.
2. Lik B je majhen ali lik B ni siv.
3. Lik A je večji kot B in lik B je pod D.
4. Ali je lik B levo od D ali je lik A nad D.
5. Ali je lik C desno od D ali je lik C manjši kot D.

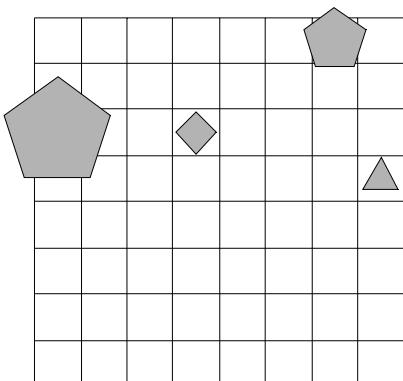
1	2	3	4	5
R	N	N	N	N



12. Ugotovi imena likov, če poznaš vrednosti stavkov v danem svetu, ki so podane v spodnji tabeli.

1. Če lik A je velik, potem lik B je trikotnik.
2. Lik A ni bel in lik B ni trikotnik.
3. Lik B je nad D, če in samo če je lik B manjši kot C.
4. Lik A je levo od B in lik B je nad D.
5. Lik B je večji kot D ali je lik A levo od B.

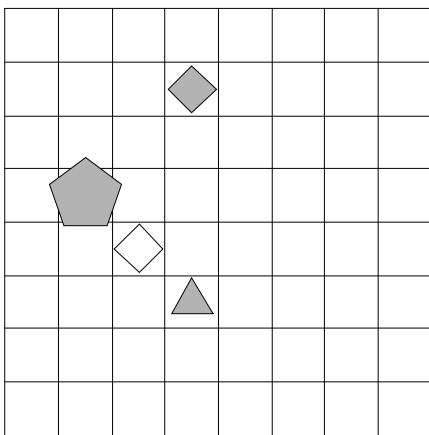
1	2	3	4	5
N	R	R	R	R



13. Ugotovi imena likov, če poznaš vrednosti stavkov v danem svetu, ki so podane v spodnji tabeli.

1. Lik C je bel ali lik C ni majhen.
2. Lik D ni trikotnik, če in samo če lik A ni majhen.
3. Ali je lik A večji kot D ali je lik B levo od C.
4. Lik A je večji kot B, če in samo če je lik A levo od B.
5. Ali je lik B levo od C ali je lik B pod C.

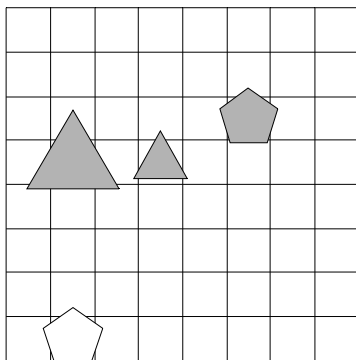
1	2	3	4	5
N	N	N	N	R



14. Ugotovi imena likov, če poznaš vrednosti stavkov v danem svetu, ki so podane v spodnji tabeli.

1. Lik D ni velik ali lik C ni velik.
2. Lik C ni siv, če in samo če lik D je kvadrat.
3. Če je lik A levo od D, potem je lik B levo od C.
4. Ali je lik B desno od D ali je lik A manjši kot D.
5. Če je lik A desno od C, potem je lik B pod C.

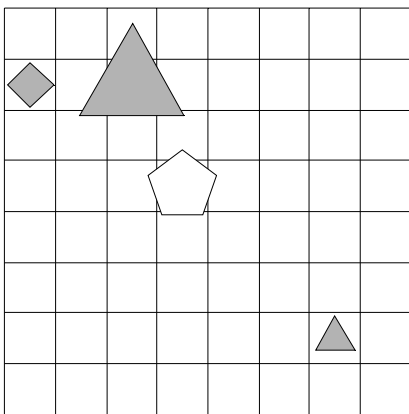
1	2	3	4	5
R	N	N	R	R



15. Ugotovi imena likov, če poznaš vrednosti stavkov v danem svetu, ki so podane v spodnji tabeli.

1. Lik C je srednje velikosti ali lik A ni majhen.
2. Lik A je majhen ali lik A ni bel.
3. Lik C je desno od D, če in samo če je lik C večji kot D.
4. Če je lik B večji kot C, potem je lik B nad D.
5. Če je lik A levo od C, potem je lik A desno od B.

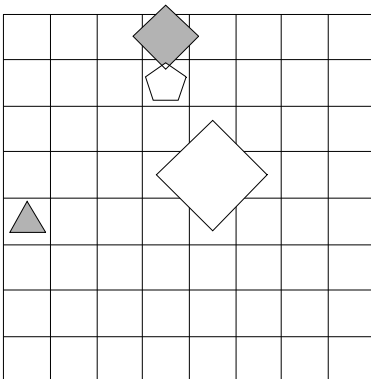
1	2	3	4	5
R	R	N	N	N



16. Ugotovi imena likov, če poznaš vrednosti stavkov v danem svetu, ki so podane v spodnji tabeli.

1. Če lik A je velik, potem lik C ni majhen.
2. Lik C je siv ali lik D je bel.
3. Lik A je nad C in lik A je levo od C.
4. Ali je lik C levo od D ali je lik C večji kot D.
5. Če je lik A levo od D, potem je lik A nad D.

1	2	3	4	5
R	N	N	N	R

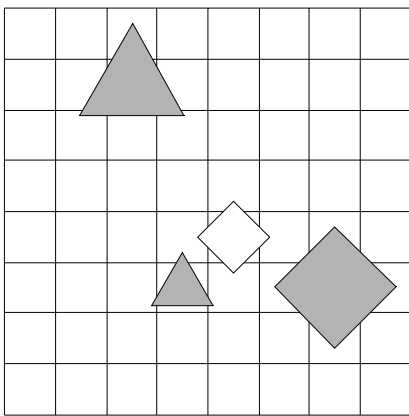




17. Ugotovi imena likov, če poznaš vrednosti stavkov v danem svetu, ki so podane v spodnji tabeli.

1. Lik A je bel ali lik A ni bel.
2. Če lik D ni petkotnik, potem lik A je kvadrat.
3. Ali je lik C večji kot D ali je lik A levo od B.
4. Lik C je večji kot D in lik A je pod D.
5. Lik A je pod C in lik B je nad D.

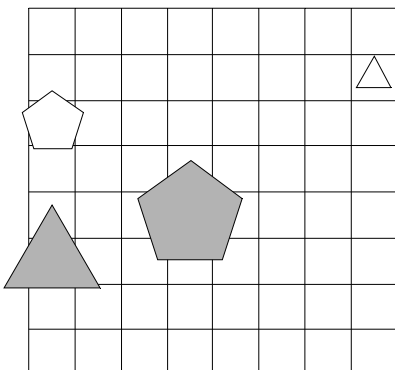
1	2	3	4	5
R	N	R	R	N



18. Ugotovi imena likov, če poznaš vrednosti stavkov v danem svetu, ki so podane v spodnji tabeli.

1. Lik A je trikotnik ali lik B je trikotnik.
2. Ali lik C ni velik ali lik C je kvadrat.
3. Lik A je manjši kot B, če in samo če je lik A manjši kot B.
4. Če je lik B nad D, potem je lik A večji kot B.
5. Če je lik C desno od D, potem je lik C desno od D.

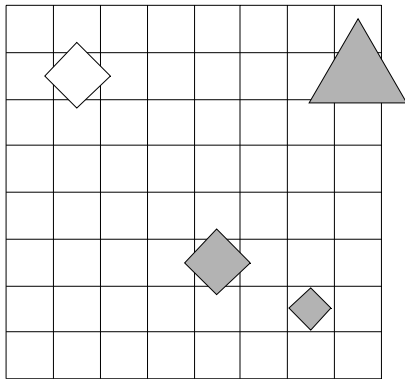
1	2	3	4	5
N	R	R	N	R



19. Ugotovi imena likov, če poznaš vrednosti stavkov v danem svetu, ki so podane v spodnji tabeli.

1. Lik D ni bel in lik D ni srednje velikosti.
2. Lik A je petkotnik, če in samo če lik C ni velik.
3. Če je lik A desno od D, potem je lik A večji kot D.
4. Lik C je nad D, če in samo če je lik A desno od D.
5. Lik A je pod D in lik B je večji kot C.

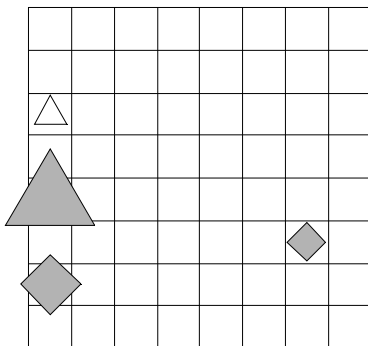
1	2	3	4	5
R	N	R	R	R



20. Ugotovi imena likov, če poznaš vrednosti stavkov v danem svetu, ki so podane v spodnji tabeli.

1. Lik A je bel, če in samo če lik B ni siv.
2. Lik D je kvadrat, če in samo če lik B ni bel.
3. Ali je lik C desno od D ali je lik A večji kot D.
4. Lik A je desno od C in lik A je manjši kot C.
5. Lik B je večji kot C, če in samo če je lik A nad C.

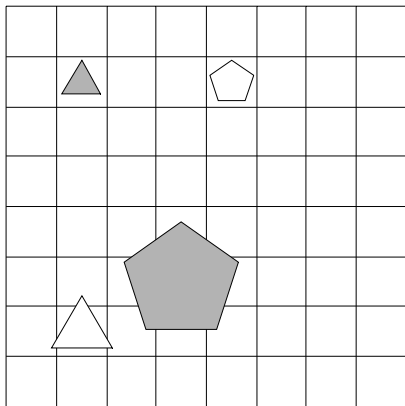
1	2	3	4	5
R	R	N	N	N



21. Ugotovi imena likov, če poznaš vrednosti stavkov v danem svetu, ki so podane v spodnji tabeli.

1. Lik C je petkotnik ali lik B je bel.
2. Lik C ni velik, če in samo če lik B je bel.
3. Lik B je pod D ali je lik B pod C.
4. Lik B je levo od C ali je lik A pod C.
5. Lik A je desno od C, če in samo če je lik A levo od D.

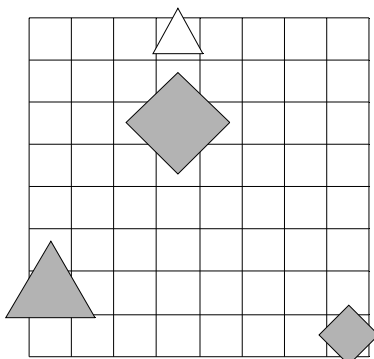
1	2	3	4	5
R	N	N	N	R



22. Ugotovi imena likov, če poznaš vrednosti stavkov v danem svetu, ki so podane v spodnji tabeli.

1. Ali lik A je petkotnik ali lik A je trikotnik.
2. Če lik C ni srednje velikosti, potem lik A je srednje velikosti.
3. Lik B je pod D, če in samo če je lik B večji kot D.
4. Lik A je večji kot B, če in samo če je lik A pod C.
5. Ali je lik B levo od D ali je lik A večji kot D.

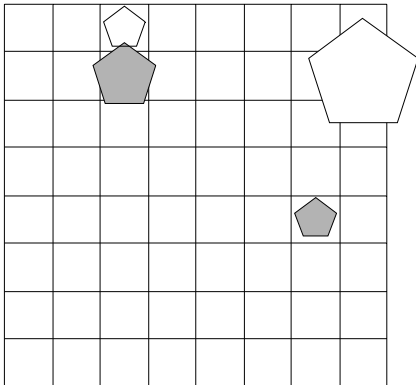
1	2	3	4	5
R	R	R	R	N



23. Ugotovi imena likov, če poznaš vrednosti stavkov v danem svetu, ki so podane v spodnji tabeli.

1. Ali lik A je trikotnik ali lik C ni srednje velikosti.
2. Lik A ni kvadrat in lik B ni srednje velikosti.
3. Lik B je nad D ali je lik B levo od D.
4. Lik A je pod C, če in samo če je lik A večji kot B.
5. Lik C je pod D in lik A je levo od C.

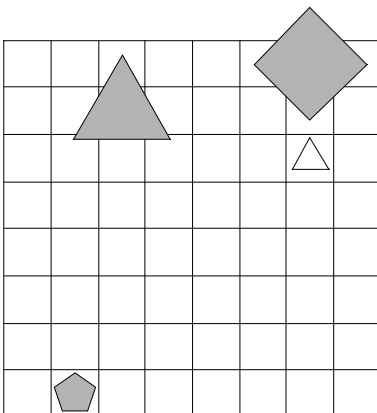
1	2	3	4	5
R	R	N	N	N



24. Ugotovi imena likov, če poznaš vrednosti stavkov v danem svetu, ki so podane v spodnji tabeli.

1. Če lik A ni velik, potem lik D je kvadrat.
2. Lik D je srednje velikosti in lik A ni petkotnik.
3. Lik C je levo od D, če in samo če je lik A manjši kot C.
4. Ali je lik A nad B ali je lik B manjši kot C.
5. Lik C je manjši kot D, če in samo če je lik A levo od C.

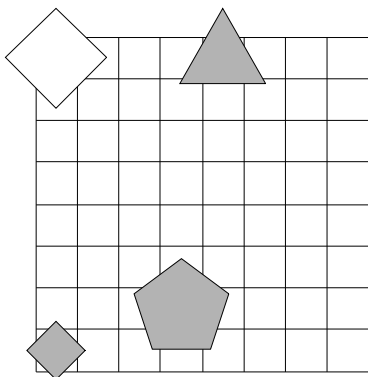
1	2	3	4	5
N	N	R	N	N



25. Ugotovi imena likov, če poznaš vrednosti stavkov v danem svetu, ki so podane v spodnji tabeli.

1. Če lik C je velik, potem lik B je kvadrat.
2. Lik B je kvadrat ali lik C je velik.
3. Lik B je nad C, če in samo če je lik C manjši kot D.
4. Lik C je večji kot D in lik C je nad D.
5. Lik B je pod C in lik A je nad D.

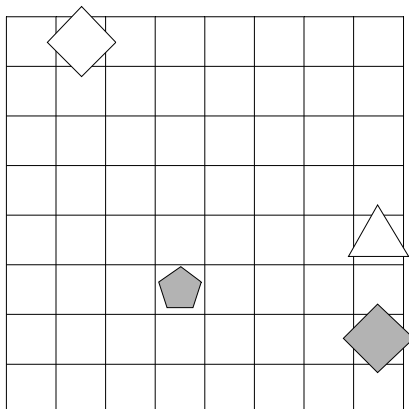
1	2	3	4	5
R	R	N	R	N



26. Ugotovi imena likov, če poznaš vrednosti stavkov v danem svetu, ki so podane v spodnji tabeli.

1. Ali lik B ni bel ali lik B ni trikotnik.
2. Lik C ni kvadrat ali lik B je trikotnik.
3. Lik C je večji kot D in lik C je nad D.
4. Lik A je desno od B, če in samo če je lik A desno od B.
5. Ali je lik A manjši kot B ali je lik B nad C.

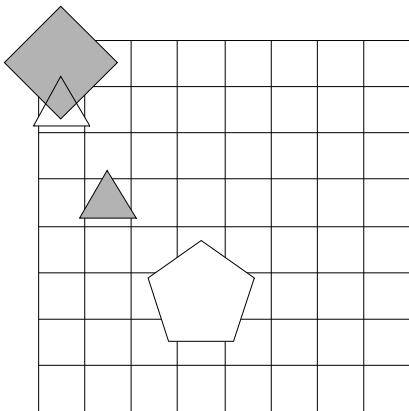
1	2	3	4	5
N	N	R	R	N



27. Ugotovi imena likov, če poznaš vrednosti stavkov v danem svetu, ki so podane v spodnji tabeli.

1. Lik D ni majhen ali lik C je petkotnik.
2. Ali lik D ni srednje velikosti ali lik C je velik.
3. Ali je lik B desno od C ali je lik C nad D.
4. Lik A je večji kot D, če in samo če je lik B levo od C.
5. Lik A je manjši kot C ali je lik A manjši kot C.

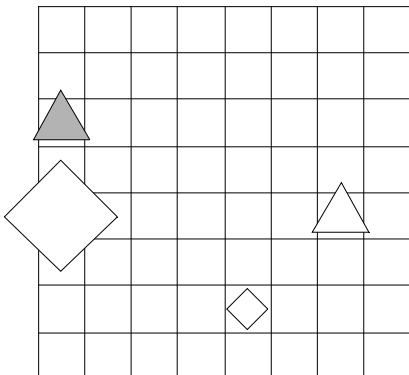
1	2	3	4	5
R	N	R	R	R



28. Ugotovi imena likov, če poznaš vrednosti stavkov v danem svetu, ki so podane v spodnji tabeli.

1. Ali lik B ni bel ali lik B je trikotnik.
2. Ali lik B ni bel ali lik C ni kvadrat.
3. Lik A je desno od C ali je lik B pod D.
4. Če je lik B desno od C, potem je lik B levo od D.
5. Lik A je desno od B in lik B je manjši kot D.

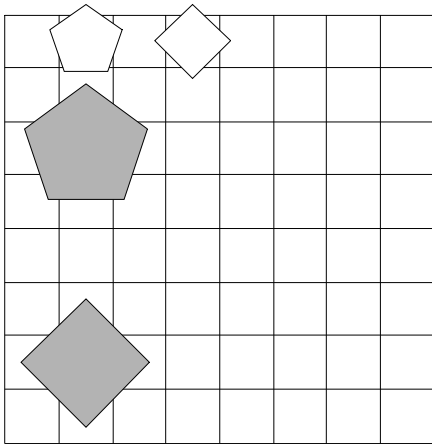
1	2	3	4	5
N	N	R	N	R



29. Ugotovi imena likov, če poznaš vrednosti stavkov v danem svetu, ki so podane v spodnji tabeli.

1. Lik C je bel in lik D je srednje velikosti.
2. Ali lik A ni velik ali lik C ni kvadrat.
3. Ali je lik B levo od C ali je lik A pod B.
4. Ali je lik B nad D ali je lik B manjši kot D.
5. Lik A je levo od B, če in samo če je lik A levo od D.

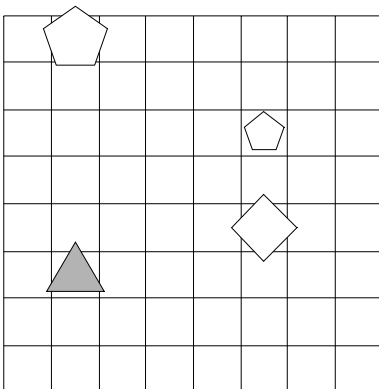
1	2	3	4	5
R	R	R	N	N



30. Ugotovi imena likov, če poznaš vrednosti stavkov v danem svetu, ki so podane v spodnji tabeli.

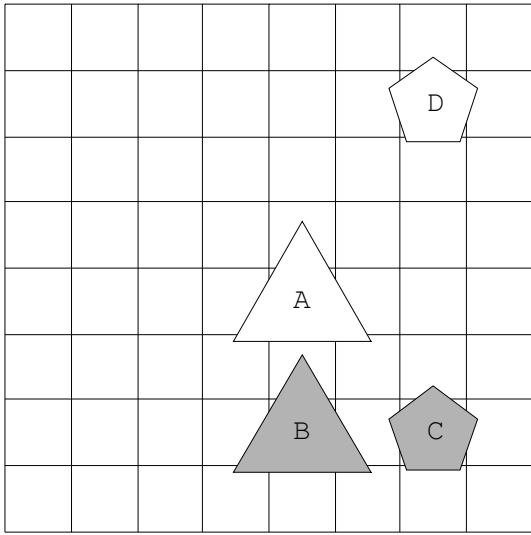
1. Lik C ni kvadrat in lik C ni srednje velikosti.
2. Lik C je petkotnik, če in samo če lik B ni velik.
3. Če je lik A nad B, potem je lik A večji kot C.
4. Lik A je manjši kot B, če in samo če je lik A desno od D.
5. Lik A je nad D in lik C je nad D.

1	2	3	4	5
N	R	N	R	R

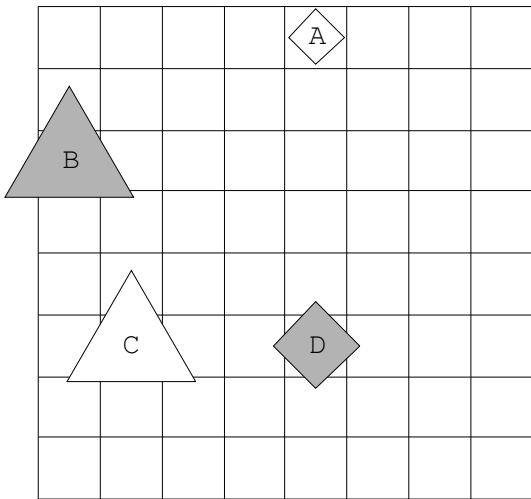


Rešitve

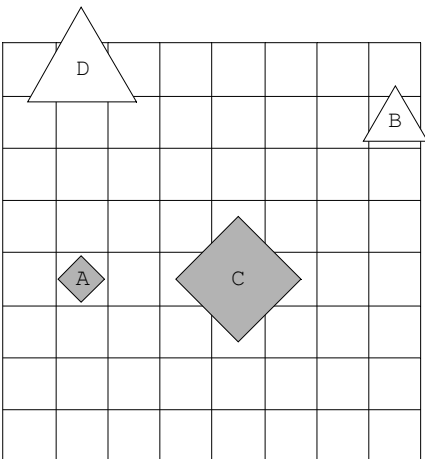
1.



2.

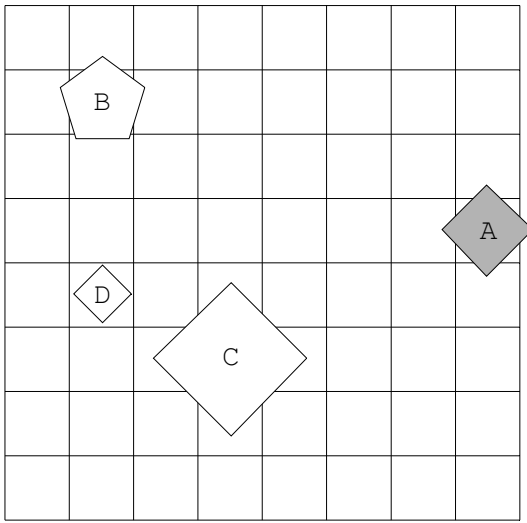


3.

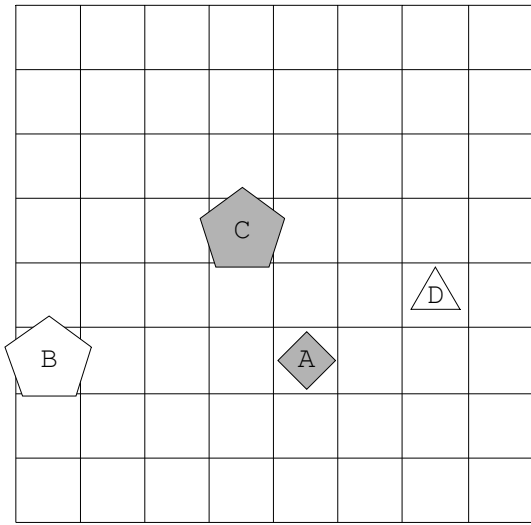




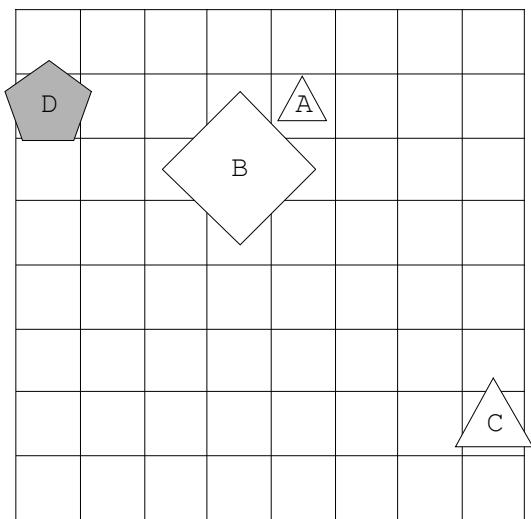
4.



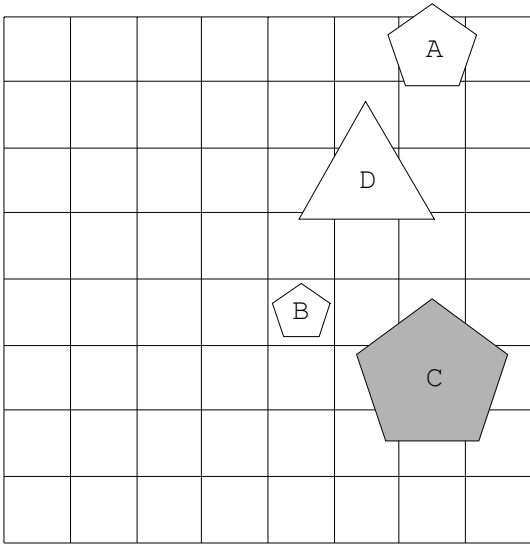
5.



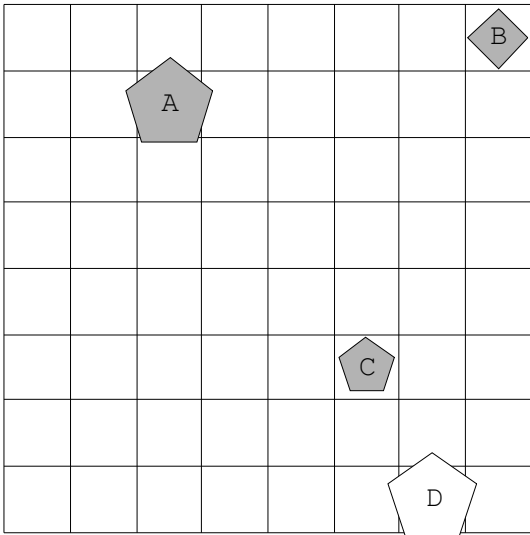
6.



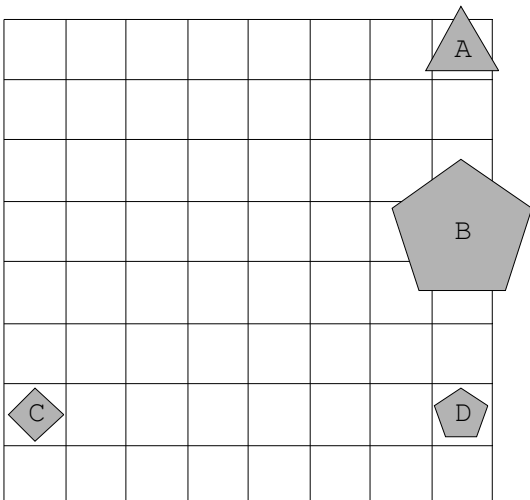
7.



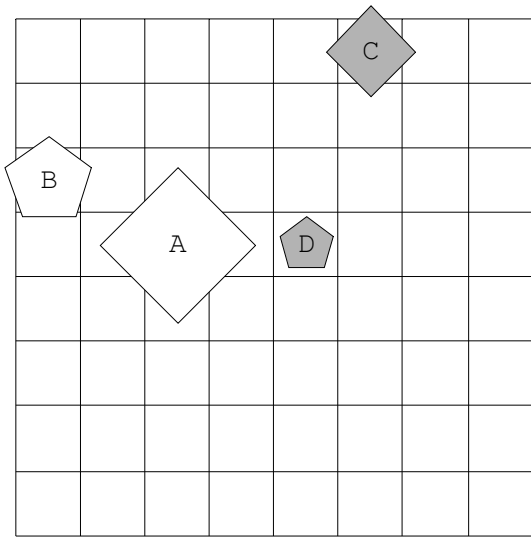
8.



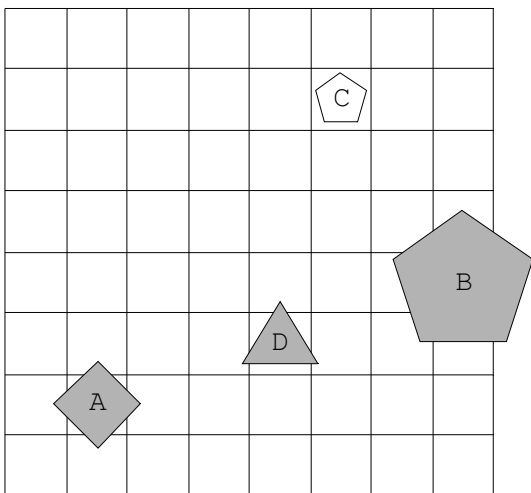
9.



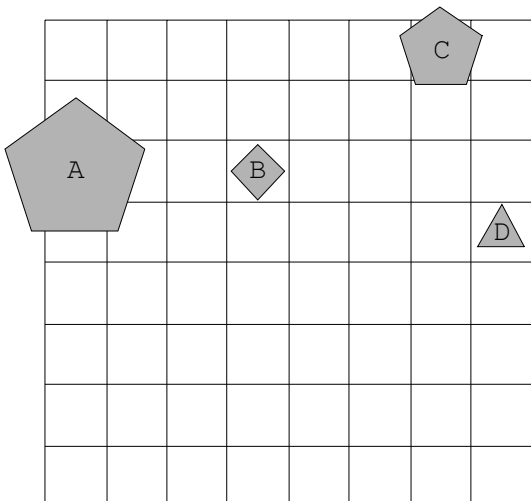
10.



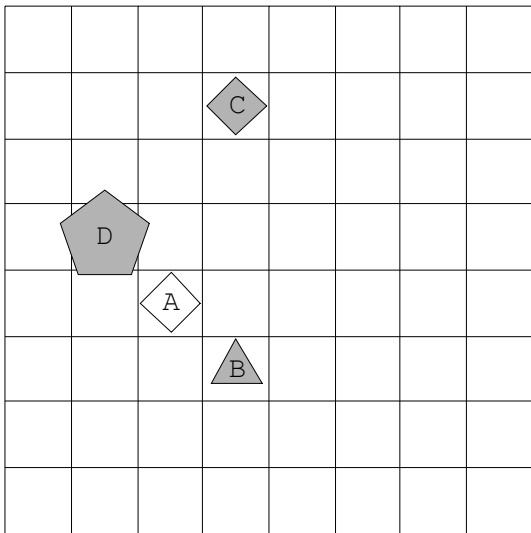
11.



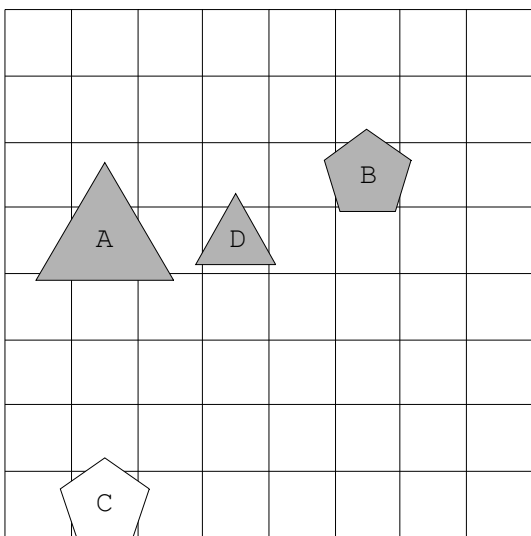
12.



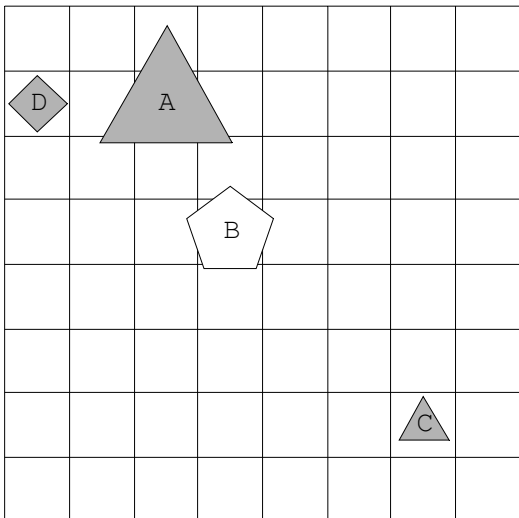
13.



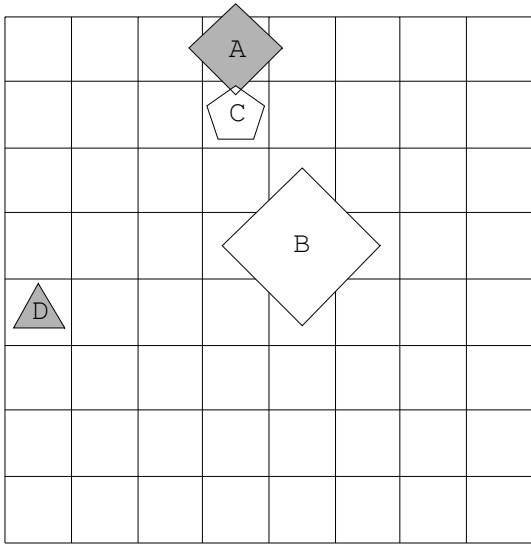
14.



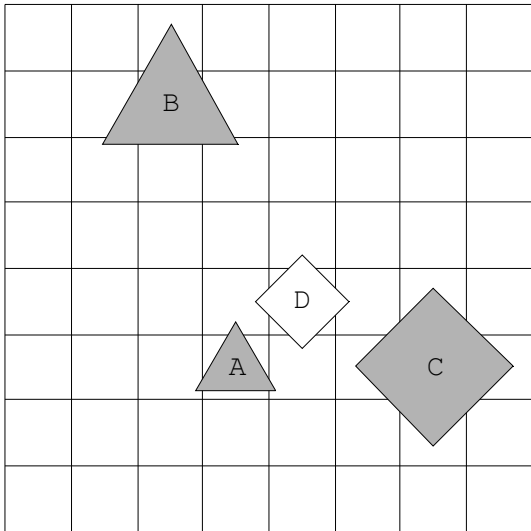
15.



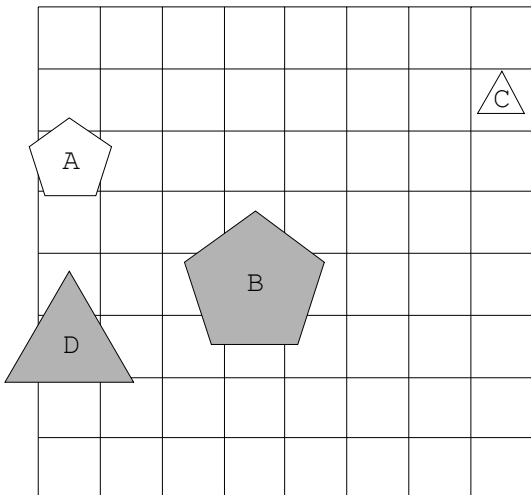
16.



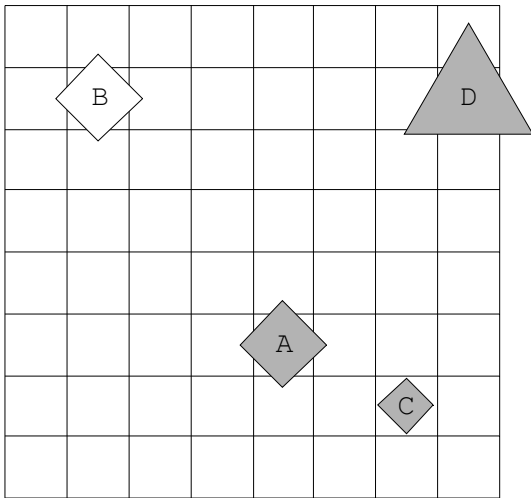
17.



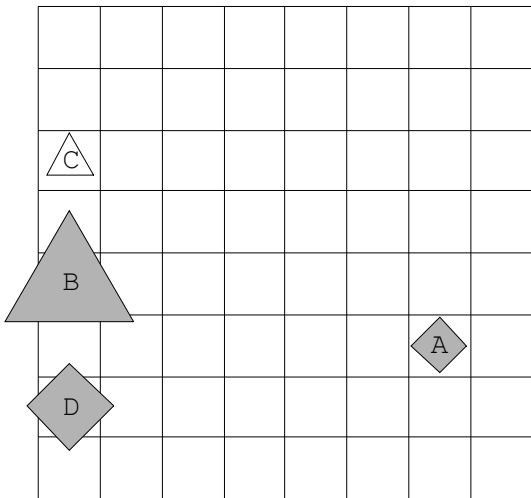
18.



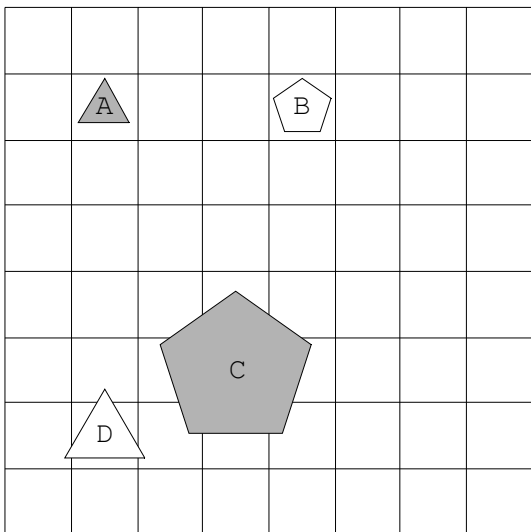
19.



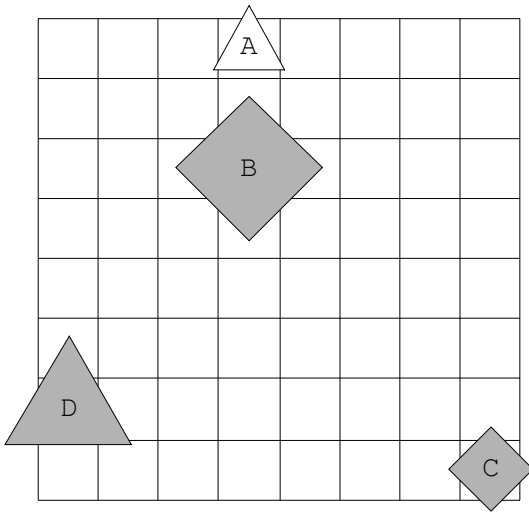
20.



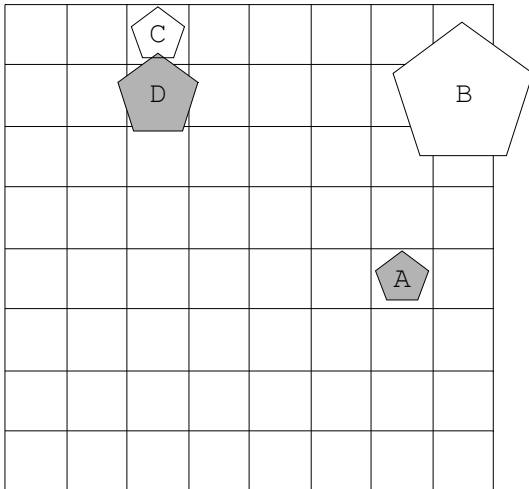
21.



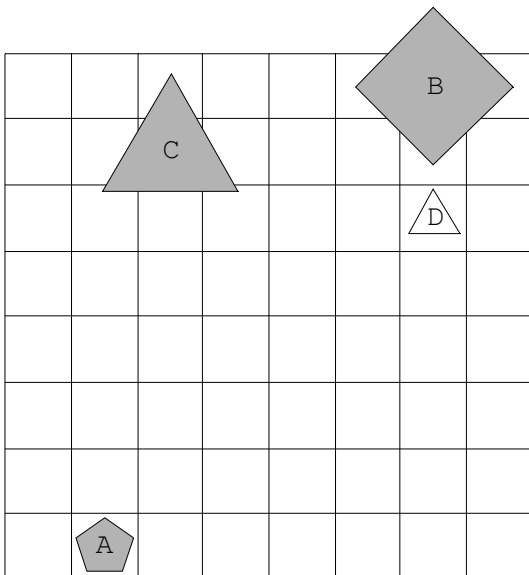
22.



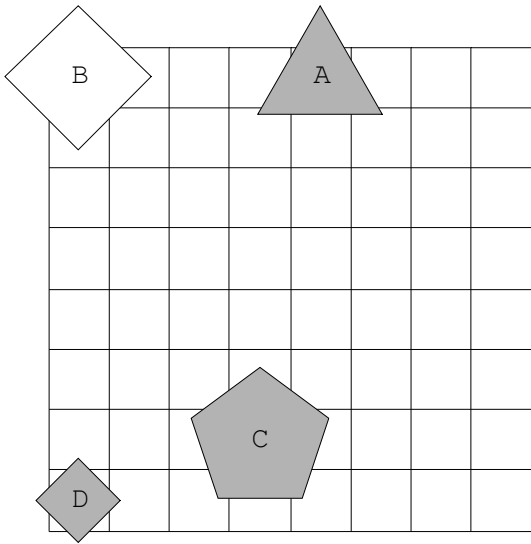
23.



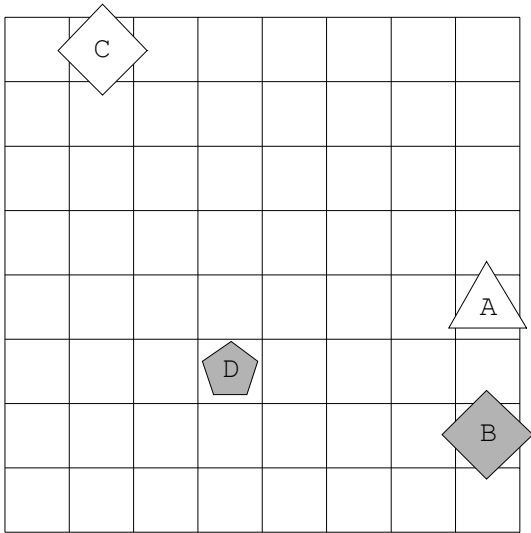
24.



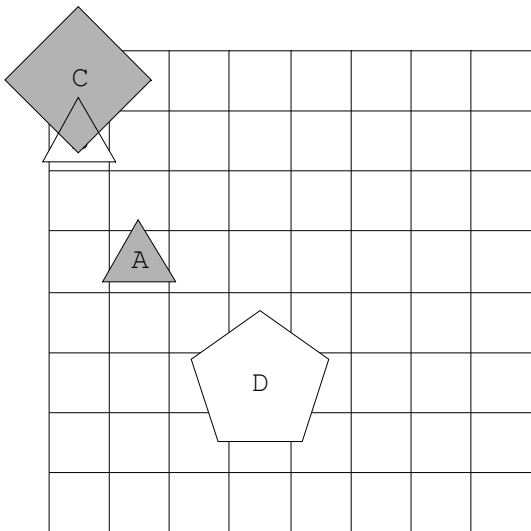
25.



26.

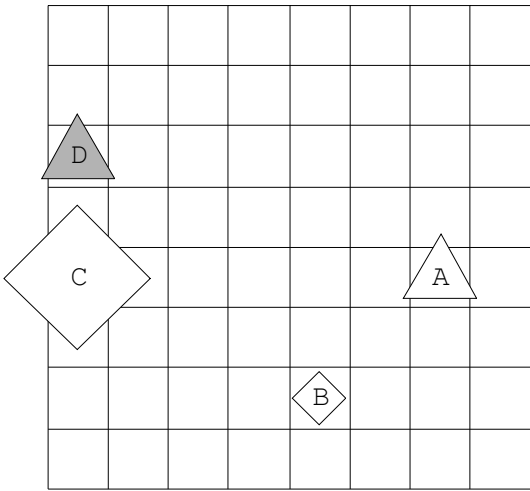


27.

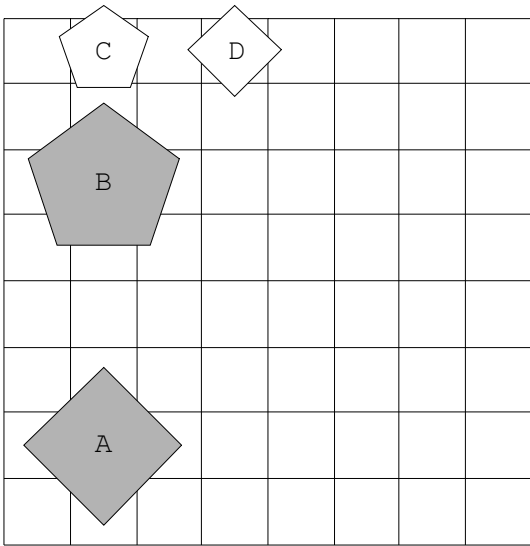




28.



29.



30.

