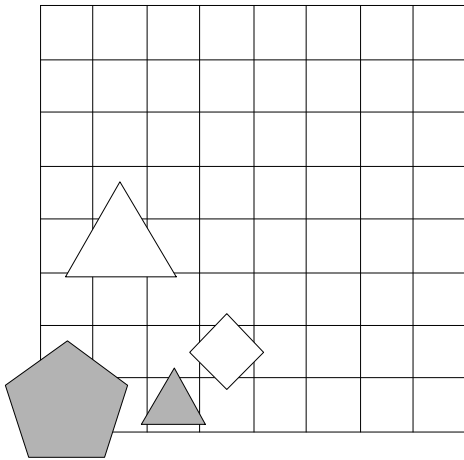


1. Ugotovi imena likov, če poznaš vrednosti stavkov v danem svetu, ki so podane v spodnji tabeli.

1. majhen(B)  $\leftrightarrow$  petkotnik(A)
2. kvadrat(C) & večji kot(B,C)
3. siv(D)  $\vee$  srednje velikosti(C)
4. desno od(A,C)  $\vee$  levo od(B,D)
5. levo od(C,D)  $\rightarrow$  trikotnik(D)

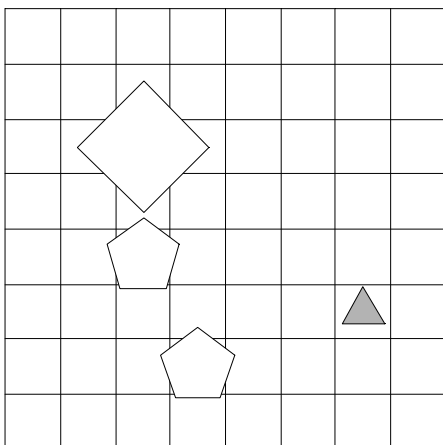
1	2	3	4	5
N	N	R	R	N



2. Ugotovi imena likov, če poznaš vrednosti stavkov v danem svetu, ki so podane v spodnji tabeli.

1. kvadrat(B)  $\rightarrow$  petkotnik(B)
2. majhen(D)  $\leftrightarrow$  nad(B,C)
3. levo od(A,D)  $\vee$  kvadrat(D)
4. nad(A,D)  $\rightarrow$  desno od(B,C)
5. siv(C)  $\leftrightarrow$  desno od(C,D)

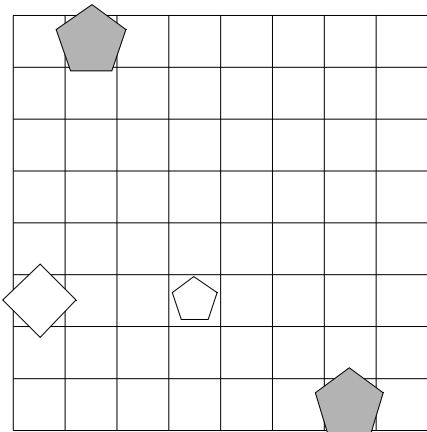
1	2	3	4	5
N	R	R	R	R



3. Ugotovi imena likov, če poznaš vrednosti stavkov v danem svetu, ki so podane v spodnji tabeli.

1. velik(B)  $\rightarrow$  desno od(B,D)
2. večji kot(B,D)  $\leftrightarrow$  kvadrat(D)
3. siv(A) & nad(B,D)
4. desno od(C,D)  $\rightarrow$  levo od(A,D)
5. kvadrat(B)  $\vee$  trikotnik(B)

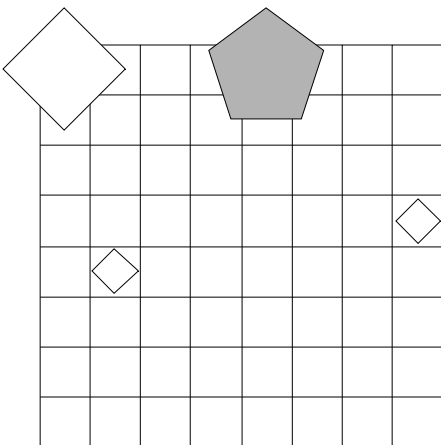
1	2	3	4	5
R	R	N	R	R



4. Ugotovi imena likov, če poznaš vrednosti stavkov v danem svetu, ki so podane v spodnji tabeli.

1. desno od(A,D)  $\vee$  levo od(B,D)
2. manjši kot(A,B)  $\vee$  majhen(A)
3. pod(B,D)  $\rightarrow$  nad(C,D)
4. srednje velikosti(B)  $\vee$  manjši kot(B,C)
5. nad(A,B) & srednje velikosti(C)

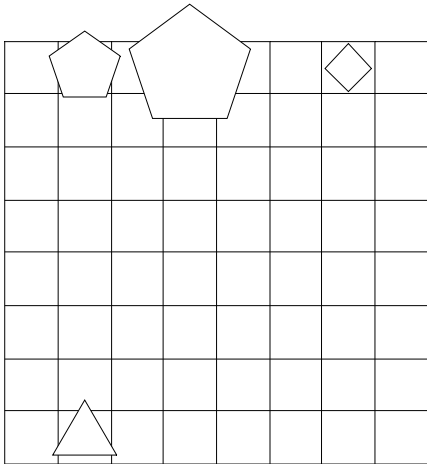
1	2	3	4	5
N	R	N	R	N



5. Ugotovi imena likov, če poznaš vrednosti stavkov v danem svetu, ki so podane v spodnji tabeli.

1. velik(D)  $\vee$  kvadrat(A)
2. manjši kot(A,B) & trikotnik(B)
3. pod(B,D)  $\leftrightarrow$  trikotnik(D)
4. večji kot(B,C)  $\leftrightarrow$  levo od(A,D)
5. bel(D)  $\leftrightarrow$  velik(C)

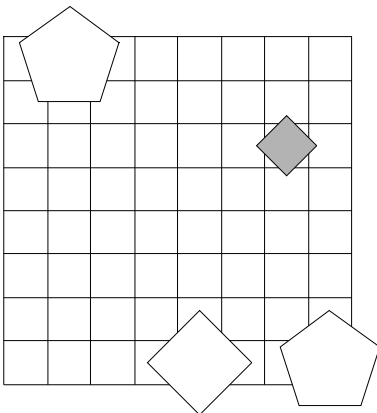
1	2	3	4	5
N	N	N	R	R



6. Ugotovi imena likov, če poznaš vrednosti stavkov v danem svetu, ki so podane v spodnji tabeli.

1. nad(B,C) & siv(B)
2. pod(B,C)  $\vee$  bel(C)
3. petkotnik(B)  $\vee$  bel(B)
4. nad(B,C)  $\rightarrow$  trikotnik(C)
5. levo od(C,D)  $\vee$  siv(D)

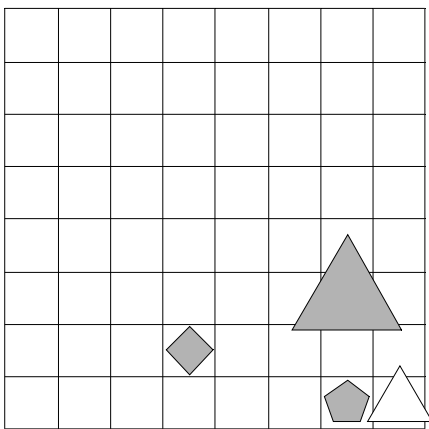
1	2	3	4	5
N	N	N	N	N



7. Ugotovi imena likov, če poznaš vrednosti stavkov v danem svetu, ki so podane v spodnji tabeli.

1. kvadrat(A)  $\vee$  manjši kot(A,B)
2. desno od(B,C)  $\leftrightarrow$  manjši kot(B,C)
3. desno od(B,C)  $\leftrightarrow$  večji kot(C,D)
4. večji kot(B,C)  $\leftrightarrow$  majhen(B)
5. majhen(D)  $\vee$  pod(A,C)

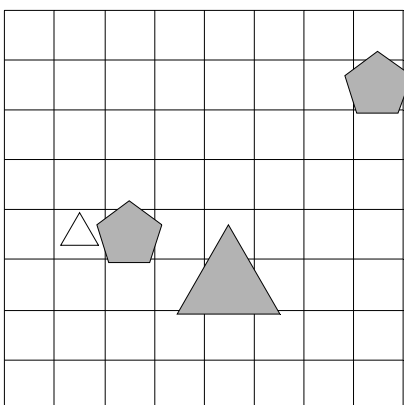
1	2	3	4	5
R	R	N	N	R



8. Ugotovi imena likov, če poznaš vrednosti stavkov v danem svetu, ki so podane v spodnji tabeli.

1. petkotnik(D)  $\rightarrow$  pod(B,D)
2. desno od(B,C)  $\vee$  kvadrat(A)
3. bel(D)  $\leftrightarrow$  srednje velikosti(A)
4. petkotnik(A)  $\vee$  velik(D)
5. siv(C)  $\leftrightarrow$  siv(D)

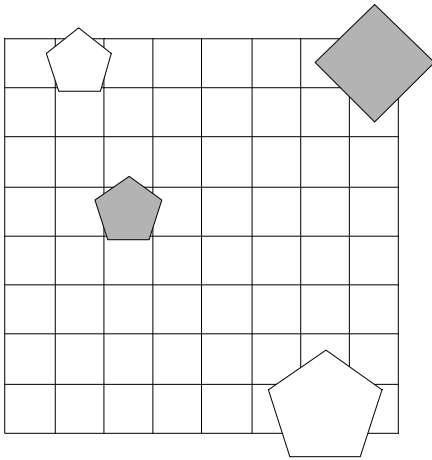
1	2	3	4	5
N	N	R	N	R



9. Ugotovi imena likov, če poznaš vrednosti stavkov v danem svetu, ki so podane v spodnji tabeli.

1. bel(A)  $\vee$  manjši kot(B,C)
2. pod(B,D)  $\rightarrow$  majhen(C)
3. velik(A)  $\rightarrow$  levo od(C,D)
4. manjši kot(B,C)  $\vee$  desno od(C,D)
5. nad(A,C)  $\leftrightarrow$  manjši kot(B,D)

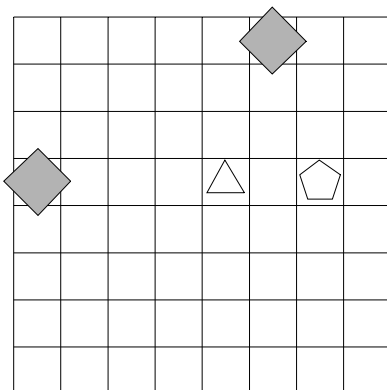
1	2	3	4	5
R	R	N	R	R



10. Ugotovi imena likov, če poznaš vrednosti stavkov v danem svetu, ki so podane v spodnji tabeli.

1. velik(A)  $\rightarrow$  večji kot(A,B)
2. desno od(A,D)  $\vee$  trikotnik(C)
3. nad(A,D) & bel(D)
4. večji kot(B,D)  $\leftrightarrow$  velik(D)
5. majhen(C)  $\leftrightarrow$  manjši kot(A,C)

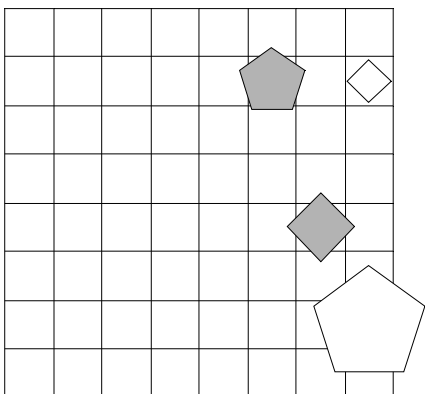
1	2	3	4	5
R	R	R	R	R



11. Ugotovi imena likov, če poznaš vrednosti stavkov v danem svetu, ki so podane v spodnji tabeli.

1. velik(C)  $\vee$  siv(A)
2. petkotnik(A)  $\rightarrow$  pod(A,C)
3. srednje velikosti(C)  $\rightarrow$  kvadrat(A)
4. srednje velikosti(B)  $\vee$  kvadrat(A)
5. majhen(A)  $\vee$  večji kot(A,B)

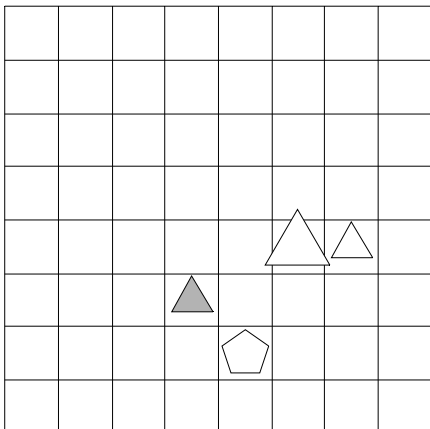
1	2	3	4	5
R	N	N	N	R



12. Ugotovi imena likov, če poznaš vrednosti stavkov v danem svetu, ki so podane v spodnji tabeli.

1. večji kot(A,B) & srednje velikosti(C)
2. petkotnik(A)  $\leftrightarrow$  majhen(A)
3. pod(A,B)  $\vee$  siv(C)
4. siv(A)  $\underline{\vee}$  siv(D)
5. srednje velikosti(B) & večji kot(B,D)

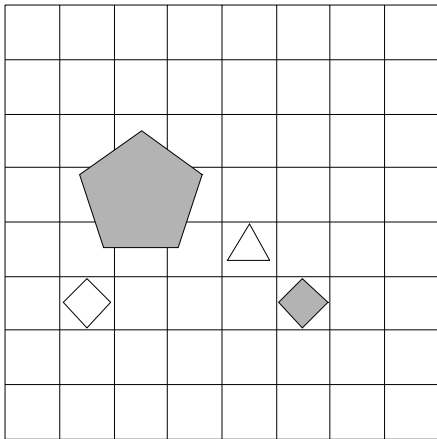
1	2	3	4	5
N	N	R	N	N



13. Ugotovi imena likov, če poznaš vrednosti stavkov v danem svetu, ki so podane v spodnji tabeli.

1. siv(C) V manjši kot(A,C)
2. nad(A,D)  $\rightarrow$  manjši kot(B,D)
3. srednje velikosti(B)  $\leftrightarrow$  siv(B)
4. bel(D) V pod(B,C)
5. pod(B,C) V manjši kot(B,D)

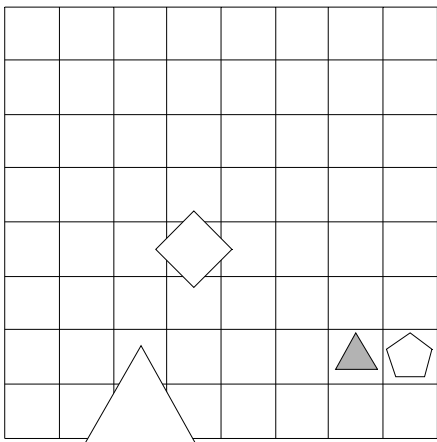
1	2	3	4	5
N	N	N	R	N



14. Ugotovi imena likov, če poznaš vrednosti stavkov v danem svetu, ki so podane v spodnji tabeli.

1. manjši kot(A,D) V nad(A,D)
2. nad(A,B)  $\leftrightarrow$  petkotnik(C)
3. manjši kot(A,C)  $\vee$  večji kot(B,C)
4. desno od(B,C)  $\leftrightarrow$  srednje velikosti(D)
5. trikotnik(A) & majhen(A)

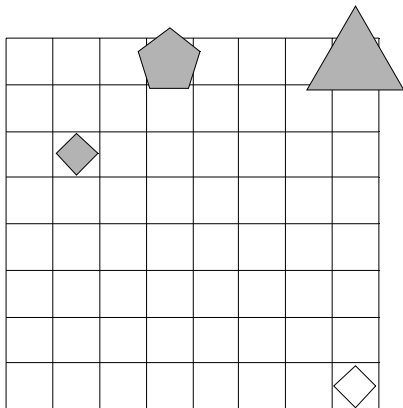
1	2	3	4	5
N	R	R	N	R



15. Ugotovi imena likov, če poznaš vrednosti stavkov v danem svetu, ki so podane v spodnji tabeli.

1. nad(A,B)  $\rightarrow$  desno od(A,C)
2. levo od(C,D)  $\vee$  večji kot(A,B)
3. večji kot(B,C) & manjši kot(B,D)
4. majhen(D)  $\leftrightarrow$  levo od(B,D)
5. srednje velikosti(A) & kvadrat(B)

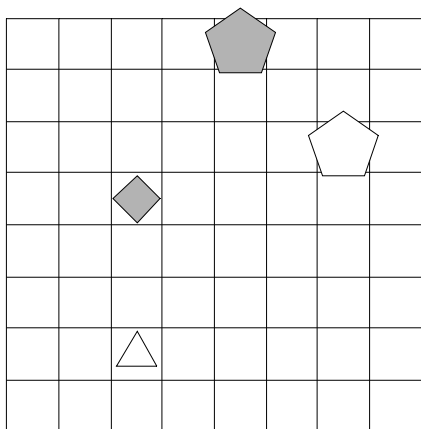
1	2	3	4	5
N	R	N	R	R



16. Ugotovi imena likov, če poznaš vrednosti stavkov v danem svetu, ki so podane v spodnji tabeli.

1. velik(B)  $\leftrightarrow$  trikotnik(A)
2. siv(A)  $\vee$  levo od(C,D)
3. desno od(A,B)  $\vee$  levo od(B,C)
4. desno od(B,C)  $\rightarrow$  večji kot(A,C)
5. manjši kot(B,D)  $\vee$  trikotnik(D)

1	2	3	4	5
R	R	N	R	R

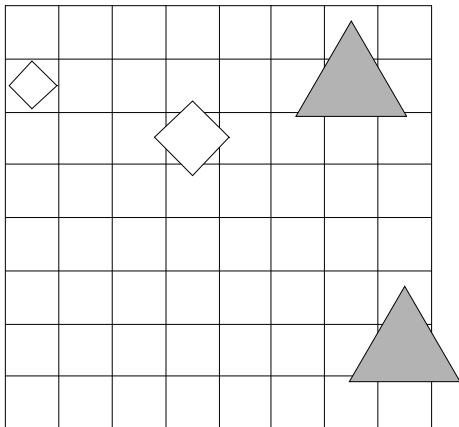




17. Ugotovi imena likov, če poznaš vrednosti stavkov v danem svetu, ki so podane v spodnji tabeli.

1. srednje velikosti(B)  $\rightarrow$  levo od(B,D)
2. manjši kot(B,D)  $\rightarrow$  siv(D)
3. manjši kot(B,D)  $\leftrightarrow$  siv(A)
4. bel(B)  $\vee$  kvadrat(B)
5. nad(B,C)  $\vee$  srednje velikosti(D)

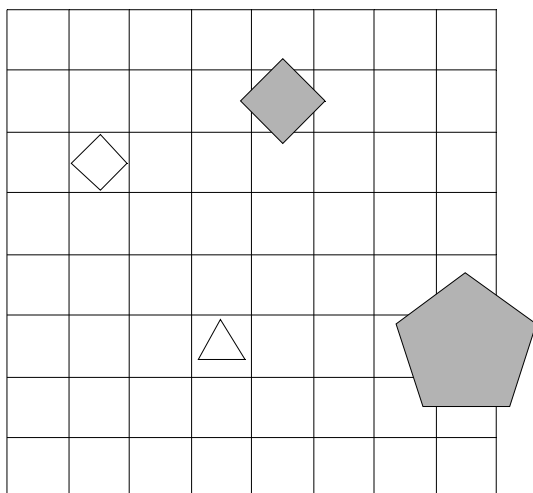
1	2	3	4	5
N	R	N	R	R



18. Ugotovi imena likov, če poznaš vrednosti stavkov v danem svetu, ki so podane v spodnji tabeli.

1. desno od(C,D)  $\rightarrow$  pod(B,D)
2. manjši kot(B,C)  $\rightarrow$  srednje velikosti(A)
3. desno od(A,D)  $\vee$  večji kot(B,D)
4. desno od(A,C)  $\leftrightarrow$  trikotnik(B)
5. petkotnik(A)  $\vee$  pod(C,D)

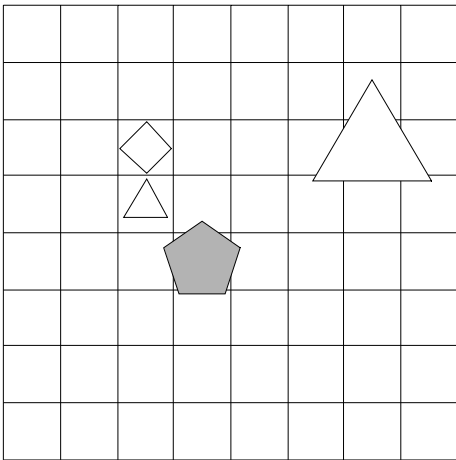
1	2	3	4	5
N	N	N	R	R



19. Ugotovi imena likov, če poznaš vrednosti stavkov v danem svetu, ki so podane v spodnji tabeli.

1. levo od(A,B)  $\leftrightarrow$  velik(B)
2. srednje velikosti(D) & majhen(A)
3. majhen(B)  $\vee$  trikotnik(D)
4. kvadrat(B) & desno od(A,C)
5. desno od(A,D)  $\rightarrow$  nad(B,D)

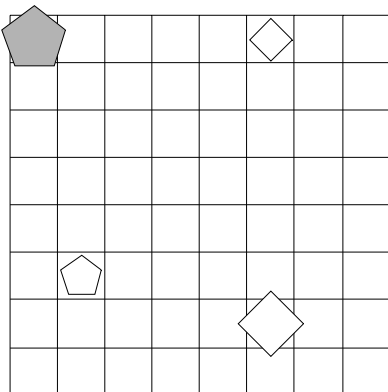
1	2	3	4	5
R	N	R	R	R



20. Ugotovi imena likov, če poznaš vrednosti stavkov v danem svetu, ki so podane v spodnji tabeli.

1. levo od(B,C)  $\vee$  večji kot(B,C)
2. nad(B,D)  $\vee$  bel(A)
3. levo od(A,B) & večji kot(B,C)
4. trikotnik(B)  $\rightarrow$  nad(B,D)
5. levo od(A,C)  $\leftrightarrow$  petkotnik(A)

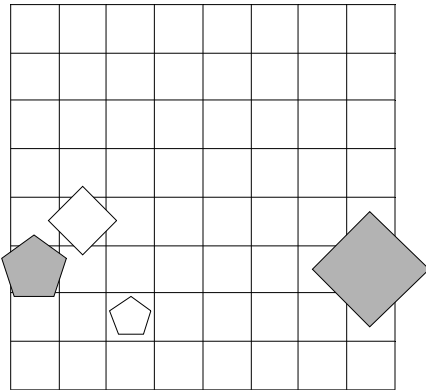
1	2	3	4	5
N	R	N	R	N



21. Ugotovi imena likov, če poznaš vrednosti stavkov v danem svetu, ki so podane v spodnji tabeli.

1. petkotnik(D) & velik(B)
2. velik(A) & večji kot(A,B)
3. majhen(B)  $\rightarrow$  pod(A,C)
4. bel(A)  $\rightarrow$  velik(C)
5. desno od(C,D) & velik(C)

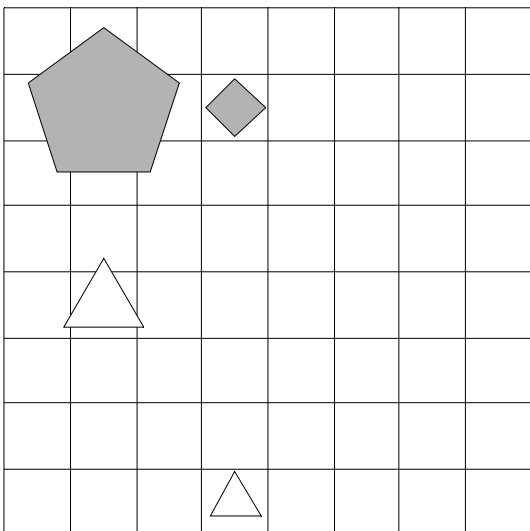
1	2	3	4	5
N	N	N	N	N



22. Ugotovi imena likov, če poznaš vrednosti stavkov v danem svetu, ki so podane v spodnji tabeli.

1. bel(A)  $\rightarrow$  velik(C)
2. srednje velikosti(D)  $\leftrightarrow$  pod(A,B)
3. nad(A,B) & bel(B)
4. srednje velikosti(B)  $\rightarrow$  kvadrat(D)
5. nad(A,C)  $\vee$  manjši kot(B,C)

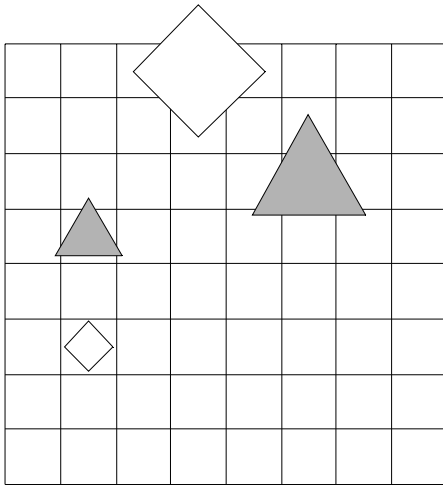
1	2	3	4	5
R	N	R	R	N



23. Ugotovi imena likov, če poznaš vrednosti stavkov v danem svetu, ki so podane v spodnji tabeli.

1. srednje velikosti(C) & levo od(A,B)
2. nad(B,D)  $\vee$  petkotnik(C)
3. levo od(A,B) & manjši kot(A,D)
4. pod(B,C)  $\longleftrightarrow$  srednje velikosti(C)
5. trikotnik(B) & kvadrat(D)

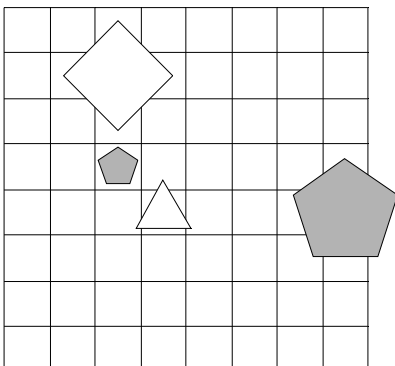
1	2	3	4	5
N	R	N	N	N



24. Ugotovi imena likov, če poznaš vrednosti stavkov v danem svetu, ki so podane v spodnji tabeli.

1. petkotnik(A)  $\rightarrow$  pod(C,D)
2. večji kot(B,C)  $\vee$  večji kot(C,D)
3. levo od(A,B)  $\rightarrow$  bel(C)
4. siv(B)  $\longleftrightarrow$  večji kot(A,D)
5. večji kot(C,D)  $\rightarrow$  večji kot(B,C)

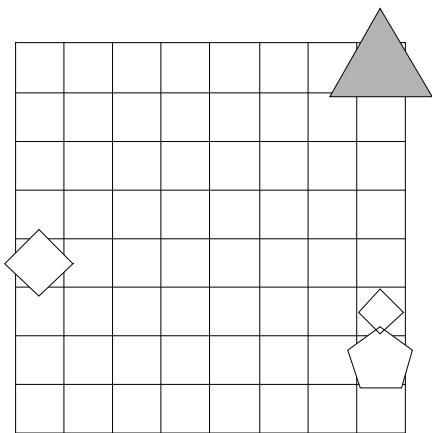
1	2	3	4	5
R	N	N	R	R



25. Ugotovi imena likov, če poznaš vrednosti stavkov v danem svetu, ki so podane v spodnji tabeli.

1. bel(A)  $\vee$  desno od(C,D)
2. kvadrat(C)  $\leftrightarrow$  velik(C)
3. bel(C) & večji kot(A,C)
4. večji kot(A,D)  $\vee$  večji kot(B,C)
5. pod(B,C)  $\leftrightarrow$  desno od(A,D)

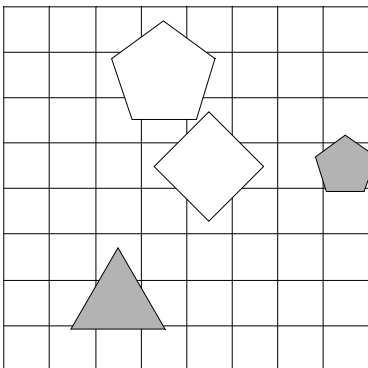
1	2	3	4	5
R	N	N	R	R



26. Ugotovi imena likov, če poznaš vrednosti stavkov v danem svetu, ki so podane v spodnji tabeli.

1. kvadrat(A) & pod(A,B)
2. manjši kot(C,D)  $\vee$  bel(D)
3. nad(A,C)  $\rightarrow$  petkotnik(B)
4. večji kot(B,C)  $\rightarrow$  siv(D)
5. večji kot(C,D)  $\vee$  bel(A)

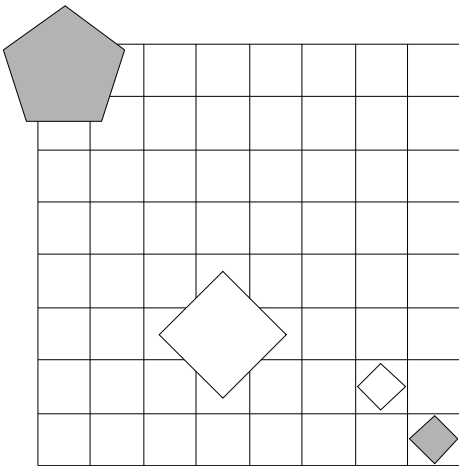
1	2	3	4	5
N	N	N	N	R



27. Ugotovi imena likov, če poznaš vrednosti stavkov v danem svetu, ki so podane v spodnji tabeli.

1. majhen(B) & desno od(B,D)
2. večji kot(B,C)  $\leftrightarrow$  nad(B,C)
3. bel(B)  $\rightarrow$  srednje velikosti(B)
4. pod(A,D)  $\leftrightarrow$  večji kot(B,D)
5. siv(C)  $\vee$  trikotnik(B)

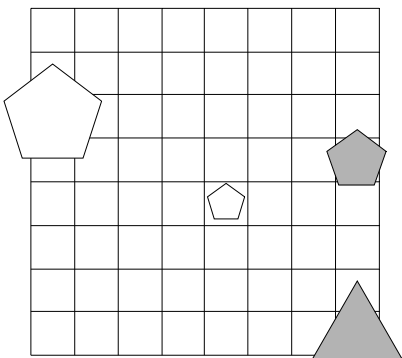
1	2	3	4	5
R	R	N	N	N



28. Ugotovi imena likov, če poznaš vrednosti stavkov v danem svetu, ki so podane v spodnji tabeli.

1. bel(C)  $\vee$  bel(B)
2. pod(A,C)  $\vee$  večji kot(B,D)
3. siv(C)  $\rightarrow$  majhen(C)
4. desno od(A,D)  $\vee$  levo od(A,D)
5. pod(B,C)  $\rightarrow$  manjši kot(A,D)

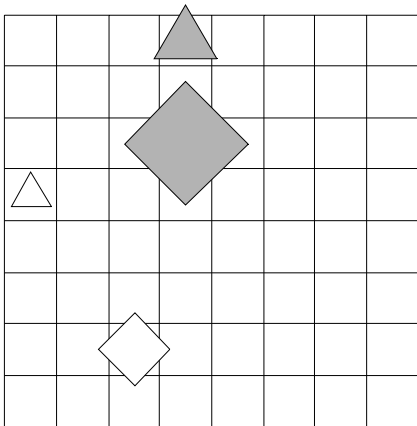
1	2	3	4	5
R	R	N	R	N



29. Ugotovi imena likov, če poznaš vrednosti stavkov v danem svetu, ki so podane v spodnji tabeli.

1. majhen(C)  $\vee$  pod(A,C)
2. majhen(C)  $\rightarrow$  manjši kot(A,B)
3. petkotnik(C)  $\vee$  večji kot(B,C)
4. majhen(C)  $\rightarrow$  majhen(C)
5. srednje velikosti(A)  $\vee$  srednje velikosti(B)

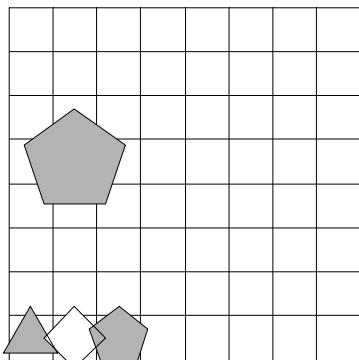
1	2	3	4	5
R	N	R	R	N



30. Ugotovi imena likov, če poznaš vrednosti stavkov v danem svetu, ki so podane v spodnji tabeli.

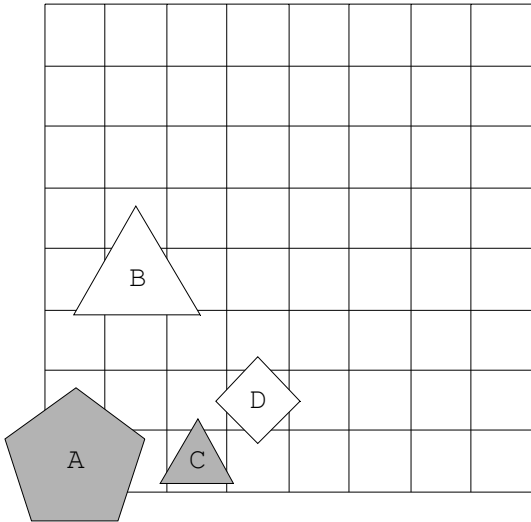
1. nad(A,B)  $\vee$  manjši kot(B,C)
2. pod(B,D)  $\vee$  nad(A,B)
3. nad(A,C)  $\vee$  desno od(A,C)
4. srednje velikosti(A)  $\rightarrow$  bel(B)
5. levo od(C,D)  $\vee$  večji kot(C,D)

1	2	3	4	5
R	R	R	R	R

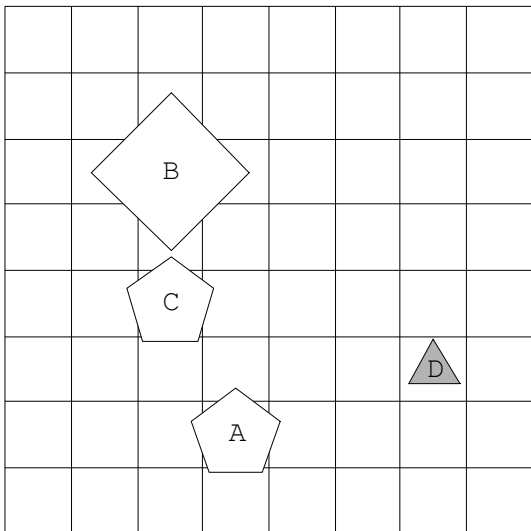


Rešitve

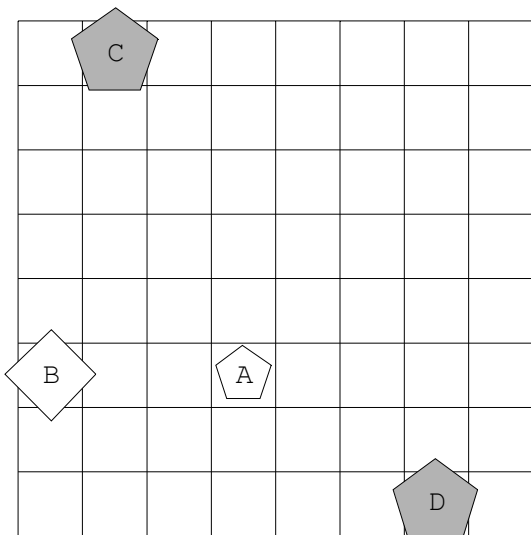
1.



2.

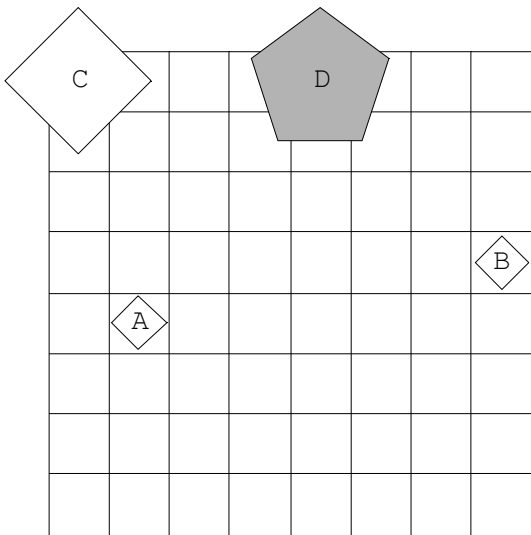


3.

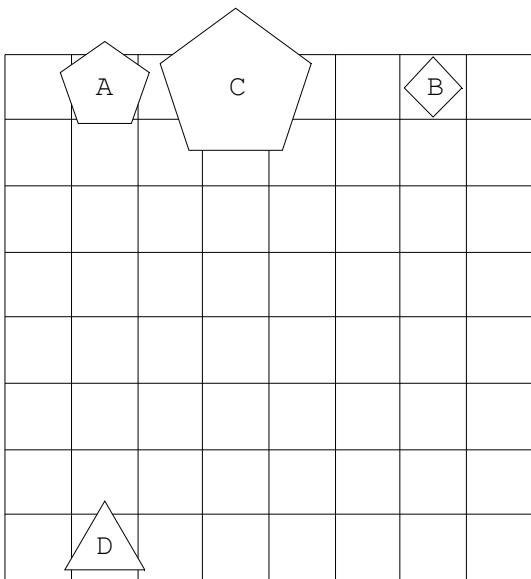




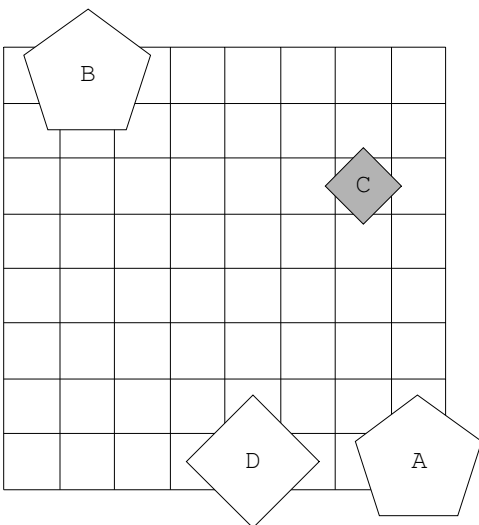
4.



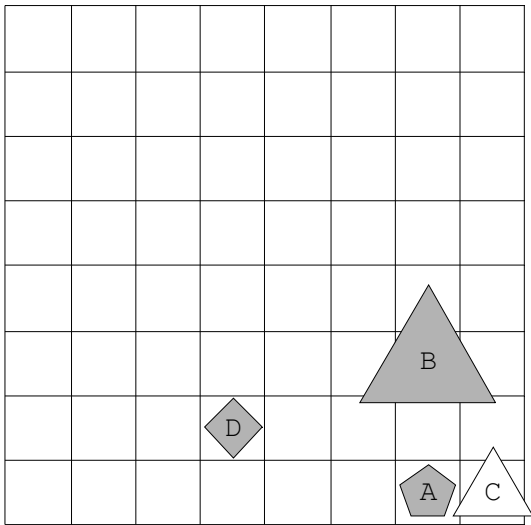
5.



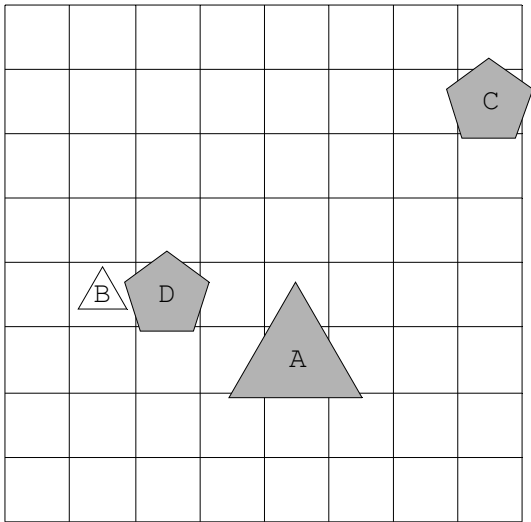
6.



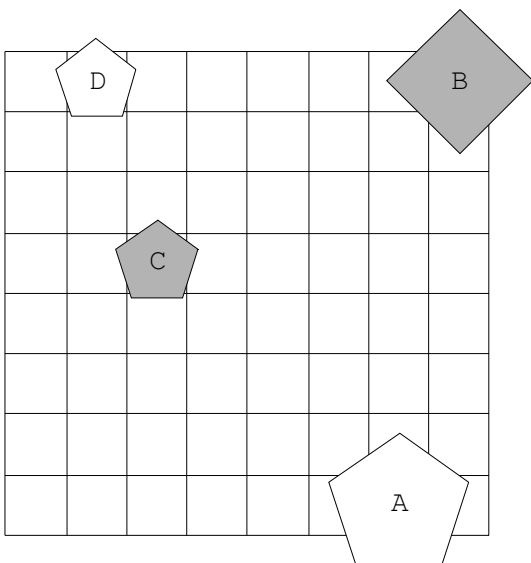
7.



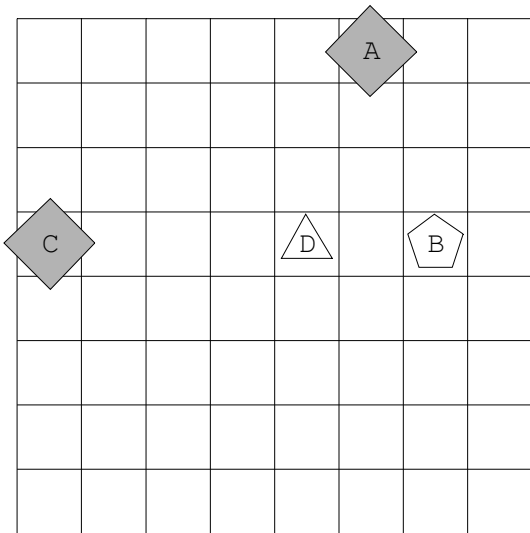
8.



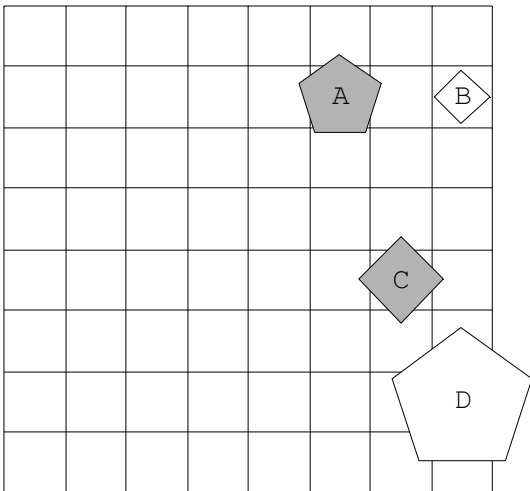
9.



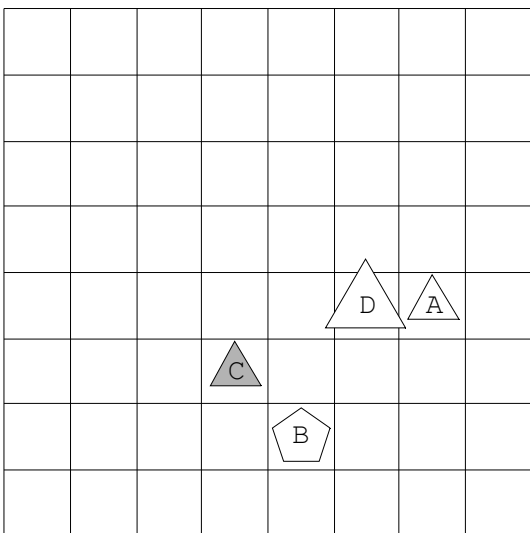
10.



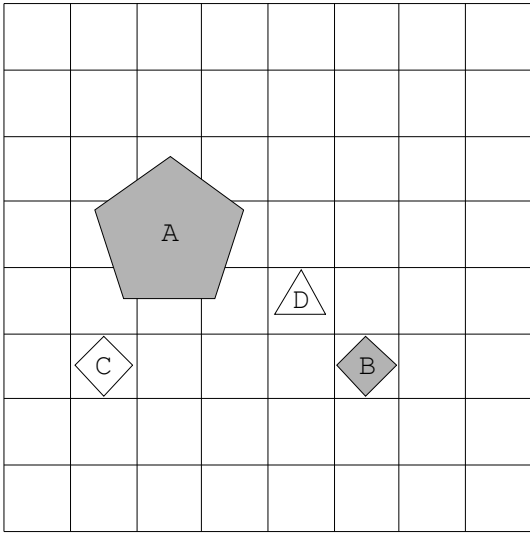
11.



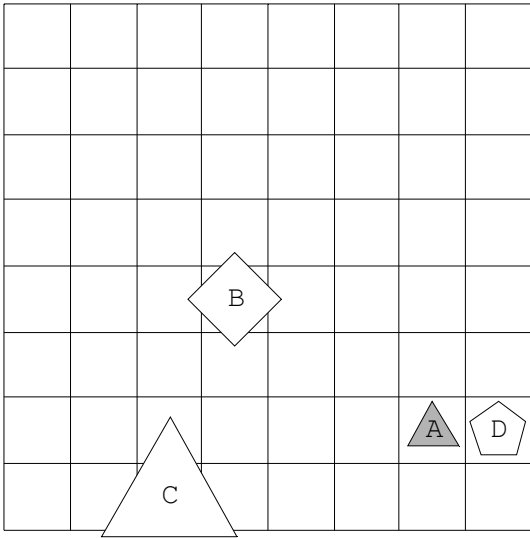
12.



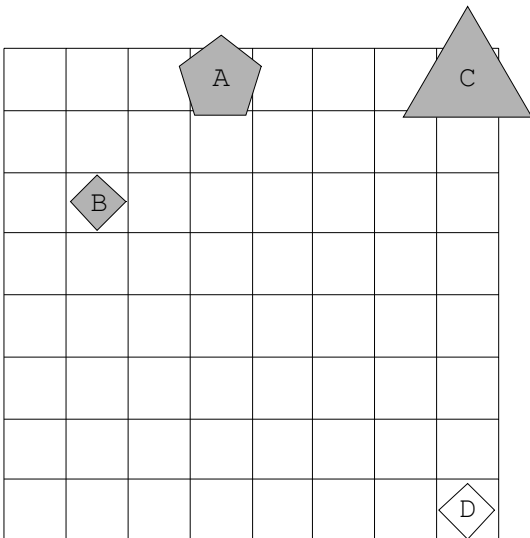
13.



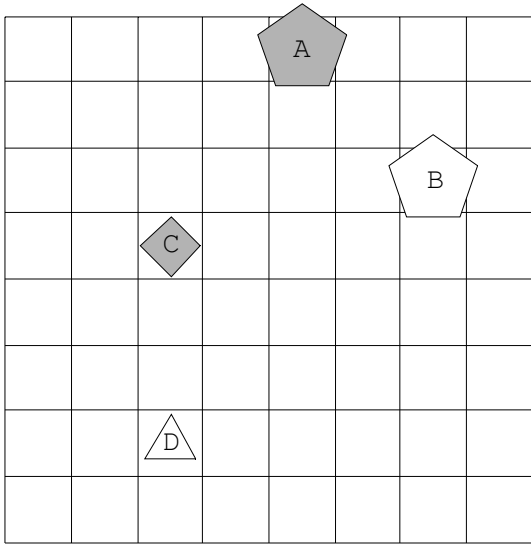
14.



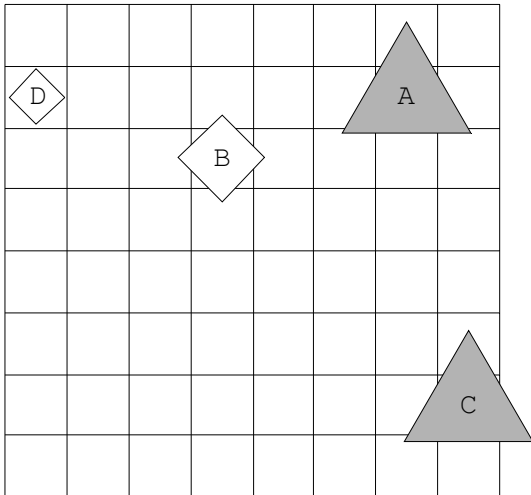
15.



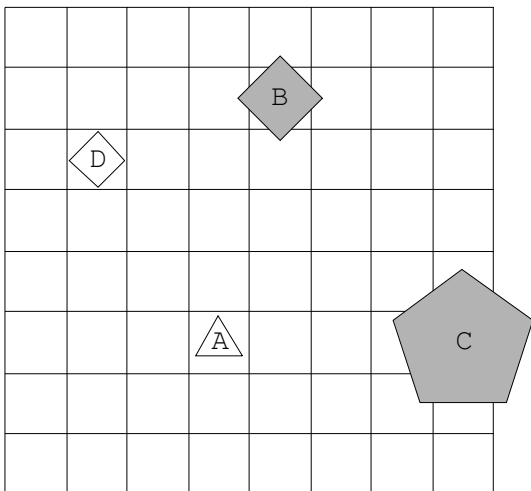
16.



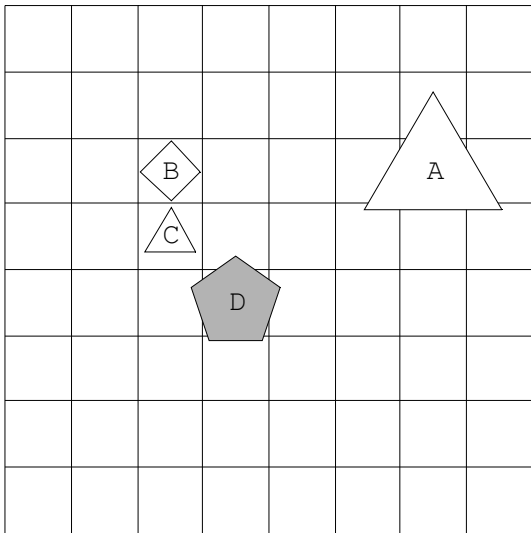
17.



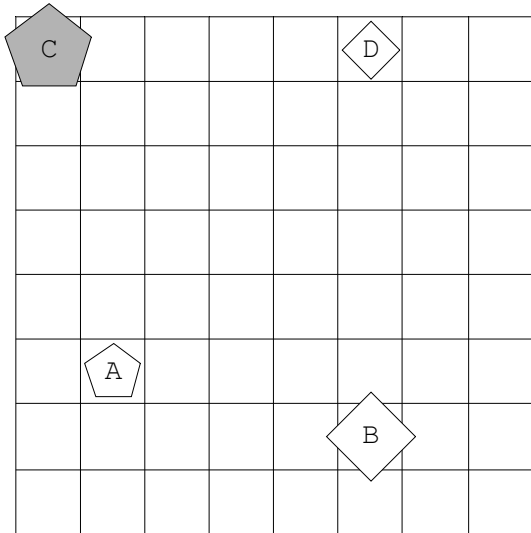
18.



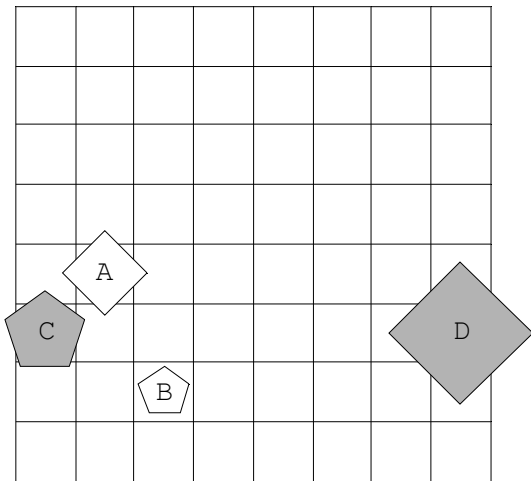
19.



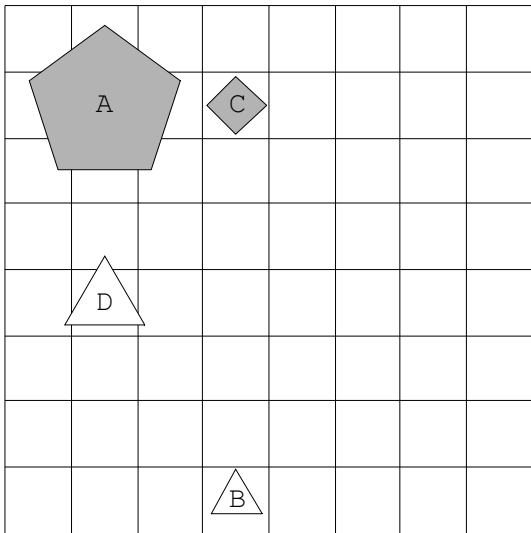
20.



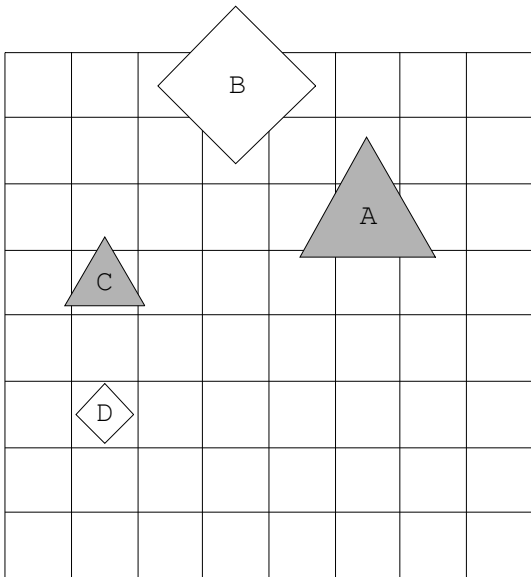
21.



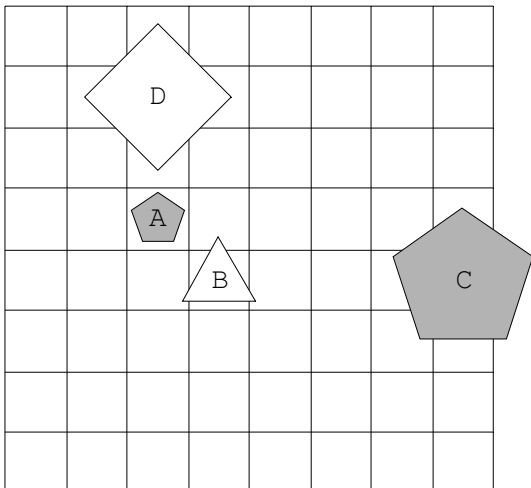
22.



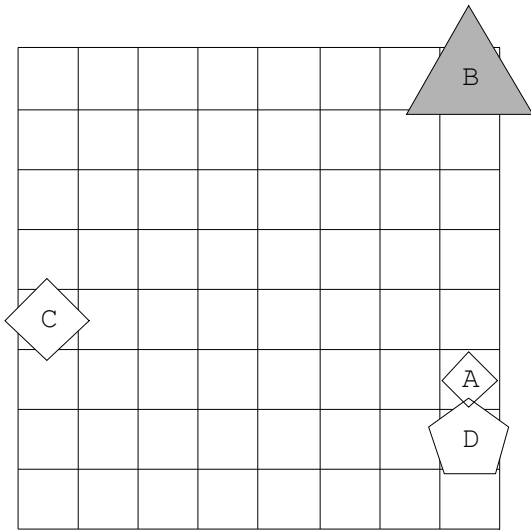
23.



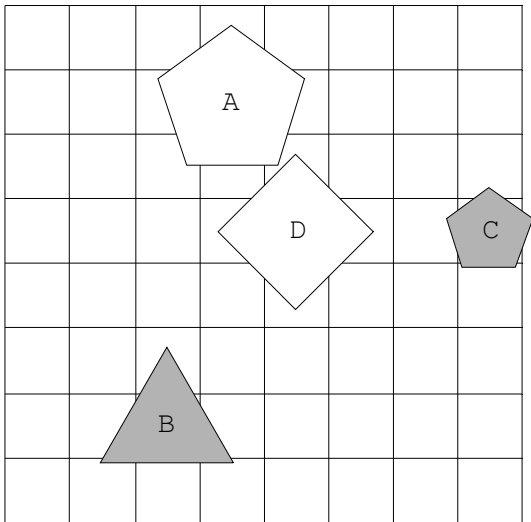
24.



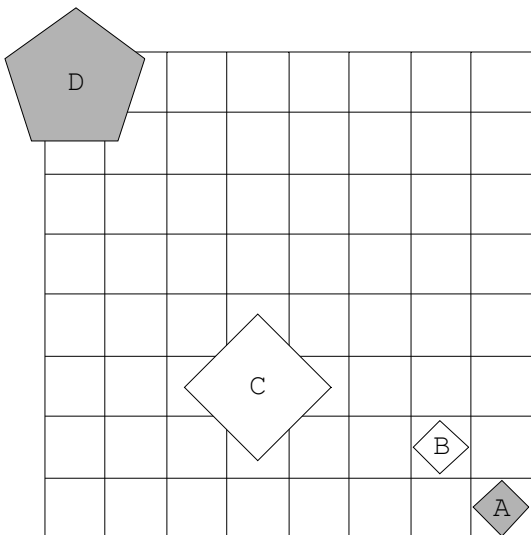
25.



26.

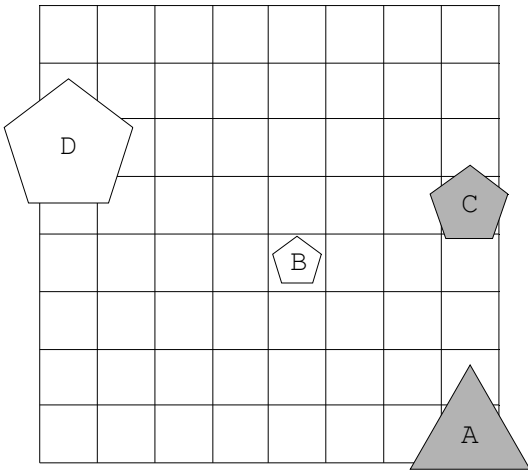


27.

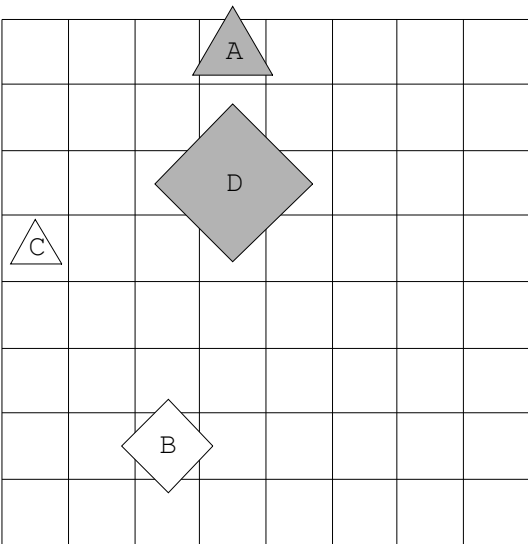




28.



29.



30.

