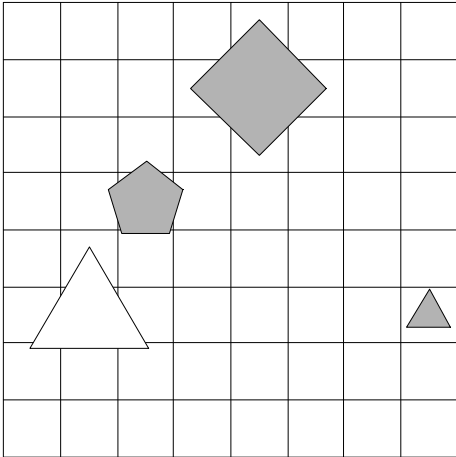


1. Ugotovi imena likov, če poznaš vrednosti stavkov v danem svetu, ki so podane v spodnji tabeli.

1. $\neg \text{kvadrat}(A) \vee \neg \text{trikotnik}(A)$
2. $\text{siv}(D) \vee \neg \text{bel}(D)$
3. $\neg \text{siv}(B) \leftrightarrow \neg \text{majhen}(B)$
4. $\text{velik}(D) \rightarrow \text{majhen}(A)$

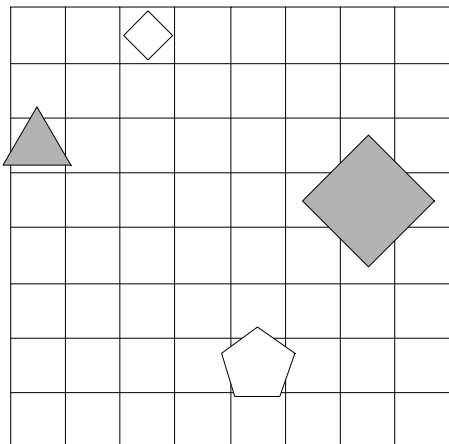
1	2	3	4
R	R	N	N



2. Ugotovi imena likov, če poznaš vrednosti stavkov v danem svetu, ki so podane v spodnji tabeli.

1. $\text{siv}(D) \vee \text{trikotnik}(D)$
2. $\text{trikotnik}(A) \vee \text{trikotnik}(D)$
3. $\text{petkotnik}(C) \rightarrow \text{trikotnik}(A)$
4. $\neg \text{kvadrat}(B) \leftrightarrow \text{kvadrat}(C)$

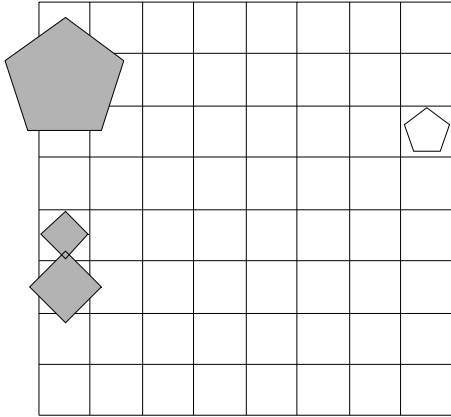
1	2	3	4
N	N	N	N



3. Ugotovi imena likov, če poznaš vrednosti stavkov v danem svetu, ki so podane v spodnji tabeli.

1. velik(B) & majhen(C)
2. $\neg\text{bel}(C) \leftrightarrow \text{srednje velikosti}(B)$
3. $\text{trikotnik}(A) \vee \neg\text{velik}(A)$
4. $\neg\text{siv}(A) \& \neg\text{kvadrat}(D)$

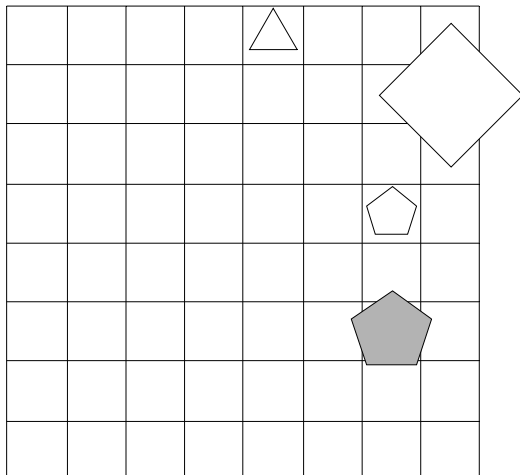
1	2	3	4
N	R	R	R



4. Ugotovi imena likov, če poznaš vrednosti stavkov v danem svetu, ki so podane v spodnji tabeli.

1. $\neg\text{majhen}(B) \leftrightarrow \text{trikotnik}(C)$
2. $\neg\text{srednje velikosti}(B) \vee \text{majhen}(D)$
3. $\neg\text{trikotnik}(C) \vee \neg\text{majhen}(D)$
4. $\text{siv}(C) \vee \neg\text{majhen}(C)$

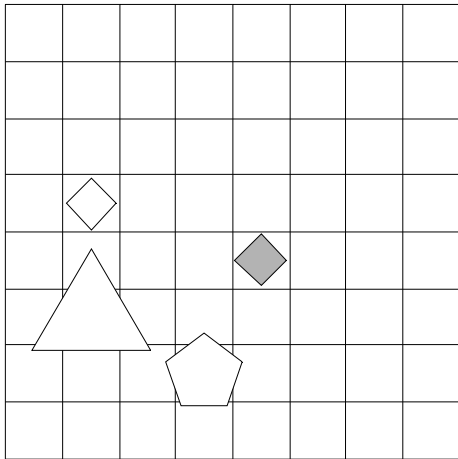
1	2	3	4
N	N	N	N



5. Ugotovi imena likov, če poznaš vrednosti stavkov v danem svetu, ki so podane v spodnji tabeli.

1. $\neg\text{velik}(A) \leftrightarrow \text{trikotnik}(D)$
2. $\neg\text{majhen}(A) \vee \neg\text{srednje velikosti}(C)$
3. $\text{kvadrat}(C) \ \& \ \text{velik}(A)$
4. $\text{bel}(A) \ \& \ \text{kvadrat}(A)$

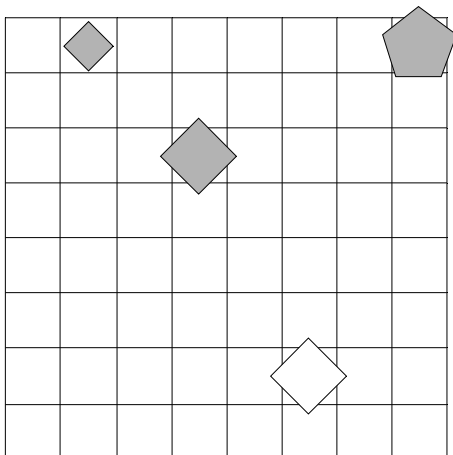
1	2	3	4
N	N	N	R



6. Ugotovi imena likov, če poznaš vrednosti stavkov v danem svetu, ki so podane v spodnji tabeli.

1. $\text{bel}(A) \vee \text{petkotnik}(D)$
2. $\neg\text{trikotnik}(D) \leftrightarrow \text{majhen}(A)$
3. $\text{petkotnik}(A) \vee \neg\text{majhen}(B)$
4. $\neg\text{trikotnik}(D) \rightarrow \neg\text{trikotnik}(B)$

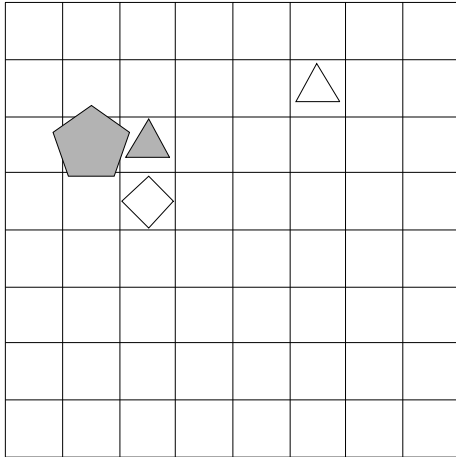
1	2	3	4
N	N	N	R



7. Ugotovi imena likov, če poznaš vrednosti stavkov v danem svetu, ki so podane v spodnji tabeli.

1. srednje velikosti(C) \leftrightarrow siv(D)
2. \neg petkotnik(C) & srednje velikosti(A)
3. siv(D) \vee trikotnik(B)
4. \neg bel(D) \vee srednje velikosti(D)

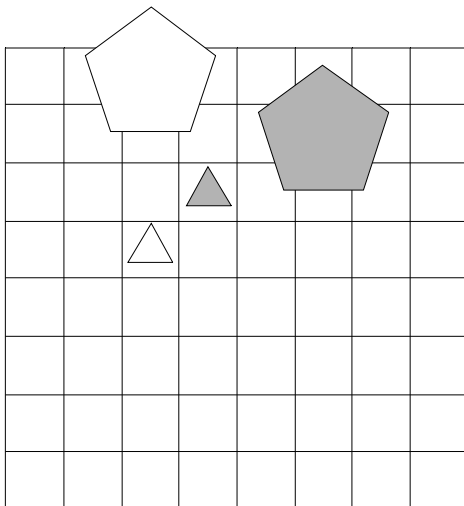
1	2	3	4
N	N	N	N



8. Ugotovi imena likov, če poznaš vrednosti stavkov v danem svetu, ki so podane v spodnji tabeli.

1. petkotnik(A) & \neg bel(B)
2. majhen(D) \rightarrow bel(D)
3. kvadrat(D) \vee majhen(A)
4. \neg bel(A) \vee \neg velik(A)

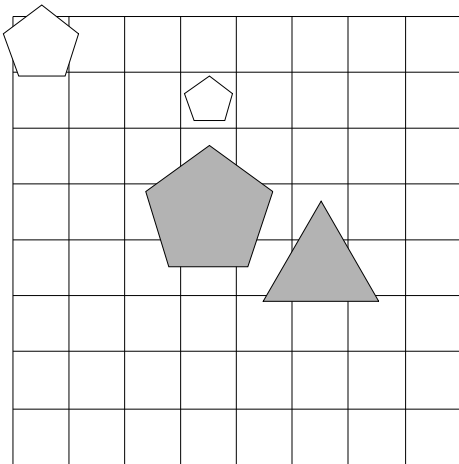
1	2	3	4
N	N	N	N



9. Ugotovi imena likov, če poznaš vrednosti stavkov v danem svetu, ki so podane v spodnji tabeli.

1. $\neg\text{velik}(A) \vee \text{velik}(C)$
2. $\text{velik}(A) \leftrightarrow \neg\text{srednje velikosti}(B)$
3. $\text{majhen}(C) \vee \text{velik}(B)$
4. $\text{majhen}(D) \& \text{trikotnik}(A)$

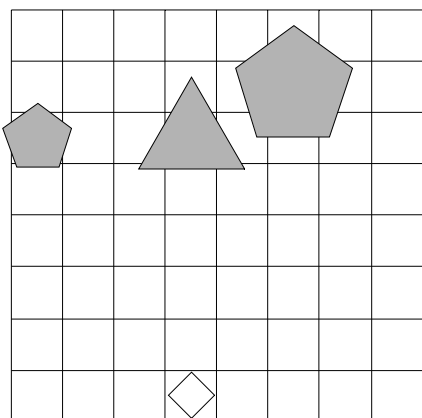
1	2	3	4
N	R	R	N



10. Ugotovi imena likov, če poznaš vrednosti stavkov v danem svetu, ki so podane v spodnji tabeli.

1. $\neg\text{bel}(C) \vee \neg\text{velik}(C)$
2. $\neg\text{srednje velikosti}(A) \vee \neg\text{velik}(D)$
3. $\neg\text{siv}(D) \vee \neg\text{srednje velikosti}(C)$
4. $\neg\text{petkotnik}(C) \vee \neg\text{trikotnik}(A)$

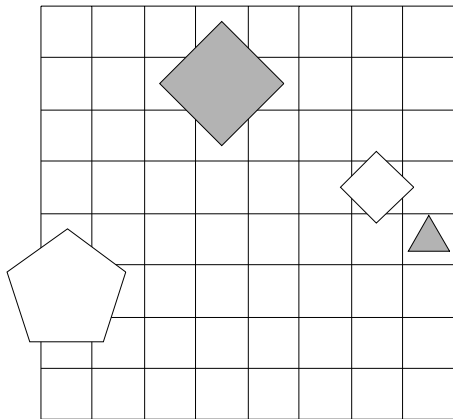
1	2	3	4
N	N	R	N



11. Ugotovi imena likov, če poznaš vrednosti stavkov v danem svetu, ki so podane v spodnji tabeli.

1. \neg majhen(C) & srednje velikosti(A)
2. \neg kvadrat(B) \leftrightarrow \neg velik(A)
3. kvadrat(A) \rightarrow \neg srednje velikosti(D)
4. \neg kvadrat(A) \vee velik(C)

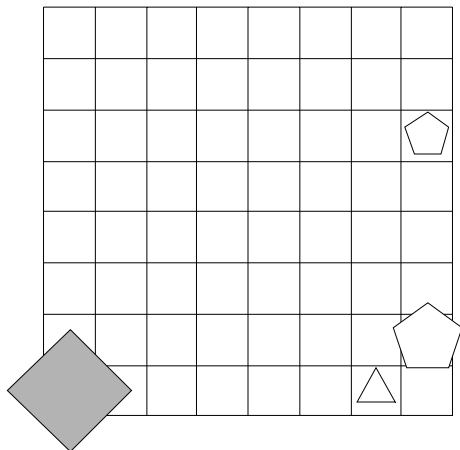
1	2	3	4
N	N	N	R



12. Ugotovi imena likov, če poznaš vrednosti stavkov v danem svetu, ki so podane v spodnji tabeli.

1. majhen(B) \vee srednje velikosti(C)
2. majhen(D) \vee trikotnik(A)
3. \neg majhen(C) \rightarrow \neg srednje velikosti(B)
4. \neg trikotnik(A) & \neg kvadrat(D)

1	2	3	4
R	R	R	N



13. Ugotovi imena likov, če poznaš vrednosti stavkov v danem svetu, ki so podane v spodnji tabeli.

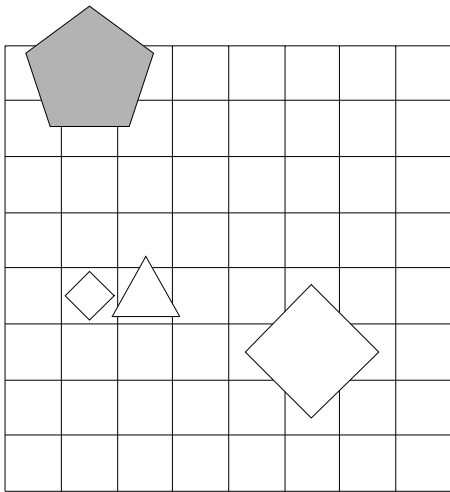
1. $\neg\text{velik}(A) \leftrightarrow \text{srednje velikosti}(B)$

2. $\text{majhen}(C) \vee \text{srednje velikosti}(B)$

3. $\neg\text{bel}(C) \vee \neg\text{petkotnik}(A)$

4. $\text{trikotnik}(C) \leftrightarrow \neg\text{siv}(B)$

1	2	3	4
N	R	R	N



14. Ugotovi imena likov, če poznaš vrednosti stavkov v danem svetu, ki so podane v spodnji tabeli.

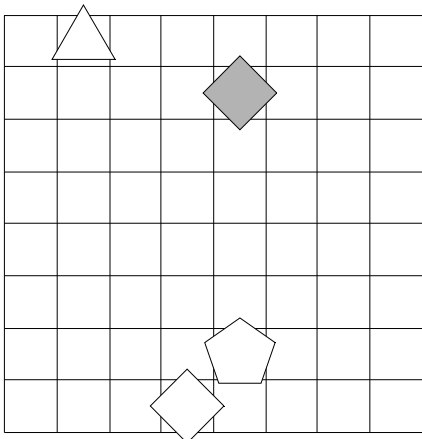
1. $\neg\text{siv}(D) \leftrightarrow \text{trikotnik}(C)$

2. $\text{trikotnik}(D) \vee \text{bel}(D)$

3. $\neg\text{petkotnik}(A) \leftrightarrow \text{siv}(D)$

4. $\text{siv}(D) \vee \text{siv}(C)$

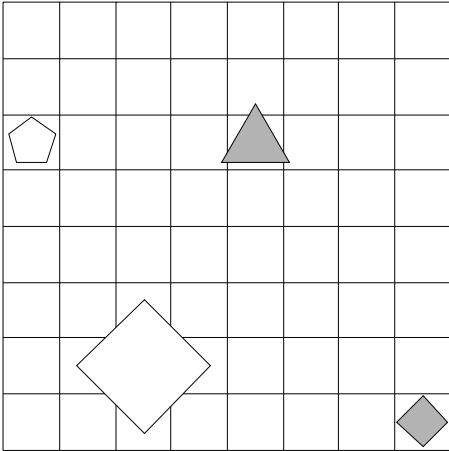
1	2	3	4
N	N	R	R



15. Ugotovi imena likov, če poznaš vrednosti stavkov v danem svetu, ki so podane v spodnji tabeli.

1. $\text{siv}(B) \ \& \ \neg\text{srednje velikosti}(B)$
2. $\neg\text{kvadrat}(A) \ \vee \ \text{siv}(A)$
3. $\text{kvadrat}(A) \ \vee \ \neg\text{petkotnik}(C)$
4. $\neg\text{trikotnik}(B) \ \& \ \neg\text{srednje velikosti}(C)$

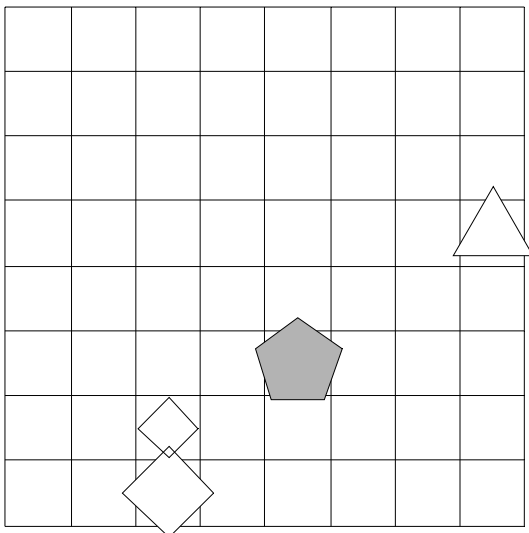
1	2	3	4
N	N	R	R



16. Ugotovi imena likov, če poznaš vrednosti stavkov v danem svetu, ki so podane v spodnji tabeli.

1. $\text{petkotnik}(A) \ \& \ \text{petkotnik}(A)$
2. $\neg\text{trikotnik}(B) \ \vee \ \neg\text{majhen}(A)$
3. $\neg\text{majhen}(A) \ \vee \ \neg\text{bel}(B)$
4. $\neg\text{petkotnik}(A) \ \rightarrow \ \text{kvadrat}(C)$

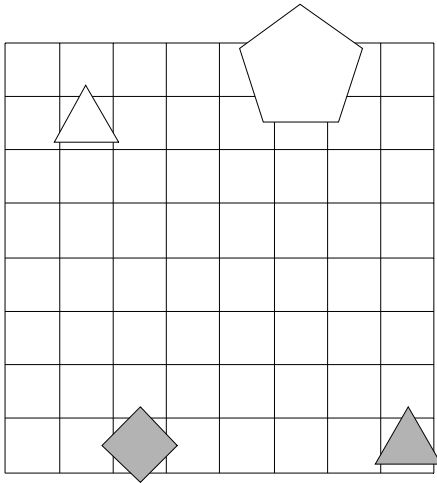
1	2	3	4
N	N	N	N



17. Ugotovi imena likov, če poznaš vrednosti stavkov v danem svetu, ki so podane v spodnji tabeli.

1. velik(A) \vee trikotnik(A)
2. \neg petkotnik(A) $\&$ \neg petkotnik(A)
3. \neg siv(B) \longleftrightarrow siv(C)
4. srednje velikosti(D) \vee \neg srednje velikosti(C)

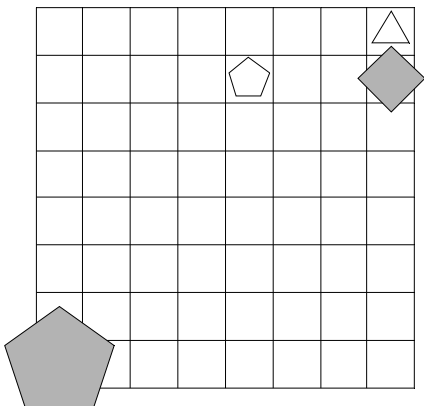
1	2	3	4
N	R	R	R



18. Ugotovi imena likov, če poznaš vrednosti stavkov v danem svetu, ki so podane v spodnji tabeli.

1. siv(B) \vee petkotnik(C)
2. bel(B) \vee \neg trikotnik(B)
3. trikotnik(B) \rightarrow \neg bel(D)
4. petkotnik(A) \longleftrightarrow \neg siv(B)

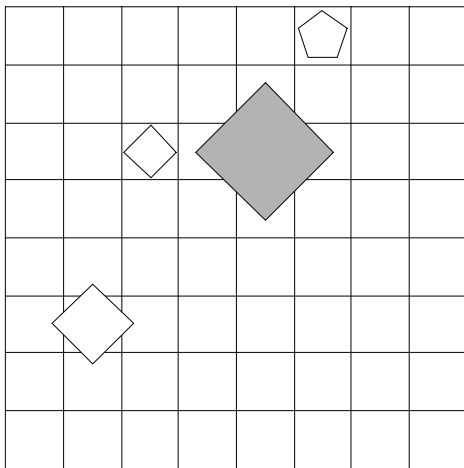
1	2	3	4
N	R	N	R



19. Ugotovi imena likov, če poznaš vrednosti stavkov v danem svetu, ki so podane v spodnji tabeli.

1. $\text{bel}(B) \leftrightarrow \neg\text{kvadrat}(A)$
2. $\neg\text{srednje velikosti}(D) \vee \text{srednje velikosti}(B)$
3. $\text{majhen}(D) \vee \neg\text{srednje velikosti}(D)$
4. $\text{siv}(C) \vee \neg\text{siv}(B)$

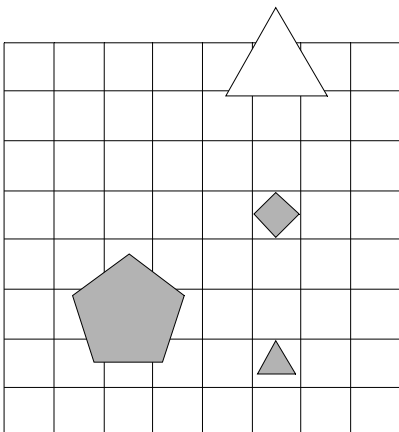
1	2	3	4
N	N	R	R



20. Ugotovi imena likov, če poznaš vrednosti stavkov v danem svetu, ki so podane v spodnji tabeli.

1. $\neg\text{majhen}(D) \rightarrow \neg\text{petkotnik}(A)$
2. $\text{srednje velikosti}(A) \rightarrow \neg\text{kvadrat}(A)$
3. $\neg\text{srednje velikosti}(A) \& \neg\text{bel}(A)$
4. $\text{trikotnik}(D) \& \text{velik}(C)$

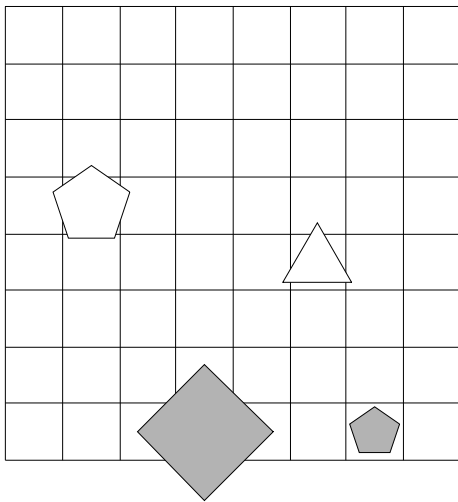
1	2	3	4
R	R	N	R



21. Ugotovi imena likov, če poznaš vrednosti stavkov v danem svetu, ki so podane v spodnji tabeli.

1. $\neg\text{velik}(C) \vee \neg\text{velik}(D)$
2. $\neg\text{petkotnik}(D) \vee \neg\text{bel}(C)$
3. $\text{trikotnik}(A) \vee \neg\text{petkotnik}(D)$
4. $\text{majhen}(B) \vee \neg\text{bel}(D)$

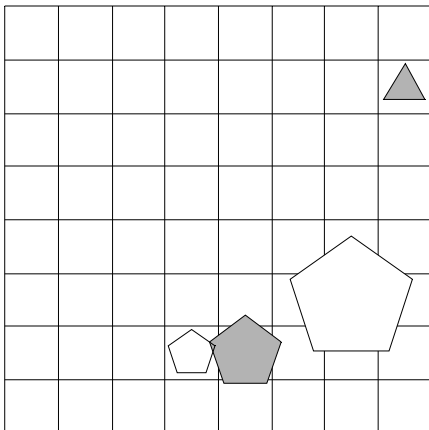
1	2	3	4
N	N	N	N



22. Ugotovi imena likov, če poznaš vrednosti stavkov v danem svetu, ki so podane v spodnji tabeli.

1. $\neg\text{majhen}(B) \leftrightarrow \neg\text{majhen}(C)$
2. $\text{trikotnik}(B) \leftrightarrow \neg\text{petkotnik}(A)$
3. $\text{kvadrat}(C) \vee \text{srednje velikosti}(B)$
4. $\neg\text{velik}(A) \vee \text{trikotnik}(D)$

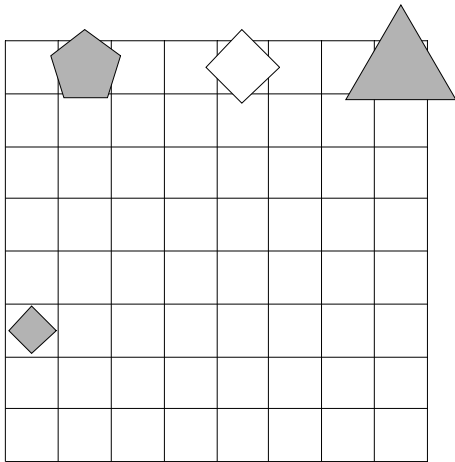
1	2	3	4
R	R	N	N



23. Ugotovi imena likov, če poznaš vrednosti stavkov v danem svetu, ki so podane v spodnji tabeli.

1. majhen(A) \vee \neg siv(C)
2. \neg kvadrat(D) \leftrightarrow srednje velikosti(D)
3. petkotnik(C) \leftrightarrow \neg bel(C)
4. velik(C) \leftrightarrow \neg majhen(B)

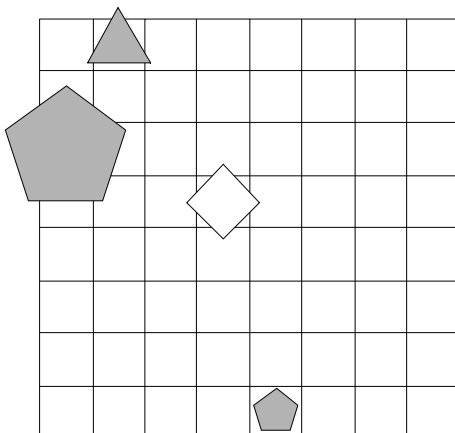
1	2	3	4
R	N	R	R



24. Ugotovi imena likov, če poznaš vrednosti stavkov v danem svetu, ki so podane v spodnji tabeli.

1. \neg srednje velikosti(C) \rightarrow \neg kvadrat(C)
2. majhen(A) \vee \neg trikotnik(D)
3. siv(D) \rightarrow kvadrat(D)
4. petkotnik(B) \leftrightarrow \neg kvadrat(B)

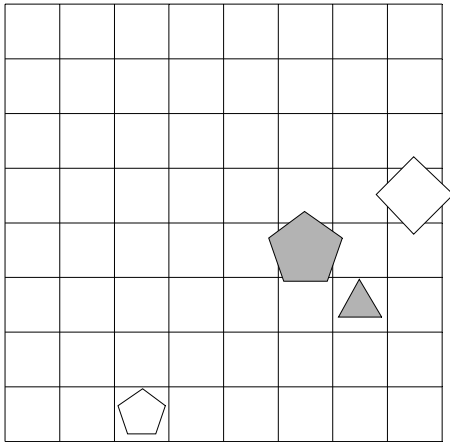
1	2	3	4
R	N	R	R



25. Ugotovi imena likov, če poznaš vrednosti stavkov v danem svetu, ki so podane v spodnji tabeli.

1. $\neg\text{trikotnik}(C) \ \& \ \neg\text{siv}(B)$
2. $\text{velik}(D) \rightarrow \neg\text{siv}(D)$
3. $\neg\text{kvadrat}(C) \ \& \ \text{siv}(A)$
4. $\text{bel}(B) \ \& \ \text{srednje velikosti}(D)$

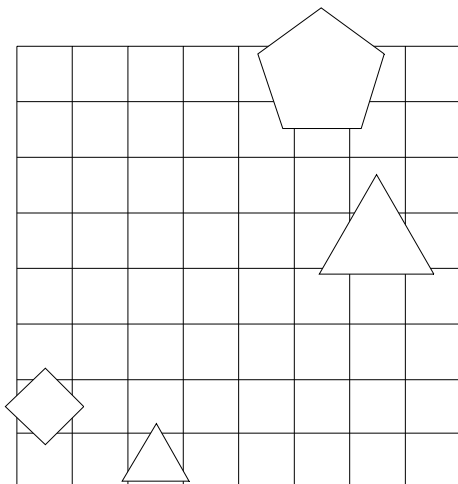
1	2	3	4
R	R	N	R



26. Ugotovi imena likov, če poznaš vrednosti stavkov v danem svetu, ki so podane v spodnji tabeli.

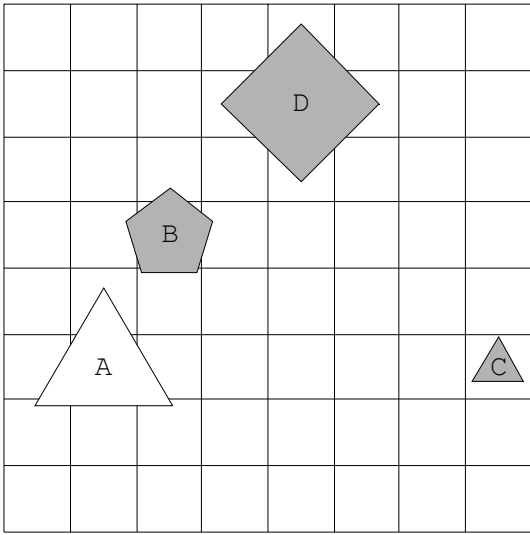
1. $\text{kvadrat}(C) \leftrightarrow \text{siv}(D)$
2. $\neg\text{trikotnik}(A) \ \vee \ \neg\text{petkotnik}(D)$
3. $\text{siv}(B) \leftrightarrow \neg\text{kvadrat}(B)$
4. $\neg\text{velik}(D) \leftrightarrow \text{kvadrat}(D)$

1	2	3	4
N	R	N	N

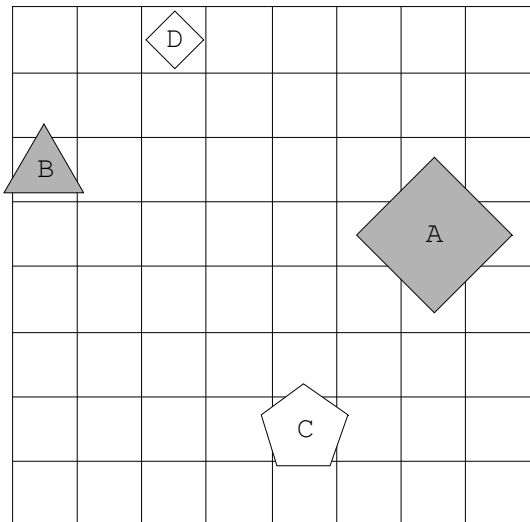


Rešitve

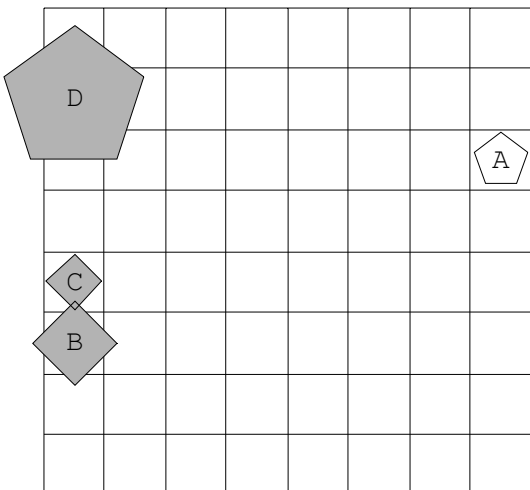
1.



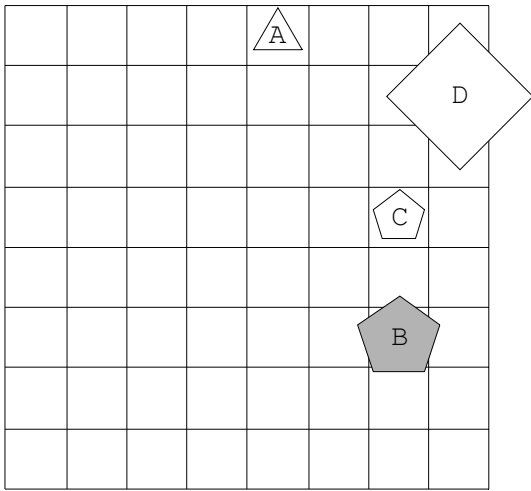
2.



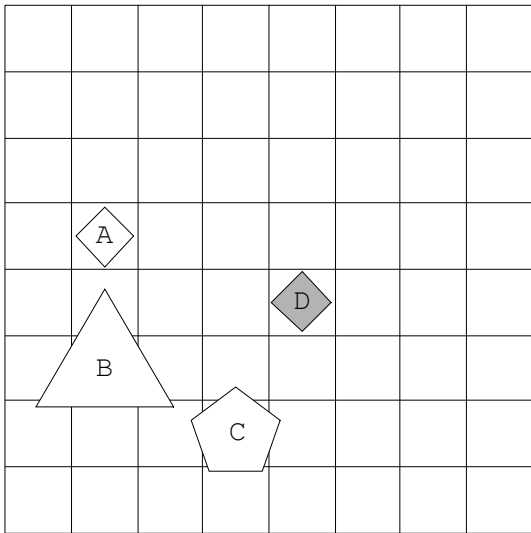
3.



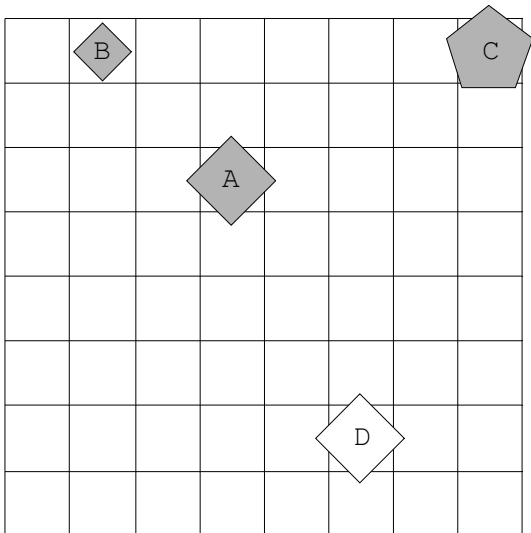
4.



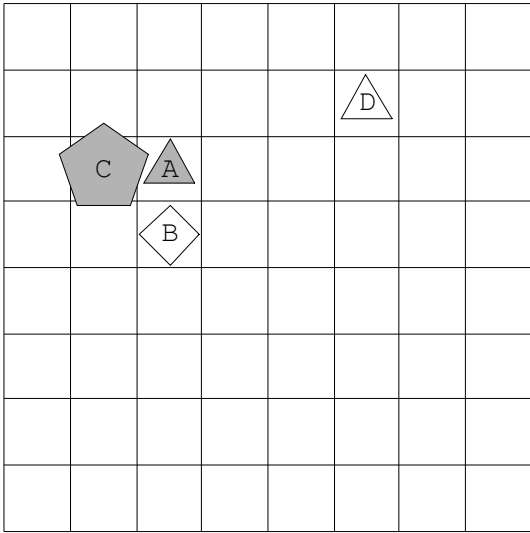
5.



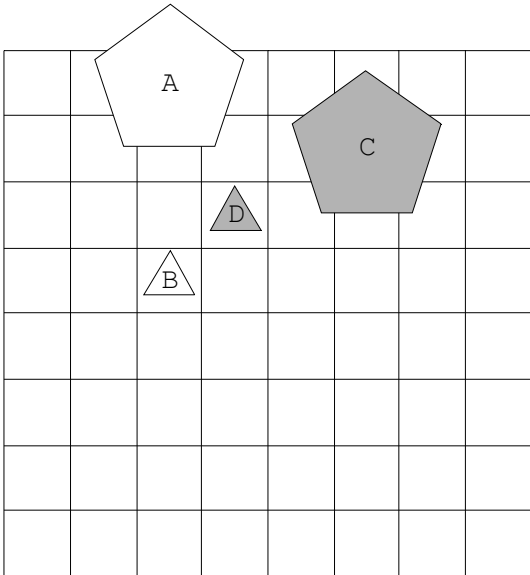
6.



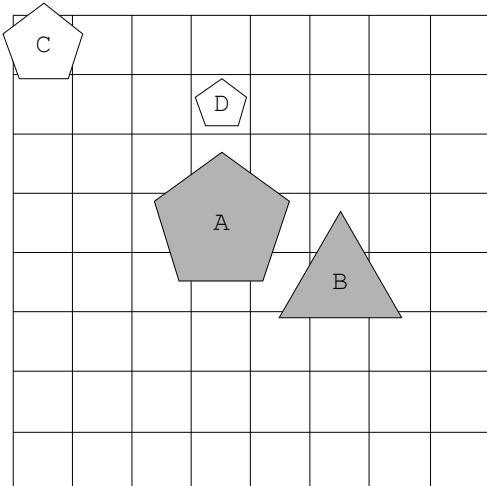
7.



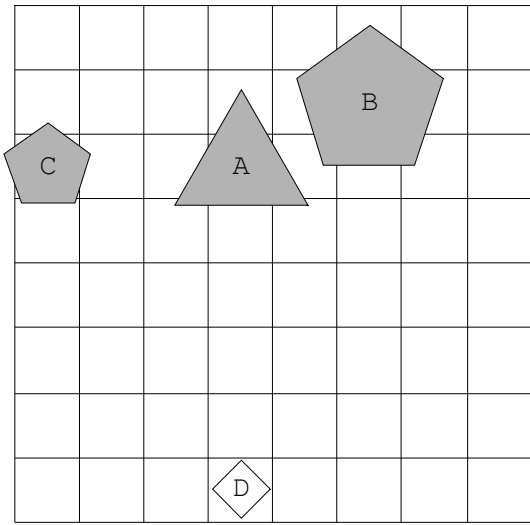
8.



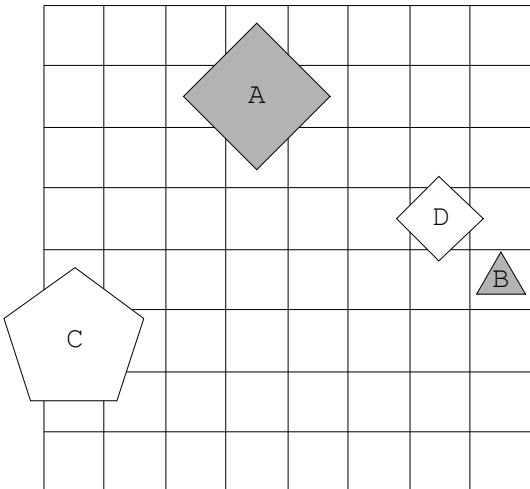
9.



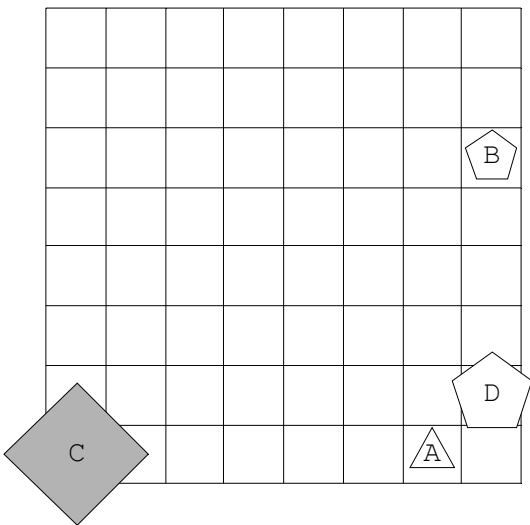
10.



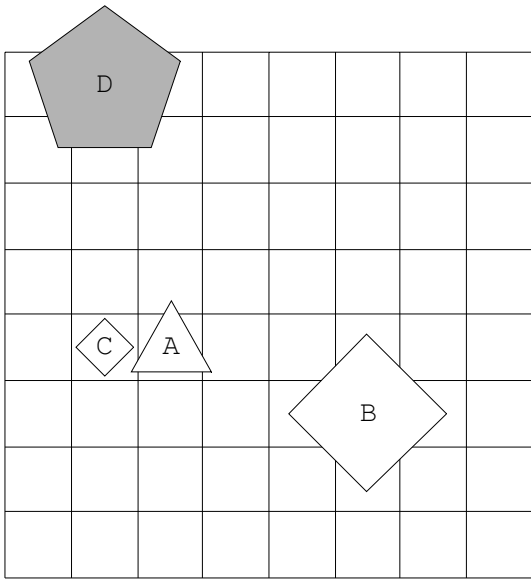
11.



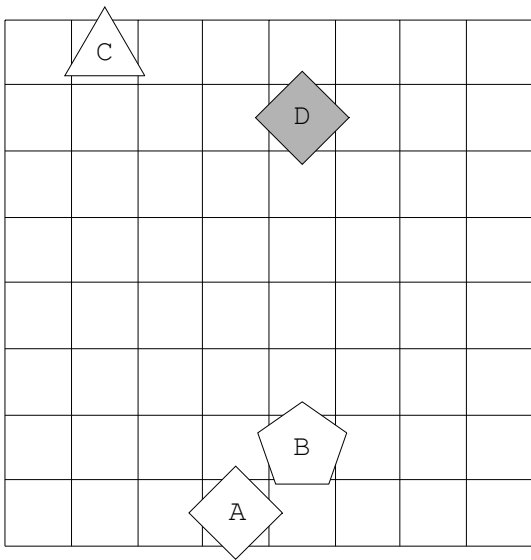
12.



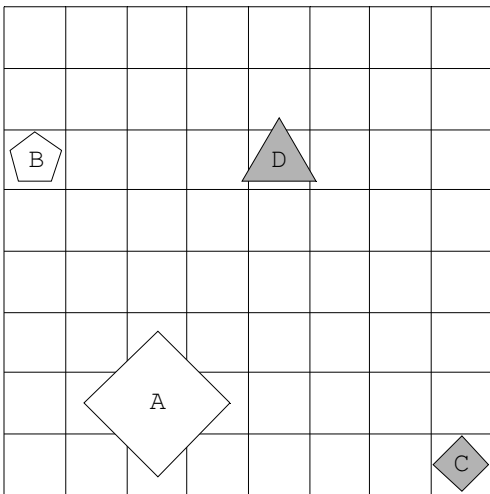
13.



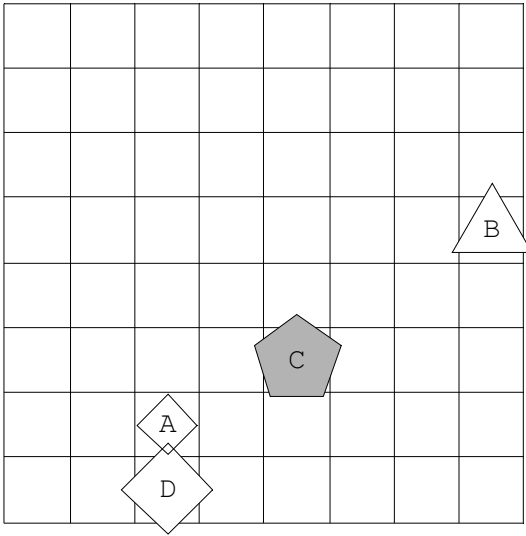
14.



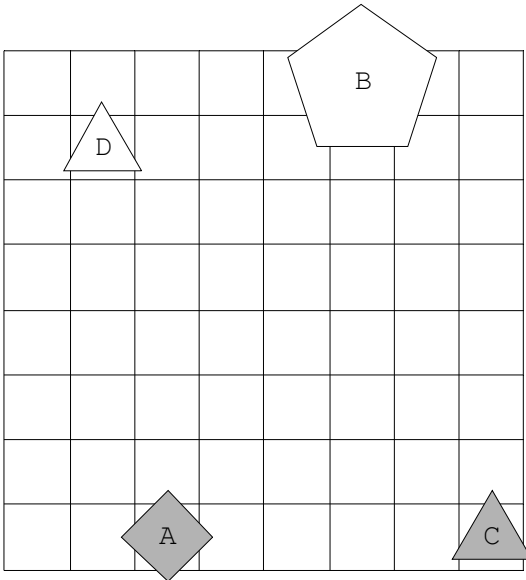
15.



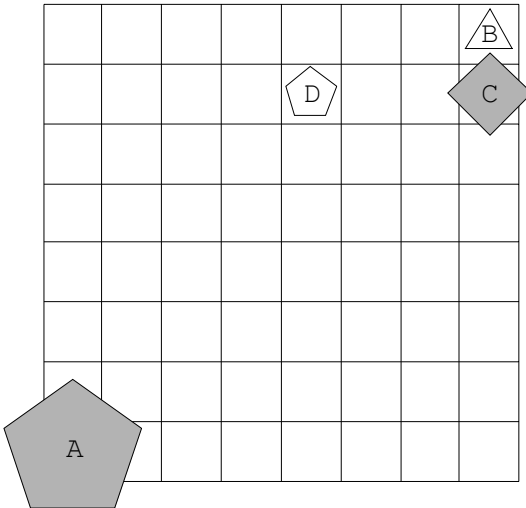
16.



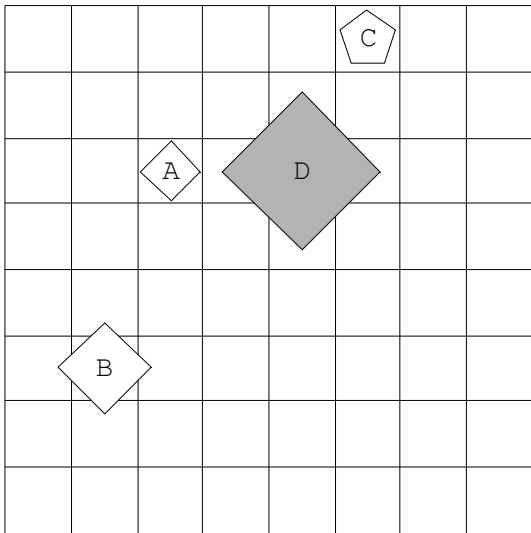
17.



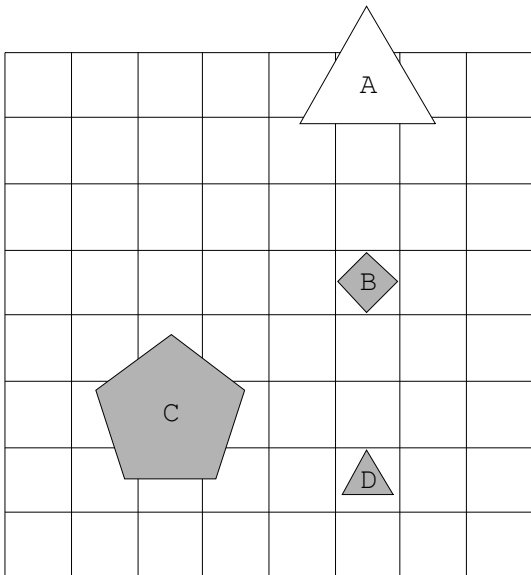
18.



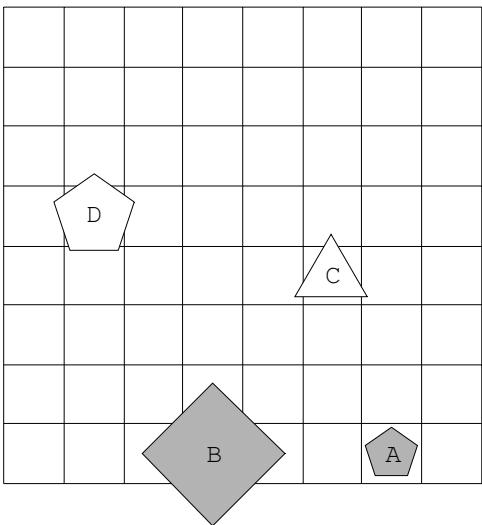
19.



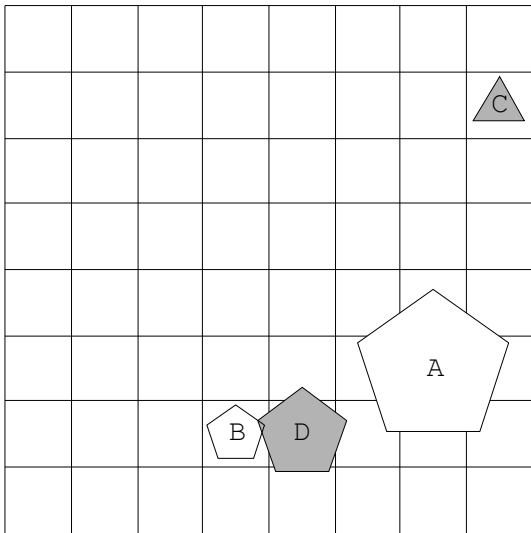
20.



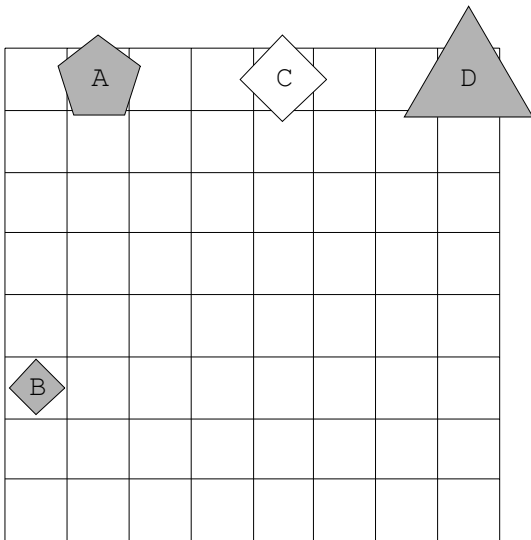
21.



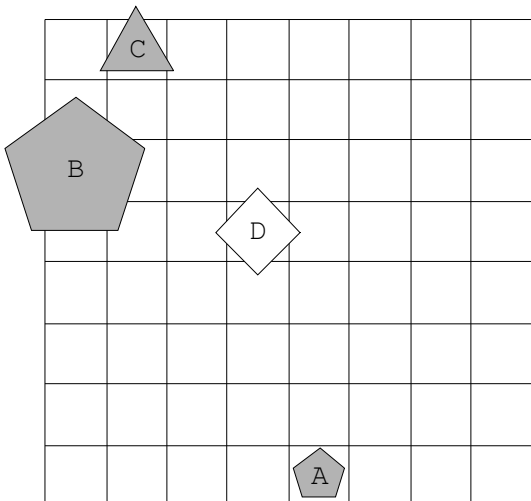
22.



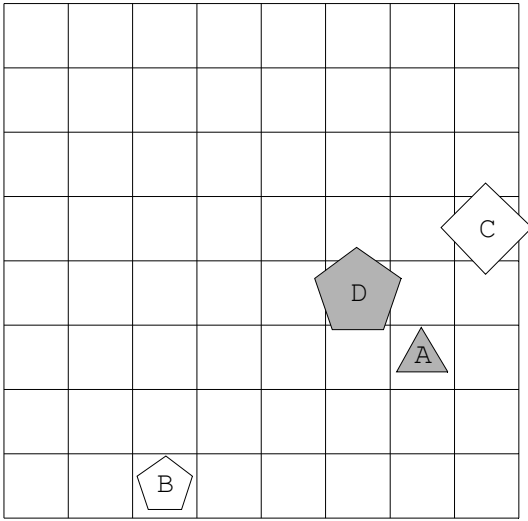
23.



24.



25.



26.

