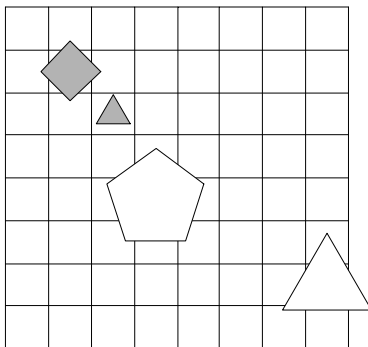


1. Ugotovi imena likov, če poznaš vrednosti stavkov v danem svetu, ki so podane v spodnji tabeli.

1. Lik D ni majhen ali lik A ni siv.
2. Lik B je petkotnik in lik D je trikotnik.
3. Lik A je trikotnik ali lik D je petkotnik.
4. Ali lik C ni bel ali lik B ni siv.
5. Lik C ni velik, če in samo če lik B ni velik.

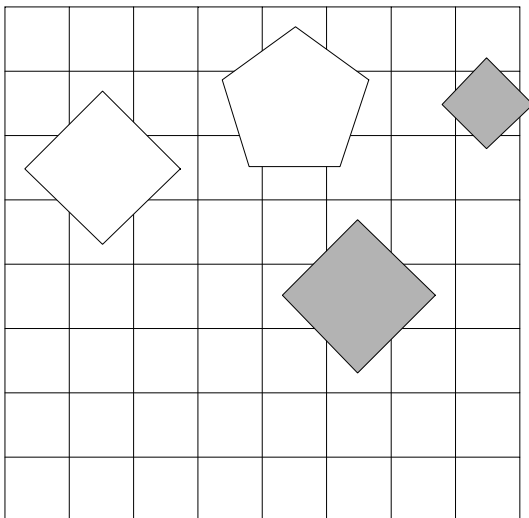
1	2	3	4	5
R	R	N	N	N



2. Ugotovi imena likov, če poznaš vrednosti stavkov v danem svetu, ki so podane v spodnji tabeli.

1. Lik C je kvadrat ali lik C ni petkotnik.
2. Lik B je petkotnik in lik A ni petkotnik.
3. Lik D je bel, če in samo če lik C ni srednje velikosti.
4. Lik A je trikotnik in lik D je bel.
5. Če lik A je bel, potem lik D ni siv.

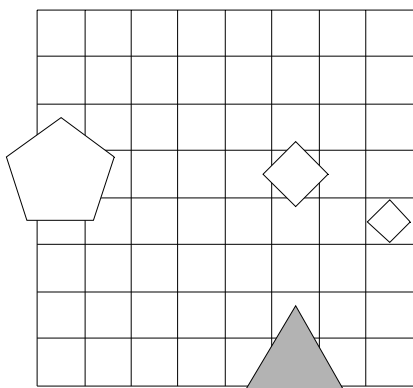
1	2	3	4	5
R	R	N	N	N



3. Ugotovi imena likov, če poznaš vrednosti stavkov v danem svetu, ki so podane v spodnji tabeli.

1. Lik C ni siv, če in samo če lik C ni majhen.
2. Lik D ni bel in lik B ni velik.
3. Lik D ni srednje velikosti, če in samo če lik B ni majhen.
4. Če lik B je bel, potem lik A ni velik.
5. Lik A ni siv ali lik B ni petkotnik.

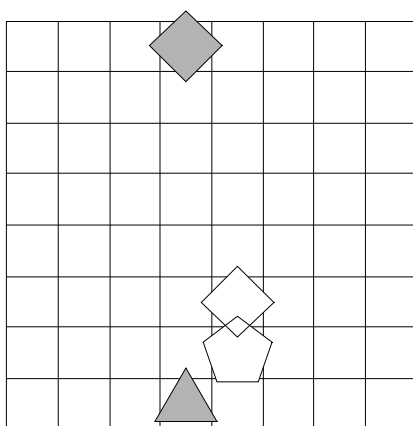
1	2	3	4	5
R	N	N	R	R



4. Ugotovi imena likov, če poznaš vrednosti stavkov v danem svetu, ki so podane v spodnji tabeli.

1. Lik B ni velik in lik D je kvadrat.
2. Lik B je siv ali lik B je majhen.
3. Lik A je trikotnik in lik B je kvadrat.
4. Lik B ni siv in lik B je kvadrat.
5. Lik D ni srednje velikosti ali lik B je kvadrat.

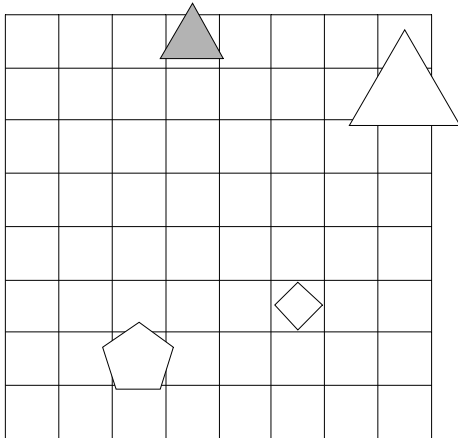
1	2	3	4	5
R	R	R	N	R



5. Ugotovi imena likov, če poznaš vrednosti stavkov v danem svetu, ki so podane v spodnji tabeli.

1. Lik A je velik ali lik B je petkotnik.
2. Lik C ni kvadrat, če in samo če lik D ni kvadrat.
3. Lik A ni siv ali lik B je bel.
4. Ali lik A ni srednje velikosti ali lik B je kvadrat.
5. Ali lik C ni trikotnik ali lik B je bel.

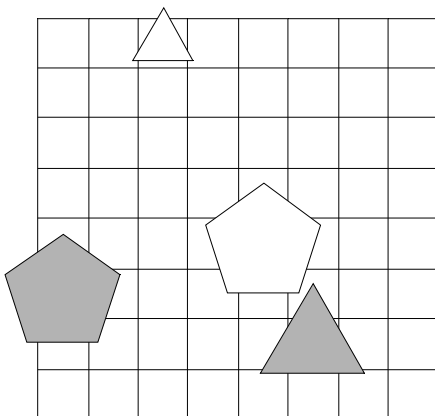
1	2	3	4	5
R	N	R	N	R



6. Ugotovi imena likov, če poznaš vrednosti stavkov v danem svetu, ki so podane v spodnji tabeli.

1. Lik D je bel in lik B ni kvadrat.
2. Lik B ni majhen in lik C je velik.
3. Če lik A je petkotnik, potem lik B ni trikotnik.
4. Če lik C je trikotnik, potem lik A ni bel.
5. Če lik A je kvadrat, potem lik A ni trikotnik.

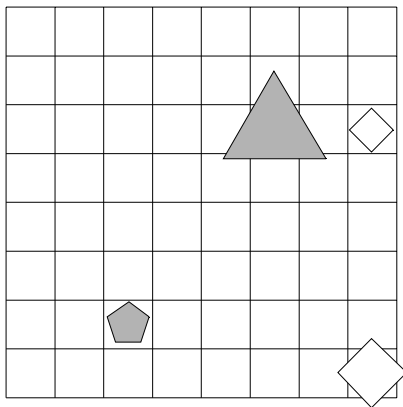
1	2	3	4	5
N	N	R	N	R



7. Ugotovi imena likov, če poznaš vrednosti stavkov v danem svetu, ki so podane v spodnji tabeli.

1. Lik B ni majhen in lik C je siv.
2. Ali lik D ni trikotnik ali lik D je petkotnik.
3. Ali lik C je velik ali lik A ni kvadrat.
4. Ali lik A je bel ali lik C ni majhen.
5. Lik C ni petkotnik ali lik B ni petkotnik.

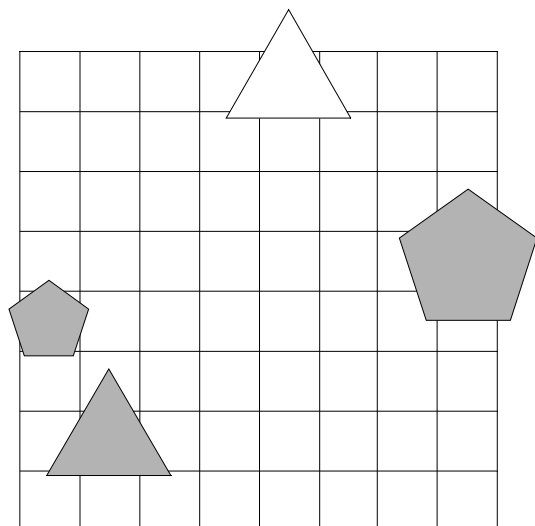
1	2	3	4	5
N	R	N	R	R



8. Ugotovi imena likov, če poznaš vrednosti stavkov v danem svetu, ki so podane v spodnji tabeli.

1. Lik D ni kvadrat ali lik C ni trikotnik.
2. Lik A ni petkotnik, če in samo če lik A je siv.
3. Lik D je trikotnik in lik C je siv.
4. Lik C ni bel ali lik B ni bel.
5. Lik B je srednje velikosti ali lik C je petkotnik.

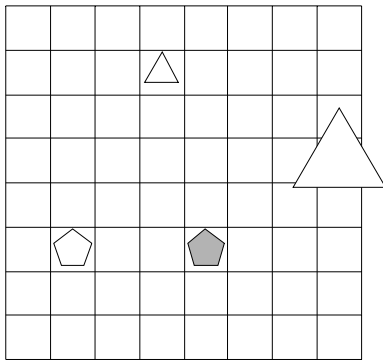
1	2	3	4	5
R	R	N	R	N



9. Ugotovi imena likov, če poznaš vrednosti stavkov v danem svetu, ki so podane v spodnji tabeli.

1. Lik B je majhen ali lik A ni srednje velikosti.
2. Lik A je majhen ali lik D je petkotnik.
3. Ali lik D je siv ali lik C je siv.
4. Če lik A je bel, potem lik D ni trikotnik.
5. Če lik D ni siv, potem lik A je kvadrat.

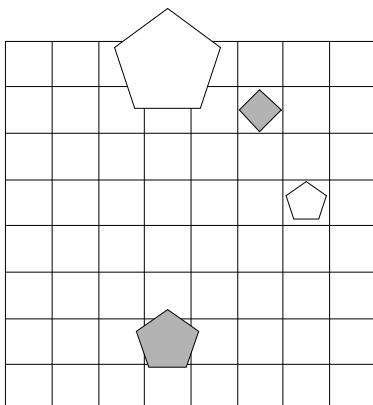
1	2	3	4	5
R	N	N	N	N



10. Ugotovi imena likov, če poznaš vrednosti stavkov v danem svetu, ki so podane v spodnji tabeli.

1. Lik C je trikotnik, če in samo če lik C ni siv.
2. Lik D ni bel, če in samo če lik D je kvadrat.
3. Lik B ni velik, če in samo če lik D ni bel.
4. Lik B ni siv ali lik D je velik.
5. Če lik D ni trikotnik, potem lik C ni velik.

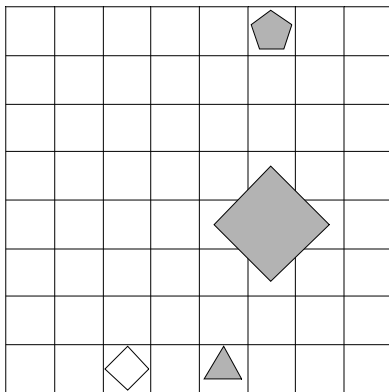
1	2	3	4	5
R	N	R	R	R



11. Ugotovi imena likov, če poznaš vrednosti stavkov v danem svetu, ki so podane v spodnji tabeli.

1. Lik A ni bel ali lik D je trikotnik.
2. Lik A ni velik ali lik A je velik.
3. Ali lik C je srednje velikosti ali lik B je srednje velikosti.
4. Lik C ni trikotnik ali lik D ni majhen.
5. Ali lik B ni petkotnik ali lik B ni velik.

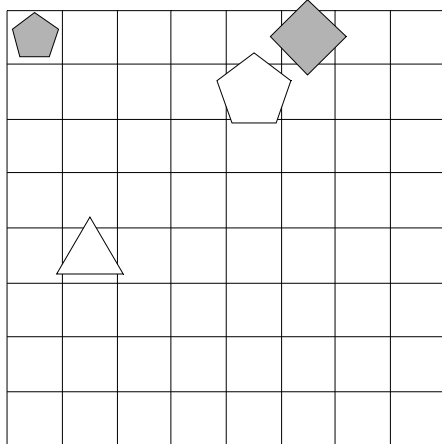
1	2	3	4	5
R	R	N	N	N



12. Ugotovi imena likov, če poznaš vrednosti stavkov v danem svetu, ki so podane v spodnji tabeli.

1. Ali lik D je kvadrat ali lik A je velik.
2. Lik C je trikotnik, če in samo če lik D ni srednje velikosti.
3. Lik C ni srednje velikosti ali lik D je srednje velikosti.
4. Če lik D ni petkotnik, potem lik C je trikotnik.
5. Ali lik B je bel ali lik D ni srednje velikosti.

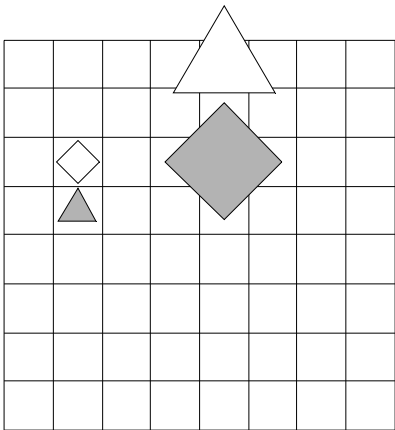
1	2	3	4	5
R	R	R	N	N



13. Ugotovi imena likov, če poznaš vrednosti stavkov v danem svetu, ki so podane v spodnji tabeli.

1. Ali lik A je majhen ali lik D ni siv.
2. Lik C ni trikotnik, če in samo če lik A ni bel.
3. Lik C ni majhen, če in samo če lik B je srednje velikosti.
4. Ali lik D je majhen ali lik C je siv.
5. Lik B je kvadrat ali lik B ni srednje velikosti.

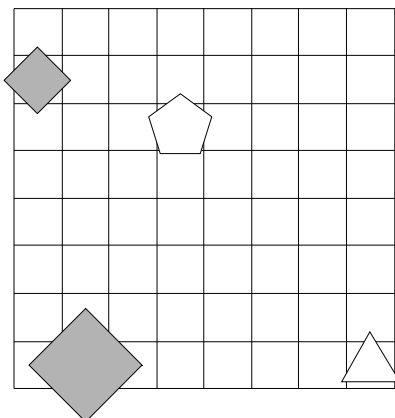
1	2	3	4	5
N	R	R	N	R



14. Ugotovi imena likov, če poznaš vrednosti stavkov v danem svetu, ki so podane v spodnji tabeli.

1. Če lik C ni petkotnik, potem lik D ni bel.
2. Lik A je siv in lik C ni kvadrat.
3. Ali lik A je kvadrat ali lik D ni velik.
4. Lik B ni velik ali lik B je trikotnik.
5. Če lik D ni kvadrat, potem lik D je majhen.

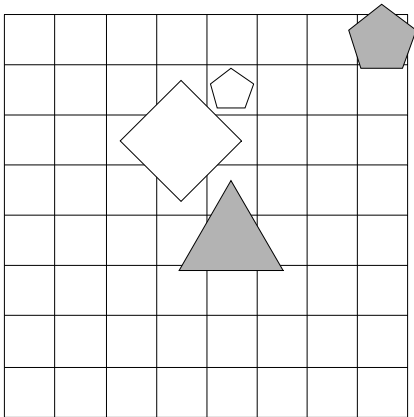
1	2	3	4	5
N	R	N	N	N



15. Ugotovi imena likov, če poznaš vrednosti stavkov v danem svetu, ki so podane v spodnji tabeli.

1. Lik A ni trikotnik ali lik C ni velik.
2. Lik B je srednje velikosti in lik A ni petkotnik.
3. Če lik B je velik, potem lik D je siv.
4. Lik B je kvadrat ali lik B je velik.
5. Lik A je srednje velikosti in lik D je kvadrat.

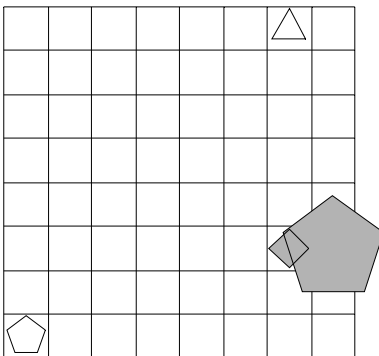
1	2	3	4	5
R	N	R	N	R



16. Ugotovi imena likov, če poznaš vrednosti stavkov v danem svetu, ki so podane v spodnji tabeli.

1. Če lik C ni siv, potem lik A ni siv.
2. Lik A ni bel, če in samo če lik A ni petkotnik.
3. Ali lik B je petkotnik ali lik C ni kvadrat.
4. Lik B je majhen, če in samo če lik B je trikotnik.
5. Lik D ni siv in lik D ni velik.

1	2	3	4	5
N	R	N	N	N

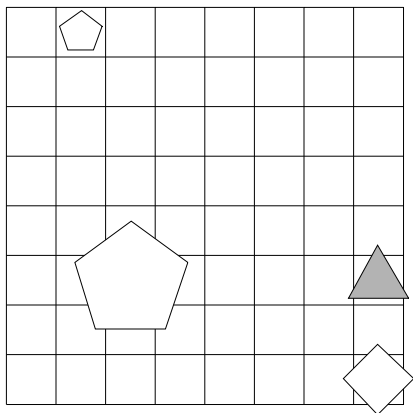


17. Ugotovi imena likov, če poznaš vrednosti stavkov v danem svetu, ki so podane v spodnji tabeli.



1. Lik A je trikotnik, če in samo če lik A je kvadrat.
2. Če lik C ni srednje velikosti, potem lik B je kvadrat.
3. Lik B je velik in lik D ni kvadrat.
4. Lik D je bel ali lik B ni petkotnik.
5. Ali lik A je trikotnik ali lik A ni velik.

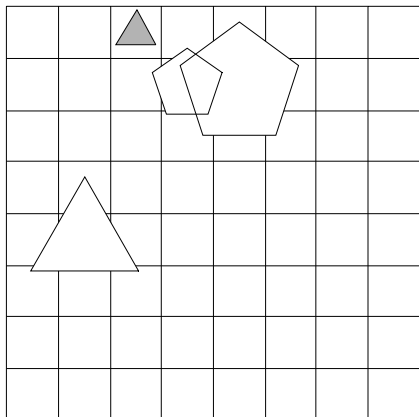
1	2	3	4	5
R	N	N	R	N



18. Ugotovi imena likov, če poznaš vrednosti stavkov v danem svetu, ki so podane v spodnji tabeli.

1. Če lik C ni majhen, potem lik C je trikotnik.
2. Ali lik D ni srednje velikosti ali lik C ni trikotnik.
3. Lik B ni majhen ali lik C ni siv.
4. Lik B ni kvadrat in lik C je bel.
5. Če lik C je bel, potem lik B je majhen.

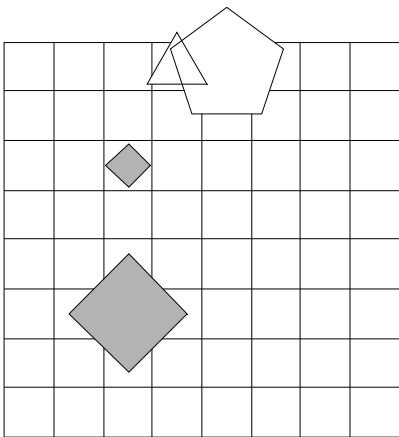
1	2	3	4	5
R	R	R	R	R



19. Ugotovi imena likov, če poznaš vrednosti stavkov v danem svetu, ki so podane v spodnji tabeli.

1. Lik B je trikotnik ali lik A je majhen.
2. Če lik B ni bel, potem lik A je trikotnik.
3. Lik C je siv ali lik C je petkotnik.
4. Lik B je siv, če in samo če lik A je srednje velikosti.
5. Lik D ni majhen, če in samo če lik B ni majhen.

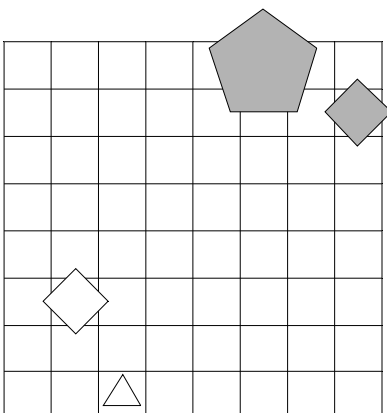
1	2	3	4	5
N	R	R	N	N



20. Ugotovi imena likov, če poznaš vrednosti stavkov v danem svetu, ki so podane v spodnji tabeli.

1. Če lik B je kvadrat, potem lik C ni petkotnik.
2. Lik D je petkotnik in lik C ni bel.
3. Lik B je petkotnik in lik D ni bel.
4. Lik B je srednje velikosti ali lik C ni srednje velikosti.
5. Lik B je bel ali lik C ni kvadrat.

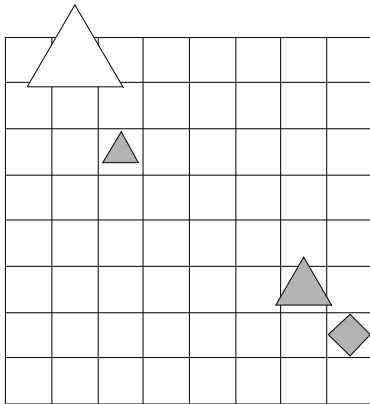
1	2	3	4	5
R	N	R	N	N



21. Ugotovi imena likov, če poznaš vrednosti stavkov v danem svetu, ki so podane v spodnji tabeli.

1. Lik B ni velik ali lik A ni trikotnik.
2. Lik B ni trikotnik in lik A je kvadrat.
3. Lik A je srednje velikosti in lik C ni siv.
4. Ali lik B je velik ali lik A ni trikotnik.
5. Lik A ni srednje velikosti, če in samo če lik C ni majhen.

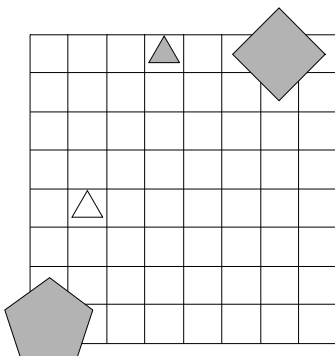
1	2	3	4	5
N	N	N	R	N



22. Ugotovi imena likov, če poznaš vrednosti stavkov v danem svetu, ki so podane v spodnji tabeli.

1. Lik D je kvadrat, če in samo če lik C ni bel.
2. Lik D je trikotnik, če in samo če lik B ni bel.
3. Lik D je bel, če in samo če lik A je kvadrat.
4. Lik C je petkotnik, če in samo če lik A je bel.
5. Lik B ni siv, če in samo če lik A ni kvadrat.

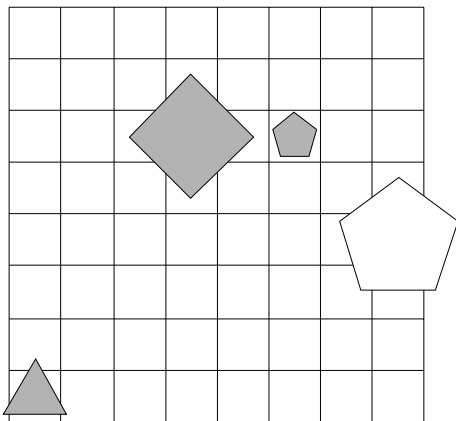
1	2	3	4	5
R	R	R	R	N



23. Ugotovi imena likov, če poznaš vrednosti stavkov v danem svetu, ki so podane v spodnji tabeli.

1. Ali lik A ni kvadrat ali lik C ni majhen.
2. Če lik D ni kvadrat, potem lik D je majhen.
3. Ali lik B ni srednje velikosti ali lik A je velik.
4. Lik C ni velik ali lik C je velik.
5. Lik A je velik ali lik A je majhen.

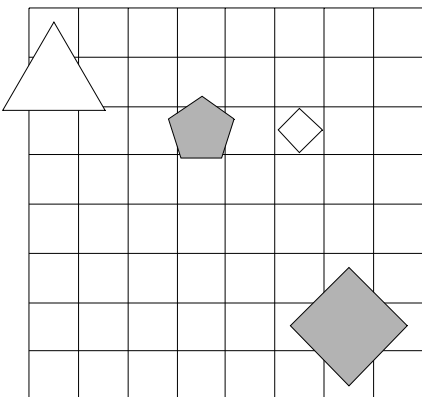
1	2	3	4	5
R	R	N	R	R



24. Ugotovi imena likov, če poznaš vrednosti stavkov v danem svetu, ki so podane v spodnji tabeli.

1. Lik C ni trikotnik, če in samo če lik B ni srednje velikosti.
2. Lik B je velik ali lik A ni siv.
3. Ali lik A je petkotnik ali lik C ni siv.
4. Ali lik D ni kvadrat ali lik C je srednje velikosti.
5. Ali lik B ni srednje velikosti ali lik B ni kvadrat.

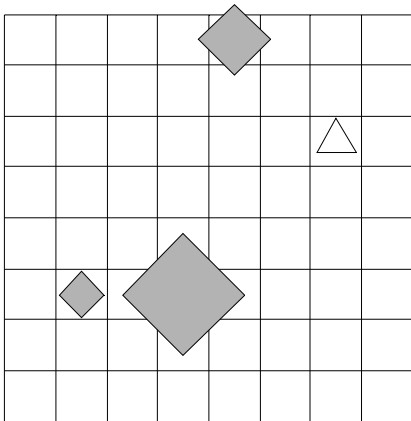
1	2	3	4	5
R	R	N	N	R



25. Ugotovi imena likov, če poznaš vrednosti stavkov v danem svetu, ki so podane v spodnji tabeli.

1. Lik D ni petkotnik ali lik A ni srednje velikosti.
2. Če lik D ni petkotnik, potem lik D ni srednje velikosti.
3. Ali lik B je majhen ali lik C je petkotnik.
4. Lik A je siv, če in samo če lik B je trikotnik.
5. Če lik B je kvadrat, potem lik D je bel.

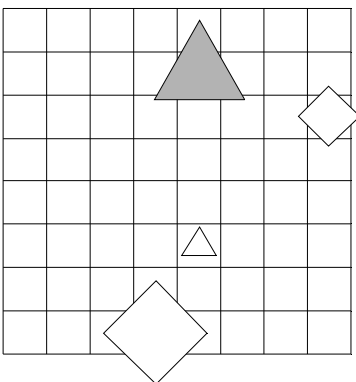
1	2	3	4	5
R	N	R	R	N



26. Ugotovi imena likov, če poznaš vrednosti stavkov v danem svetu, ki so podane v spodnji tabeli.

1. Ali lik B je velik ali lik C je srednje velikosti.
2. Če lik D je bel, potem lik A ni velik.
3. Lik B ni siv, če in samo če lik D je srednje velikosti.
4. Lik B je majhen in lik B je bel.
5. Lik D je trikotnik ali lik A ni velik.

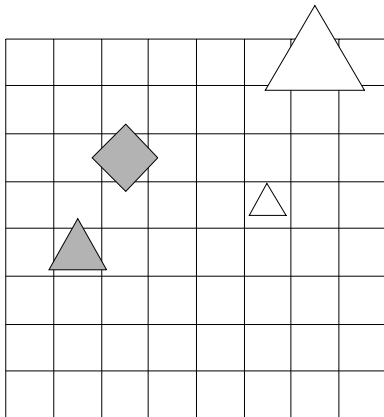
1	2	3	4	5
R	N	R	N	N



27. Ugotovi imena likov, če poznaš vrednosti stavkov v danem svetu, ki so podane v spodnji tabeli.

1. Lik A ni velik, če in samo če lik A ni siv.
2. Lik B ni velik in lik D je siv.
3. Ali lik B je velik ali lik B ni majhen.
4. Ali lik A je trikotnik ali lik B je trikotnik.
5. Če lik B ni siv, potem lik A je trikotnik.

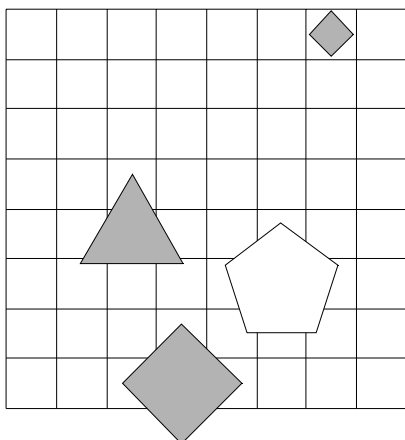
1	2	3	4	5
R	R	R	R	R



28. Ugotovi imena likov, če poznaš vrednosti stavkov v danem svetu, ki so podane v spodnji tabeli.

1. Lik C ni trikotnik ali lik D je velik.
2. Lik D je majhen ali lik C je kvadrat.
3. Če lik B ni trikotnik, potem lik D je petkotnik.
4. Ali lik B ni srednje velikosti ali lik A je petkotnik.
5. Lik D je srednje velikosti ali lik B ni velik.

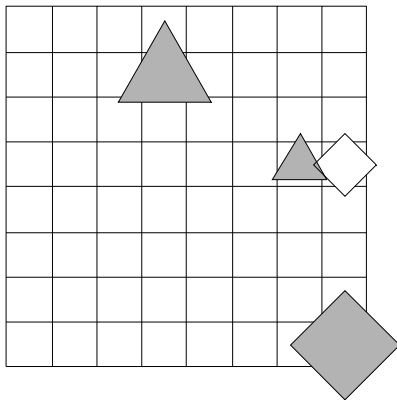
1	2	3	4	5
R	N	R	R	R



29. Ugotovi imena likov, če poznaš vrednosti stavkov v danem svetu, ki so podane v spodnji tabeli.

1. Ali lik B je siv ali lik B ni kvadrat.
2. Lik A je srednje velikosti, če in samo če lik B ni velik.
3. Lik D je bel ali lik D je velik.
4. Ali lik B ni siv ali lik A ni kvadrat.
5. Lik A je trikotnik, če in samo če lik A je srednje velikosti.

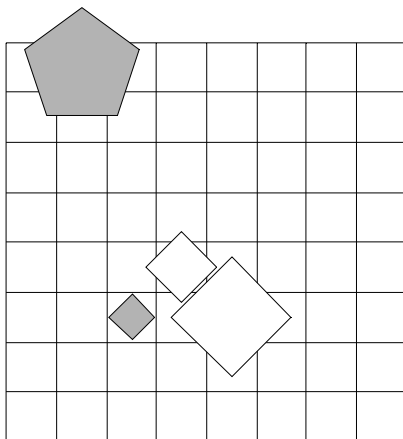
1	2	3	4	5
N	N	N	R	R



30. Ugotovi imena likov, če poznaš vrednosti stavkov v danem svetu, ki so podane v spodnji tabeli.

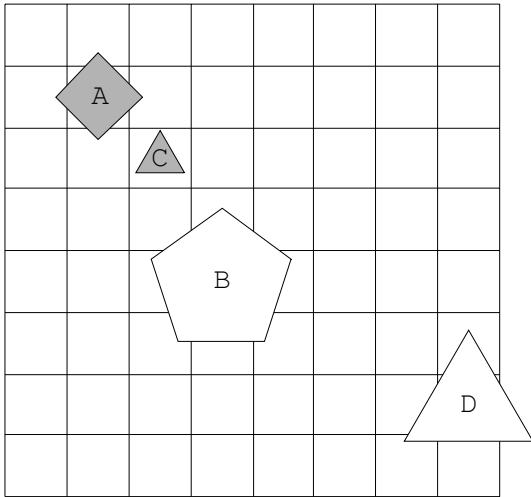
1. Če lik D ni bel, potem lik A ni srednje velikosti.
2. Lik B je trikotnik ali lik D ni velik.
3. Ali lik B ni trikotnik ali lik D je siv.
4. Lik C je kvadrat, če in samo če lik B je trikotnik.
5. Lik A ni petkotnik ali lik A je majhen.

1	2	3	4	5
N	R	N	N	R

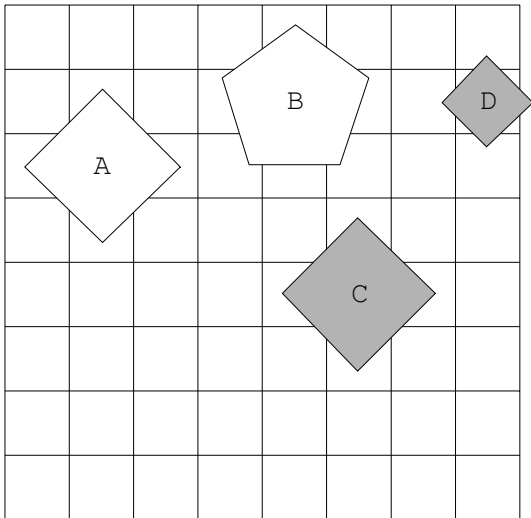


Rešitve

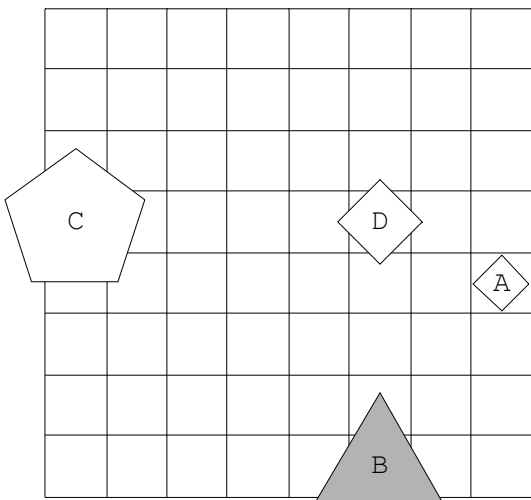
1.



2.

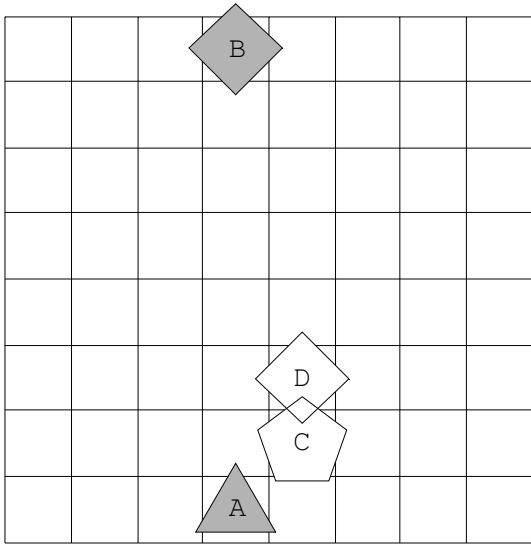


3.

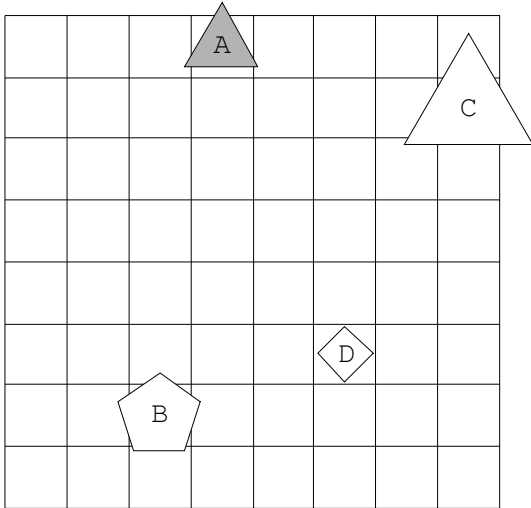




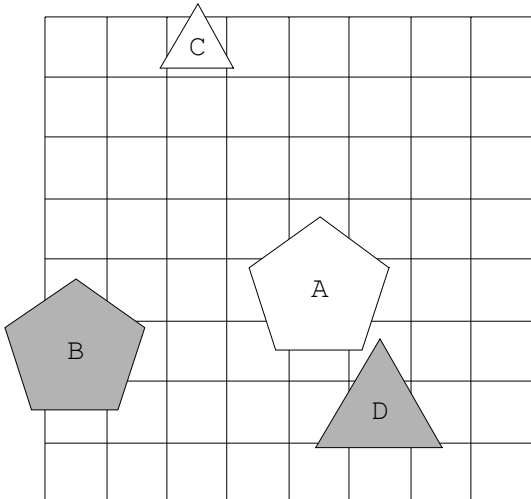
4.



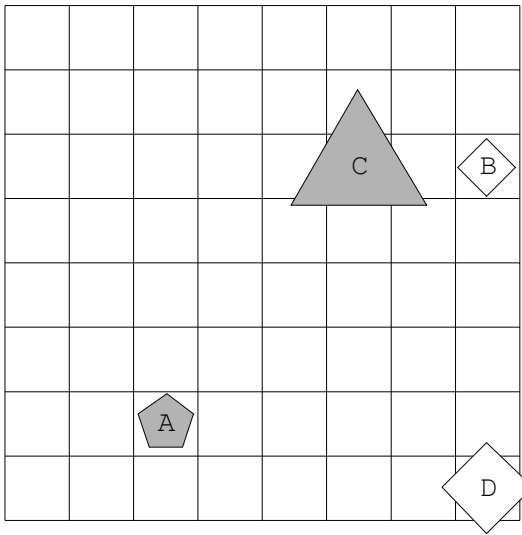
5.



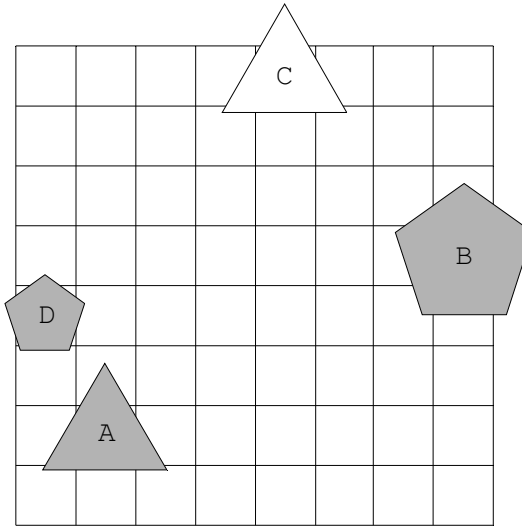
6.



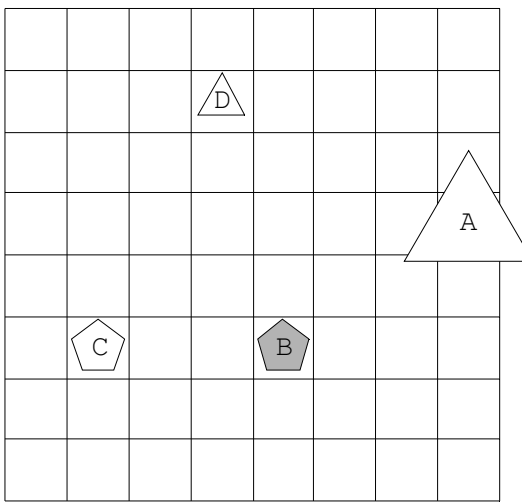
7.



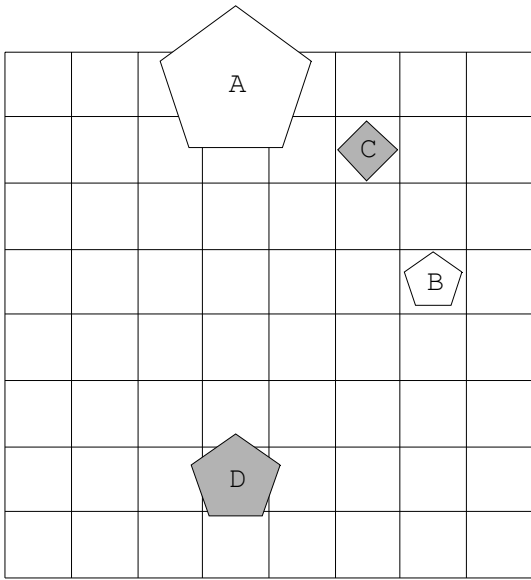
8.



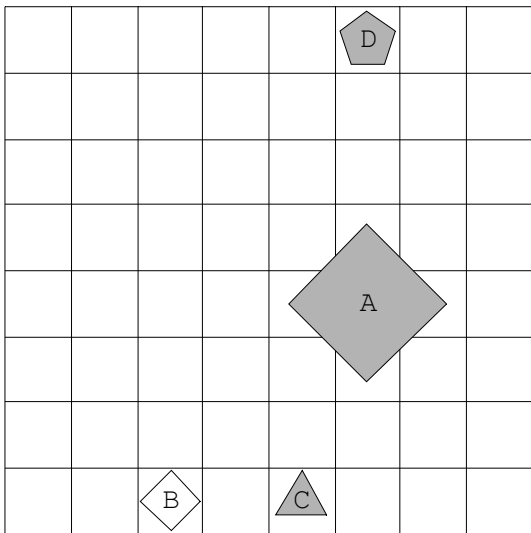
9.



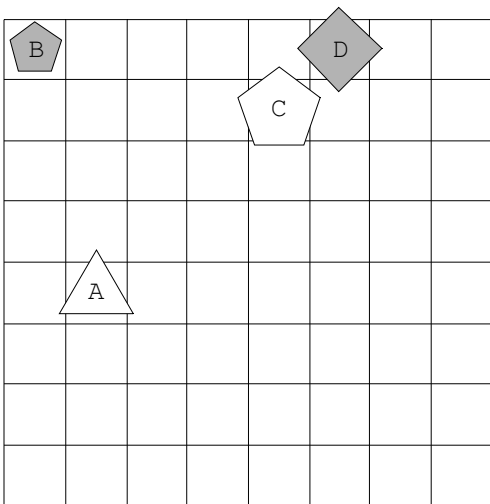
10.



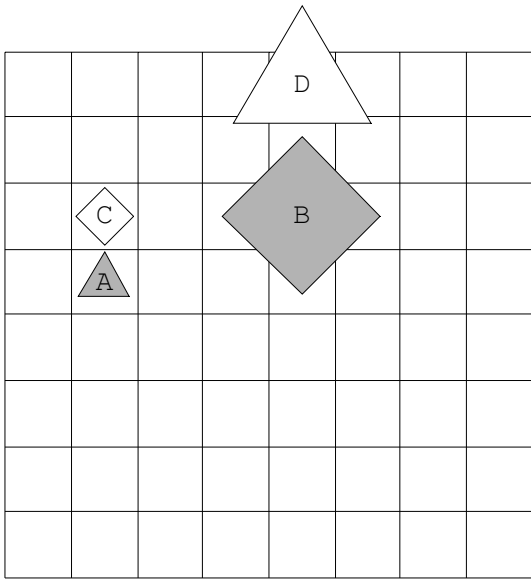
11.



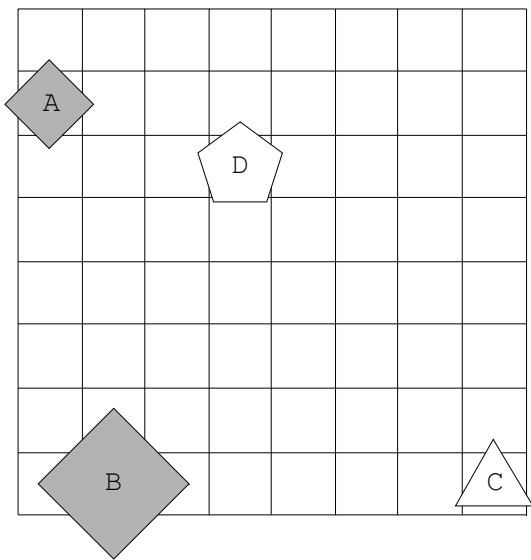
12.



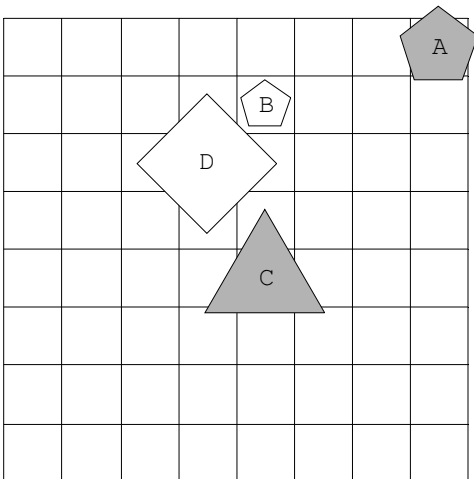
13.



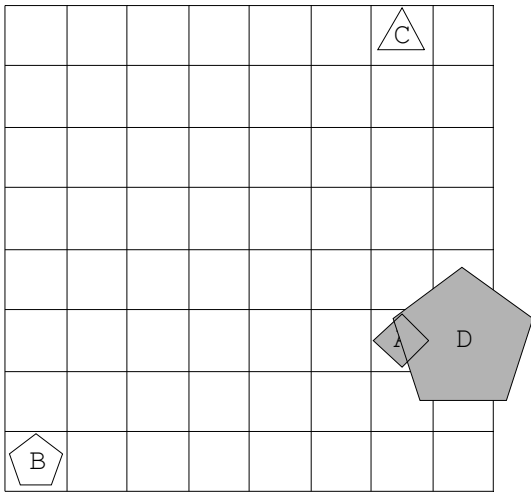
14.



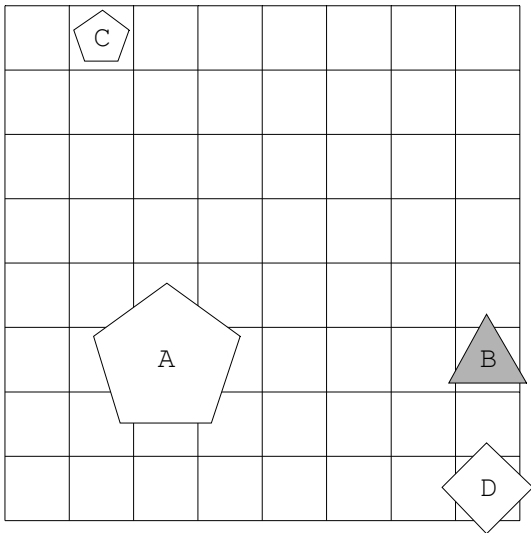
15.



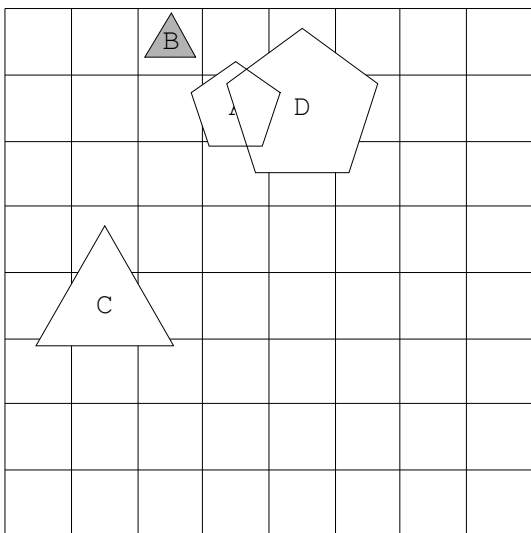
16.



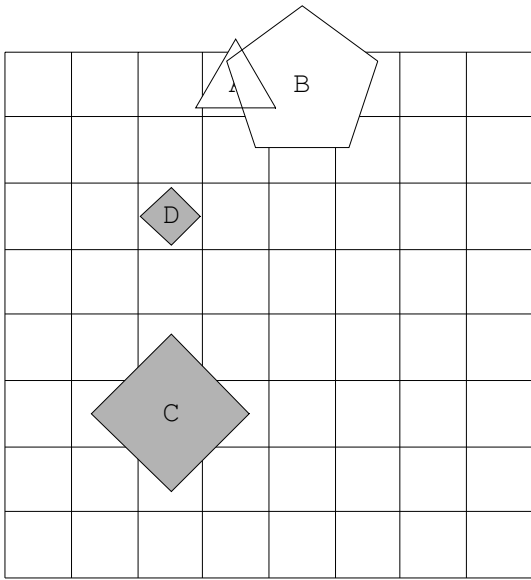
17.



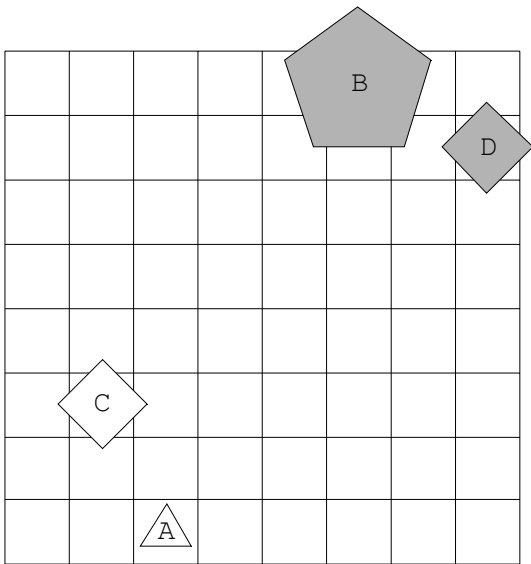
18.



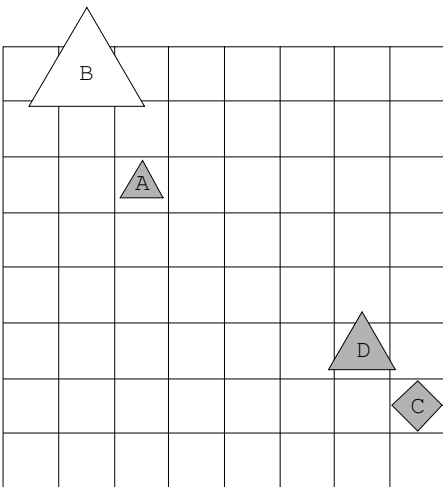
19.



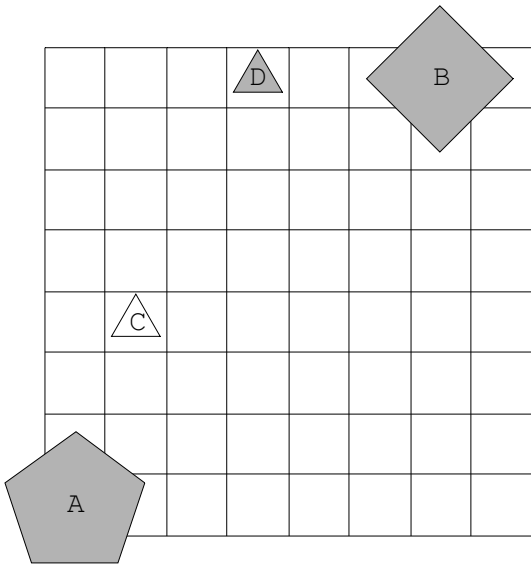
20.



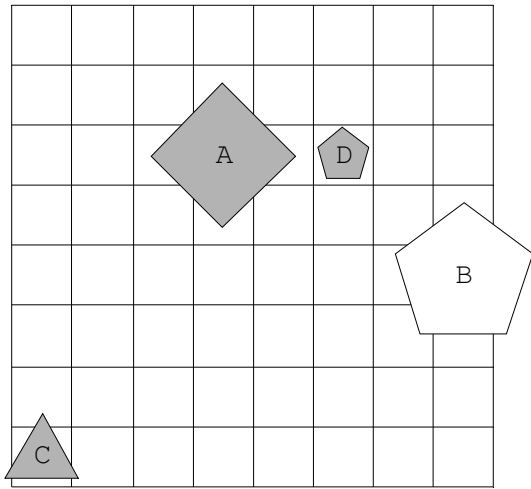
21.



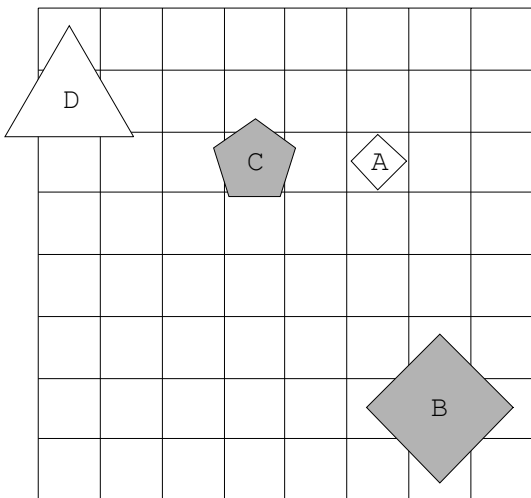
22.



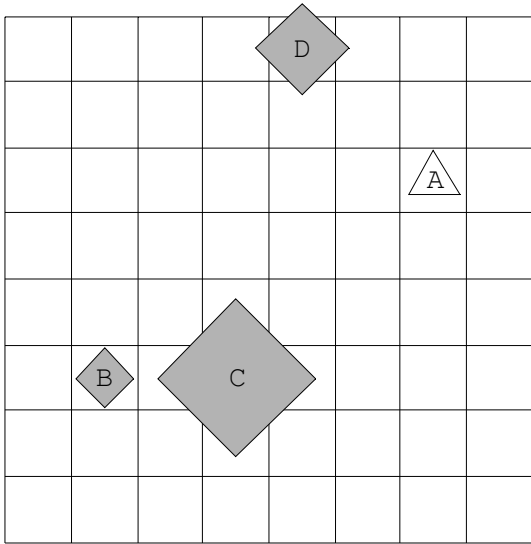
23.



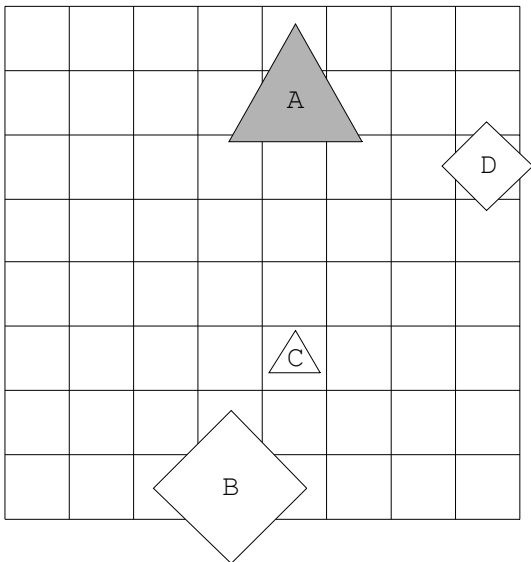
24.



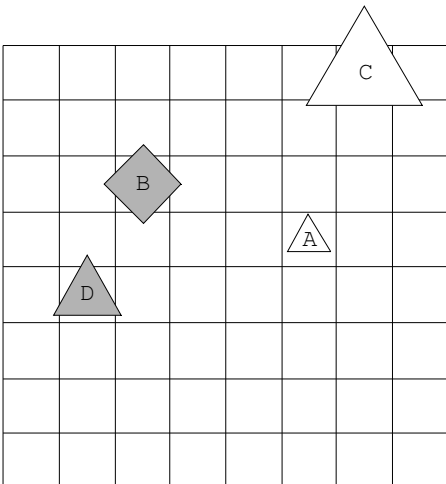
25.



26.

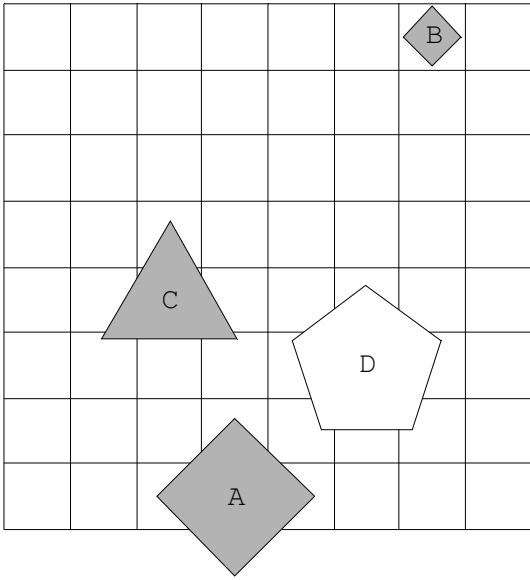


27.

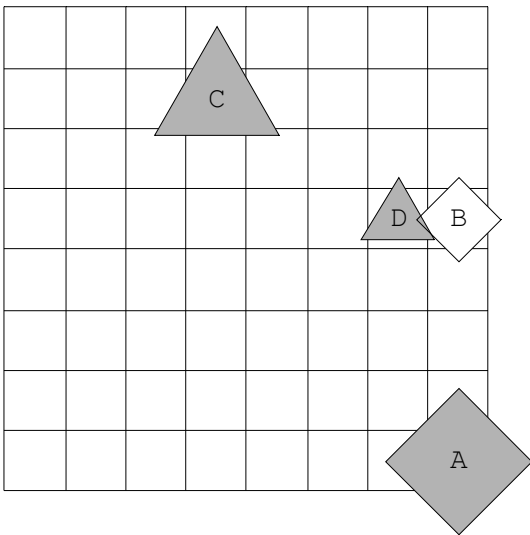




28.



29.



30.

