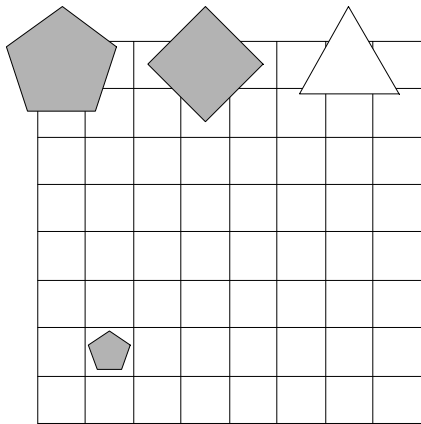


1. Ugotovi imena likov, če poznaš vrednosti stavkov v danem svetu, ki so podane v spodnji tabeli.

1. Lik A ni velik ali lik C ni siv.
2. Ali lik A ni siv ali lik C je trikotnik.
3. Če lik A ni trikotnik, potem lik C je kvadrat.
4. Lik B je petkotnik in lik B je majhen.
5. Ali je lik A večji kot B ali je lik A levo od B.

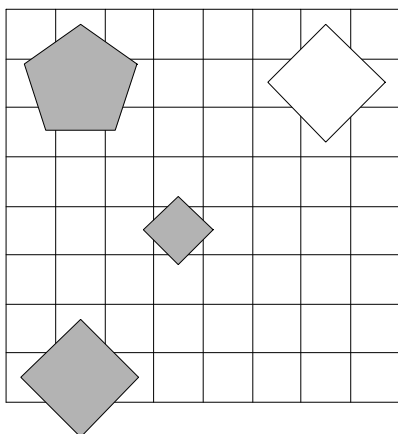
1	2	3	4	5
R	R	N	R	N



2. Ugotovi imena likov, če poznaš vrednosti stavkov v danem svetu, ki so podane v spodnji tabeli.

1. Lik C je trikotnik in lik D ni velik.
2. Če lik D je velik, potem lik D ni bel.
3. Lik C je petkotnik in lik C ni bel.
4. Ali lik D ni srednje velikosti ali lik A ni kvadrat.
5. Če je lik A manjši kot B, potem je lik C desno od D.

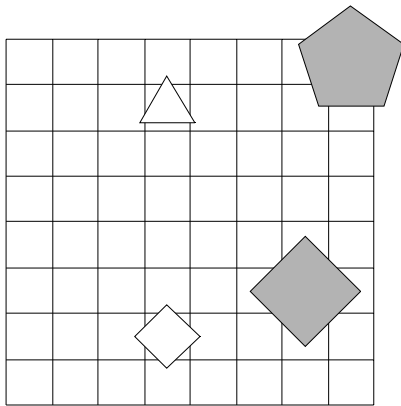
1	2	3	4	5
N	R	R	R	R



3. Ugotovi imena likov, če poznaš vrednosti stavkov v danem svetu, ki so podane v spodnji tabeli.

1. Če lik D je bel, potem lik A je siv.
2. Lik D ni bel ali lik A je majhen.
3. Lik C je petkotnik ali lik B je siv.
4. Lik B je siv ali lik C ni majhen.
5. Lik C je pod D in lik A je pod C.

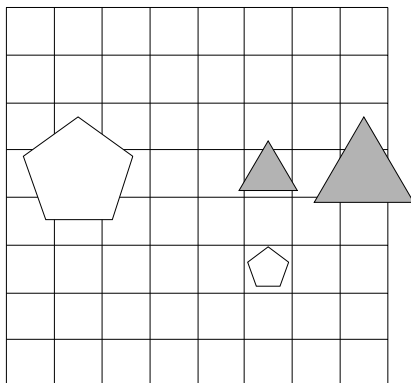
1	2	3	4	5
R	R	R	R	R



4. Ugotovi imena likov, če poznaš vrednosti stavkov v danem svetu, ki so podane v spodnji tabeli.

1. Lik A je velik, če in samo če lik C ni majhen.
2. Lik D ni petkotnik, če in samo če lik B ni trikotnik.
3. Ali lik D je majhen ali lik C ni trikotnik.
4. Če lik C ni trikotnik, potem lik A je trikotnik.
5. Lik A je desno od C ali je lik A pod D.

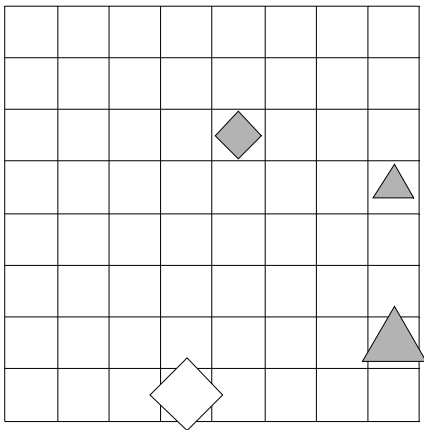
1	2	3	4	5
R	R	N	R	R



5. Ugotovi imena likov, če poznaš vrednosti stavkov v danem svetu, ki so podane v spodnji tabeli.

1. Ali lik B je petkotnik ali lik A ni trikotnik.
2. Lik D je majhen in lik D ni petkotnik.
3. Lik A je siv ali lik B je majhen.
4. Lik C je siv in lik C je trikotnik.
5. Če je lik A pod C, potem je lik A levo od C.

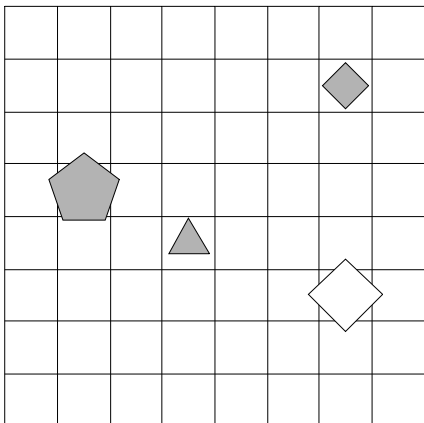
1	2	3	4	5
N	R	R	N	N



6. Ugotovi imena likov, če poznaš vrednosti stavkov v danem svetu, ki so podane v spodnji tabeli.

1. Če lik C ni bel, potem lik A ni siv.
2. Če lik C je majhen, potem lik A ni majhen.
3. Ali lik C ni bel ali lik C je srednje velikosti.
4. Lik D je majhen ali lik C ni kvadrat.
5. Ali je lik C nad D ali je lik B levo od D.

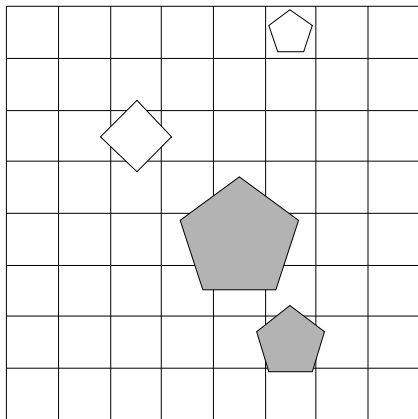
1	2	3	4	5
N	N	R	N	R



7. Ugotovi imena likov, če poznaš vrednosti stavkov v danem svetu, ki so podane v spodnji tabeli.

1. Lik A ni trikotnik ali lik C ni kvadrat.
2. Ali lik D ni bel ali lik B ni siv.
3. Če lik C je siv, potem lik C ni majhen.
4. Lik A ni petkotnik ali lik C ni bel.
5. Lik B je nad C in lik C je levo od D.

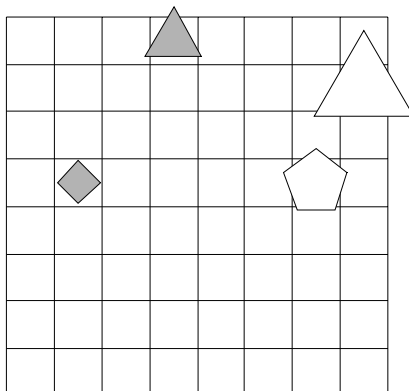
1	2	3	4	5
R	R	R	R	R



8. Ugotovi imena likov, če poznaš vrednosti stavkov v danem svetu, ki so podane v spodnji tabeli.

1. Če lik B ni bel, potem lik C je majhen.
2. Če lik C ni trikotnik, potem lik C je trikotnik.
3. Lik C je siv, če in samo če lik A je trikotnik.
4. Ali lik B ni kvadrat ali lik B ni trikotnik.
5. Lik B je levo od C ali je lik A desno od B.

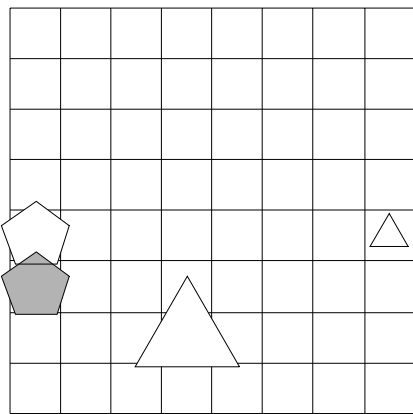
1	2	3	4	5
R	N	R	R	R



9. Ugotovi imena likov, če poznaš vrednosti stavkov v danem svetu, ki so podane v spodnji tabeli.

1. Ali lik A je majhen ali lik B je kvadrat.
2. Če lik D je majhen, potem lik B ni kvadrat.
3. Če lik C je majhen, potem lik A ni petkotnik.
4. Lik C je trikotnik in lik D ni velik.
5. Lik A je manjši kot B, če in samo če je lik A nad B.

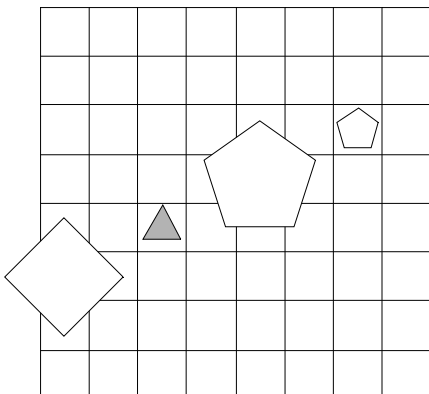
1	2	3	4	5
N	R	R	R	N



10. Ugotovi imena likov, če poznaš vrednosti stavkov v danem svetu, ki so podane v spodnji tabeli.

1. Ali lik D je velik ali lik A je petkotnik.
2. Če lik A je bel, potem lik B ni petkotnik.
3. Ali lik D ni velik ali lik D ni siv.
4. Lik A je petkotnik ali lik D je majhen.
5. Lik A je manjši kot C in lik A je desno od D.

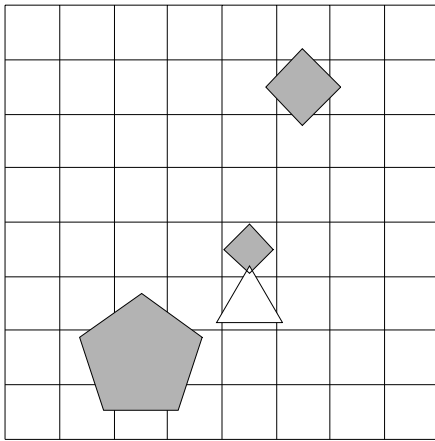
1	2	3	4	5
R	R	R	R	N



11. Ugotovi imena likov, če poznaš vrednosti stavkov v danem svetu, ki so podane v spodnji tabeli.

1. Če lik C ni siv, potem lik B je velik.
2. Lik A ni srednje velikosti ali lik D ni srednje velikosti.
3. Lik C je kvadrat, če in samo če lik B je siv.
4. Lik B je majhen ali lik B ni srednje velikosti.
5. Ali je lik A levo od C ali je lik B pod C.

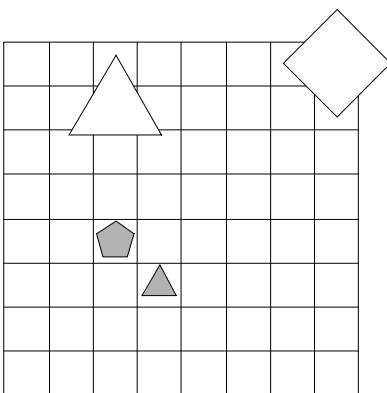
1	2	3	4	5
N	R	N	R	R



12. Ugotovi imena likov, če poznaš vrednosti stavkov v danem svetu, ki so podane v spodnji tabeli.

1. Ali lik D ni velik ali lik A ni srednje velikosti.
2. Če lik D je trikotnik, potem lik A ni trikotnik.
3. Lik A ni kvadrat, če in samo če lik A je srednje velikosti.
4. Lik D je srednje velikosti, če in samo če lik D je kvadrat.
5. Ali je lik B pod C ali je lik A desno od C.

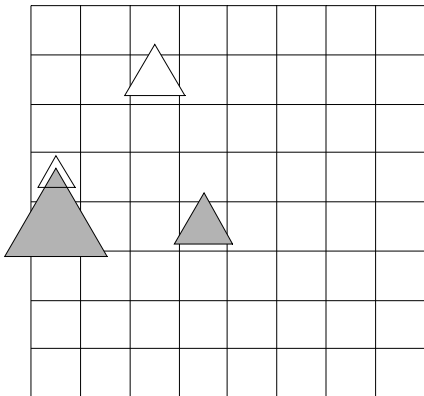
1	2	3	4	5
R	R	N	R	R



13. Ugotovi imena likov, če poznaš vrednosti stavkov v danem svetu, ki so podane v spodnji tabeli.

1. Če lik D ni kvadrat, potem lik B je siv.
2. Ali lik A ni bel ali lik B je srednje velikosti.
3. Če lik C ni velik, potem lik B ni siv.
4. Če lik A ni siv, potem lik C je srednje velikosti.
5. Lik C je levo od D, če in samo če je lik C manjši kot D.

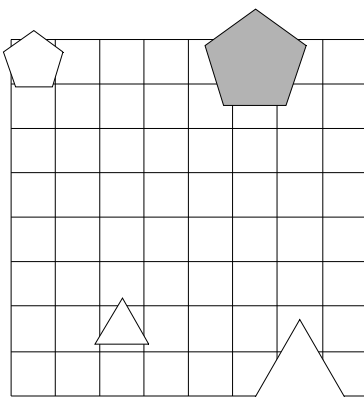
1	2	3	4	5
R	R	N	N	N



14. Ugotovi imena likov, če poznaš vrednosti stavkov v danem svetu, ki so podane v spodnji tabeli.

1. Ali lik B je trikotnik ali lik C ni velik.
2. Lik A je majhen ali lik B je trikotnik.
3. Če lik B je trikotnik, potem lik D je bel.
4. Ali lik C je majhen ali lik C ni srednje velikosti.
5. Lik C je levo od D, če in samo če je lik A nad B.

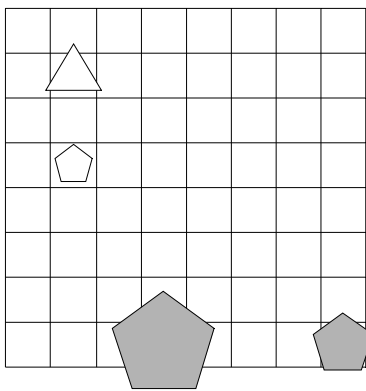
1	2	3	4	5
N	R	N	N	N



15. Ugotovi imena likov, če poznaš vrednosti stavkov v danem svetu, ki so podane v spodnji tabeli.

1. Lik A je trikotnik in lik C je bel.
2. Lik D je trikotnik, če in samo če lik D ni kvadrat.
3. Lik D ni bel, če in samo če lik A ni kvadrat.
4. Lik A je siv in lik A je majhen.
5. Če je lik C levo od D, potem je lik B levo od D.

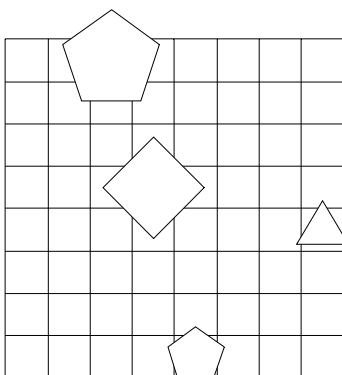
1	2	3	4	5
R	N	R	N	N



16. Ugotovi imena likov, če poznaš vrednosti stavkov v danem svetu, ki so podane v spodnji tabeli.

1. Lik A ni trikotnik ali lik D je majhen.
2. Če lik D je srednje velikosti, potem lik C je siv.
3. Ali lik A ni bel ali lik A je petkotnik.
4. Lik D ni srednje velikosti, če in samo če lik C je kvadrat.
5. Če je lik A večji kot D, potem je lik A pod D.

1	2	3	4	5
N	R	N	R	R

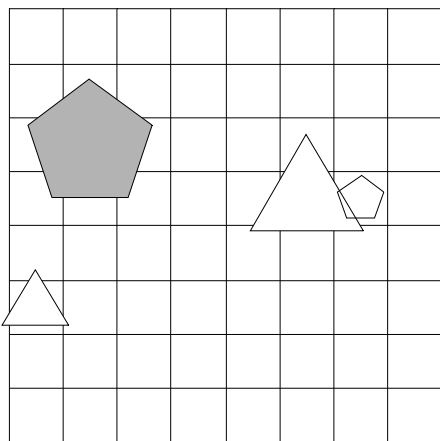




17. Ugotovi imena likov, če poznaš vrednosti stavkov v danem svetu, ki so podane v spodnji tabeli.

1. Lik B je trikotnik in lik D je srednje velikosti.
2. Če lik C ni kvadrat, potem lik A je kvadrat.
3. Lik D ni petkotnik, če in samo če lik D ni trikotnik.
4. Če lik C ni bel, potem lik B je kvadrat.
5. Ali je lik C desno od D ali je lik B pod D.

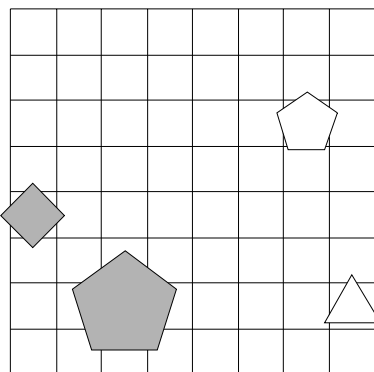
1	2	3	4	5
R	N	N	N	R



18. Ugotovi imena likov, če poznaš vrednosti stavkov v danem svetu, ki so podane v spodnji tabeli.

1. Če lik C ni kvadrat, potem lik B ni srednje velikosti.
2. Ali lik B je srednje velikosti ali lik D je bel.
3. Lik D ni srednje velikosti ali lik A je bel.
4. Lik A je trikotnik ali lik D ni petkotnik.
5. Lik B je večji kot C in lik B je manjši kot C.

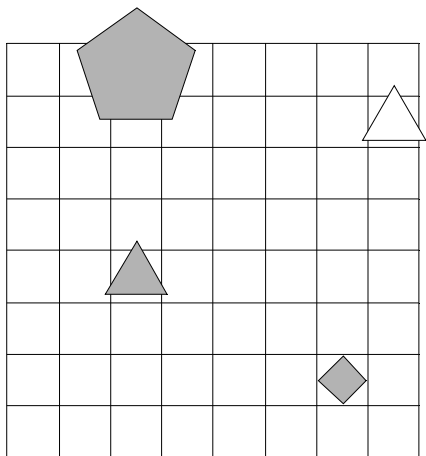
1	2	3	4	5
R	R	N	N	N



19. Ugotovi imena likov, če poznaš vrednosti stavkov v danem svetu, ki so podane v spodnji tabeli.

1. Lik C ni bel ali lik A ni majhen.
2. Ali lik C ni bel ali lik C je siv.
3. Če lik A je velik, potem lik B je petkotnik.
4. Ali lik C je bel ali lik A je petkotnik.
5. Lik A je pod B ali je lik B manjši kot D.

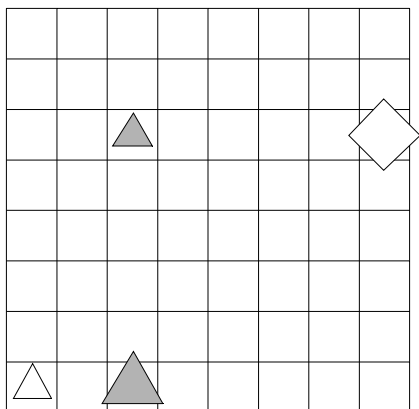
1	2	3	4	5
R	N	N	N	R



20. Ugotovi imena likov, če poznaš vrednosti stavkov v danem svetu, ki so podane v spodnji tabeli.

1. Lik B je petkotnik ali lik D je majhen.
2. Lik C ni siv in lik C ni bel.
3. Ali lik B je trikotnik ali lik A je bel.
4. Če lik A je majhen, potem lik B ni trikotnik.
5. Lik A je nad D ali je lik A levo od C.

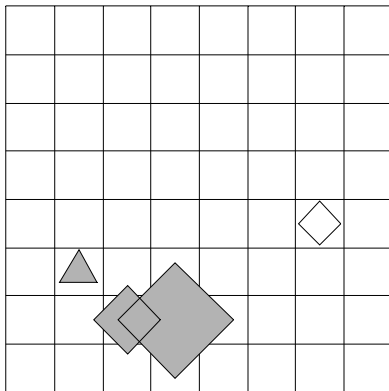
1	2	3	4	5
N	N	R	N	R



21. Ugotovi imena likov, če poznaš vrednosti stavkov v danem svetu, ki so podane v spodnji tabeli.

1. Lik A je bel in lik A ni velik.
2. Če lik C je bel, potem lik B ni majhen.
3. Ali lik C je petkotnik ali lik D ni kvadrat.
4. Ali lik C je srednje velikosti ali lik B je trikotnik.
5. Lik A je večji kot B, če in samo če je lik A večji kot D.

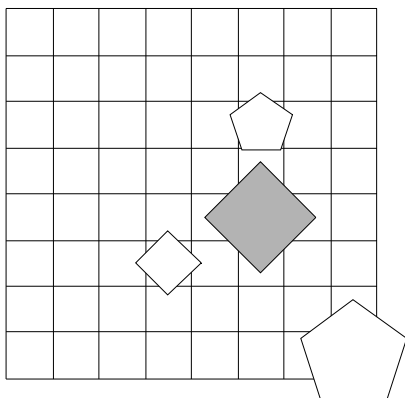
1	2	3	4	5
N	N	N	R	N



22. Ugotovi imena likov, če poznaš vrednosti stavkov v danem svetu, ki so podane v spodnji tabeli.

1. Če lik C je bel, potem lik A je siv.
2. Če lik D je petkotnik, potem lik D je velik.
3. Lik D je petkotnik in lik B je velik.
4. Če lik D je petkotnik, potem lik C ni trikotnik.
5. Lik A je pod B in lik A je večji kot B.

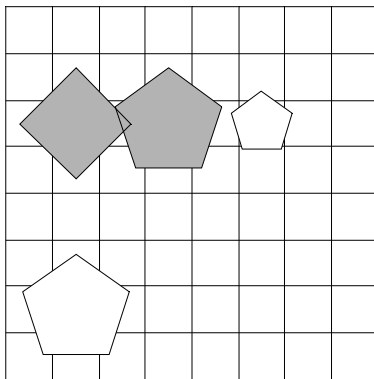
1	2	3	4	5
R	N	N	R	N



23. Ugotovi imena likov, če poznaš vrednosti stavkov v danem svetu, ki so podane v spodnji tabeli.

1. Ali lik D je petkotnik ali lik C ni kvadrat.
2. Če lik B je velik, potem lik A je siv.
3. Če lik A je velik, potem lik C je trikotnik.
4. Lik B je kvadrat, če in samo če lik A je velik.
5. Lik B je pod C in lik B je večji kot C.

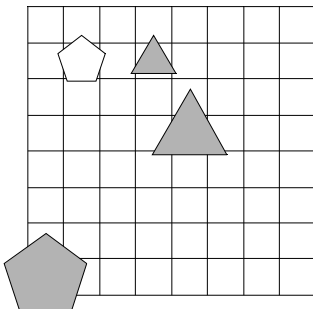
1	2	3	4	5
N	R	N	N	R



24. Ugotovi imena likov, če poznaš vrednosti stavkov v danem svetu, ki so podane v spodnji tabeli.

1. Če lik C je srednje velikosti, potem lik B ni bel.
2. Lik D ni bel in lik D je velik.
3. Lik D ni trikotnik, če in samo če lik D ni velik.
4. Lik C ni petkotnik, če in samo če lik A je kvadrat.
5. Če je lik B nad D, potem je lik B levo od C.

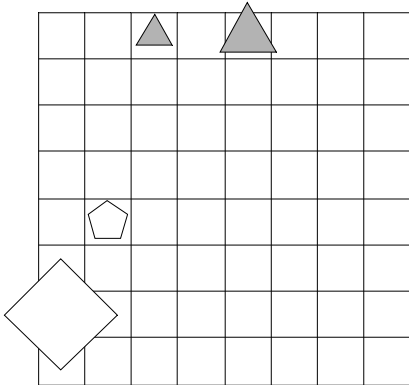
1	2	3	4	5
R	R	N	N	N



25. Ugotovi imena likov, če poznaš vrednosti stavkov v danem svetu, ki so podane v spodnji tabeli.

1. Ali lik B ni bel ali lik A je trikotnik.
2. Lik C ni kvadrat ali lik C je trikotnik.
3. Lik B ni siv in lik C ni velik.
4. Lik B je velik, če in samo če lik D je srednje velikosti.
5. Lik B je večji kot C in lik B je levo od C.

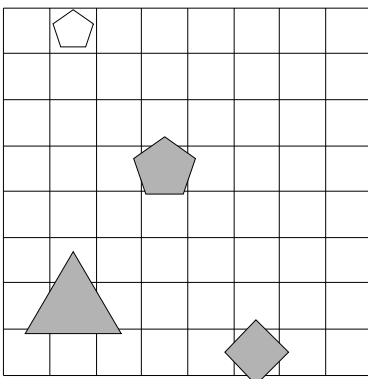
1	2	3	4	5
N	R	R	R	N



26. Ugotovi imena likov, če poznaš vrednosti stavkov v danem svetu, ki so podane v spodnji tabeli.

1. Ali lik B ni kvadrat ali lik A je majhen.
2. Lik D ni velik, če in samo če lik D je majhen.
3. Lik C ni trikotnik in lik B ni kvadrat.
4. Lik D je srednje velikosti, če in samo če lik D ni kvadrat.
5. Ali je lik B levo od C ali je lik A desno od B.

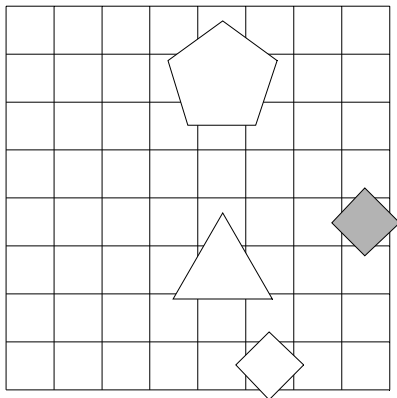
1	2	3	4	5
N	N	N	N	N



27. Ugotovi imena likov, če poznaš vrednosti stavkov v danem svetu, ki so podane v spodnji tabeli.

1. Lik D je majhen in lik A ni trikotnik.
2. Lik C je trikotnik ali lik D je srednje velikosti.
3. Lik C ni bel ali lik B ni srednje velikosti.
4. Lik B ni kvadrat, če in samo če lik C ni srednje velikosti.
5. Lik A je pod D, če in samo če je lik C večji kot D.

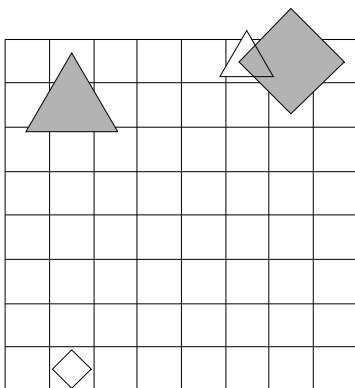
1	2	3	4	5
N	N	N	R	N



28. Ugotovi imena likov, če poznaš vrednosti stavkov v danem svetu, ki so podane v spodnji tabeli.

1. Lik C je siv, če in samo če lik B ni petkotnik.
2. Lik A ni majhen, če in samo če lik B ni siv.
3. Lik D je kvadrat, če in samo če lik C ni petkotnik.
4. Ali lik D je velik ali lik D je siv.
5. Lik A je manjši kot D, če in samo če je lik A desno od C.

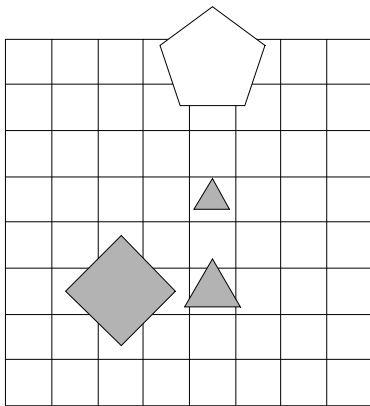
1	2	3	4	5
R	N	R	N	R



29. Ugotovi imena likov, če poznaš vrednosti stavkov v danem svetu, ki so podane v spodnji tabeli.

1. Ali lik A ni kvadrat ali lik D ni srednje velikosti.
2. Lik C je siv in lik B je siv.
3. Če lik D je srednje velikosti, potem lik B ni petkotnik.
4. Če lik B ni siv, potem lik B je srednje velikosti.
5. Če je lik B nad D, potem je lik A nad D.

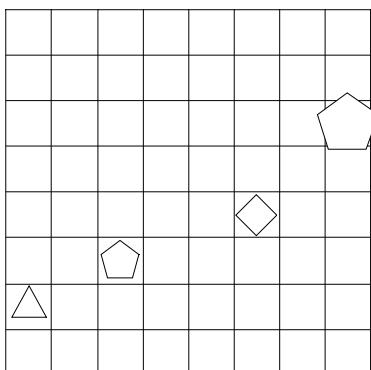
1	2	3	4	5
N	N	N	N	N



30. Ugotovi imena likov, če poznaš vrednosti stavkov v danem svetu, ki so podane v spodnji tabeli.

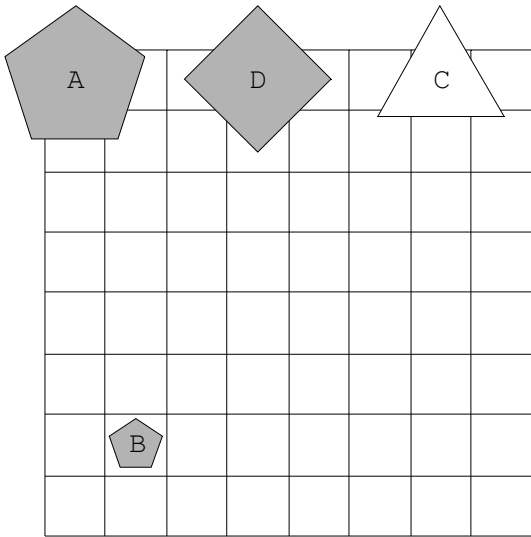
1. Lik A ni majhen ali lik C ni trikotnik.
2. Lik A ni petkotnik, če in samo če lik B ni kvadrat.
3. Lik C ni srednje velikosti in lik C je velik.
4. Lik B ni kvadrat in lik C ni srednje velikosti.
5. Lik A je večji kot D, če in samo če je lik A manjši kot D.

1	2	3	4	5
N	R	N	R	N

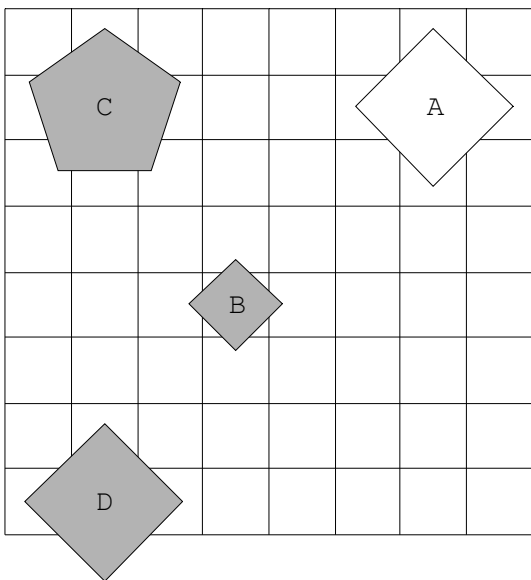


Rešitve

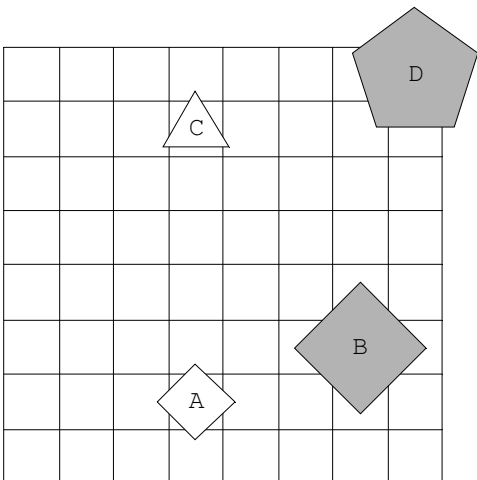
1.



2.

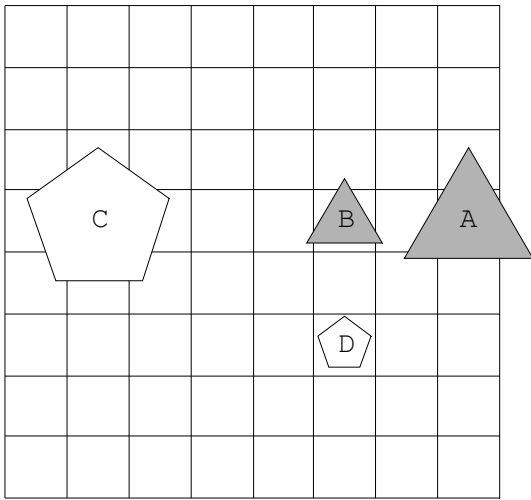


3.

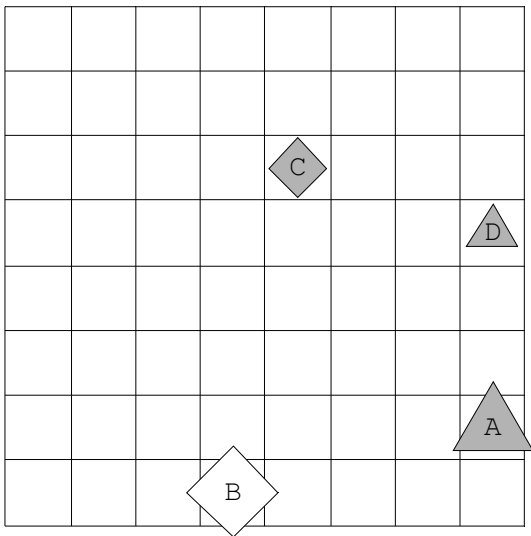




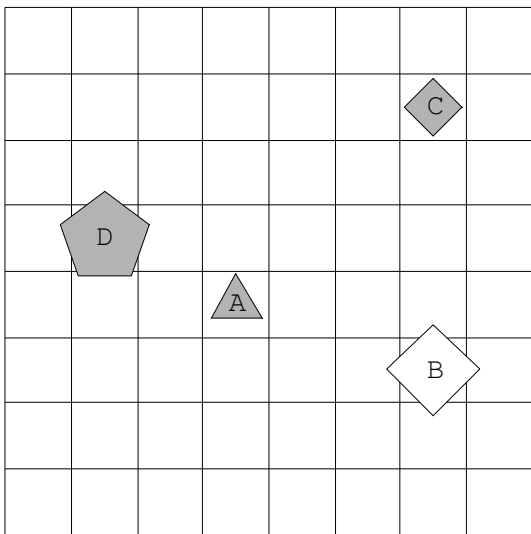
4.



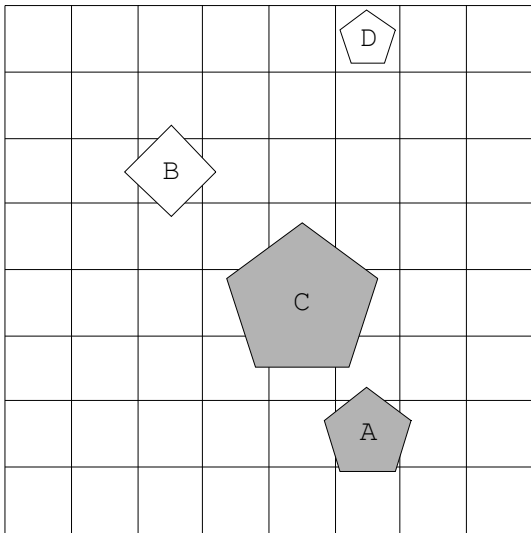
5.



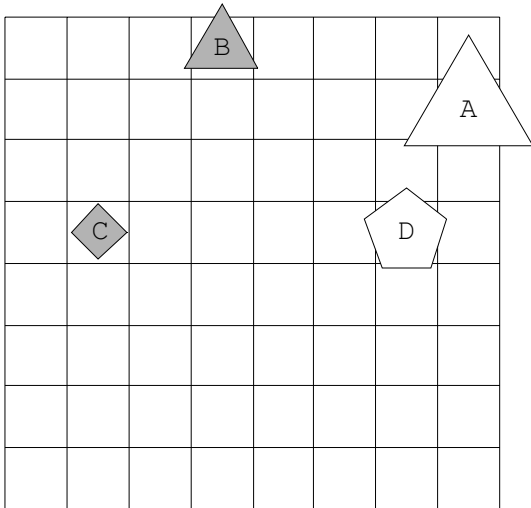
6.



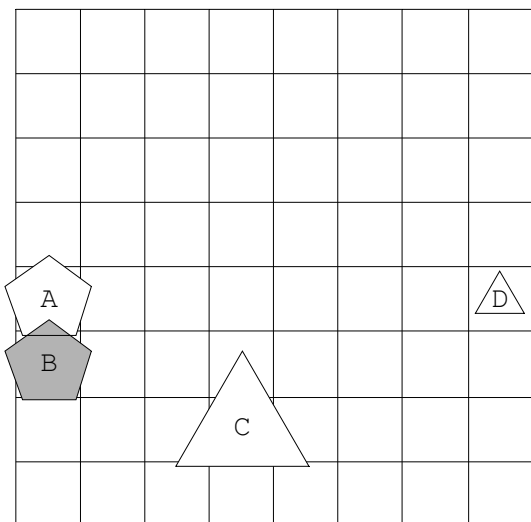
7.



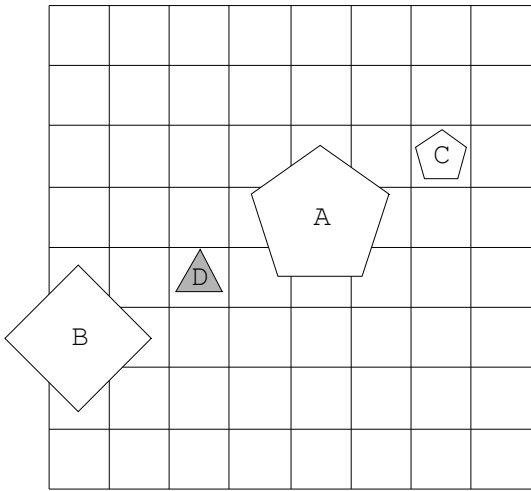
8.



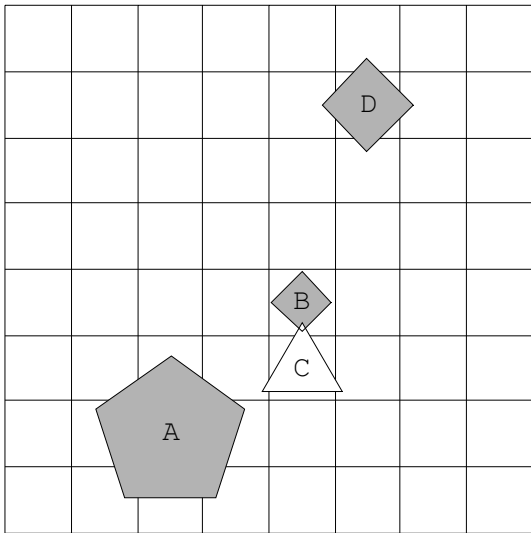
9.



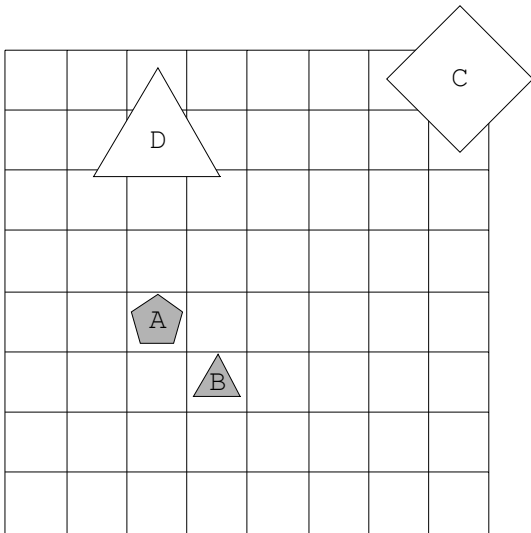
10.



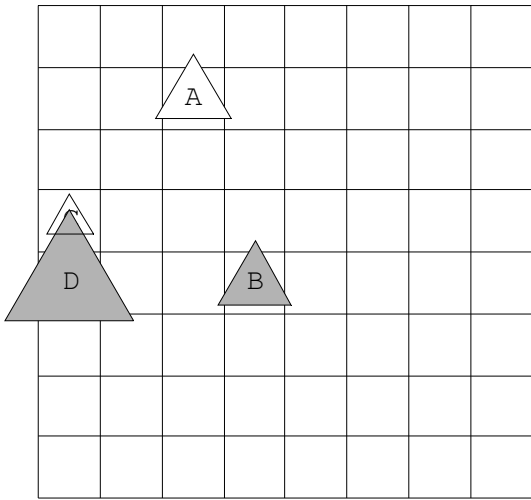
11.



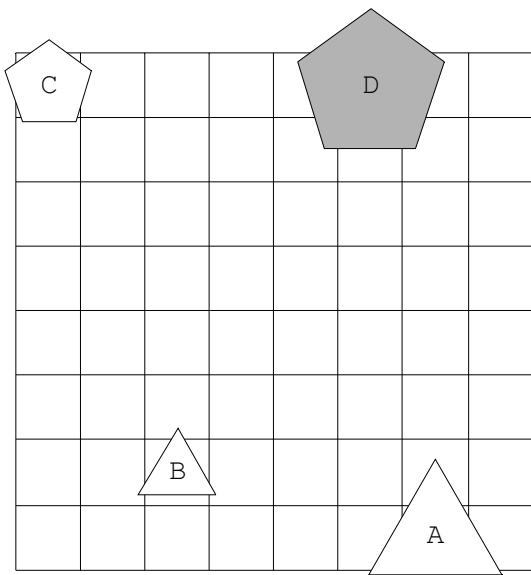
12.



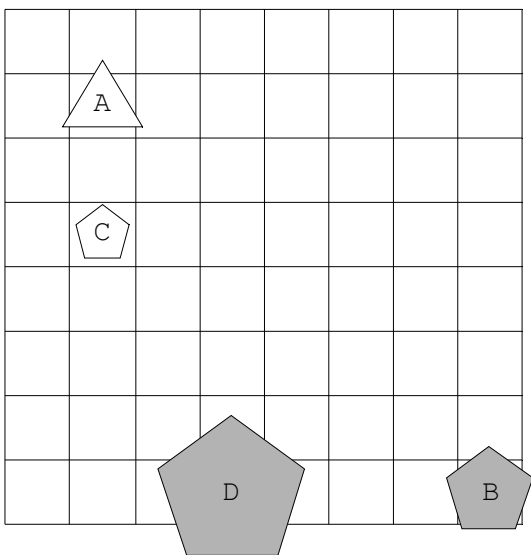
13.



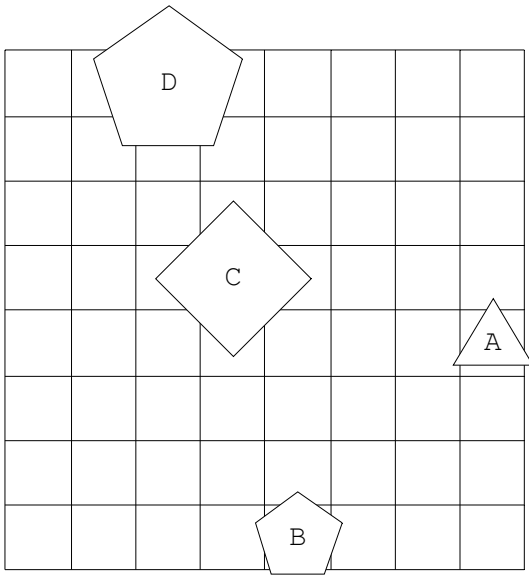
14.



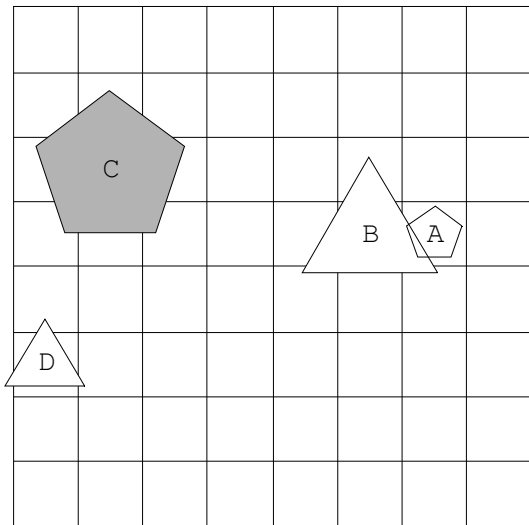
15.



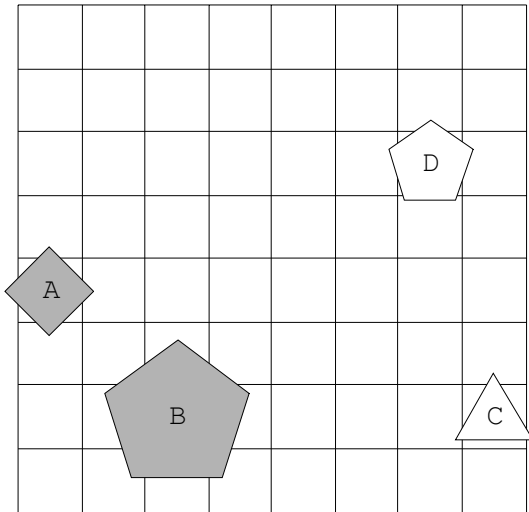
16.



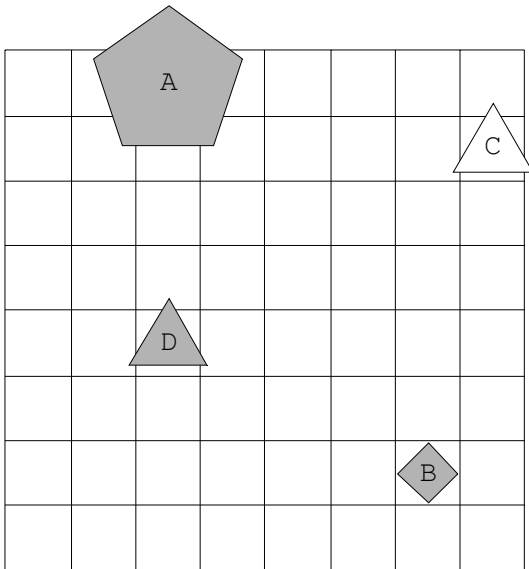
17.



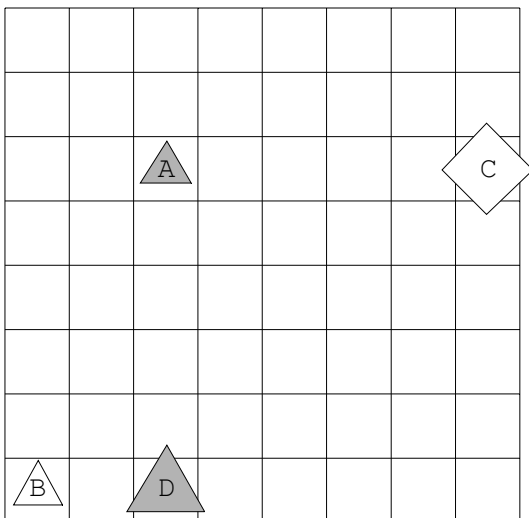
18.



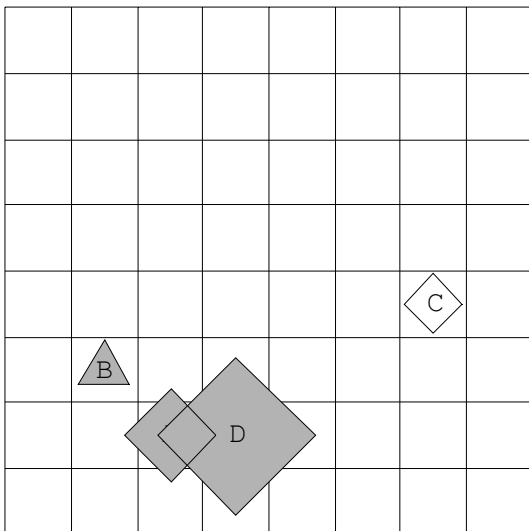
19.



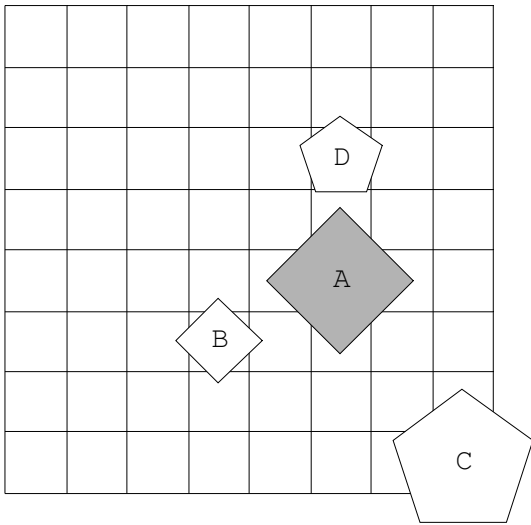
20.



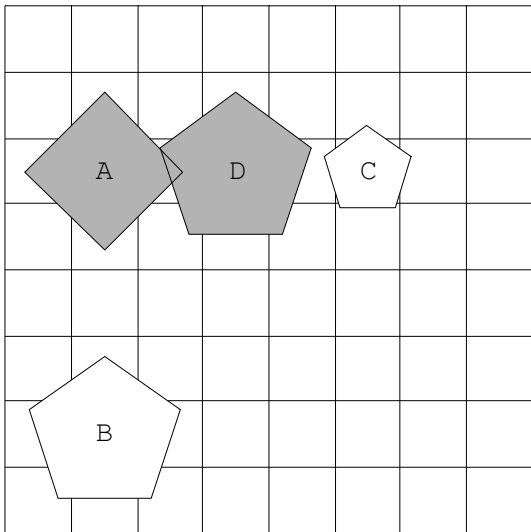
21.



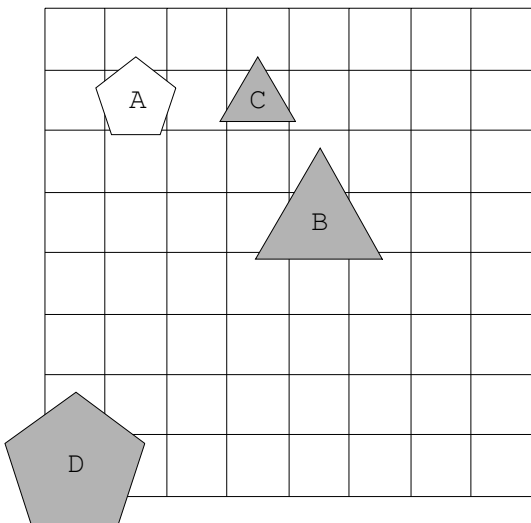
22.



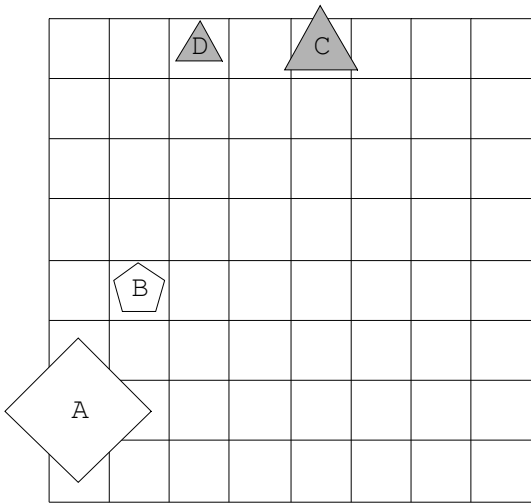
23.



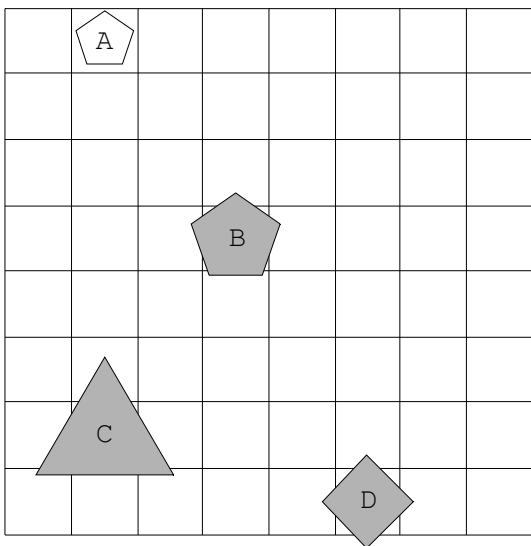
24.



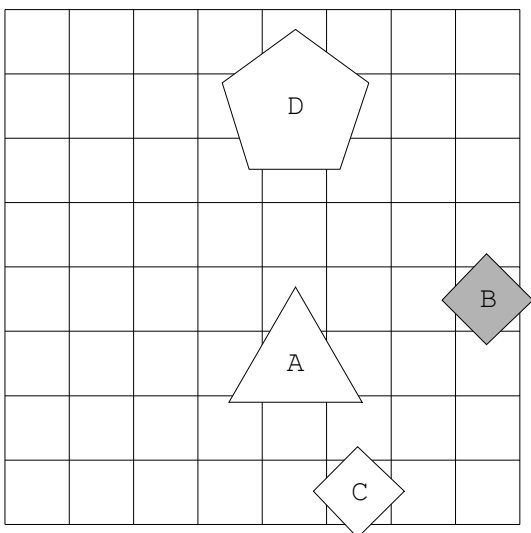
25.



26.

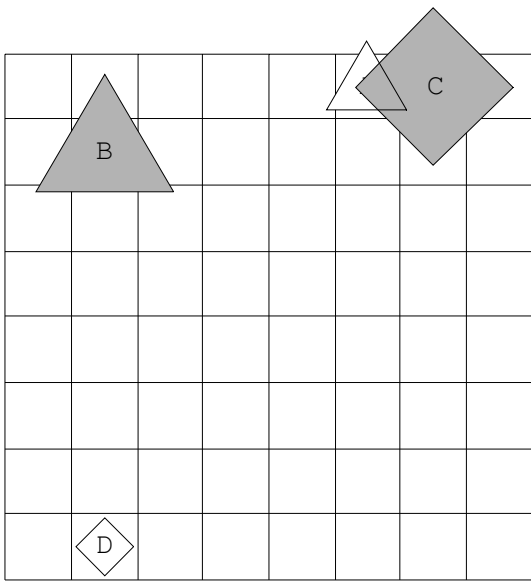


27.

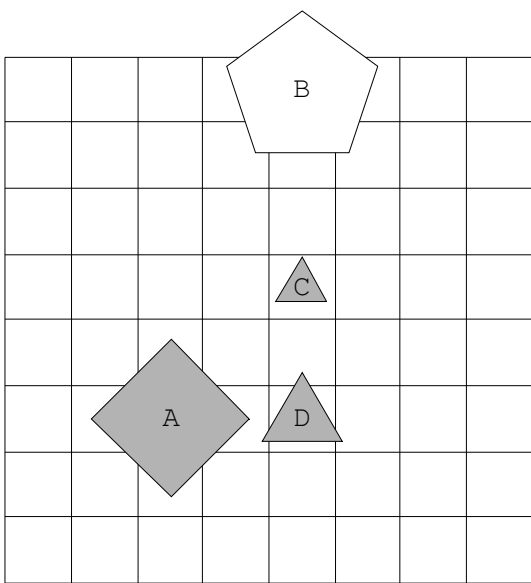




28.



29.



30.

