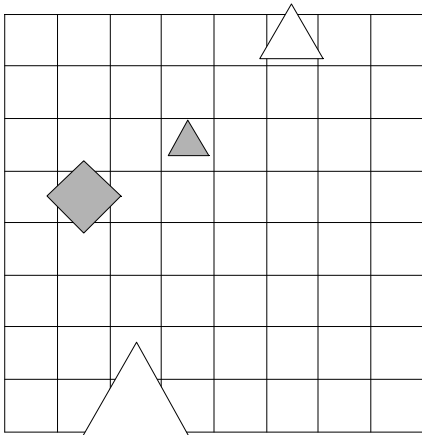


1. Ugotovi imena likov, če poznaš vrednosti stavkov v danem svetu, ki so podane v spodnji tabeli.

1. Lik B je petkotnik in lik D ni bel.
2. Lik D je siv in lik C je majhen.
3. Lik D ni velik ali lik A je kvadrat.
4. Lik C ni majhen, če in samo če lik A je majhen.

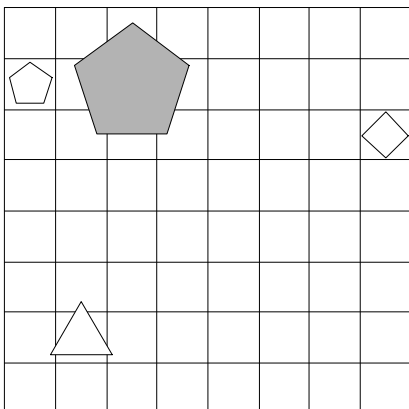
1	2	3	4
N	N	N	N



2. Ugotovi imena likov, če poznaš vrednosti stavkov v danem svetu, ki so podane v spodnji tabeli.

1. Če lik C je velik, potem lik A ni majhen.
2. Lik B ni petkotnik, če in samo če lik C je siv.
3. Ali lik C ni siv ali lik A je srednje velikosti.
4. Lik B ni majhen ali lik C je bel.

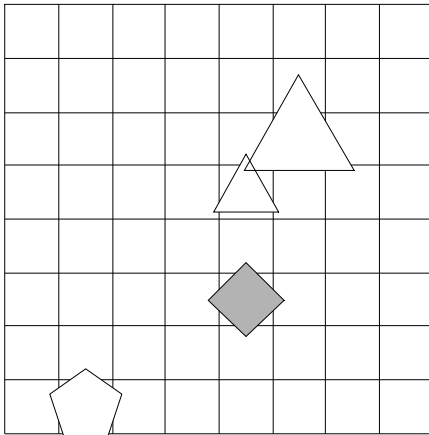
1	2	3	4
N	R	N	N



3. Ugotovi imena likov, če poznaš vrednosti stavkov v danem svetu, ki so podane v spodnji tabeli.

1. Če lik B je bel, potem lik B ni petkotnik.
2. Lik C ni velik ali lik D ni kvadrat.
3. Ali lik C ni kvadrat ali lik C ni srednje velikosti.
4. Ali lik C je petkotnik ali lik C ni siv.

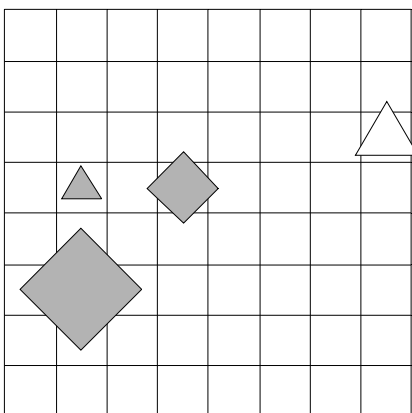
1	2	3	4
R	N	N	R



4. Ugotovi imena likov, če poznaš vrednosti stavkov v danem svetu, ki so podane v spodnji tabeli.

1. Ali lik D ni kvadrat ali lik B ni kvadrat.
2. Lik C ni siv ali lik C je bel.
3. Če lik D ni srednje velikosti, potem lik B je petkotnik.
4. Lik C je srednje velikosti ali lik C ni kvadrat.

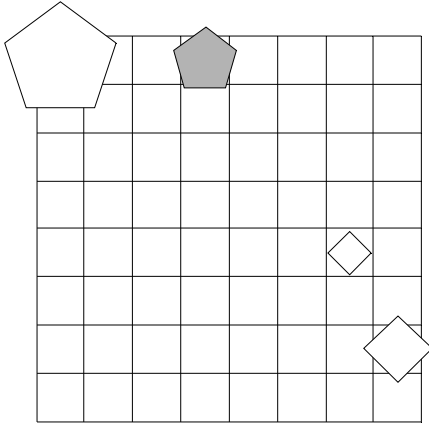
1	2	3	4
R	R	R	R



5. Ugotovi imena likov, če poznaš vrednosti stavkov v danem svetu, ki so podane v spodnji tabeli.

1. Lik B je bel in lik B je srednje velikosti.
2. Lik B je srednje velikosti ali lik B je srednje velikosti.
3. Ali lik B ni velik ali lik D je velik.
4. Lik A ni majhen ali lik C ni siv.

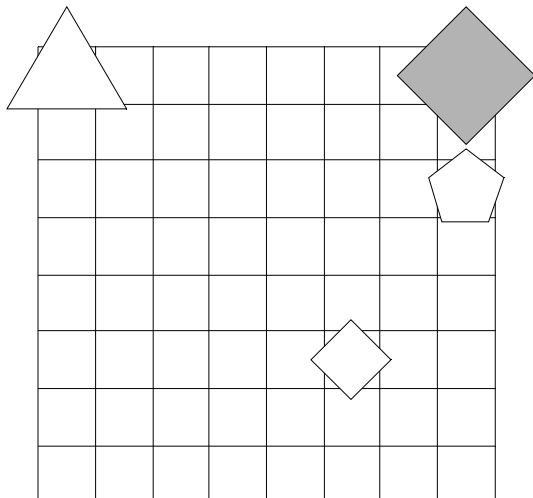
1	2	3	4
R	R	N	R



6. Ugotovi imena likov, če poznaš vrednosti stavkov v danem svetu, ki so podane v spodnji tabeli.

1. Lik C ni bel, če in samo če lik A ni srednje velikosti.
2. Lik C ni siv ali lik B ni petkotnik.
3. Če lik C je velik, potem lik D ni velik.
4. Ali lik B ni majhen ali lik B ni petkotnik.

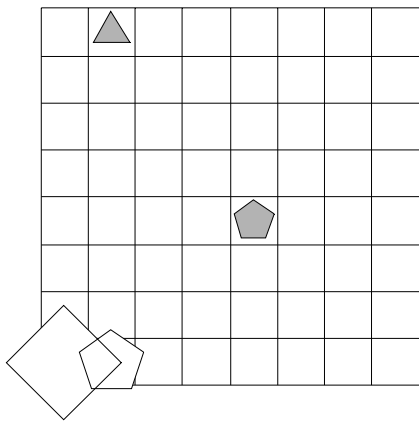
1	2	3	4
N	N	N	R



7. Ugotovi imena likov, če poznaš vrednosti stavkov v danem svetu, ki so podane v spodnji tabeli.

1. Če lik D ni bel, potem lik A je siv.
2. Če lik B ni kvadrat, potem lik A ni petkotnik.
3. Če lik A ni majhen, potem lik A je petkotnik.
4. Lik D ni trikotnik in lik A ni majhen.

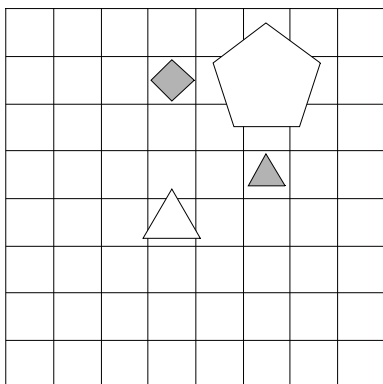
1	2	3	4
N	N	R	R



8. Ugotovi imena likov, če poznaš vrednosti stavkov v danem svetu, ki so podane v spodnji tabeli.

1. Ali lik B ni velik ali lik B ni kvadrat.
2. Lik B ni kvadrat, če in samo če lik A ni majhen.
3. Če lik B je petkotnik, potem lik A ni velik.
4. Lik A ni trikotnik, če in samo če lik D je srednje velikosti.

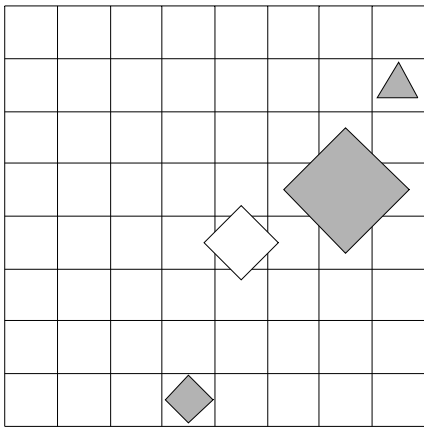
1	2	3	4
R	R	R	N



9. Ugotovi imena likov, če poznaš vrednosti stavkov v danem svetu, ki so podane v spodnji tabeli.

1. Lik C je srednje velikosti ali lik A ni petkotnik.
2. Če lik B je bel, potem lik A je majhen.
3. Če lik D je siv, potem lik D ni majhen.
4. Lik C ni kvadrat ali lik A je trikotnik.

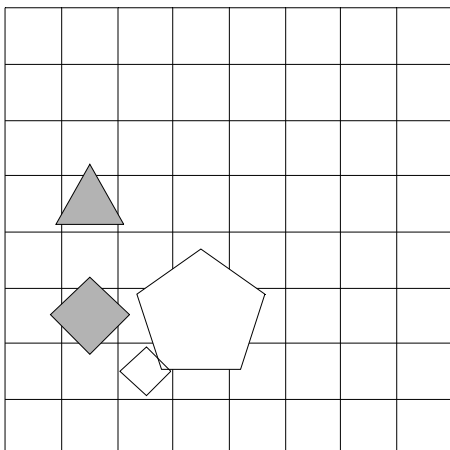
1	2	3	4
R	N	N	N



10. Ugotovi imena likov, če poznaš vrednosti stavkov v danem svetu, ki so podane v spodnji tabeli.

1. Ali lik C ni petkotnik ali lik C je majhen.
2. Če lik C je kvadrat, potem lik A ni kvadrat.
3. Ali lik A je bel ali lik C ni majhen.
4. Lik A je velik ali lik D je bel.

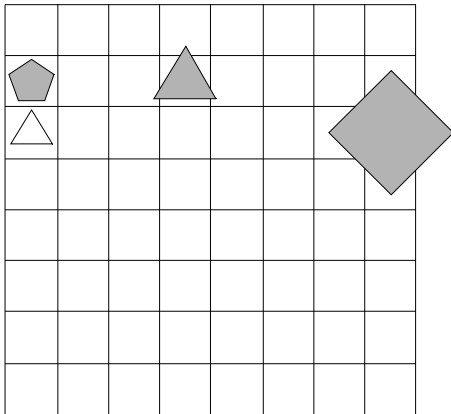
1	2	3	4
N	N	N	R



11. Ugotovi imena likov, če poznaš vrednosti stavkov v danem svetu, ki so podane v spodnji tabeli.

1. Ali lik C je trikotnik ali lik D je petkotnik.
2. Lik C je kvadrat ali lik C je kvadrat.
3. Če lik C je srednje velikosti, potem lik A ni kvadrat.
4. Lik C ni petkotnik in lik D ni majhen.

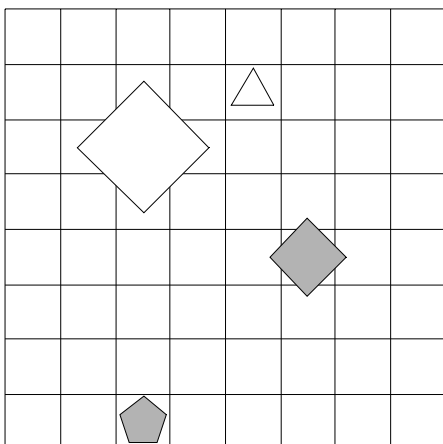
1	2	3	4
N	N	N	N



12. Ugotovi imena likov, če poznaš vrednosti stavkov v danem svetu, ki so podane v spodnji tabeli.

1. Ali lik B ni velik ali lik D je trikotnik.
2. Ali lik B je kvadrat ali lik C je trikotnik.
3. Če lik D je siv, potem lik C ni trikotnik.
4. Lik C ni trikotnik, če in samo če lik B je petkotnik.

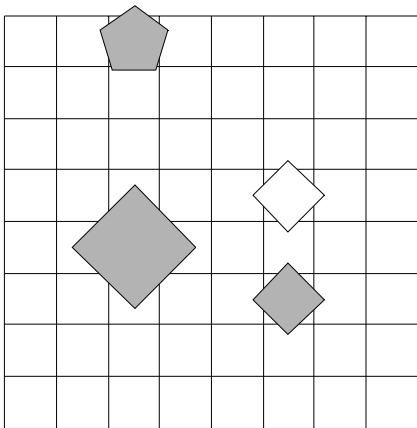
1	2	3	4
R	R	N	N



13. Ugotovi imena likov, če poznaš vrednosti stavkov v danem svetu, ki so podane v spodnji tabeli.

1. Lik B je petkotnik, če in samo če lik D ni majhen.
2. Če lik D ni srednje velikosti, potem lik B ni srednje velikosti.
3. Ali lik D ni trikotnik ali lik A je majhen.
4. Če lik A je siv, potem lik A je petkotnik.

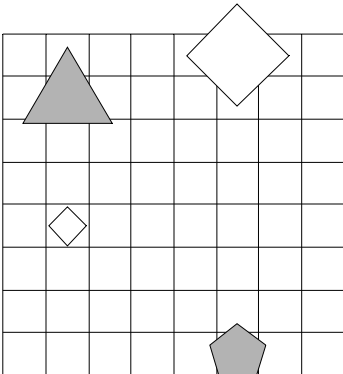
1	2	3	4
R	N	R	N



14. Ugotovi imena likov, če poznaš vrednosti stavkov v danem svetu, ki so podane v spodnji tabeli.

1. Lik C je majhen, če in samo če lik A ni kvadrat.
2. Lik B ni majhen, če in samo če lik A je bel.
3. Če lik B je siv, potem lik B je velik.
4. Lik C ni bel ali lik D ni srednje velikosti.

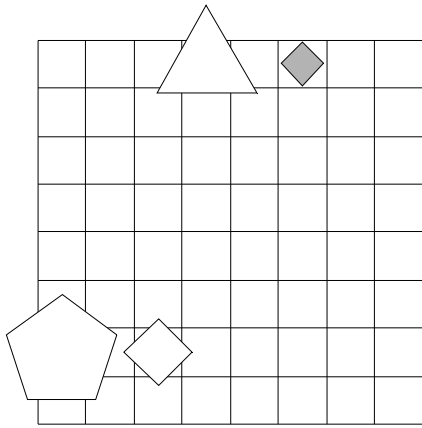
1	2	3	4
N	N	N	R



15. Ugotovi imena likov, če poznaš vrednosti stavkov v danem svetu, ki so podane v spodnji tabeli.

1. Ali lik C je siv ali lik A je petkotnik.
2. Lik C je bel ali lik B ni kvadrat.
3. Lik C ni siv, če in samo če lik B ni kvadrat.
4. Lik D ni siv, če in samo če lik D je kvadrat.

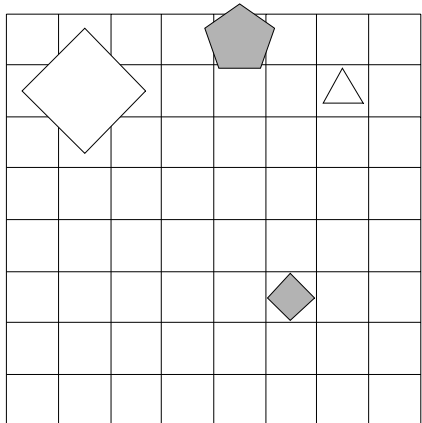
1	2	3	4
R	N	R	N



16. Ugotovi imena likov, če poznaš vrednosti stavkov v danem svetu, ki so podane v spodnji tabeli.

1. Lik B je trikotnik in lik A je velik.
2. Lik C je kvadrat ali lik B je siv.
3. Ali lik B ni bel ali lik A je siv.
4. Ali lik A je bel ali lik C ni siv.

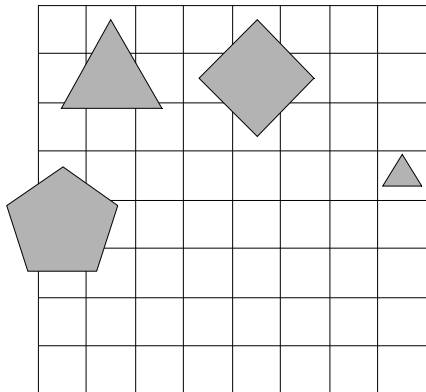
1	2	3	4
N	N	N	R



17. Ugotovi imena likov, če poznaš vrednosti stavkov v danem svetu, ki so podane v spodnji tabeli.

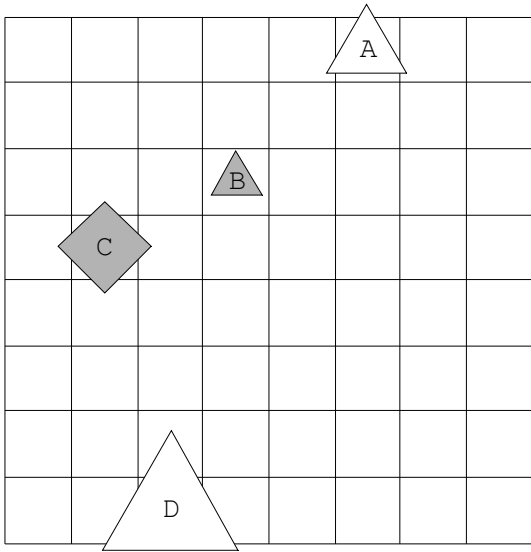
1. Lik D ni petkotnik in lik B je siv.
2. Lik C ni bel, če in samo če lik C je velik.
3. Lik C ni velik, če in samo če lik B je trikotnik.
4. Lik D ni petkotnik ali lik B ni srednje velikosti.

1	2	3	4
N	R	R	R

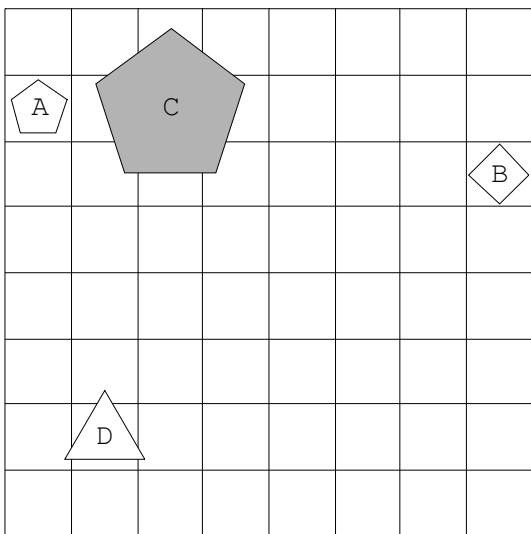


Rešitve

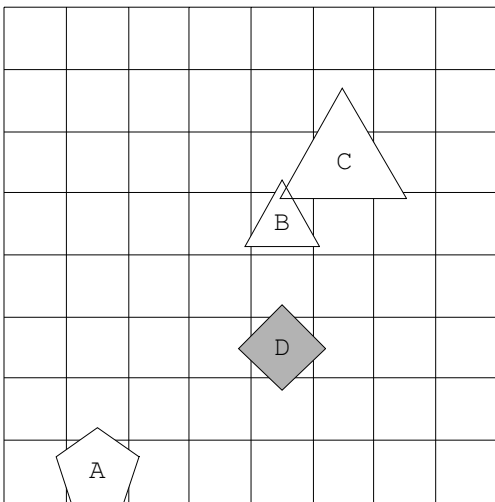
1.



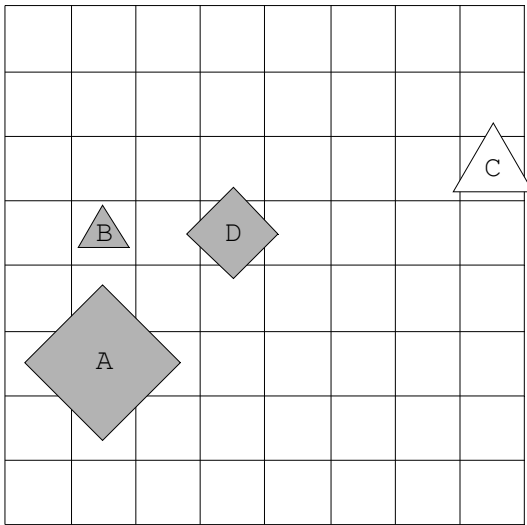
2.



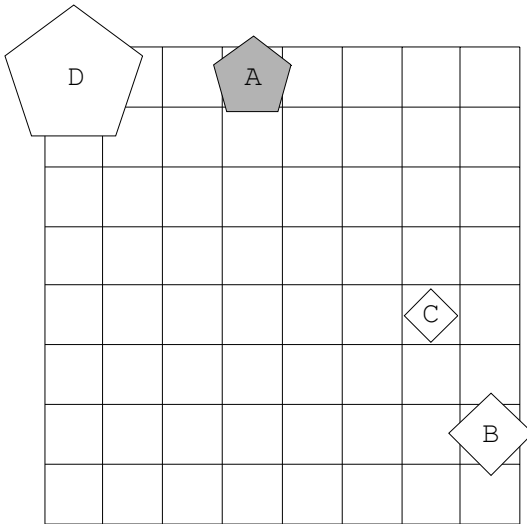
3.



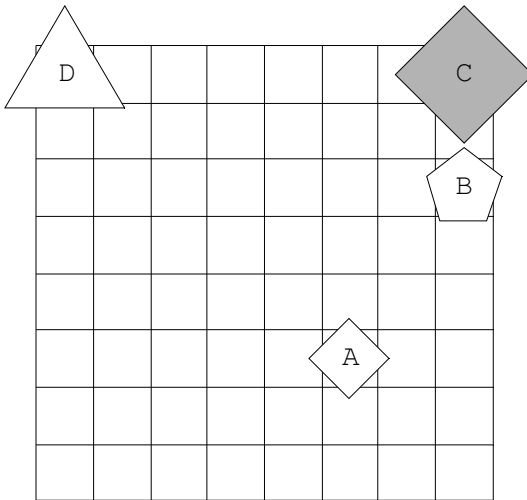
4.



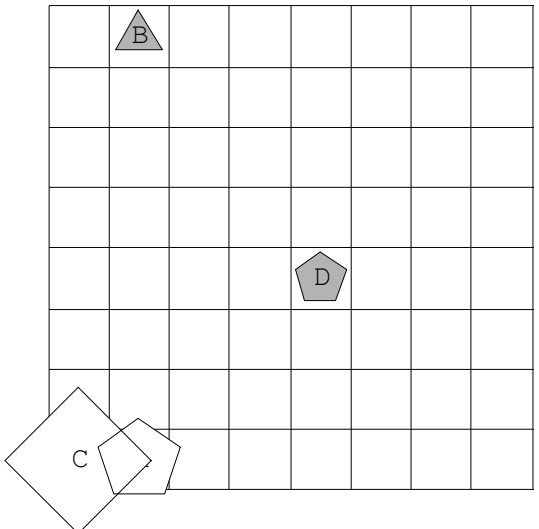
5.



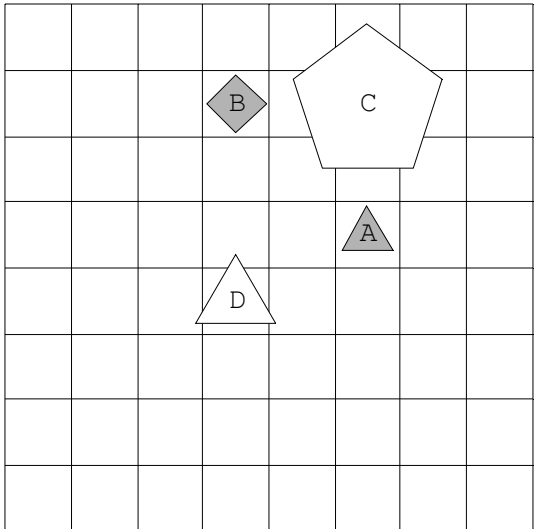
6.



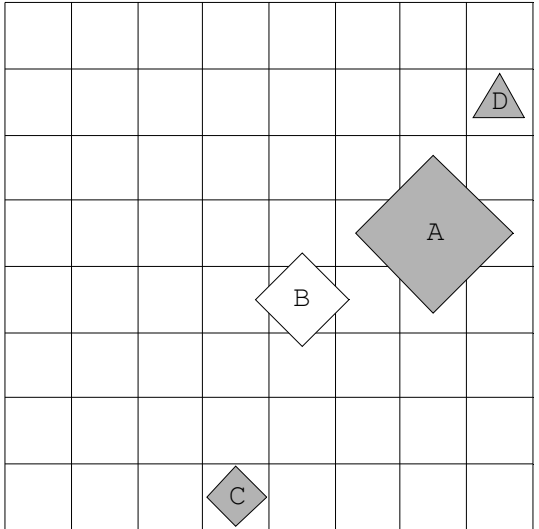
7.



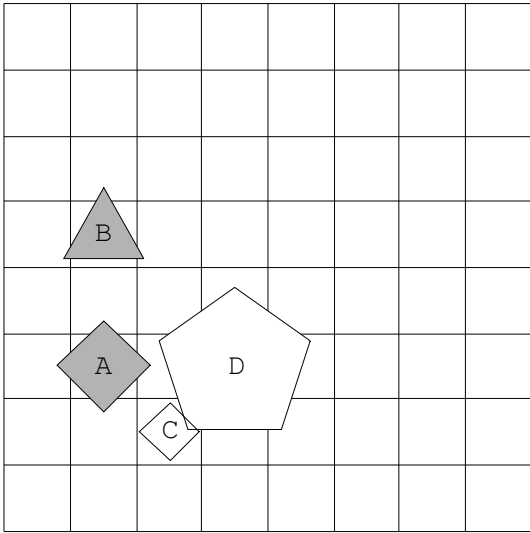
8.



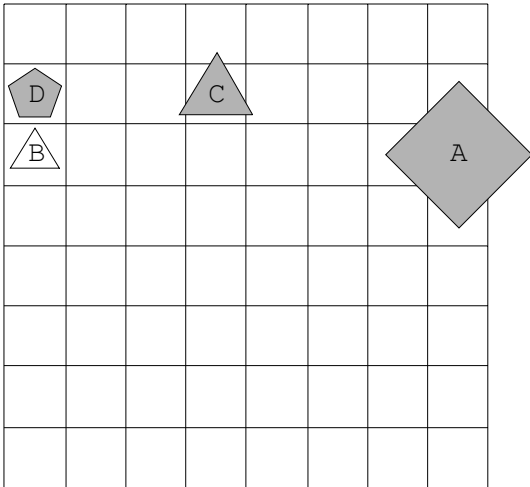
9.



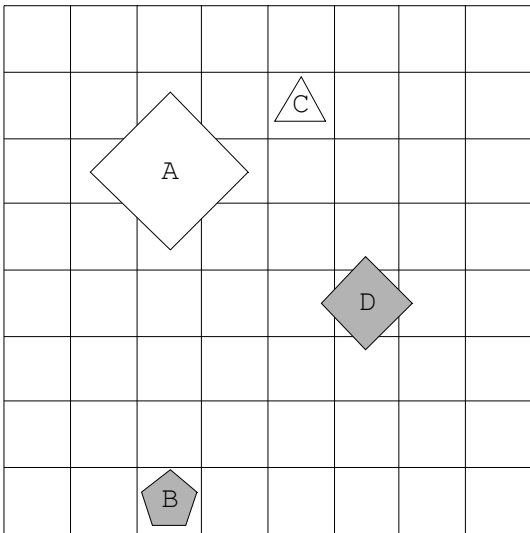
10.



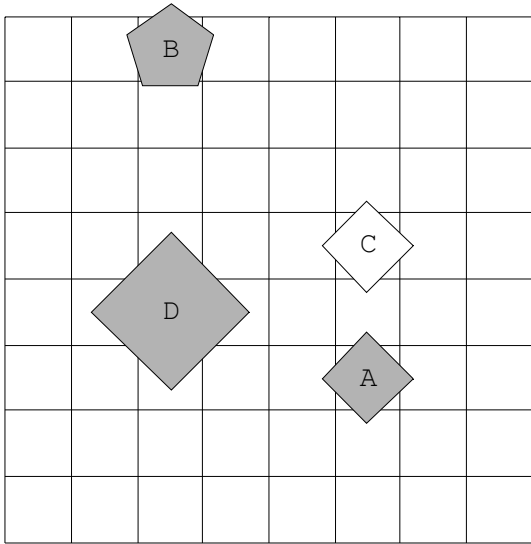
11.



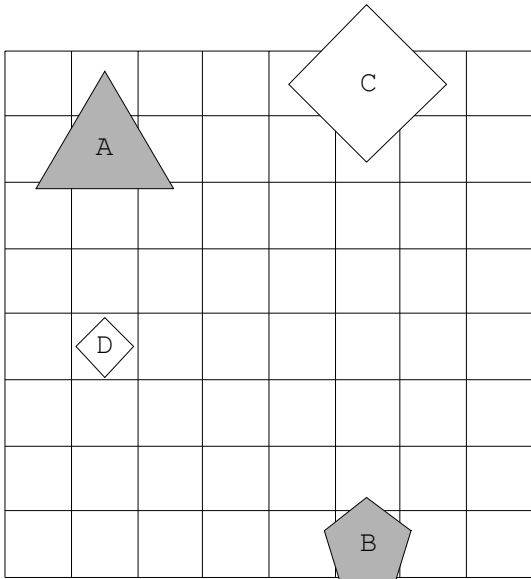
12.



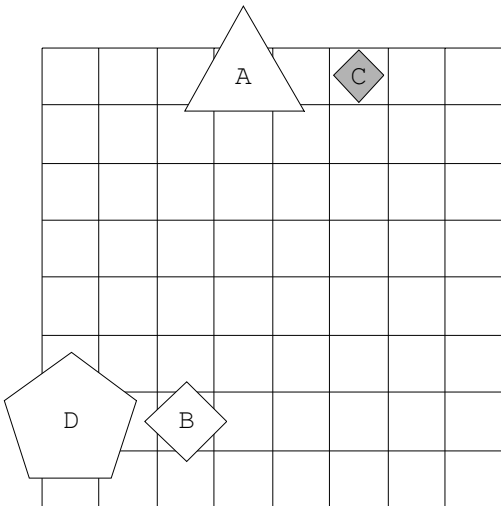
13.



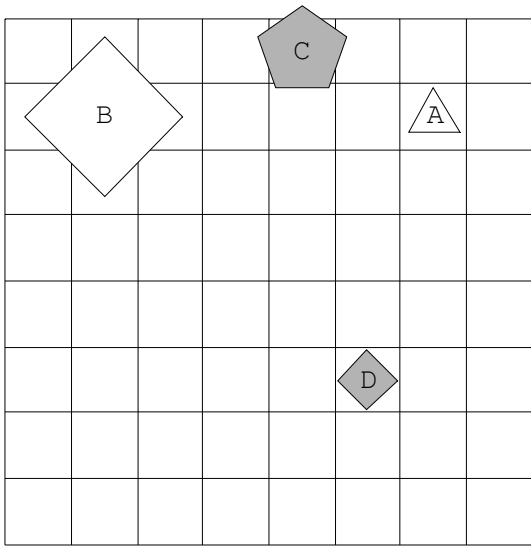
14.



15.



16.



17.

