

1. Ugotovi imena likov, če poznaš vrednosti stavkov v danem svetu, ki so podane v spodnji tabeli.

1. Če lik A je srednje velikosti, potem lik B je siv.

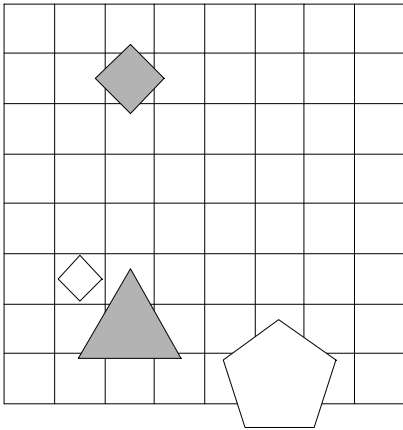
2. Lik A ni trikotnik in lik A ni kvadrat.

3. Lik D ni velik ali lik C je velik.

4. Lik A je pod C in lik A je manjši kot D.

5. Ali je lik B nad C ali je lik B večji kot C.

1	2	3	4	5
R	N	R	N	N



2. Ugotovi imena likov, če poznaš vrednosti stavkov v danem svetu, ki so podane v spodnji tabeli.

1. Ali lik D ni petkotnik ali lik D ni petkotnik.

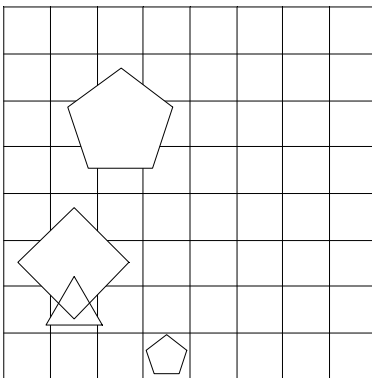
2. Če lik A ni srednje velikosti, potem lik D ni kvadrat.

3. Lik A je velik in lik B ni velik.

4. Lik B je večji kot D, če in samo če je lik B nad D.

5. Ali je lik C levo od D ali je lik B večji kot D.

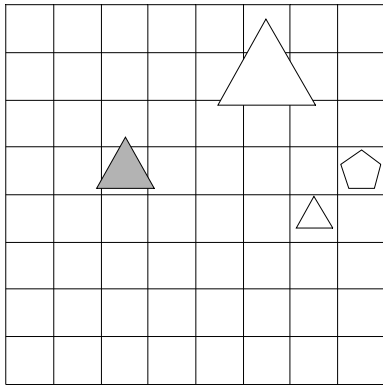
1	2	3	4	5
N	R	N	N	N



3. Ugotovi imena likov, če poznaš vrednosti stavkov v danem svetu, ki so podane v spodnji tabeli.

1. Če lik C ni trikotnik, potem lik D je kvadrat.
2. Če lik B ni majhen, potem lik D ni trikotnik.
3. Če lik C ni trikotnik, potem lik D ni velik.
4. Lik A je levo od C ali je lik B nad C.
5. Ali je lik C pod D ali je lik C večji kot D.

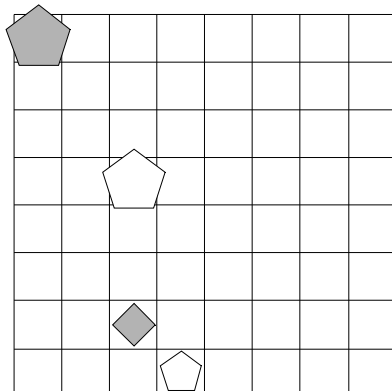
1	2	3	4	5
N	R	R	R	N



4. Ugotovi imena likov, če poznaš vrednosti stavkov v danem svetu, ki so podane v spodnji tabeli.

1. Lik A je srednje velikosti in lik C je velik.
2. Lik B ni velik in lik D je siv.
3. Lik D je petkotnik, če in samo če lik A je petkotnik.
4. Lik A je pod B ali je lik A desno od D.
5. Ali je lik A nad C ali je lik B desno od C.

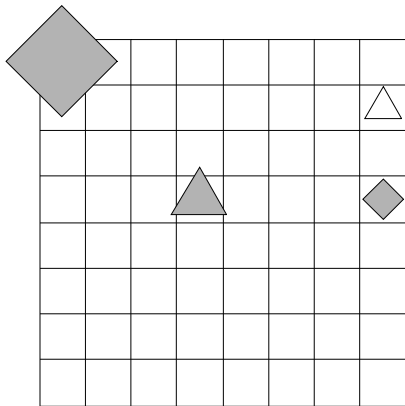
1	2	3	4	5
N	R	N	R	N



5. Ugotovi imena likov, če poznaš vrednosti stavkov v danem svetu, ki so podane v spodnji tabeli.

1. Lik D ni siv ali lik B je petkotnik.
2. Ali lik D ni trikotnik ali lik A je srednje velikosti.
3. Lik A je majhen in lik A je siv.
4. Lik C je levo od D ali je lik A levo od C.
5. Lik B je manjši kot D, če in samo če je lik A desno od C.

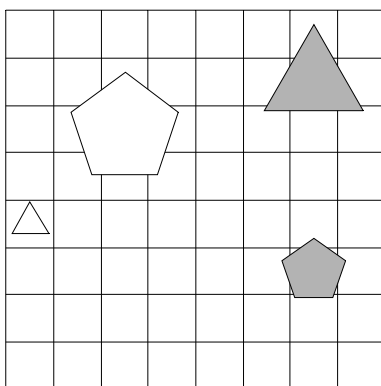
1	2	3	4	5
N	R	R	N	N



6. Ugotovi imena likov, če poznaš vrednosti stavkov v danem svetu, ki so podane v spodnji tabeli.

1. Lik D je majhen in lik C ni velik.
2. Lik A je petkotnik in lik D ni majhen.
3. Ali lik D ni majhen ali lik C je petkotnik.
4. Lik A je pod D ali je lik C večji kot D.
5. Lik A je manjši kot B ali je lik B večji kot D.

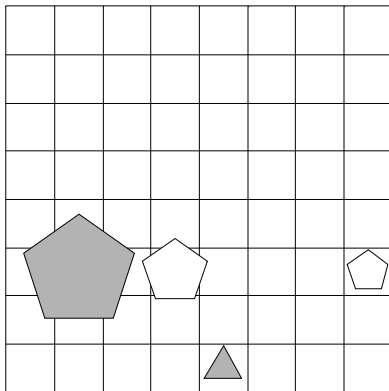
1	2	3	4	5
N	N	N	R	N



7. Ugotovi imena likov, če poznaš vrednosti stavkov v danem svetu, ki so podane v spodnji tabeli.

1. Lik D ni trikotnik, če in samo če lik B je petkotnik.
2. Lik C je velik ali lik C ni siv.
3. Ali lik D je velik ali lik A je bel.
4. Lik A je večji kot D, če in samo če je lik A levo od C.
5. Lik B je pod D in lik B je nad C.

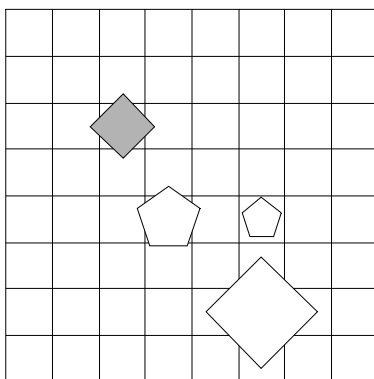
1	2	3	4	5
R	R	N	N	N



8. Ugotovi imena likov, če poznaš vrednosti stavkov v danem svetu, ki so podane v spodnji tabeli.

1. Lik D ni petkotnik, če in samo če lik B je velik.
2. Ali lik D ni velik ali lik D ni bel.
3. Ali lik C ni velik ali lik C je kvadrat.
4. Ali je lik B desno od D ali je lik A nad B.
5. Če je lik A levo od C, potem je lik A desno od C.

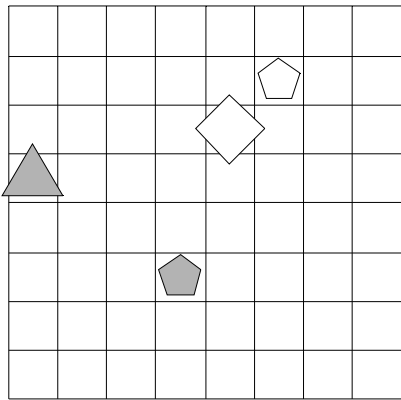
1	2	3	4	5
R	R	N	R	R



9. Ugotovi imena likov, če poznaš vrednosti stavkov v danem svetu, ki so podane v spodnji tabeli.

1. Ali lik B je kvadrat ali lik D ni srednje velikosti.
2. Ali lik A ni trikotnik ali lik D je trikotnik.
3. Lik C je siv in lik A je siv.
4. Če je lik A pod B, potem je lik B pod D.
5. Lik A je desno od C in lik B je levo od D.

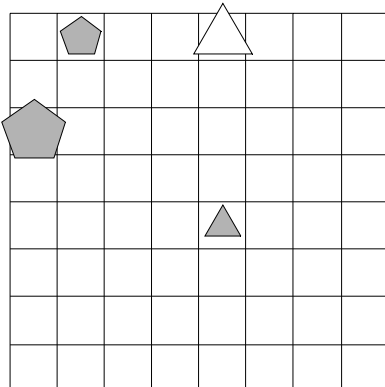
1	2	3	4	5
R	R	N	N	N



10. Ugotovi imena likov, če poznaš vrednosti stavkov v danem svetu, ki so podane v spodnji tabeli.

1. Lik C je petkotnik in lik C ni trikotnik.
2. Če lik C je kvadrat, potem lik B ni srednje velikosti.
3. Ali lik D ni velik ali lik A ni trikotnik.
4. Lik B je večji kot C ali je lik A manjši kot B.
5. Lik C je večji kot D, če in samo če je lik B večji kot D.

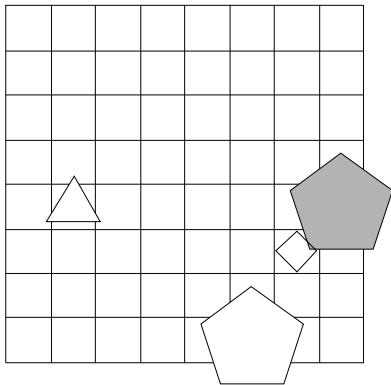
1	2	3	4	5
N	R	R	R	N



11. Ugotovi imena likov, če poznaš vrednosti stavkov v danem svetu, ki so podane v spodnji tabeli.

1. Ali lik D je trikotnik ali lik C je velik.
2. Če lik D ni kvadrat, potem lik A ni trikotnik.
3. Lik B je bel in lik B ni petkotnik.
4. Lik A je nad B ali je lik B levo od D.
5. Lik A je manjši kot B ali je lik B desno od C.

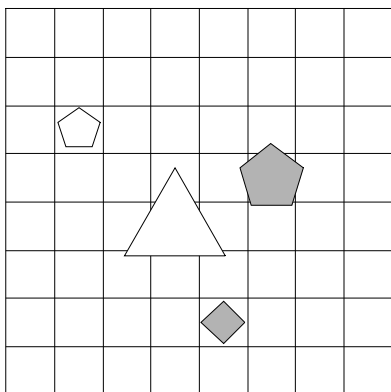
1	2	3	4	5
N	R	R	N	N



12. Ugotovi imena likov, če poznaš vrednosti stavkov v danem svetu, ki so podane v spodnji tabeli.

1. Lik C ni srednje velikosti, če in samo če lik C je siv.
2. Lik D je majhen in lik A ni srednje velikosti.
3. Lik D ni petkotnik in lik D je kvadrat.
4. Ali je lik B levo od D ali je lik A desno od B.
5. Če je lik A nad D, potem je lik A desno od B.

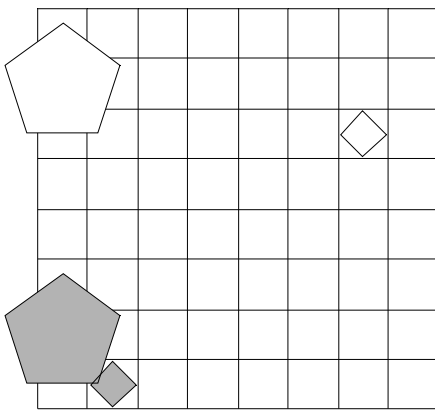
1	2	3	4	5
R	R	N	N	R



13. Ugotovi imena likov, če poznaš vrednosti stavkov v danem svetu, ki so podane v spodnji tabeli.

1. Če lik D je velik, potem lik D je kvadrat.
2. Če lik D je siv, potem lik A je srednje velikosti.
3. Ali lik A ni velik ali lik A ni velik.
4. Če je lik B manjši kot D, potem je lik A manjši kot B.
5. Ali je lik A pod D ali je lik A levo od B.

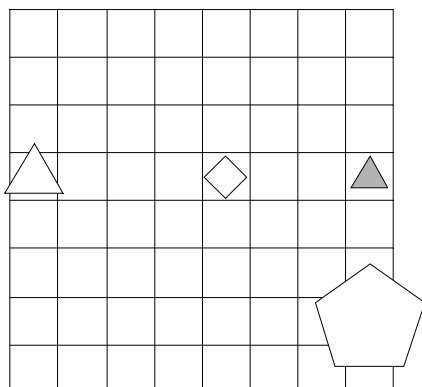
1	2	3	4	5
N	N	N	R	N



14. Ugotovi imena likov, če poznaš vrednosti stavkov v danem svetu, ki so podane v spodnji tabeli.

1. Ali lik B ni srednje velikosti ali lik C je bel.
2. Ali lik B ni majhen ali lik C ni siv.
3. Ali lik C ni petkotnik ali lik C je siv.
4. Če je lik B večji kot C, potem je lik A večji kot D.
5. Če je lik B levo od C, potem je lik A levo od C.

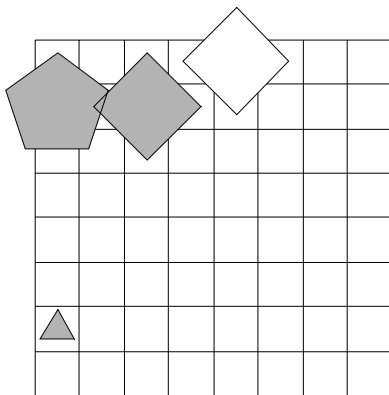
1	2	3	4	5
R	R	N	R	R



15. Ugotovi imena likov, če poznaš vrednosti stavkov v danem svetu, ki so podane v spodnji tabeli.

1. Če lik D ni srednje velikosti, potem lik C ni kvadrat.
2. Lik A ni trikotnik ali lik C ni srednje velikosti.
3. Če lik A ni bel, potem lik A ni petkotnik.
4. Lik B je večji kot D ali je lik C levo od D.
5. Ali je lik A pod B ali je lik A manjši kot B.

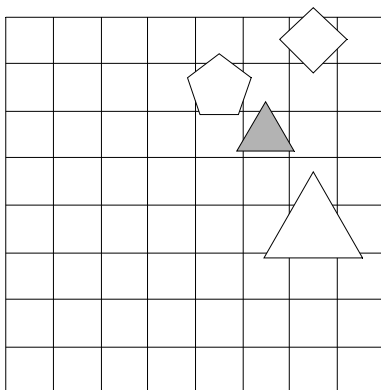
1	2	3	4	5
N	R	N	N	N



16. Ugotovi imena likov, če poznaš vrednosti stavkov v danem svetu, ki so podane v spodnji tabeli.

1. Ali lik A ni kvadrat ali lik B je siv.
2. Če lik B ni bel, potem lik B ni siv.
3. Lik D je kvadrat, če in samo če lik D je trikotnik.
4. Ali je lik B pod D ali je lik B nad D.
5. Če je lik B pod D, potem je lik A levo od C.

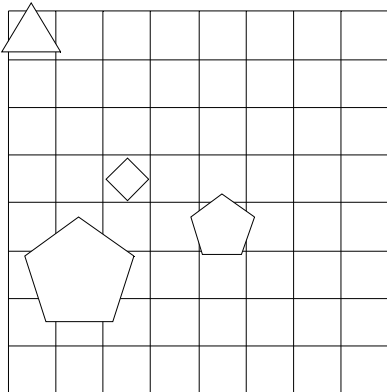
1	2	3	4	5
R	N	N	R	R



17. Ugotovi imena likov, če poznaš vrednosti stavkov v danem svetu, ki so podane v spodnji tabeli.

1. Lik A ni velik, če in samo če lik B je srednje velikosti.
2. Ali lik A ni trikotnik ali lik C ni majhen.
3. Če lik D je bel, potem lik C je srednje velikosti.
4. Lik C je večji kot D, če in samo če je lik A pod D.
5. Če je lik A manjši kot C, potem je lik A pod C.

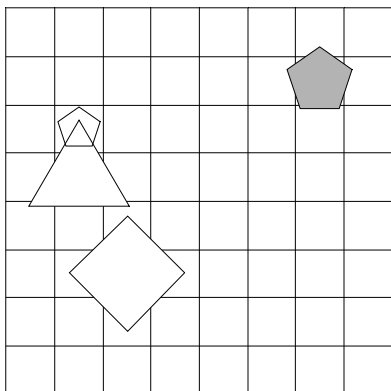
1	2	3	4	5
R	N	N	N	N



18. Ugotovi imena likov, če poznaš vrednosti stavkov v danem svetu, ki so podane v spodnji tabeli.

1. Lik B je bel in lik A je petkotnik.
2. Lik C ni siv ali lik B ni bel.
3. Lik B ni bel ali lik B ni bel.
4. Lik A je levo od D ali je lik B desno od D.
5. Lik B je manjši kot D in lik C je pod D.

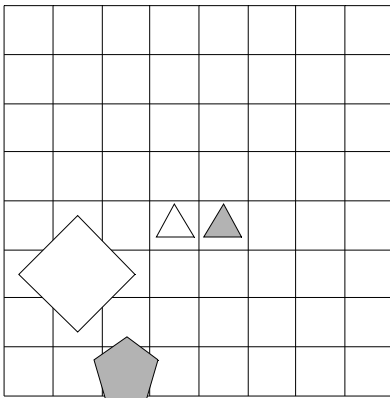
1	2	3	4	5
N	R	R	R	R



19. Ugotovi imena likov, če poznaš vrednosti stavkov v danem svetu, ki so podane v spodnji tabeli.

1. Lik B je siv in lik B ni srednje velikosti.
2. Lik C je trikotnik in lik A ni majhen.
3. Ali lik C ni srednje velikosti ali lik D ni srednje velikosti.
4. Lik B je nad D ali je lik A večji kot B.
5. Lik B je levo od D in lik A je levo od D.

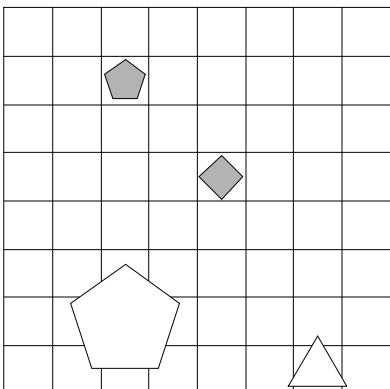
1	2	3	4	5
N	N	R	N	N



20. Ugotovi imena likov, če poznaš vrednosti stavkov v danem svetu, ki so podane v spodnji tabeli.

1. Če lik A ni velik, potem lik D ni siv.
2. Ali lik D ni trikotnik ali lik C je petkotnik.
3. Ali lik A je kvadrat ali lik A ni trikotnik.
4. Lik A je večji kot D, če in samo če je lik A pod C.
5. Če je lik A večji kot C, potem je lik B pod D.

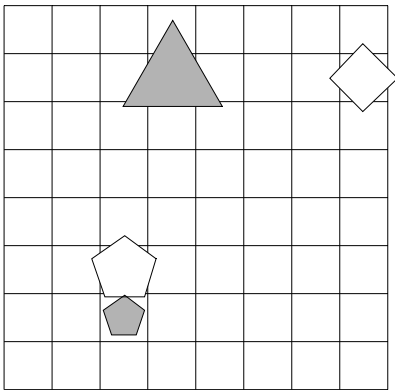
1	2	3	4	5
N	R	R	R	R



21. Ugotovi imena likov, če poznaš vrednosti stavkov v danem svetu, ki so podane v spodnji tabeli.

1. Lik C ni srednje velikosti in lik D je trikotnik.
2. Lik C je petkotnik in lik A ni majhen.
3. Lik B ni trikotnik ali lik A ni bel.
4. Če je lik B nad C, potem je lik A nad D.
5. Lik A je desno od B in lik A je desno od C.

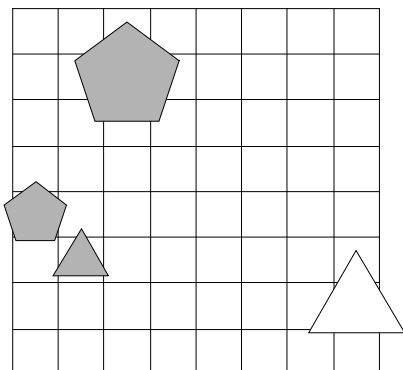
1	2	3	4	5
N	R	R	N	R



22. Ugotovi imena likov, če poznaš vrednosti stavkov v danem svetu, ki so podane v spodnji tabeli.

1. Lik A ni petkotnik ali lik C je siv.
2. Če lik C je trikotnik, potem lik A je kvadrat.
3. Ali lik A je bel ali lik C ni petkotnik.
4. Lik B je desno od D in lik A je večji kot D.
5. Ali je lik A pod B ali je lik A manjši kot D.

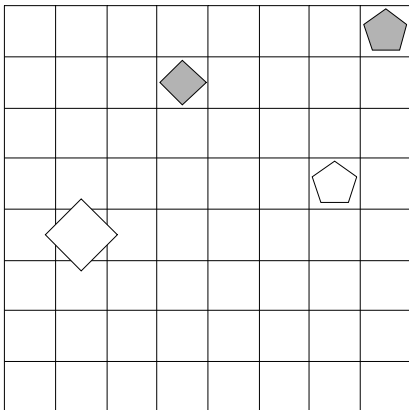
1	2	3	4	5
R	N	N	R	R



23. Ugotovi imena likov, če poznaš vrednosti stavkov v danem svetu, ki so podane v spodnji tabeli.

1. Lik C ni kvadrat, če in samo če lik D ni bel.
2. Če lik A ni petkotnik, potem lik B je velik.
3. Lik B ni velik, če in samo če lik B je siv.
4. Če je lik A pod B, potem je lik A desno od B.
5. Lik B je manjši kot C in lik C je pod D.

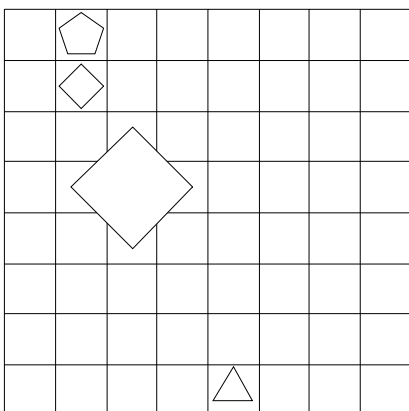
1	2	3	4	5
R	R	R	N	N



24. Ugotovi imena likov, če poznaš vrednosti stavkov v danem svetu, ki so podane v spodnji tabeli.

1. Ali lik C ni majhen ali lik B je kvadrat.
2. Lik A ni kvadrat in lik A je petkotnik.
3. Lik D je srednje velikosti in lik D je bel.
4. Lik A je desno od C ali je lik B desno od C.
5. Lik B je nad C, če in samo če je lik A nad C.

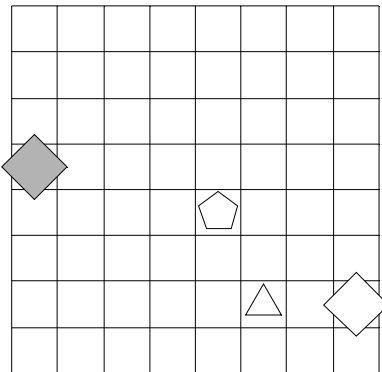
1	2	3	4	5
N	R	N	R	N



25. Ugotovi imena likov, če poznaš vrednosti stavkov v danem svetu, ki so podane v spodnji tabeli.

1. Lik C je srednje velikosti, če in samo če lik C je petkotnik.
2. Ali lik B je petkotnik ali lik B ni trikotnik.
3. Lik A ni petkotnik ali lik B ni majhen.
4. Lik A je manjši kot B in lik C je desno od D.
5. Lik C je večji kot D ali je lik A levo od C.

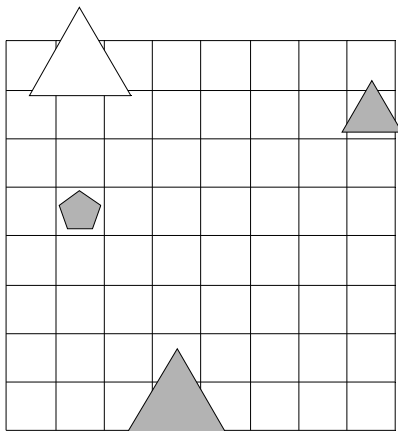
1	2	3	4	5
R	N	R	N	R



26. Ugotovi imena likov, če poznaš vrednosti stavkov v danem svetu, ki so podane v spodnji tabeli.

1. Lik B ni siv in lik D ni majhen.
2. Če lik D ni velik, potem lik D ni siv.
3. Lik C ni bel, če in samo če lik A je majhen.
4. Če je lik A manjši kot C, potem je lik B manjši kot D.
5. Lik A je desno od C in lik A je manjši kot B.

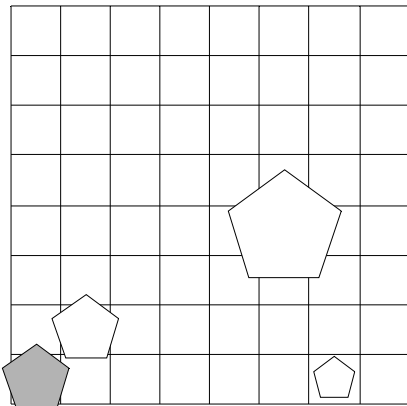
1	2	3	4	5
R	N	R	N	N



27. Ugotovi imena likov, če poznaš vrednosti stavkov v danem svetu, ki so podane v spodnji tabeli.

1. Ali lik D ni srednje velikosti ali lik A je bel.
2. Če lik B je siv, potem lik A je trikotnik.
3. Ali lik B ni majhen ali lik B je kvadrat.
4. Lik C je manjši kot D in lik C je levo od D.
5. Lik B je desno od D ali je lik A manjši kot B.

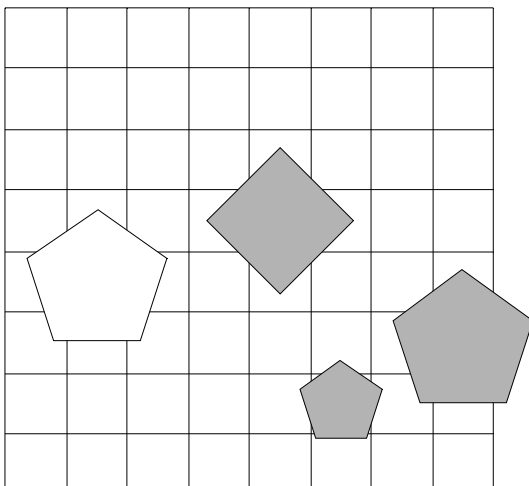
1	2	3	4	5
N	R	R	R	R



28. Ugotovi imena likov, če poznaš vrednosti stavkov v danem svetu, ki so podane v spodnji tabeli.

1. Ali lik A je majhen ali lik A ni velik.
2. Lik B je srednje velikosti ali lik A je siv.
3. Če lik C je bel, potem lik A je kvadrat.
4. Lik B je nad D in lik B je desno od C.
5. Lik A je manjši kot B in lik B je nad C.

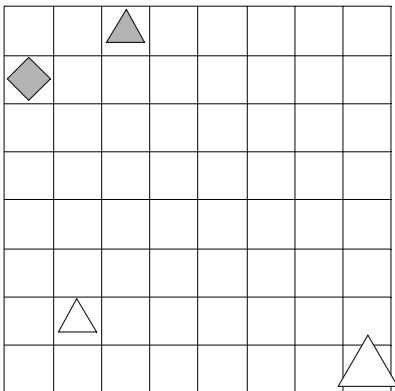
1	2	3	4	5
N	N	R	R	N



29. Ugotovi imena likov, če poznaš vrednosti stavkov v danem svetu, ki so podane v spodnji tabeli.

1. Lik D je kvadrat ali lik B ni majhen.
2. Ali lik B je bel ali lik B ni velik.
3. Lik B ni majhen in lik B je srednje velikosti.
4. Lik C je večji kot D ali je lik C manjši kot D.
5. Lik C je pod D, če in samo če je lik C pod D.

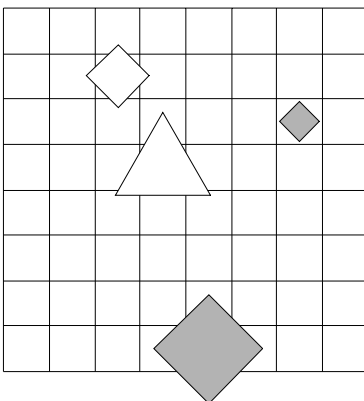
1	2	3	4	5
N	N	N	N	R



30. Ugotovi imena likov, če poznaš vrednosti stavkov v danem svetu, ki so podane v spodnji tabeli.

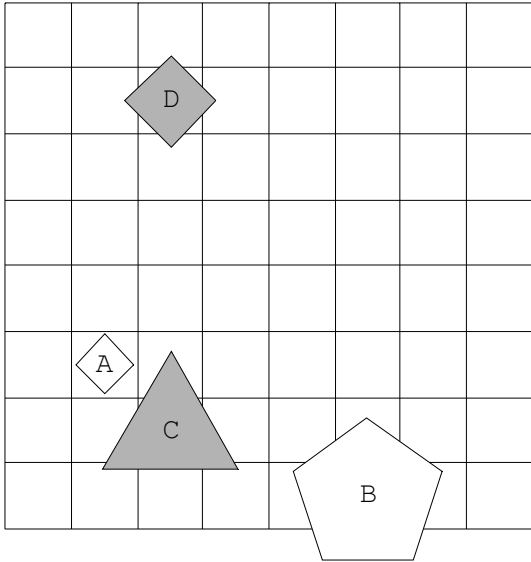
1. Lik D ni velik, če in samo če lik D ni trikotnik.
2. Če lik B je kvadrat, potem lik C je bel.
3. Če lik D ni velik, potem lik B ni trikotnik.
4. Ali je lik B desno od D ali je lik A levo od C.
5. Lik C je desno od D ali je lik A večji kot C.

1	2	3	4	5
R	R	N	R	N

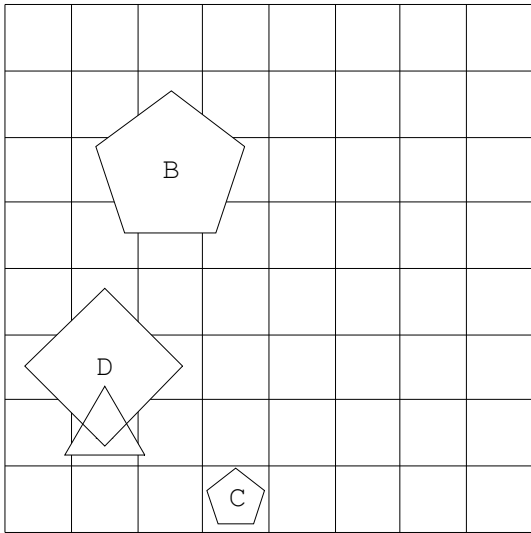


Rešitve

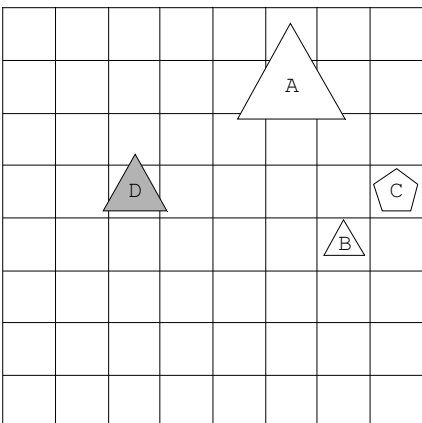
1.



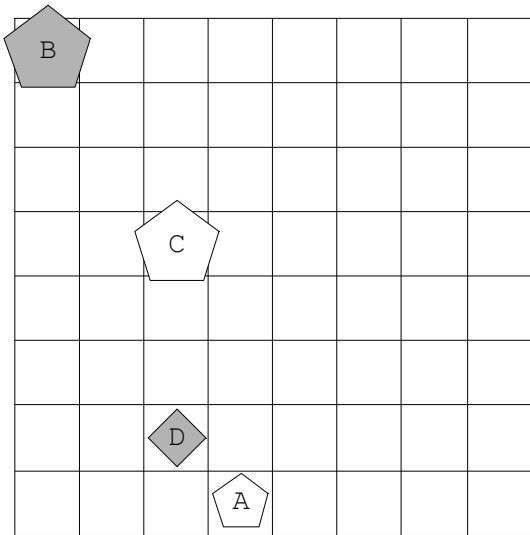
2.



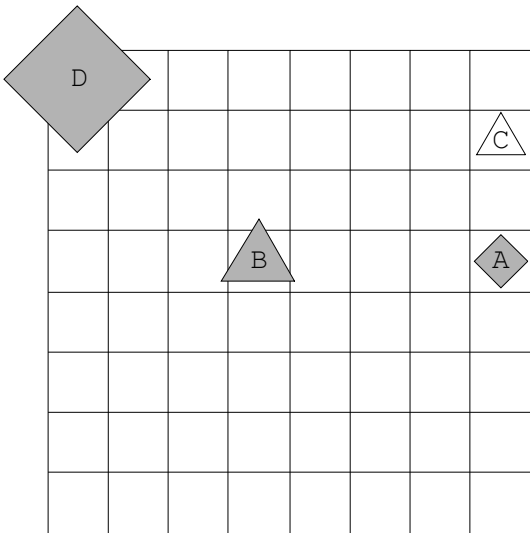
3.



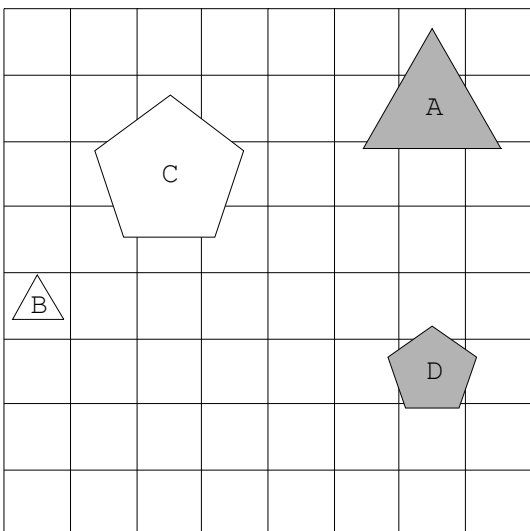
4.



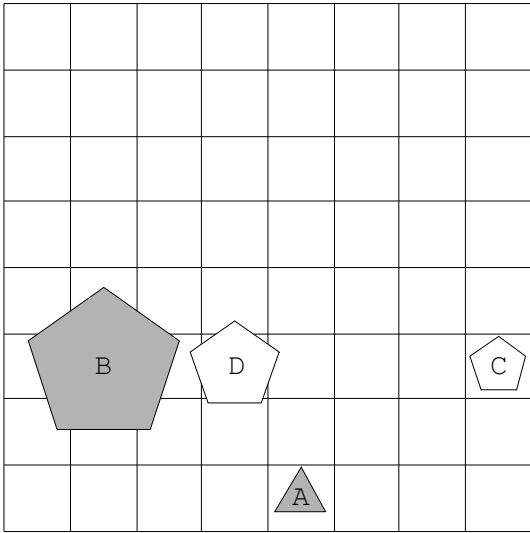
5.



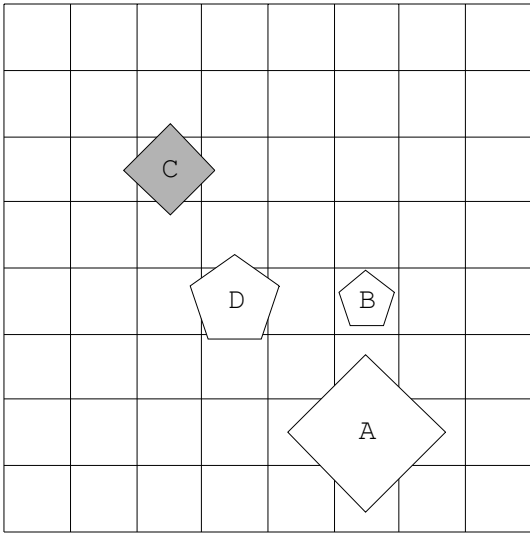
6.



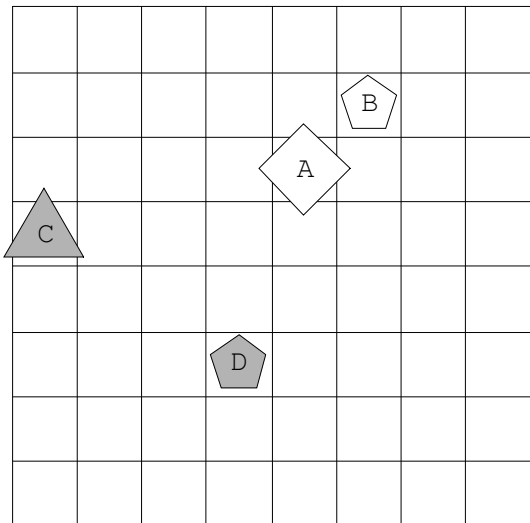
7.



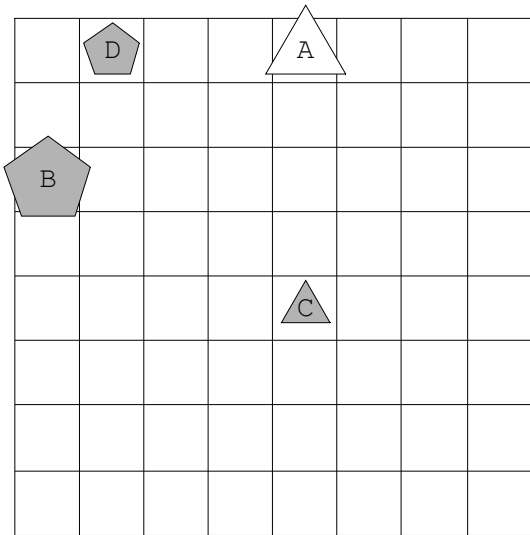
8.



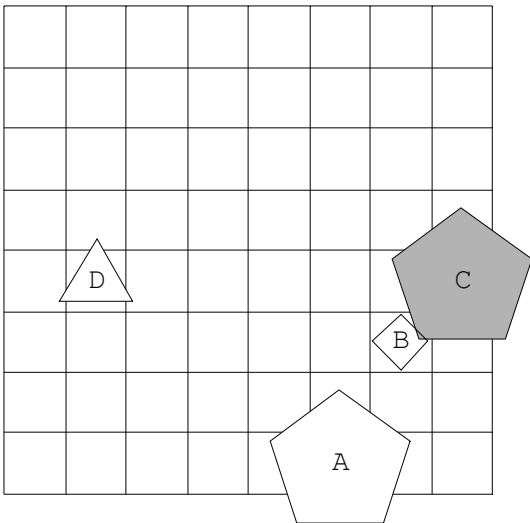
9.



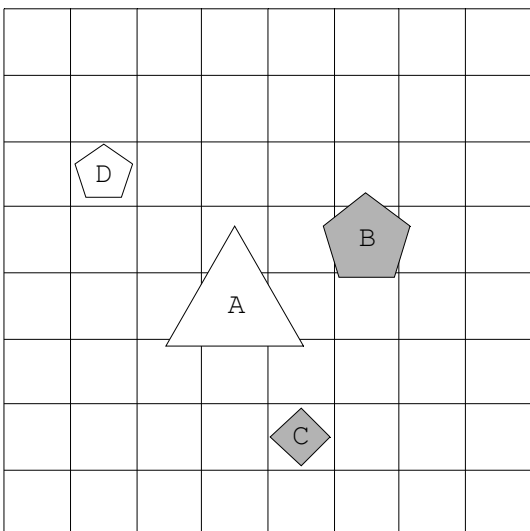
10.



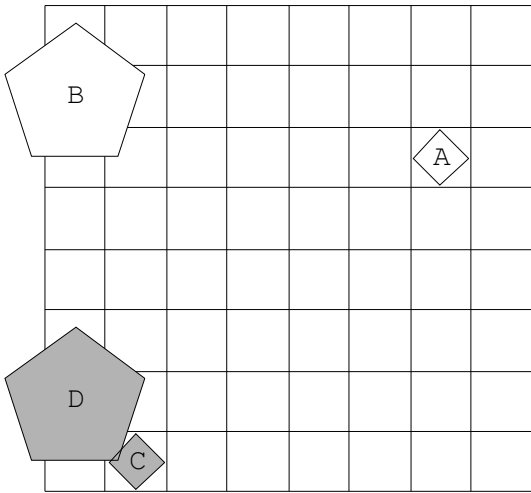
11.



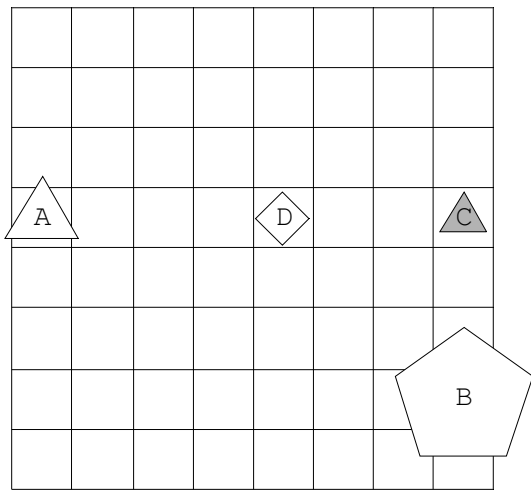
12.



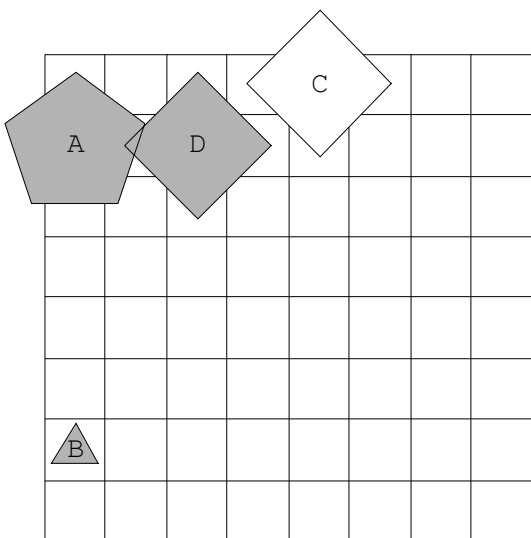
13.



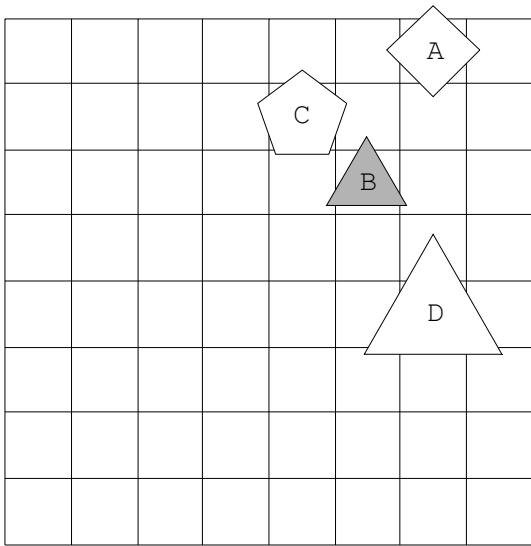
14.



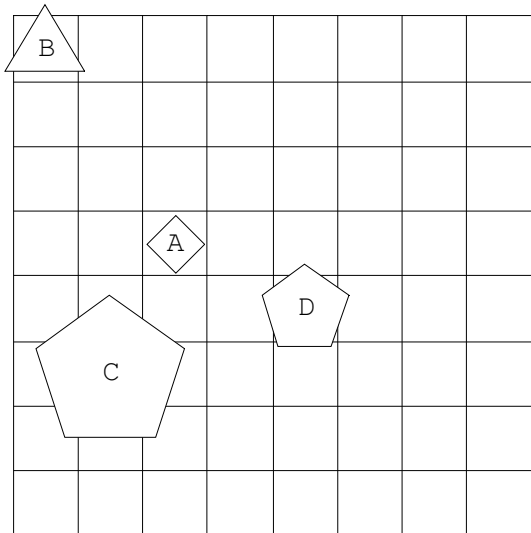
15.



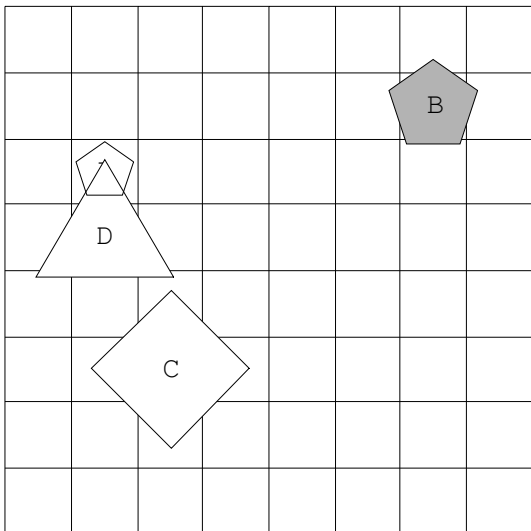
16.



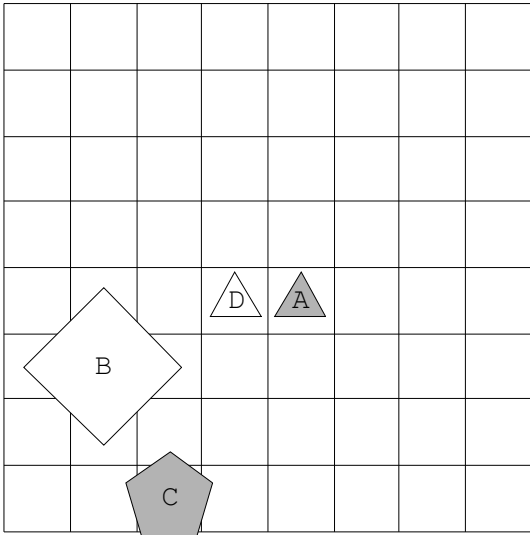
17.



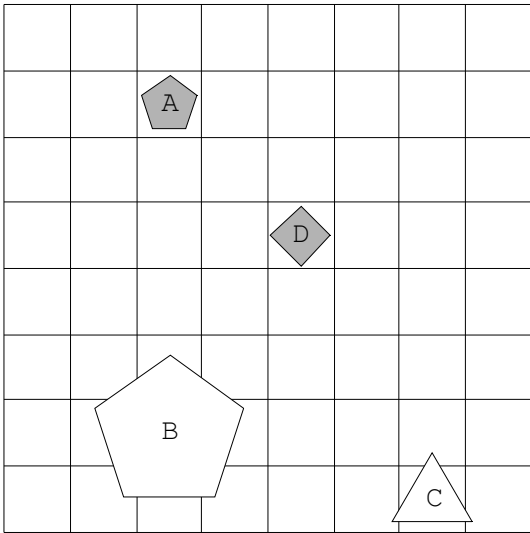
18.



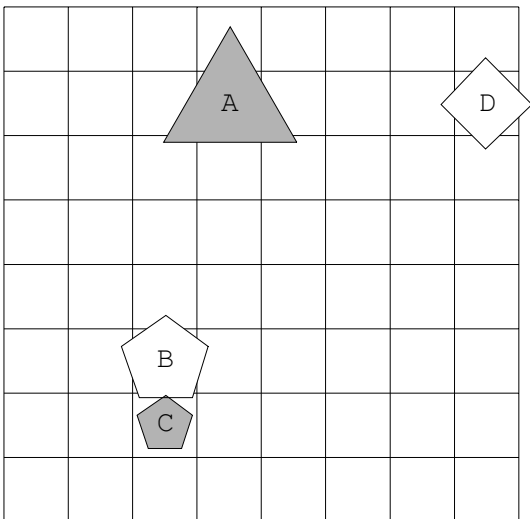
19.



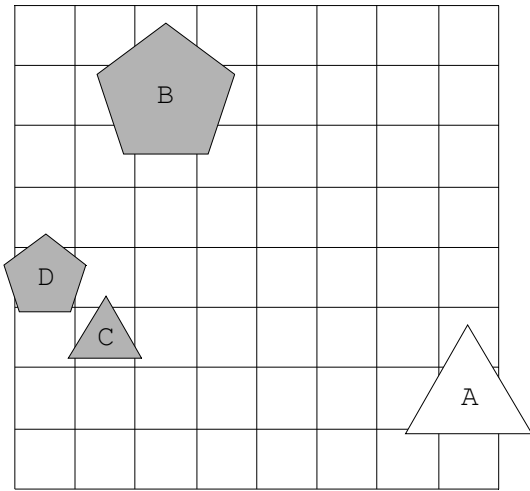
20.



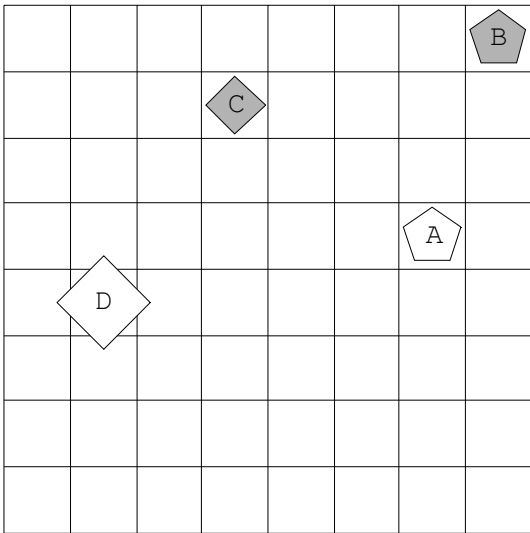
21.



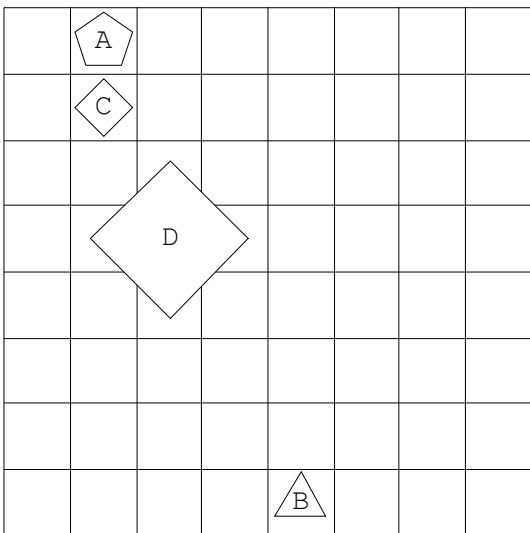
22.



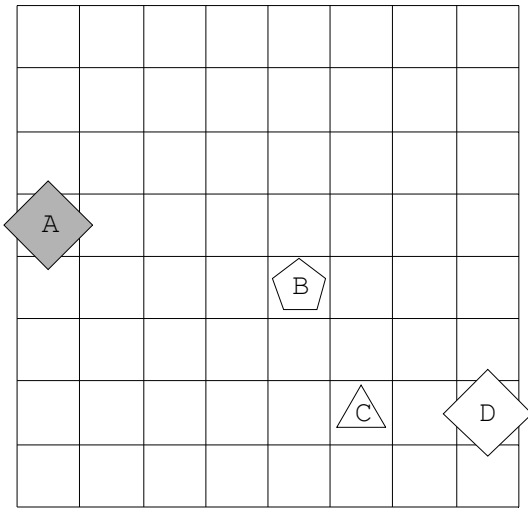
23.



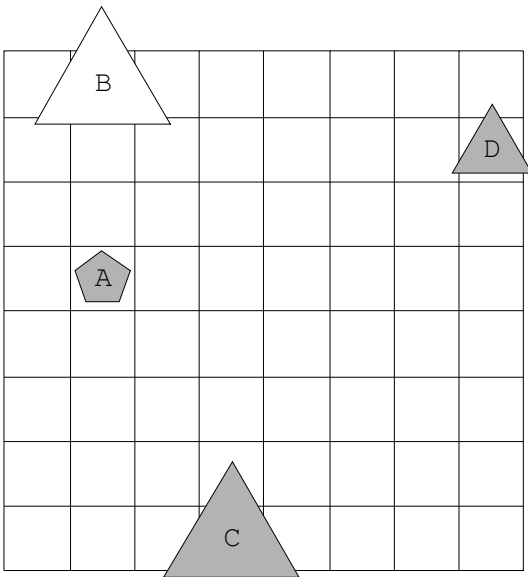
24.



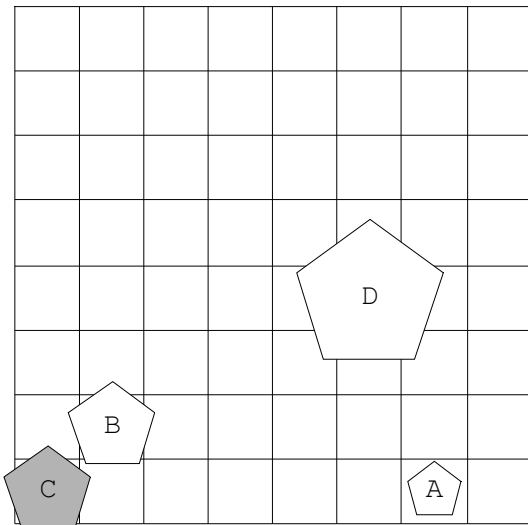
25.



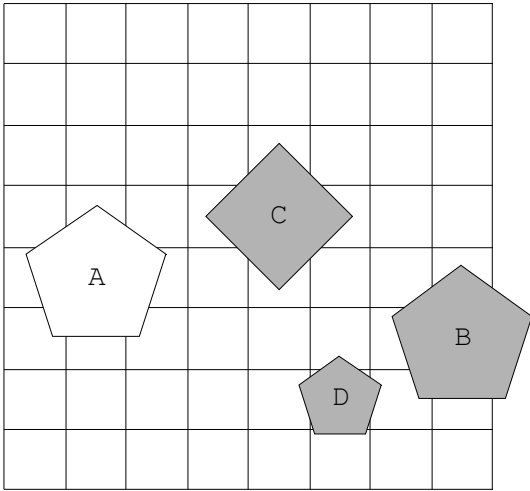
26.



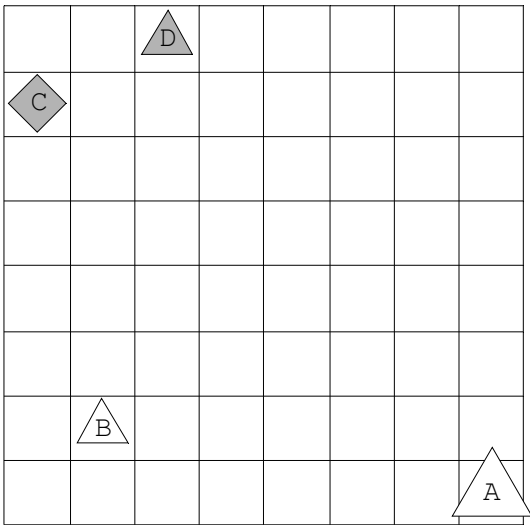
27.



28.



29.



30.

