

1. Ugotovi imena likov, če poznaš vrednosti stavkov v danem svetu, ki so podane v spodnji tabeli.

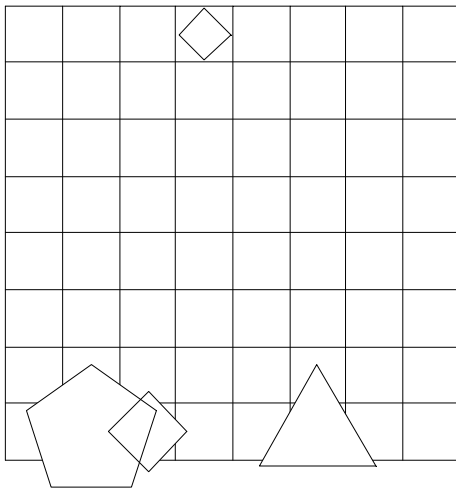
1. Če lik B ni trikotnik, potem lik B je majhen.

2. Lik A ni siv ali lik C ni kvadrat.

3. Lik B je srednje velikosti ali lik B ni majhen.

4. Če je lik B desno od D, potem je lik A nad C.

1	2	3	4
N	R	R	N



2. Ugotovi imena likov, če poznaš vrednosti stavkov v danem svetu, ki so podane v spodnji tabeli.

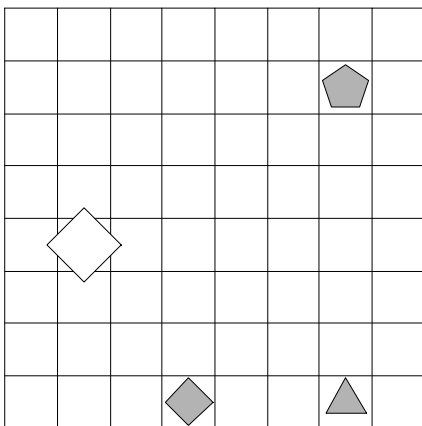
1. Lik A je petkotnik in lik C je kvadrat.

2. Lik B je velik in lik A ni srednje velikosti.

3. Ali lik D je petkotnik ali lik B ni siv.

4. Lik A je večji kot C in lik A je večji kot C.

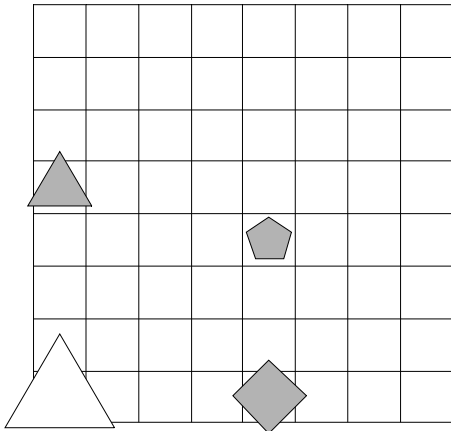
1	2	3	4
R	N	R	N



3. Ugotovi imena likov, če poznaš vrednosti stavkov v danem svetu, ki so podane v spodnji tabeli.

1. Lik B je kvadrat in lik C je petkotnik.
2. Lik B ni bel in lik D je majhen.
3. Če lik A ni petkotnik, potem lik C je petkotnik.
4. Ali je lik A pod C ali je lik A desno od D.

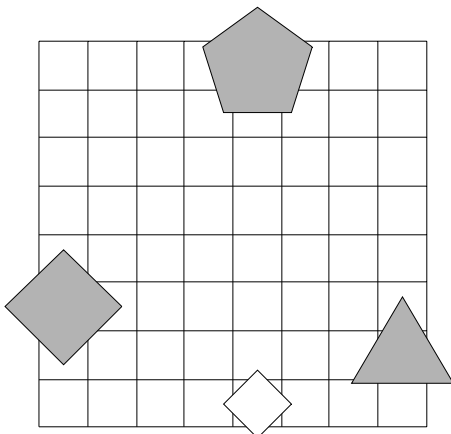
1	2	3	4
R	N	R	N



4. Ugotovi imena likov, če poznaš vrednosti stavkov v danem svetu, ki so podane v spodnji tabeli.

1. Lik B je velik ali lik C ni srednje velikosti.
2. Lik B ni srednje velikosti, če in samo če lik D ni velik.
3. Če lik D ni kvadrat, potem lik A je kvadrat.
4. Lik A je desno od C, če in samo če je lik A manjši kot C.

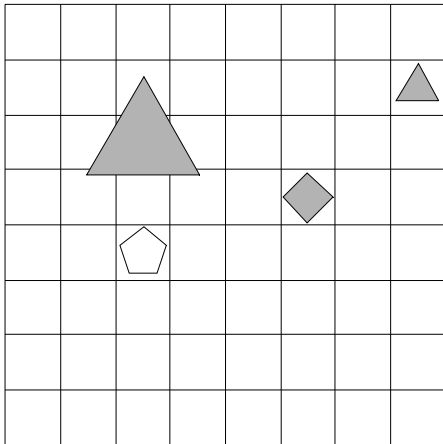
1	2	3	4
R	N	N	N



5. Ugotovi imena likov, če poznaš vrednosti stavkov v danem svetu, ki so podane v spodnji tabeli.

1. Ali lik A je velik ali lik A je siv.
2. Ali lik D je srednje velikosti ali lik C ni majhen.
3. Lik C je bel, če in samo če lik A je siv.
4. Lik C je pod D ali je lik C pod D.

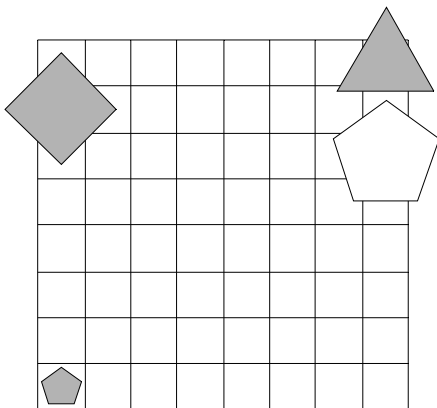
1	2	3	4
N	R	R	R



6. Ugotovi imena likov, če poznaš vrednosti stavkov v danem svetu, ki so podane v spodnji tabeli.

1. Lik C je trikotnik in lik B je majhen.
2. Lik C je majhen ali lik B je kvadrat.
3. Lik B je srednje velikosti ali lik D ni bel.
4. Lik B je večji kot D, če in samo če je lik A levo od B.

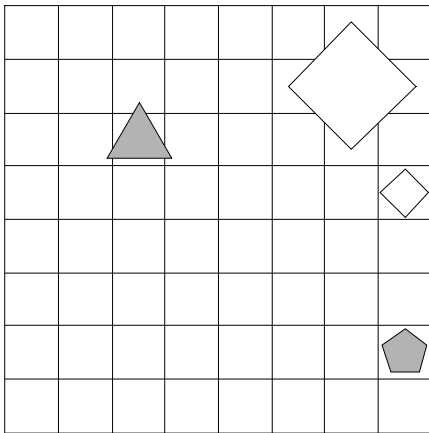
1	2	3	4
N	R	N	N



7. Ugotovi imena likov, če poznaš vrednosti stavkov v danem svetu, ki so podane v spodnji tabeli.

1. Lik B je kvadrat in lik A je bel.
2. Ali lik B ni velik ali lik A je bel.
3. Če lik C je petkotnik, potem lik C ni kvadrat.
4. Če je lik A levo od B, potem je lik B manjši kot D.

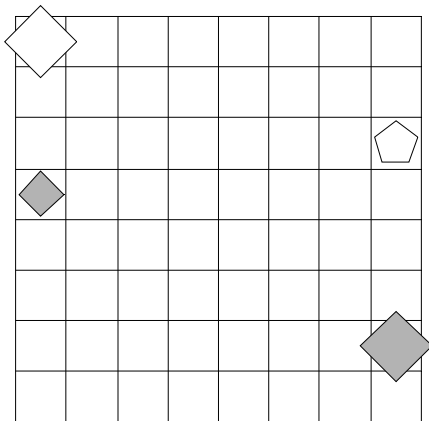
1	2	3	4
R	N	R	N



8. Ugotovi imena likov, če poznaš vrednosti stavkov v danem svetu, ki so podane v spodnji tabeli.

1. Ali lik B je majhen ali lik A je bel.
2. Lik D ni bel ali lik A je siv.
3. Lik D je srednje velikosti in lik D je kvadrat.
4. Lik B je manjši kot C in lik A je manjši kot B.

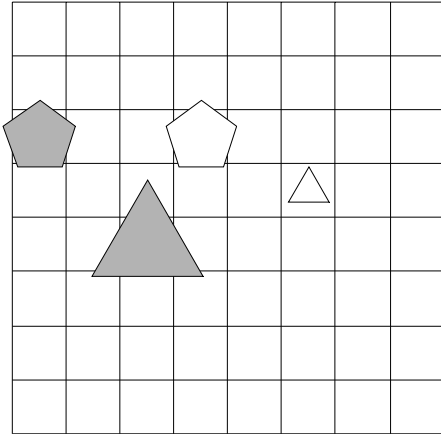
1	2	3	4
N	N	N	N



9. Ugotovi imena likov, če poznaš vrednosti stavkov v danem svetu, ki so podane v spodnji tabeli.

1. Lik D je velik ali lik C je velik.
2. Lik B ni petkotnik ali lik A ni petkotnik.
3. Ali lik D ni bel ali lik A ni srednje velikosti.
4. Lik B je pod D ali je lik A manjši kot C.

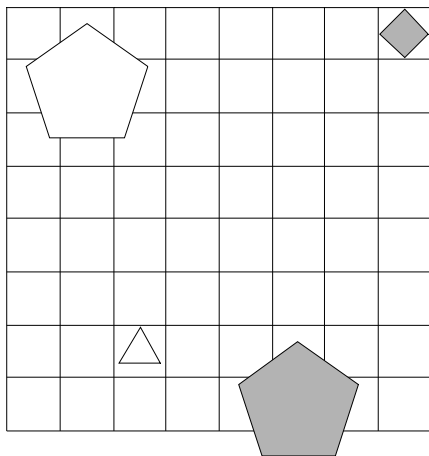
1	2	3	4
N	R	N	N



10. Ugotovi imena likov, če poznaš vrednosti stavkov v danem svetu, ki so podane v spodnji tabeli.

1. Če lik D je siv, potem lik A ni velik.
2. Če lik A je majhen, potem lik D je srednje velikosti.
3. Ali lik D ni majhen ali lik B ni srednje velikosti.
4. Lik A je večji kot C ali je lik A nad B.

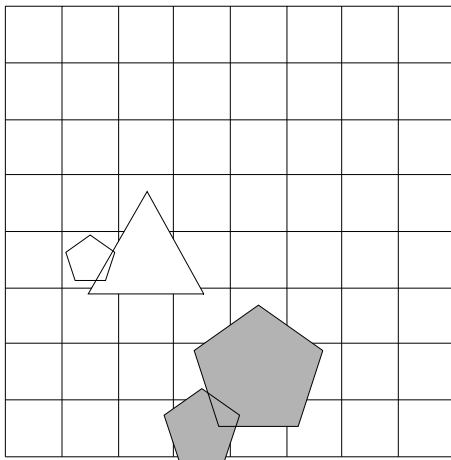
1	2	3	4
R	N	R	N



11. Ugotovi imena likov, če poznaš vrednosti stavkov v danem svetu, ki so podane v spodnji tabeli.

1. Če lik D ni bel, potem lik C je kvadrat.
2. Lik A ni siv in lik A ni majhen.
3. Ali lik C ni majhen ali lik C je trikotnik.
4. Če je lik A manjši kot D, potem je lik B manjši kot D.

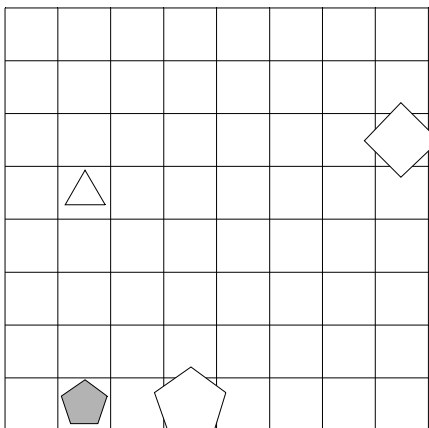
1	2	3	4
R	N	N	N



12. Ugotovi imena likov, če poznaš vrednosti stavkov v danem svetu, ki so podane v spodnji tabeli.

1. Lik B ni siv in lik A ni siv.
2. Lik C ni petkotnik in lik A ni kvadrat.
3. Ali lik B ni petkotnik ali lik B ni srednje velikosti.
4. Lik A je desno od B, če in samo če je lik A manjši kot D.

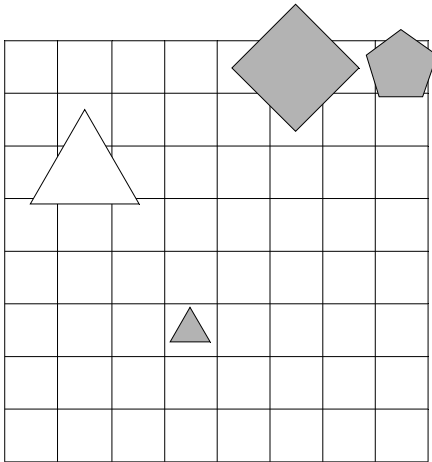
1	2	3	4
R	R	R	R



13. Ugotovi imena likov, če poznaš vrednosti stavkov v danem svetu, ki so podane v spodnji tabeli.

1. Lik D ni trikotnik ali lik C ni petkotnik.
2. Lik D ni srednje velikosti in lik D je bel.
3. Lik D je kvadrat ali lik D je srednje velikosti.
4. Lik C je desno od D, če in samo če je lik A desno od D.

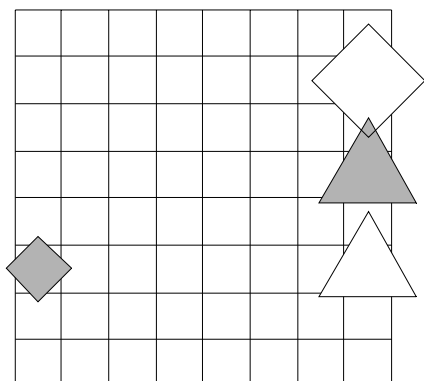
1	2	3	4
N	N	N	N



14. Ugotovi imena likov, če poznaš vrednosti stavkov v danem svetu, ki so podane v spodnji tabeli.

1. Lik D je kvadrat, če in samo če lik C ni kvadrat.
2. Če lik B je trikotnik, potem lik B je siv.
3. Lik B je bel ali lik B je majhen.
4. Če je lik A desno od C, potem je lik A desno od D.

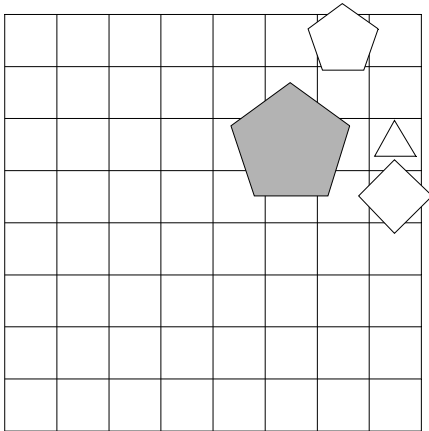
1	2	3	4
R	N	R	N



15. Ugotovi imena likov, če poznaš vrednosti stavkov v danem svetu, ki so podane v spodnji tabeli.

1. Ali lik D je velik ali lik C ni kvadrat.
2. Lik D ni srednje velikosti ali lik B ni velik.
3. Lik C ni kvadrat, če in samo če lik A ni velik.
4. Lik A je manjši kot C, če in samo če je lik B nad C.

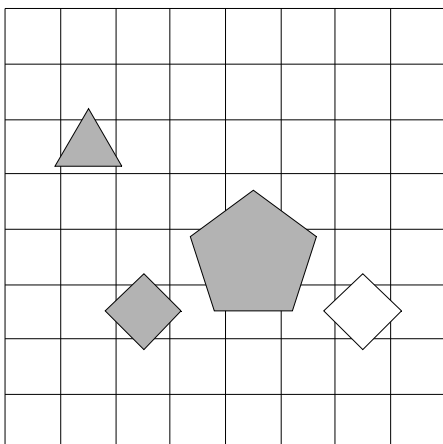
1	2	3	4
N	N	N	R



16. Ugotovi imena likov, če poznaš vrednosti stavkov v danem svetu, ki so podane v spodnji tabeli.

1. Lik D ni velik in lik B je trikotnik.
2. Ali lik A je siv ali lik C je bel.
3. Če lik C ni srednje velikosti, potem lik D je velik.
4. Lik A je nad B in lik B je nad D.

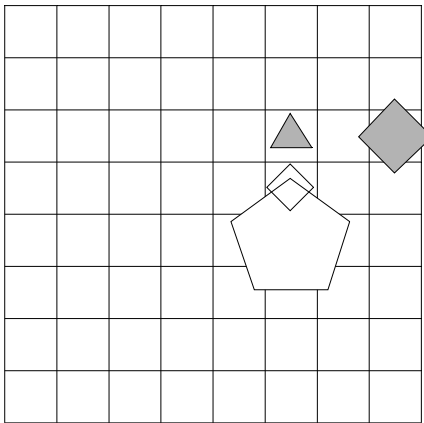
1	2	3	4
N	R	R	R



17. Ugotovi imena likov, če poznaš vrednosti stavkov v danem svetu, ki so podane v spodnji tabeli.

1. Lik D ni srednje velikosti, če in samo če lik A je kvadrat.
2. Lik A je majhen in lik B je majhen.
3. Če lik A ni trikotnik, potem lik A je srednje velikosti.
4. Lik B je manjši kot D ali je lik C manjši kot D.

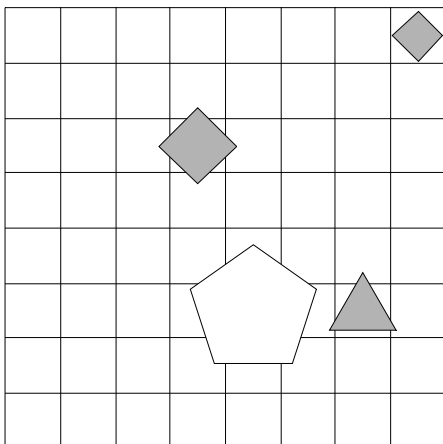
1	2	3	4
R	R	R	R



18. Ugotovi imena likov, če poznaš vrednosti stavkov v danem svetu, ki so podane v spodnji tabeli.

1. Lik D ni kvadrat, če in samo če lik B je majhen.
2. Lik D ni kvadrat ali lik D ni petkotnik.
3. Ali lik A ni bel ali lik B ni trikotnik.
4. Lik B je pod C in lik B je nad D.

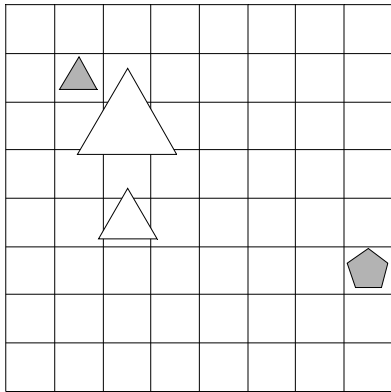
1	2	3	4
N	R	R	R



19. Ugotovi imena likov, če poznaš vrednosti stavkov v danem svetu, ki so podane v spodnji tabeli.

1. Lik C je trikotnik ali lik D je siv.
2. Lik A je petkotnik ali lik C ni srednje velikosti.
3. Če lik A je trikotnik, potem lik D ni velik.
4. Lik B je levo od D, če in samo če je lik A večji kot D.

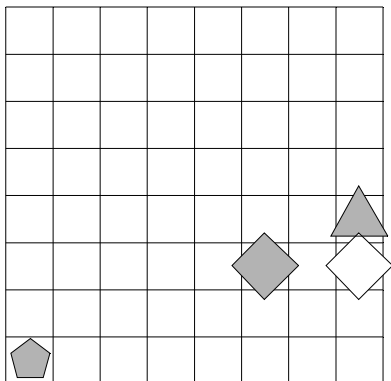
1	2	3	4
R	R	N	R



20. Ugotovi imena likov, če poznaš vrednosti stavkov v danem svetu, ki so podane v spodnji tabeli.

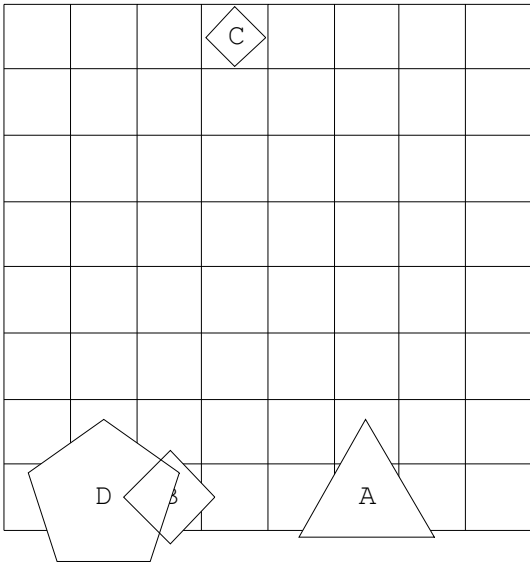
1. Če lik B ni majhen, potem lik C ni petkotnik.
2. Lik B ni bel, če in samo če lik B je majhen.
3. Lik C ni siv, če in samo če lik B je trikotnik.
4. Če je lik A levo od C, potem je lik B levo od C.

1	2	3	4
R	N	N	N

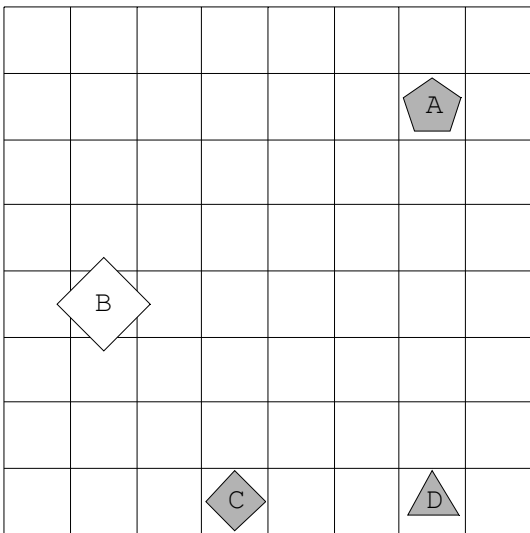


Rešitve

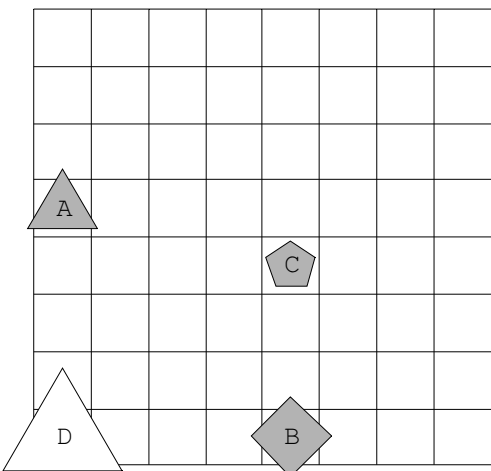
1.



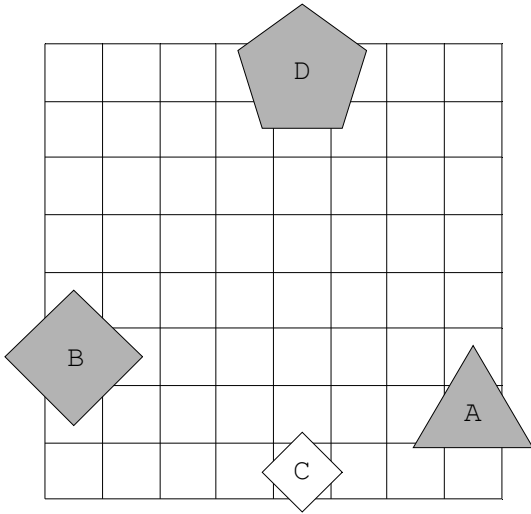
2.



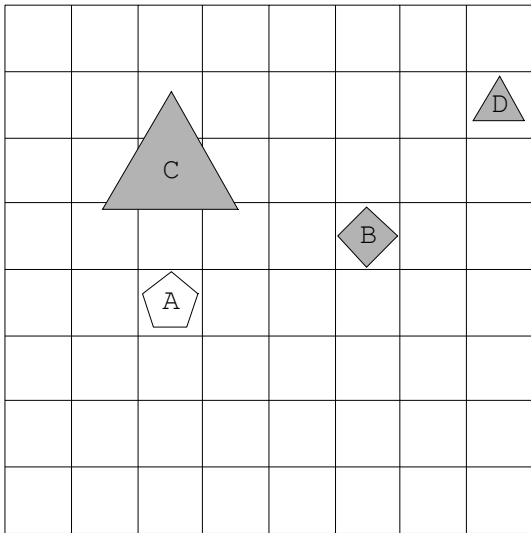
3.



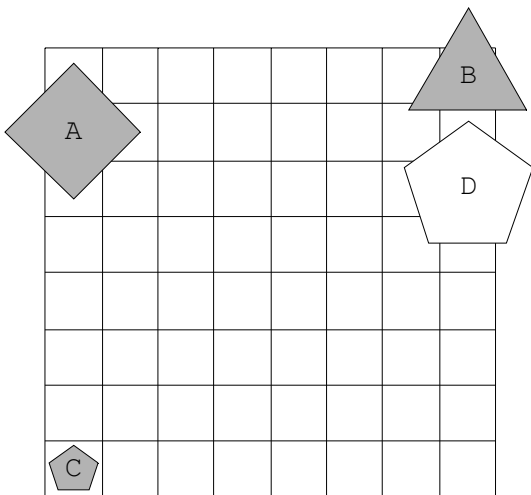
4.



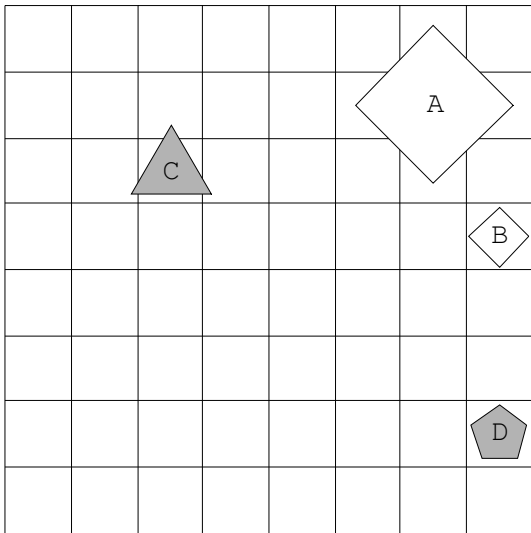
5.



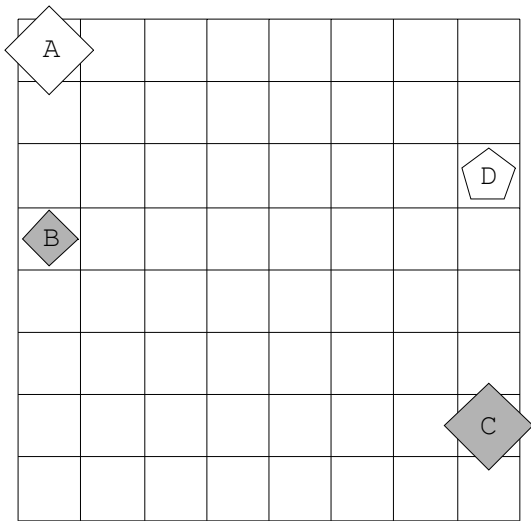
6.



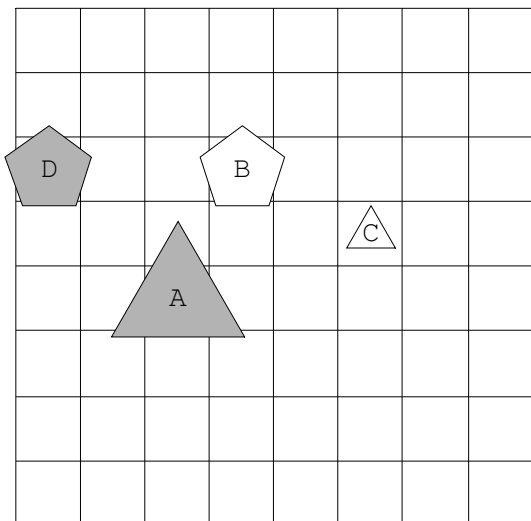
7.



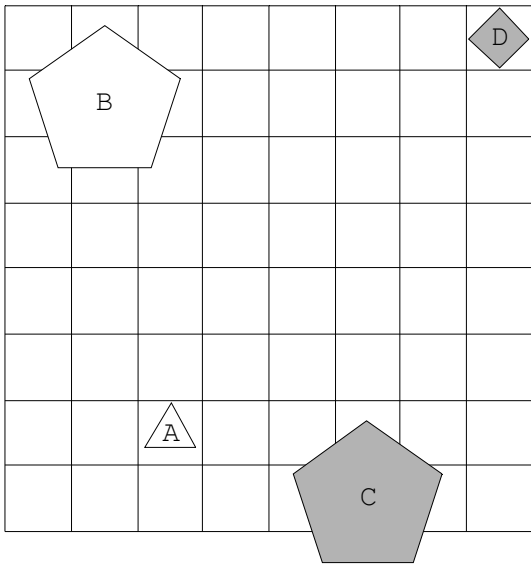
8.



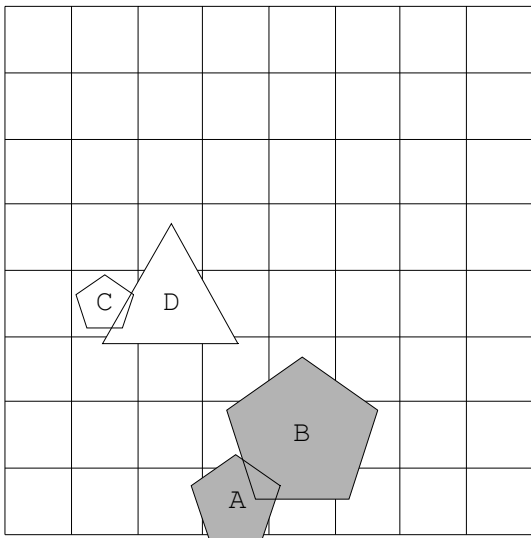
9.



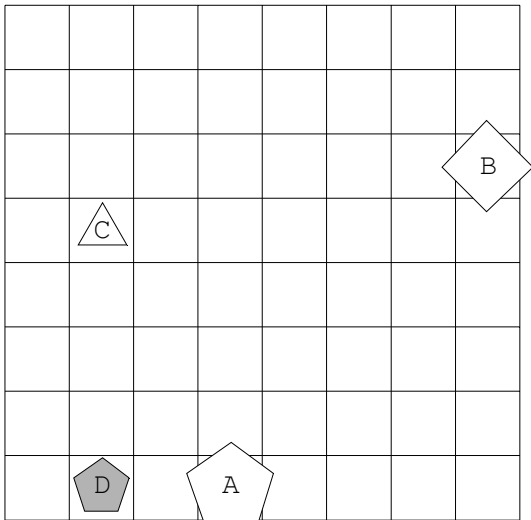
10.



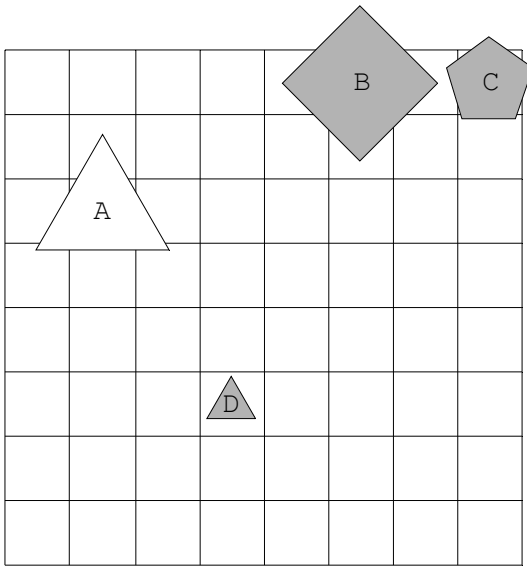
11.



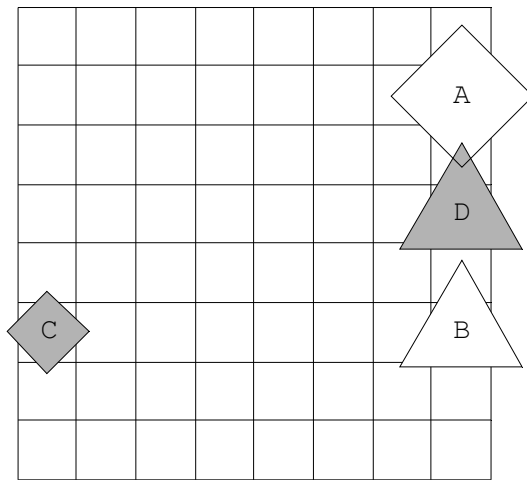
12.



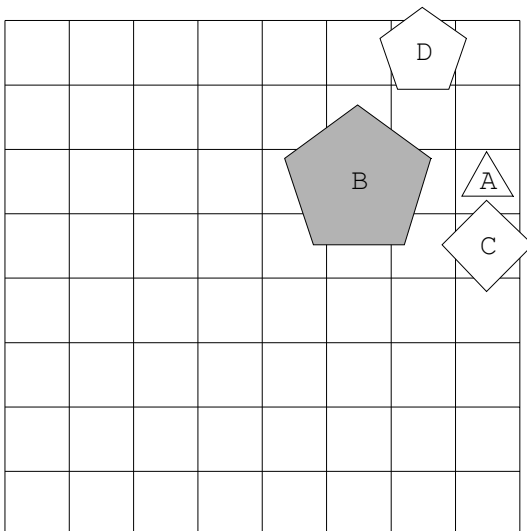
13.



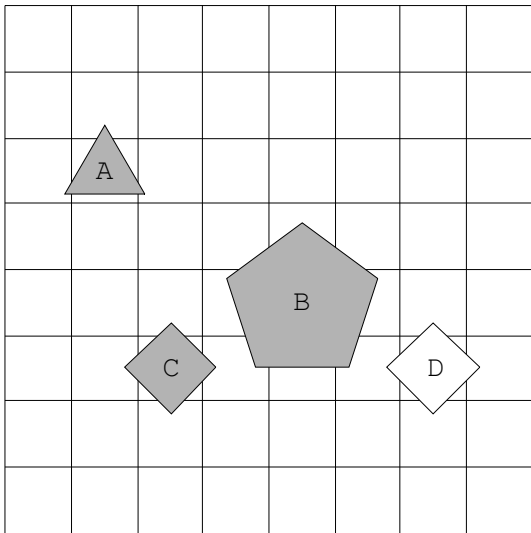
14.



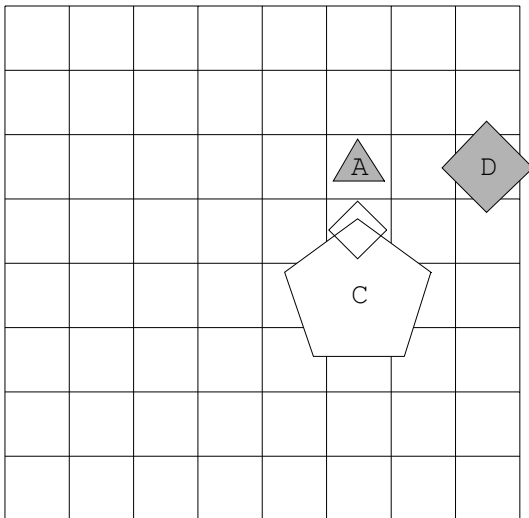
15.



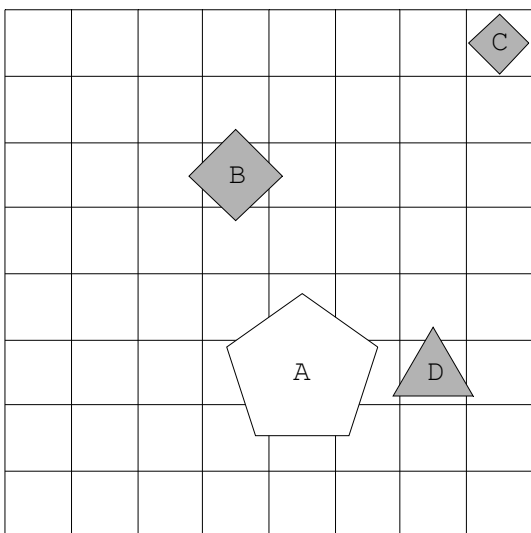
16.



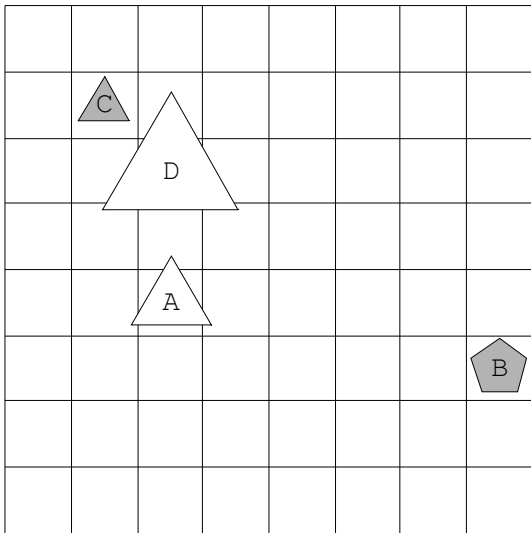
17.



18.



19.



20.

