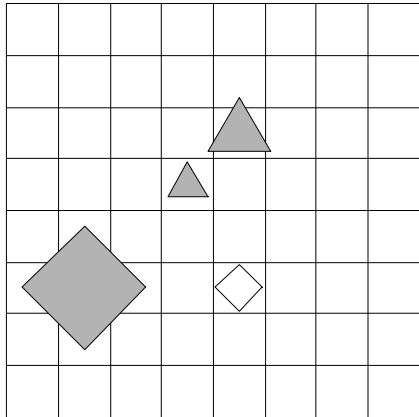


1. Ugotovi imena likov, če poznaš vrednosti stavkov v danem svetu, ki so podane v spodnji tabeli.

1. Lik B je trikotnik in lik D je bel.
2. Lik A je petkotnik in lik B ni trikotnik.
3. Ali je lik A desno od B ali je lik B manjši kot C.
4. Ali je lik B manjši kot C ali je lik A desno od C.

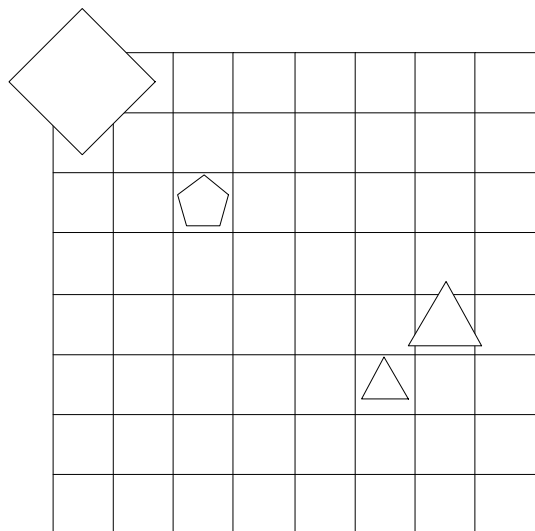
1	2	3	4
R	N	R	N



2. Ugotovi imena likov, če poznaš vrednosti stavkov v danem svetu, ki so podane v spodnji tabeli.

1. Lik B ni majhen ali lik C je majhen.
2. Lik A ni petkotnik in lik D ni petkotnik.
3. Če je lik B manjši kot D, potem je lik C manjši kot D.
4. Lik B je manjši kot D ali je lik A desno od B.

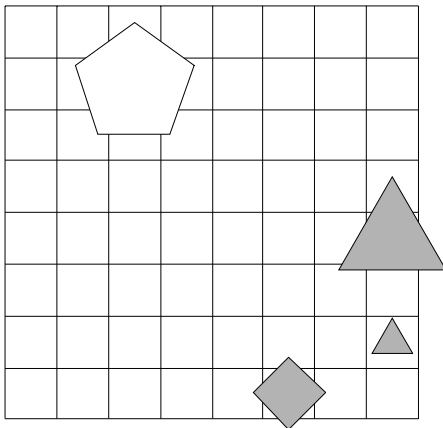
1	2	3	4
N	R	R	N



3. Ugotovi imena likov, če poznaš vrednosti stavkov v danem svetu, ki so podane v spodnji tabeli.

1. Lik B je velik in lik D ni kvadrat.
2. Lik A je trikotnik in lik A ni petkotnik.
3. Lik A je večji kot B ali je lik A levo od D.
4. Lik A je večji kot C in lik B je večji kot D.

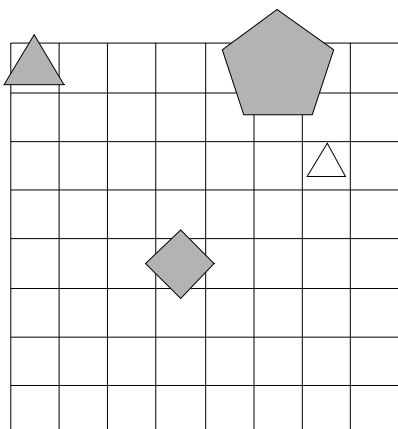
1	2	3	4
R	N	R	R



4. Ugotovi imena likov, če poznaš vrednosti stavkov v danem svetu, ki so podane v spodnji tabeli.

1. Lik A ni majhen in lik A je velik.
2. Lik C je trikotnik in lik C je srednje velikosti.
3. Če je lik A desno od B, potem je lik A manjši kot C.
4. Lik A je manjši kot B in lik C je večji kot D.

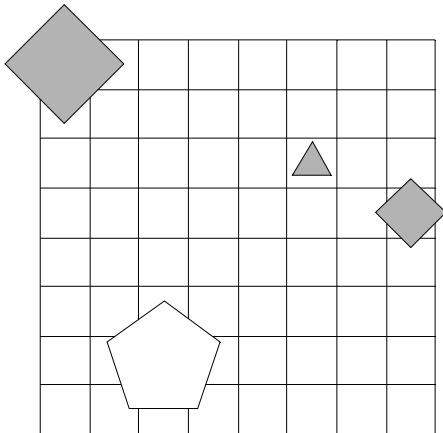
1	2	3	4
R	N	R	N



5. Ugotovi imena likov, če poznaš vrednosti stavkov v danem svetu, ki so podane v spodnji tabeli.

1. Lik D je siv ali lik D ni majhen.
2. Lik D je bel ali lik D je bel.
3. Ali je lik A manjši kot B ali je lik A pod C.
4. Lik B je nad D, če in samo če je lik C manjši kot D.

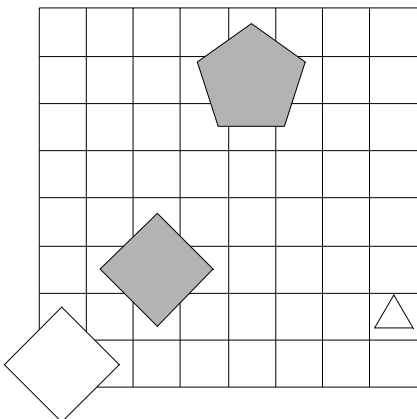
1	2	3	4
R	R	R	N



6. Ugotovi imena likov, če poznaš vrednosti stavkov v danem svetu, ki so podane v spodnji tabeli.

1. Če lik A ni majhen, potem lik C je bel.
2. Lik B je petkotnik in lik A je bel.
3. Lik A je pod D, če in samo če je lik A levo od C.
4. Lik A je desno od D, če in samo če je lik A nad C.

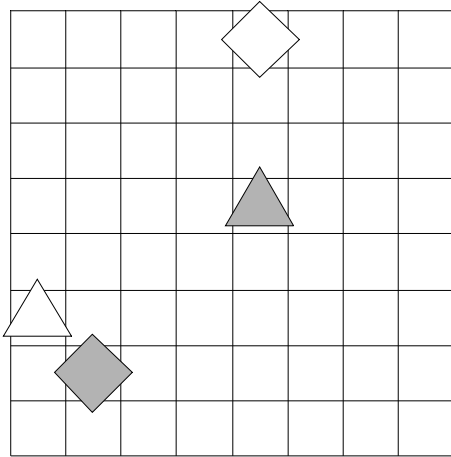
1	2	3	4
N	N	N	N



7. Ugotovi imena likov, če poznaš vrednosti stavkov v danem svetu, ki so podane v spodnji tabeli.

1. Če lik A je bel, potem lik A ni kvadrat.
2. Lik B ni siv ali lik D ni kvadrat.
3. Lik A je nad C, če in samo če je lik B levo od C.
4. Lik A je levo od D in lik A je desno od B.

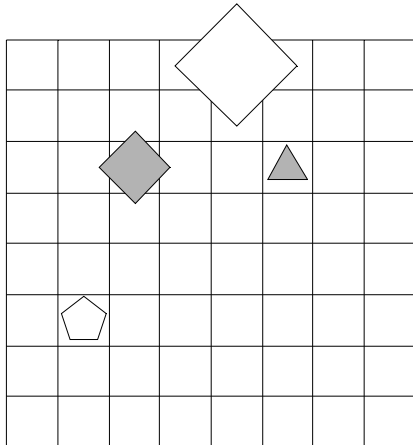
1	2	3	4
N	N	N	N



8. Ugotovi imena likov, če poznaš vrednosti stavkov v danem svetu, ki so podane v spodnji tabeli.

1. Ali lik A je majhen ali lik D ni petkotnik.
2. Lik C je petkotnik ali lik C je srednje velikosti.
3. Lik C je nad D ali je lik A nad C.
4. Če je lik B manjši kot D, potem je lik B levo od C.

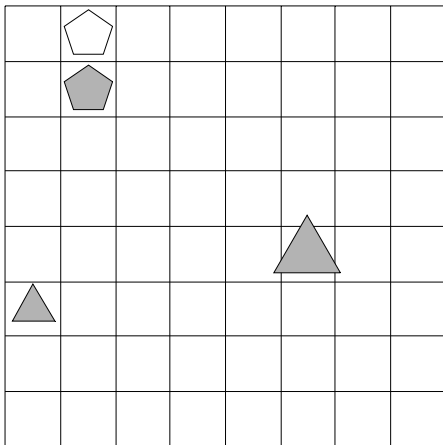
1	2	3	4
N	R	N	N



9. Ugotovi imena likov, če poznaš vrednosti stavkov v danem svetu, ki so podane v spodnji tabeli.

1. Ali lik C ni petkotnik ali lik A je petkotnik.
2. Ali lik A je bel ali lik A je majhen.
3. Lik B je večji kot D, če in samo če je lik B desno od C.
4. Če je lik C večji kot D, potem je lik A nad C.

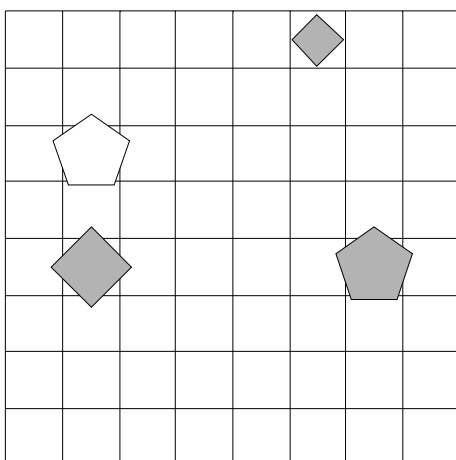
1	2	3	4
N	R	N	R



10. Ugotovi imena likov, če poznaš vrednosti stavkov v danem svetu, ki so podane v spodnji tabeli.

1. Če lik A ni siv, potem lik C ni srednje velikosti.
2. Lik B ni majhen ali lik D je petkotnik.
3. Lik A je pod D ali je lik B manjši kot C.
4. Lik C je manjši kot D ali je lik A nad C.

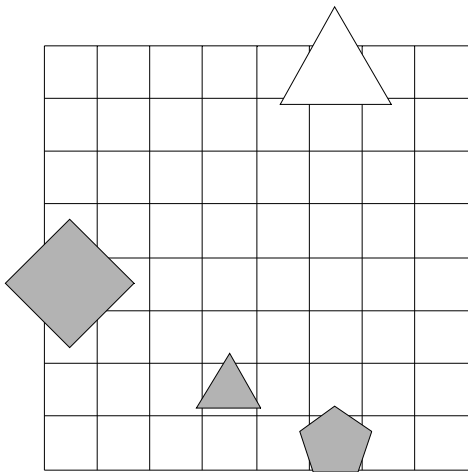
1	2	3	4
N	N	R	R



11. Ugotovi imena likov, če poznaš vrednosti stavkov v danem svetu, ki so podane v spodnji tabeli.

1. Ali lik B je bel ali lik B je velik.
2. Če lik C je velik, potem lik D je kvadrat.
3. Če je lik B levo od C, potem je lik A desno od B.
4. Če je lik A desno od D, potem je lik A levo od C.

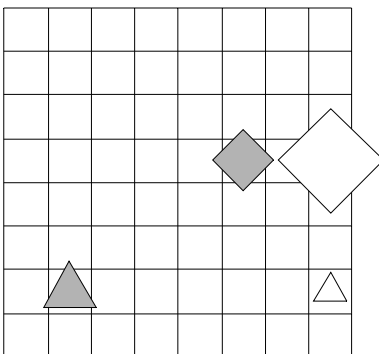
1	2	3	4
N	R	N	R



12. Ugotovi imena likov, če poznaš vrednosti stavkov v danem svetu, ki so podane v spodnji tabeli.

1. Lik B ni petkotnik ali lik A ni kvadrat.
2. Lik B ni velik ali lik A je siv.
3. Lik B je levo od D, če in samo če je lik A pod C.
4. Če je lik A večji kot D, potem je lik A manjši kot B.

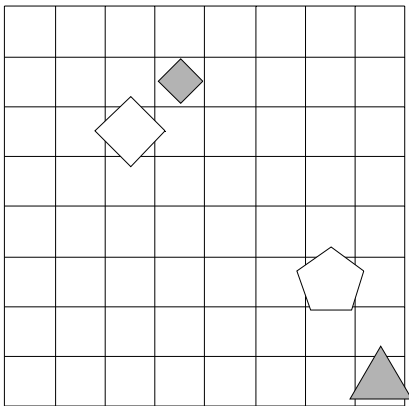
1	2	3	4
R	N	R	R



13. Ugotovi imena likov, če poznaš vrednosti stavkov v danem svetu, ki so podane v spodnji tabeli.

1. Lik B je bel ali lik B ni velik.
2. Lik B ni petkotnik, če in samo če lik D je majhen.
3. Lik C je desno od D ali je lik A pod C.
4. Lik C je pod D ali je lik A manjši kot B.

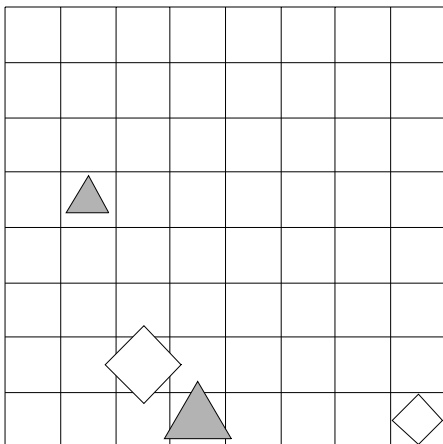
1	2	3	4
R	R	N	R



14. Ugotovi imena likov, če poznaš vrednosti stavkov v danem svetu, ki so podane v spodnji tabeli.

1. Lik B je bel ali lik D je majhen.
2. Če lik D je siv, potem lik C ni trikotnik.
3. Lik A je desno od C, če in samo če je lik A levo od C.
4. Ali je lik A manjši kot B ali je lik B levo od C.

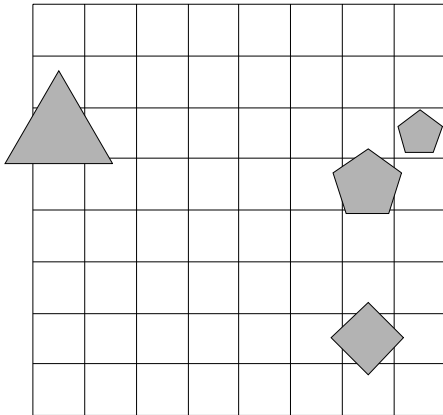
1	2	3	4
N	R	N	N



15. Ugotovi imena likov, če poznaš vrednosti stavkov v danem svetu, ki so podane v spodnji tabeli.

1. Lik C ni majhen, če in samo če lik B ni trikotnik.
2. Ali lik A je srednje velikosti ali lik D ni majhen.
3. Lik A je pod B ali je lik B nad C.
4. Lik B je večji kot D ali je lik A levo od B.

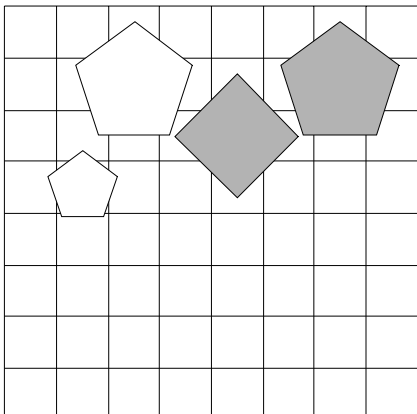
1	2	3	4
N	N	R	N



16. Ugotovi imena likov, če poznaš vrednosti stavkov v danem svetu, ki so podane v spodnji tabeli.

1. Ali lik B ni siv ali lik A ni bel.
2. Lik A je kvadrat, če in samo če lik B ni trikotnik.
3. Če je lik C desno od D, potem je lik A večji kot D.
4. Lik B je desno od D ali je lik A nad D.

1	2	3	4
N	R	R	R

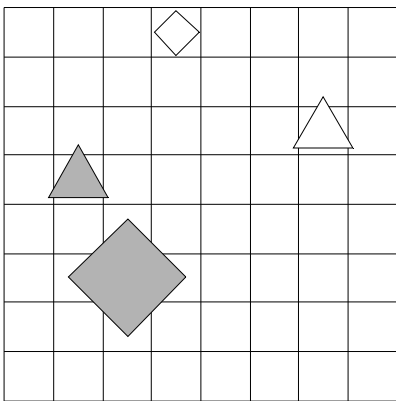




17. Ugotovi imena likov, če poznaš vrednosti stavkov v danem svetu, ki so podane v spodnji tabeli.

1. Lik B ni velik in lik A je srednje velikosti.
2. Če lik D ni srednje velikosti, potem lik D je srednje velikosti.
3. Ali je lik A večji kot D ali je lik A nad D.
4. Če je lik A manjši kot B, potem je lik B pod D.

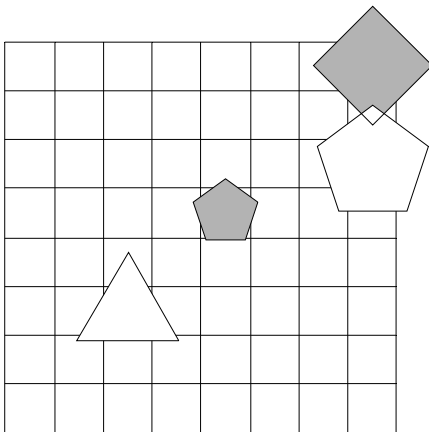
1	2	3	4
R	R	R	R



18. Ugotovi imena likov, če poznaš vrednosti stavkov v danem svetu, ki so podane v spodnji tabeli.

1. Ali lik D ni bel ali lik C je petkotnik.
2. Ali lik D je trikotnik ali lik A je petkotnik.
3. Ali je lik B pod D ali je lik A levo od D.
4. Ali je lik A manjši kot B ali je lik B manjši kot D.

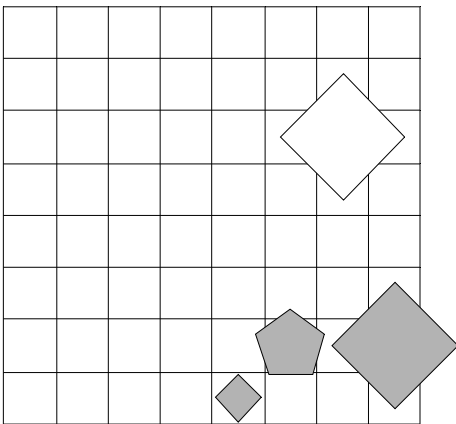
1	2	3	4
N	R	R	R



19. Ugotovi imena likov, če poznaš vrednosti stavkov v danem svetu, ki so podane v spodnji tabeli.

1. Lik D ni siv, če in samo če lik D ni kvadrat.
2. Ali lik A je siv ali lik C je bel.
3. Če je lik B nad C, potem je lik B večji kot C.
4. Lik B je levo od C in lik B je večji kot C.

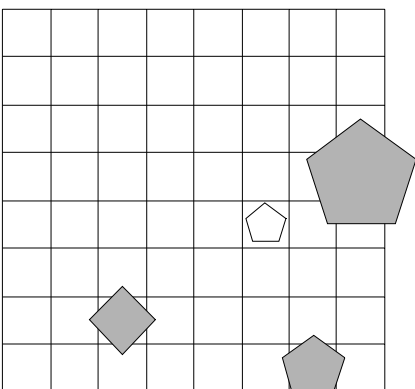
1	2	3	4
N	R	N	N



20. Ugotovi imena likov, če poznaš vrednosti stavkov v danem svetu, ki so podane v spodnji tabeli.

1. Lik C je trikotnik, če in samo če lik B ni kvadrat.
2. Če lik B je kvadrat, potem lik B je bel.
3. Ali je lik A pod B ali je lik A nad B.
4. Lik A je pod D, če in samo če je lik B pod D.

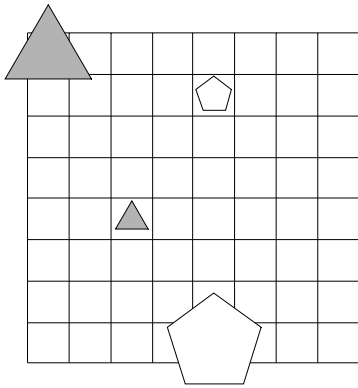
1	2	3	4
R	N	R	N



21. Ugotovi imena likov, če poznaš vrednosti stavkov v danem svetu, ki so podane v spodnji tabeli.

1. Lik C je srednje velikosti, če in samo če lik C ni siv.
2. Če lik A je srednje velikosti, potem lik D je kvadrat.
3. Lik A je pod D in lik A je večji kot C.
4. Če je lik B nad D, potem je lik A manjši kot D.

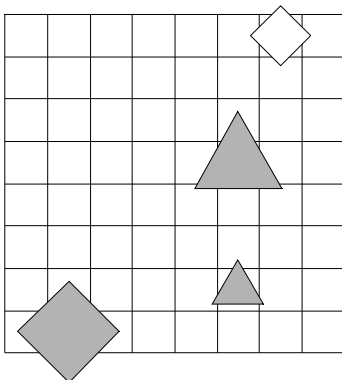
1	2	3	4
N	R	R	N



22. Ugotovi imena likov, če poznaš vrednosti stavkov v danem svetu, ki so podane v spodnji tabeli.

1. Ali lik B je siv ali lik A ni kvadrat.
2. Če lik A ni kvadrat, potem lik D ni petkotnik.
3. Če je lik A manjši kot C, potem je lik B desno od C.
4. Če je lik B pod C, potem je lik C desno od D.

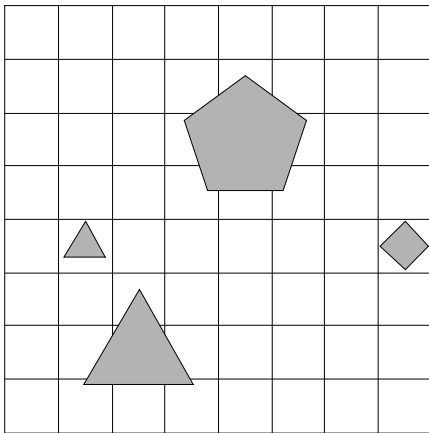
1	2	3	4
N	R	N	N



23. Ugotovi imena likov, če poznaš vrednosti stavkov v danem svetu, ki so podane v spodnji tabeli.

1. Lik D ni siv ali lik D ni petkotnik.
2. Če lik D ni kvadrat, potem lik C je kvadrat.
3. Lik A je levo od C ali je lik B pod C.
4. Lik A je manjši kot D ali je lik C večji kot D.

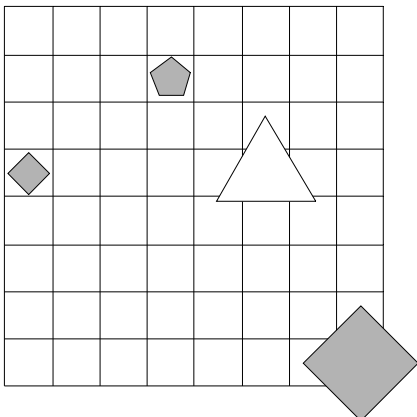
1	2	3	4
N	R	R	R



24. Ugotovi imena likov, če poznaš vrednosti stavkov v danem svetu, ki so podane v spodnji tabeli.

1. Lik A je siv in lik B ni kvadrat.
2. Lik D je kvadrat, če in samo če lik C je bel.
3. Lik A je večji kot D, če in samo če je lik A pod B.
4. Lik A je manjši kot B ali je lik A nad D.

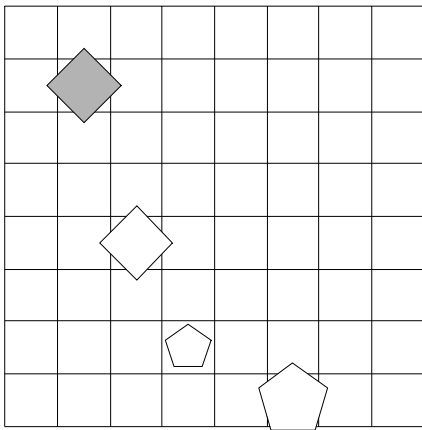
1	2	3	4
N	N	N	R



25. Ugotovi imena likov, če poznaš vrednosti stavkov v danem svetu, ki so podane v spodnji tabeli.

1. Lik A je srednje velikosti, če in samo če lik C ni srednje velikosti.
2. Lik C ni srednje velikosti ali lik A je petkotnik.
3. Če je lik A nad D, potem je lik B manjši kot D.
4. Lik A je pod B in lik A je večji kot C.

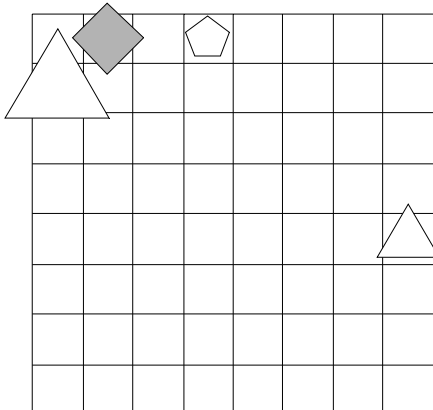
1	2	3	4
R	R	N	R



26. Ugotovi imena likov, če poznaš vrednosti stavkov v danem svetu, ki so podane v spodnji tabeli.

1. Lik A ni velik in lik B je kvadrat.
2. Lik C je petkotnik ali lik B je velik.
3. Ali je lik B pod C ali je lik A levo od D.
4. Če je lik A desno od C, potem je lik A večji kot B.

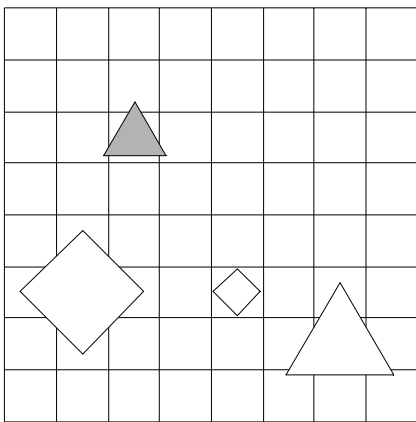
1	2	3	4
R	N	N	N



27. Ugotovi imena likov, če poznaš vrednosti stavkov v danem svetu, ki so podane v spodnji tabeli.

1. Če lik A je bel, potem lik D je srednje velikosti.
2. Lik C ni bel, če in samo če lik A je bel.
3. Ali je lik A levo od B ali je lik C nad D.
4. Lik A je večji kot B ali je lik C nad D.

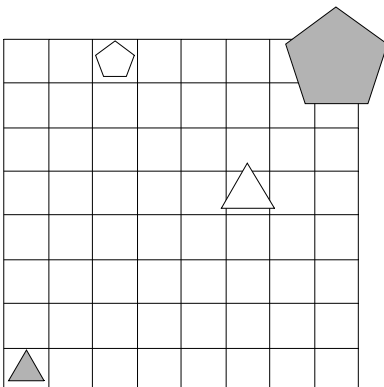
1	2	3	4
R	R	N	R



28. Ugotovi imena likov, če poznaš vrednosti stavkov v danem svetu, ki so podane v spodnji tabeli.

1. Ali lik B ni velik ali lik C je majhen.
2. Če lik A je velik, potem lik D ni velik.
3. Lik A je pod B ali je lik A nad B.
4. Lik A je pod B ali je lik B desno od C.

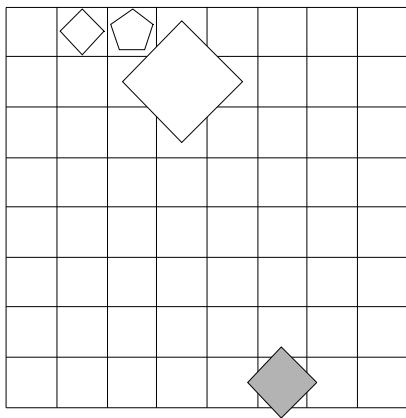
1	2	3	4
R	R	N	N



29. Ugotovi imena likov, če poznaš vrednosti stavkov v danem svetu, ki so podane v spodnji tabeli.

1. Če lik A ni trikotnik, potem lik D ni petkotnik.
2. Lik C ni petkotnik ali lik D je siv.
3. Ali je lik B večji kot D ali je lik B pod D.
4. Lik A je pod B, če in samo če je lik C pod D.

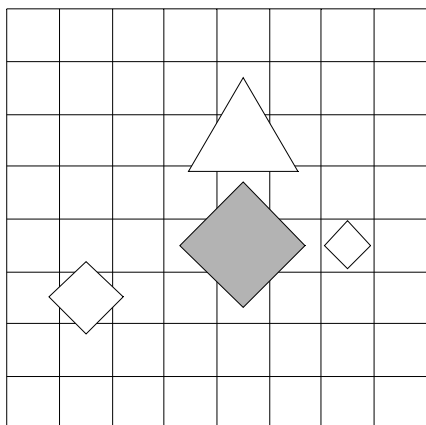
1	2	3	4
R	N	R	R



30. Ugotovi imena likov, če poznaš vrednosti stavkov v danem svetu, ki so podane v spodnji tabeli.

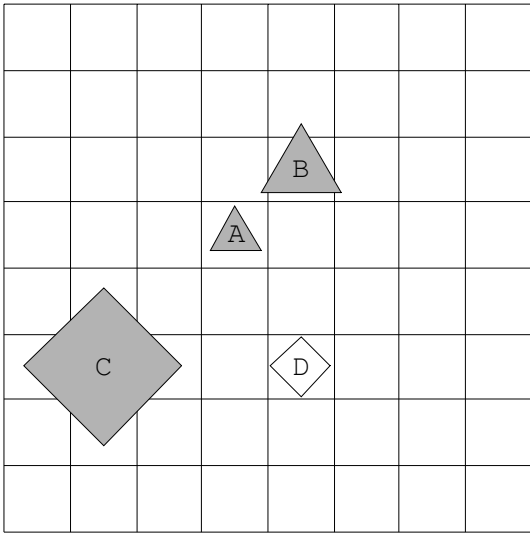
1. Lik C je petkotnik ali lik C ni velik.
2. Lik A je srednje velikosti ali lik A je petkotnik.
3. Lik A je pod B in lik A je desno od B.
4. Lik C je desno od D in lik C je pod D.

1	2	3	4
R	N	R	N

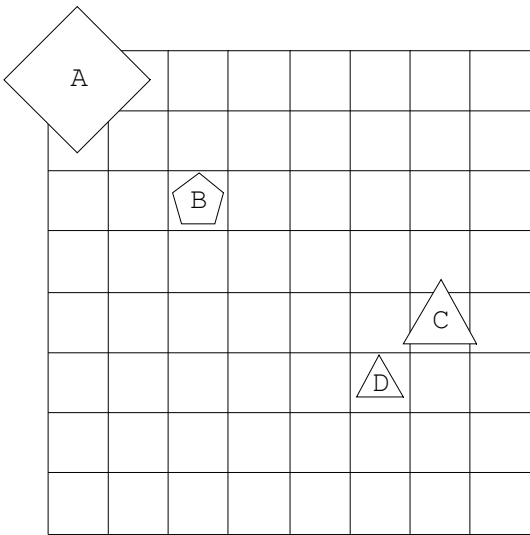


Rešitve

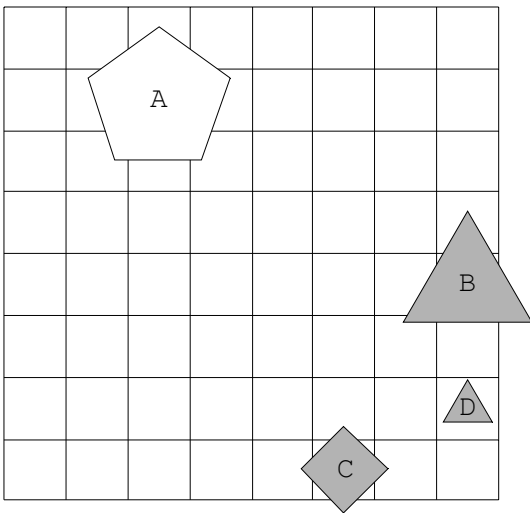
1.



2.

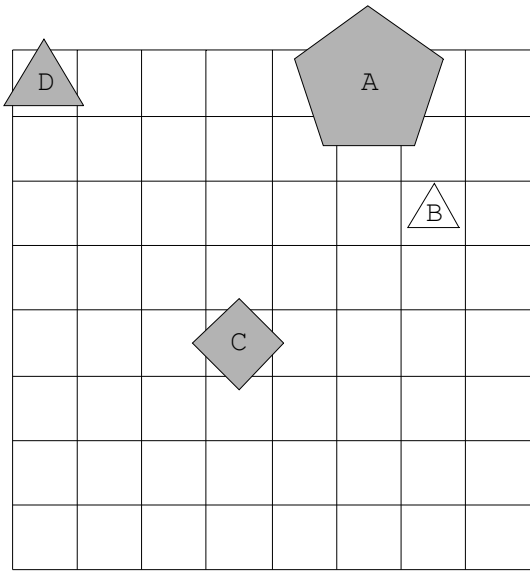


3.

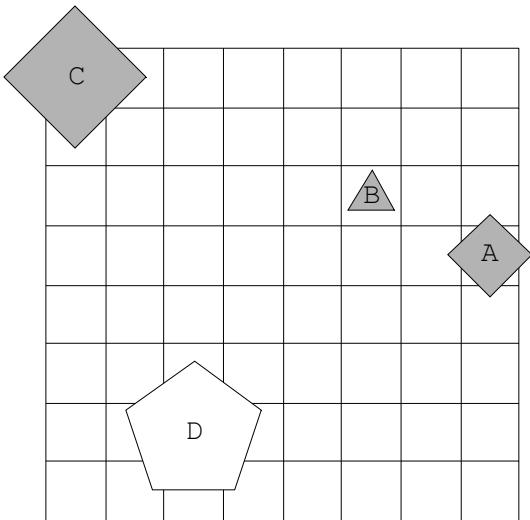




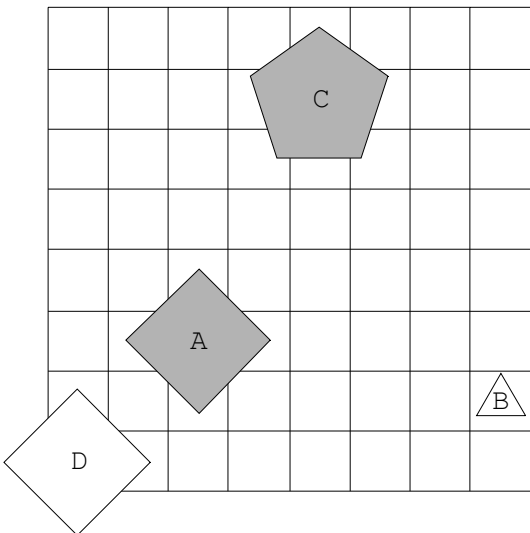
4.



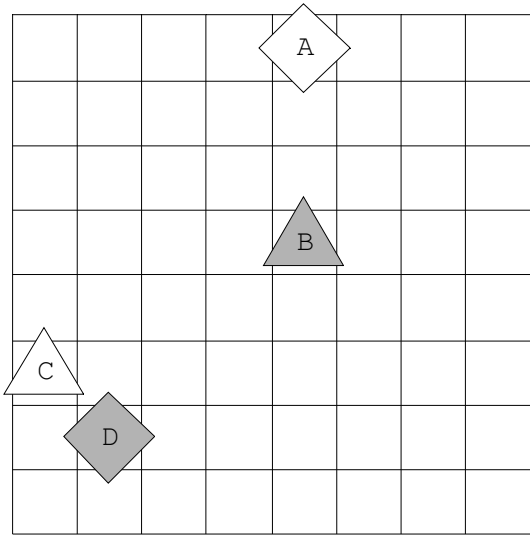
5.



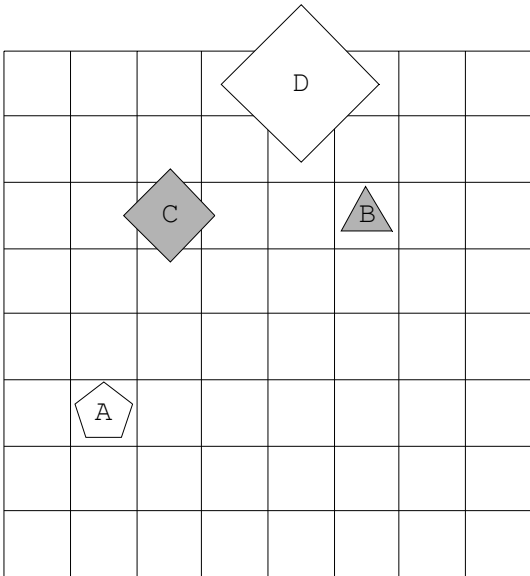
6.



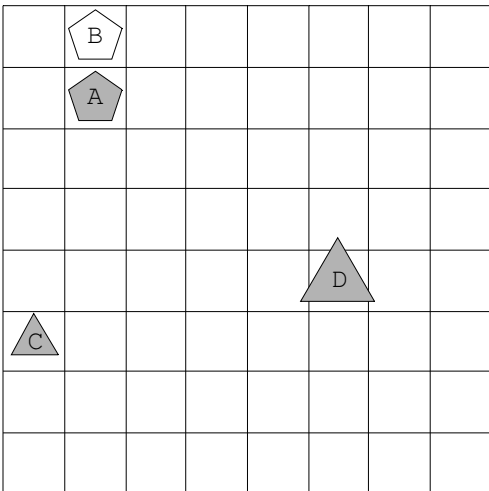
7.



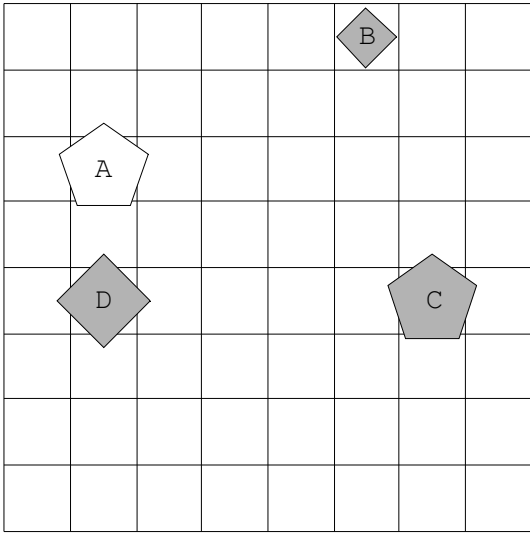
8.



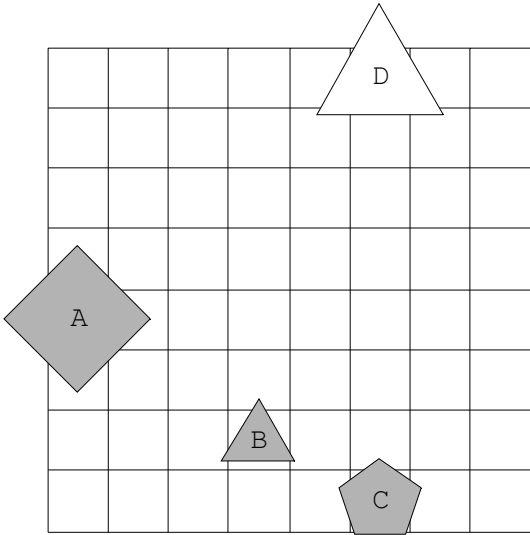
9.



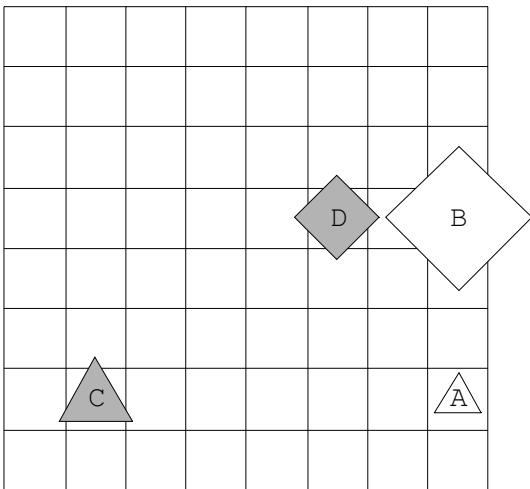
10.



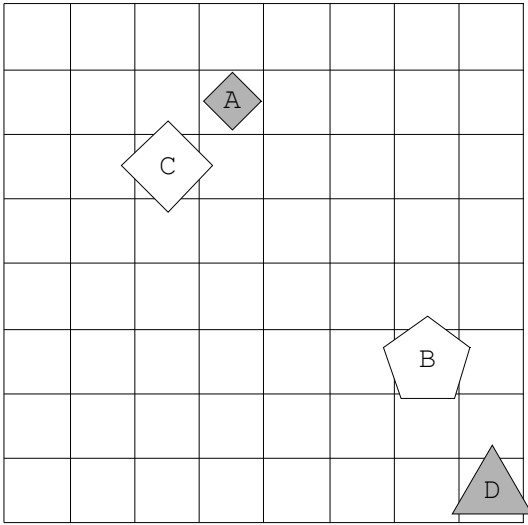
11.



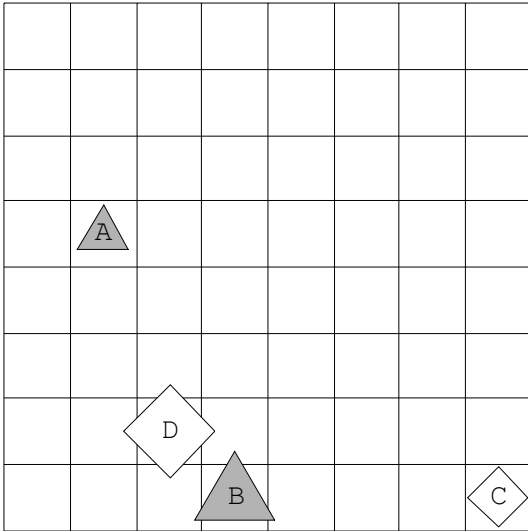
12.



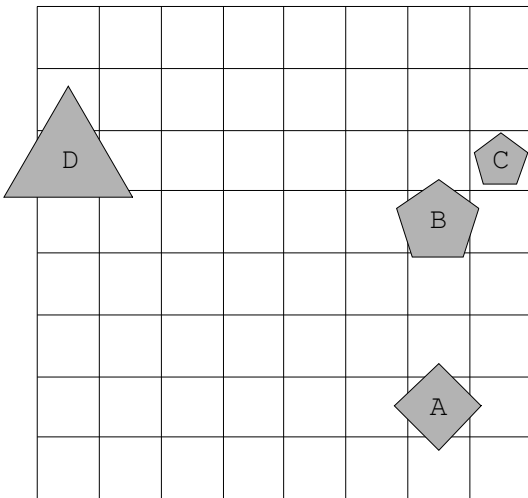
13.



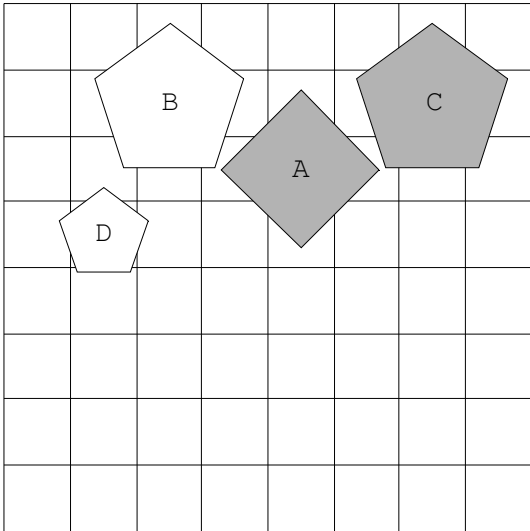
14.



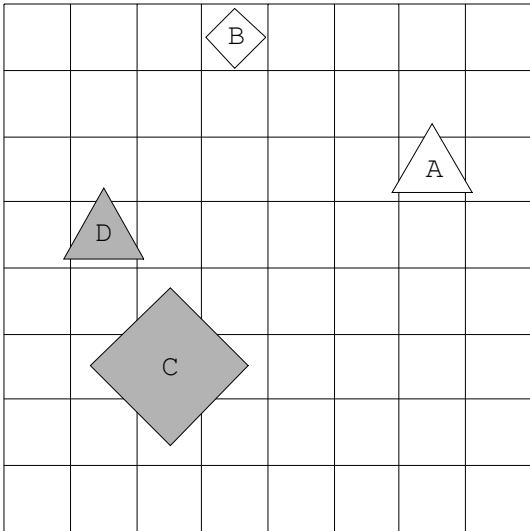
15.



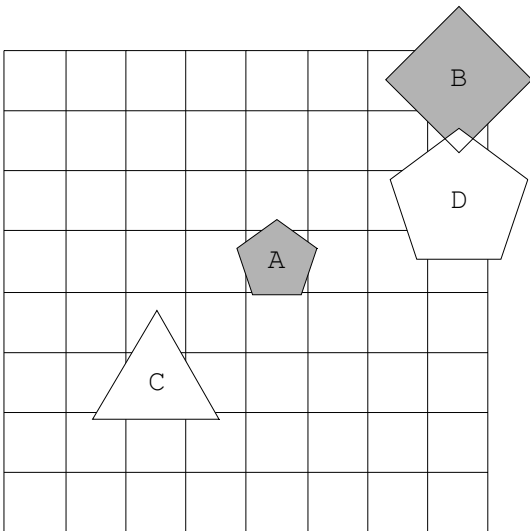
16.



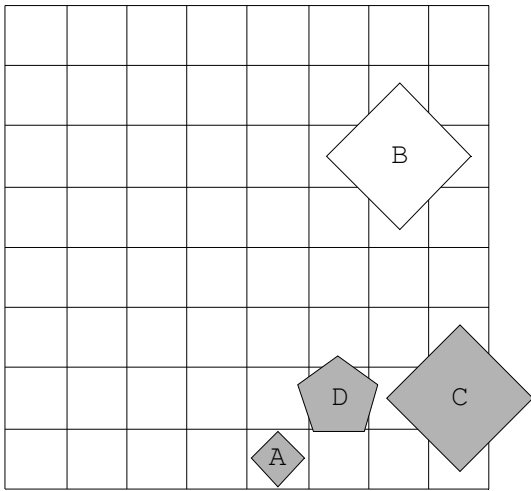
17.



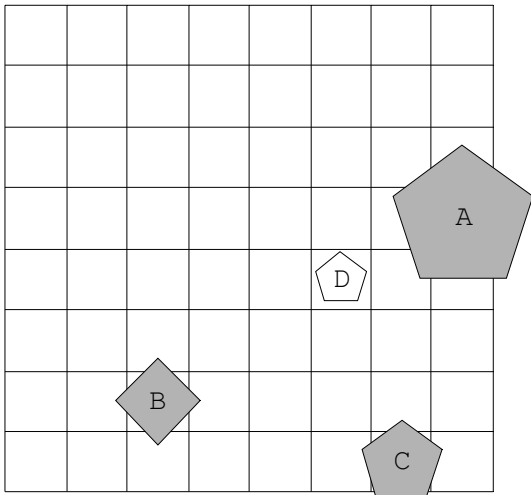
18.



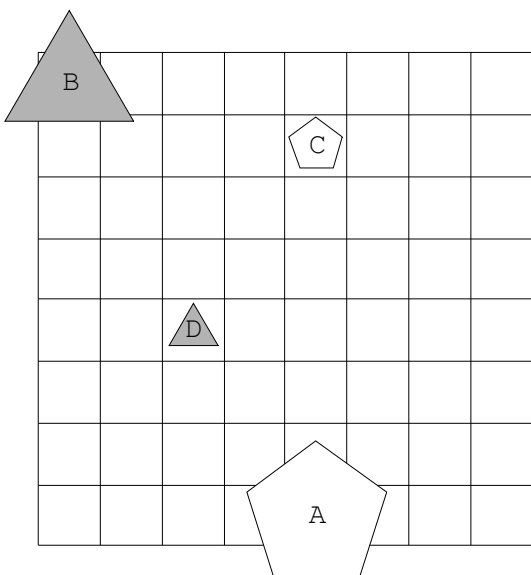
19.



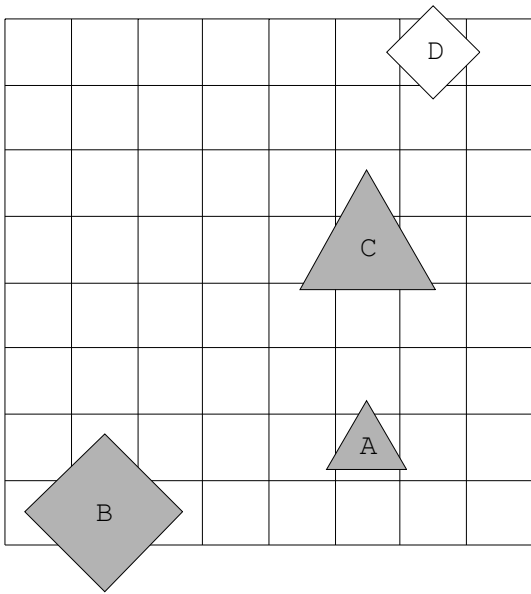
20.



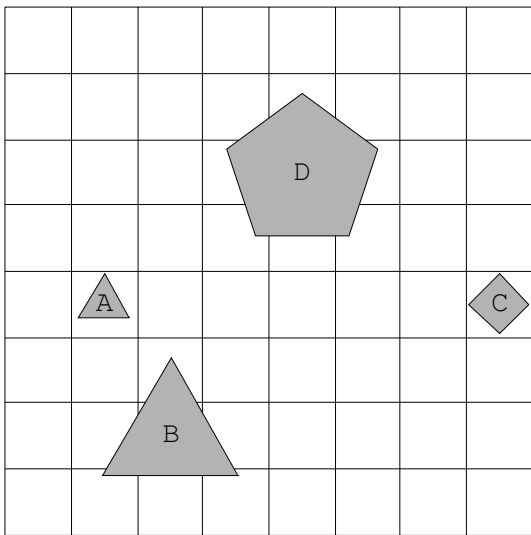
21.



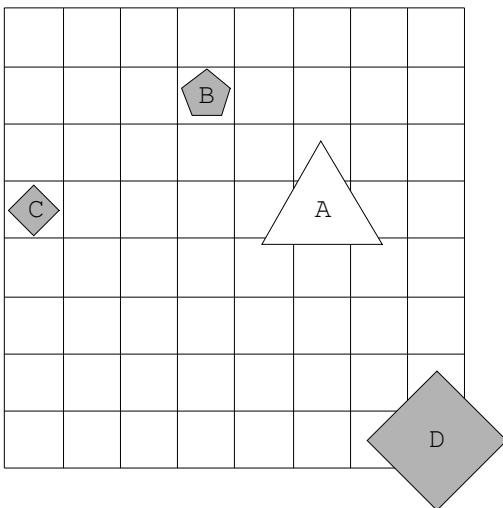
22.



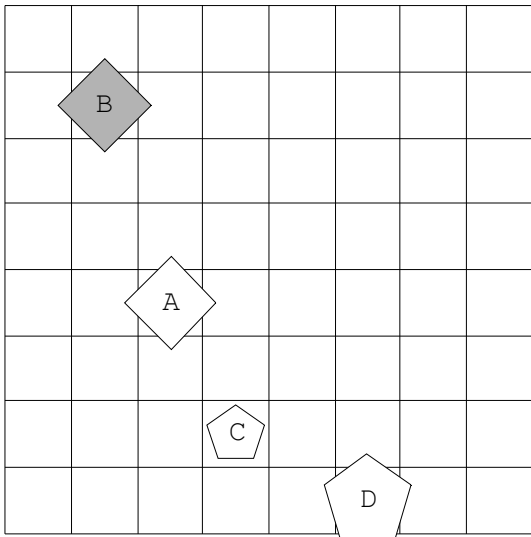
23.



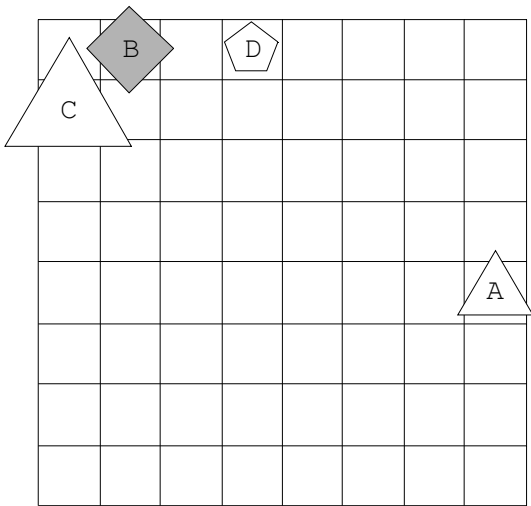
24.



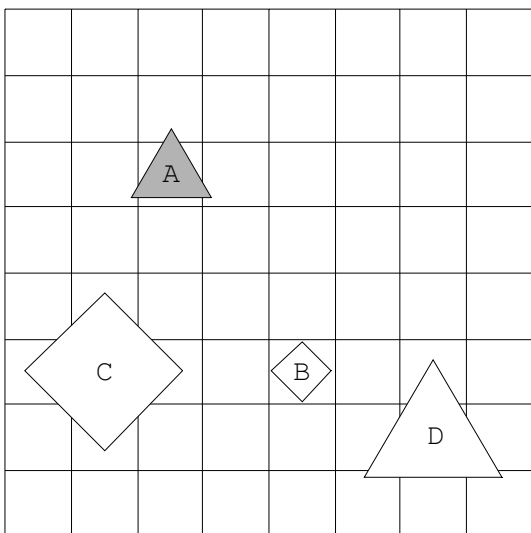
25.



26.

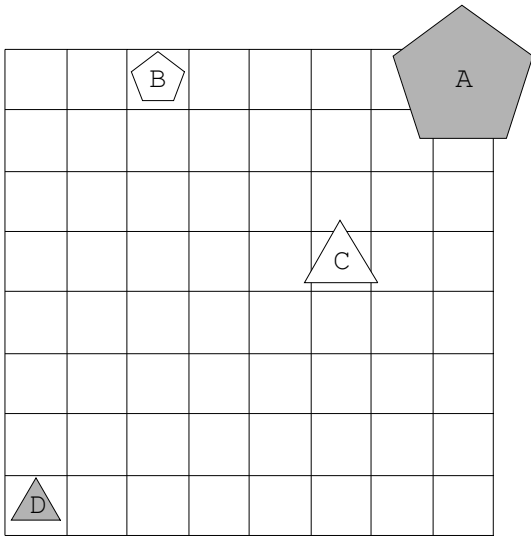


27.

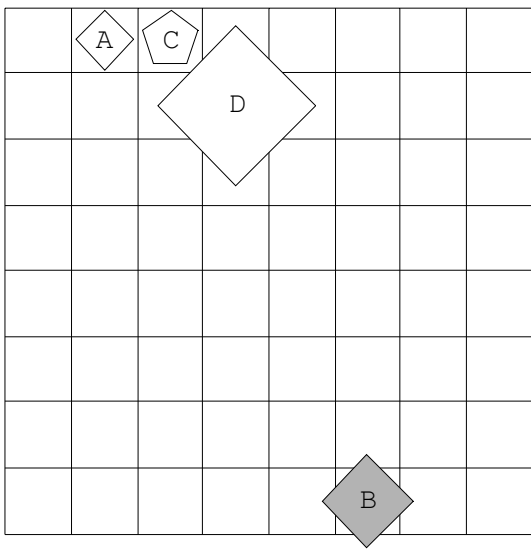




28.



29.



30.

