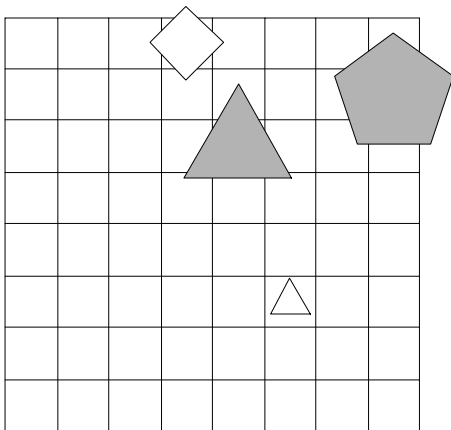


1. Ugotovi imena likov, če poznaš vrednosti stavkov v danem svetu, ki so podane v spodnji tabeli.

1. Ali lik C je bel ali lik B ni kvadrat.
2. Lik C je desno od D, če in samo če je lik A pod D.
3. Ali je lik B nad C ali je lik C večji kot D.
4. Ali je lik A desno od B ali je lik A večji kot B.

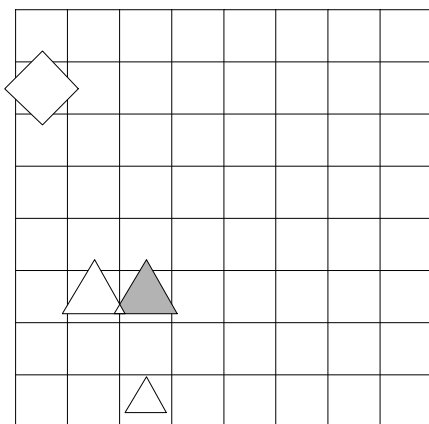
1	2	3	4
R	R	R	N



2. Ugotovi imena likov, če poznaš vrednosti stavkov v danem svetu, ki so podane v spodnji tabeli.

1. Lik B ni kvadrat, če in samo če lik A ni petkotnik.
2. Lik A je nad C ali je lik B večji kot C.
3. Lik B je levo od C in lik C je pod D.
4. Lik B je levo od D ali je lik C nad D.

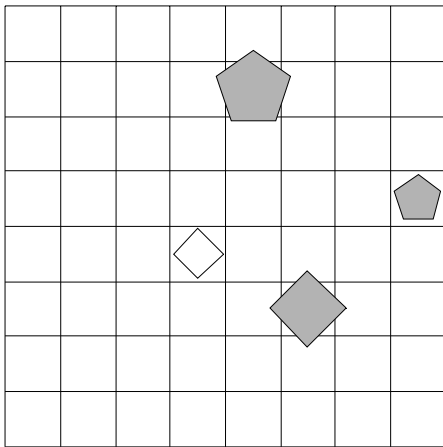
1	2	3	4
R	R	R	N



3. Ugotovi imena likov, če poznaš vrednosti stavkov v danem svetu, ki so podane v spodnji tabeli.

1. Lik B ni kvadrat in lik C je velik.
2. Če je lik A večji kot C, potem je lik A nad C.
3. Lik B je pod D, če in samo če je lik A manjši kot B.
4. Lik B je levo od C in lik A je desno od D.

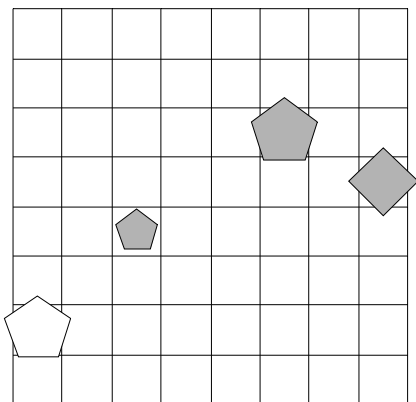
1	2	3	4
N	N	N	N



4. Ugotovi imena likov, če poznaš vrednosti stavkov v danem svetu, ki so podane v spodnji tabeli.

1. Ali lik B ni petkotnik ali lik B ni bel.
2. Lik B je nad C in lik A je pod D.
3. Lik B je manjši kot D ali je lik C desno od D.
4. Lik A je manjši kot D in lik A je pod C.

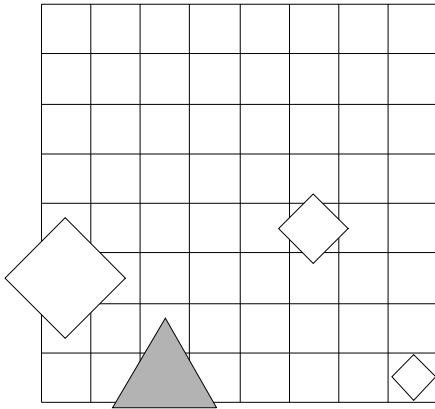
1	2	3	4
N	N	N	R



5. Ugotovi imena likov, če poznaš vrednosti stavkov v danem svetu, ki so podane v spodnji tabeli.

1. Če lik A je bel, potem lik D je kvadrat.
2. Lik A je levo od B, če in samo če je lik A levo od D.
3. Ali je lik A pod D ali je lik B desno od D.
4. Lik A je nad C in lik A je nad B.

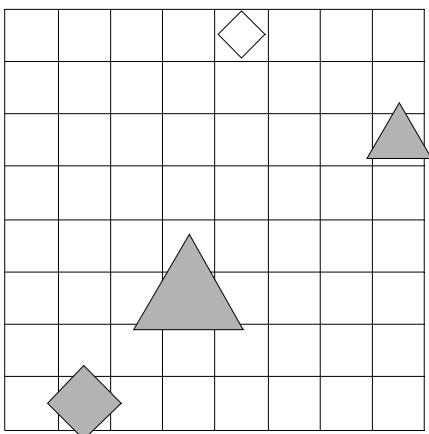
1	2	3	4
N	R	N	N



6. Ugotovi imena likov, če poznaš vrednosti stavkov v danem svetu, ki so podane v spodnji tabeli.

1. Lik B ni bel, če in samo če lik C je kvadrat.
2. Če je lik C pod D, potem je lik A desno od C.
3. Lik A je levo od D in lik A je desno od C.
4. Lik A je desno od B ali je lik B manjši kot C.

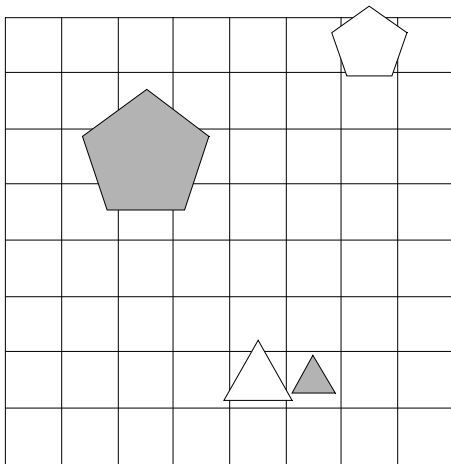
1	2	3	4
N	N	N	N



7. Ugotovi imena likov, če poznaš vrednosti stavkov v danem svetu, ki so podane v spodnji tabeli.

1. Lik A ni kvadrat, če in samo če lik C ni petkotnik.
2. Lik B je manjši kot D in lik A je večji kot D.
3. Ali je lik B nad D ali je lik A manjši kot B.
4. Ali je lik A nad D ali je lik C pod D.

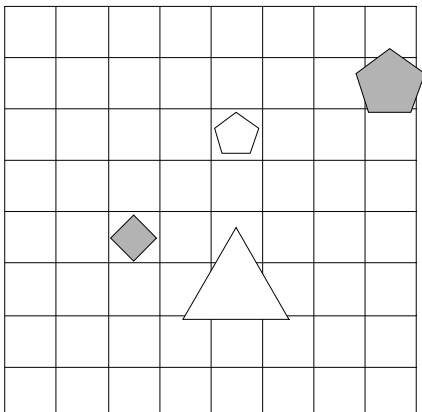
1	2	3	4
N	R	N	R



8. Ugotovi imena likov, če poznaš vrednosti stavkov v danem svetu, ki so podane v spodnji tabeli.

1. Lik C ni srednje velikosti in lik A je srednje velikosti.
2. Ali je lik A levo od B ali je lik A desno od B.
3. Lik C je desno od D ali je lik A manjši kot C.
4. Lik B je desno od C, če in samo če je lik B večji kot D.

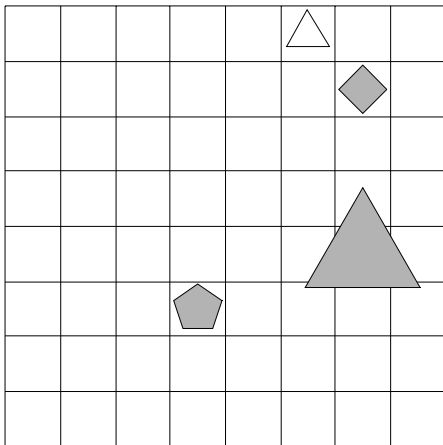
1	2	3	4
N	N	N	N



9. Ugotovi imena likov, če poznaš vrednosti stavkov v danem svetu, ki so podane v spodnji tabeli.

1. Če lik C ni srednje velikosti, potem lik D je trikotnik.
2. Lik B je levo od D ali je lik B nad C.
3. Če je lik A večji kot C, potem je lik A večji kot B.
4. Lik C je desno od D ali je lik A manjši kot B.

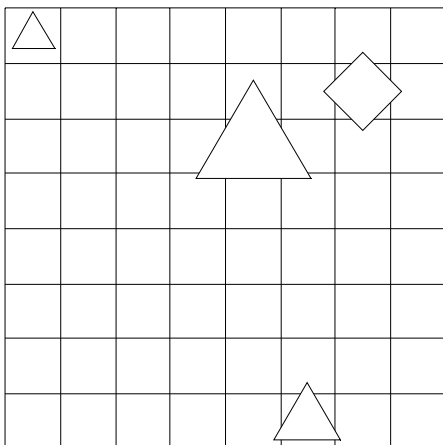
1	2	3	4
R	N	R	R



10. Ugotovi imena likov, če poznaš vrednosti stavkov v danem svetu, ki so podane v spodnji tabeli.

1. Ali lik A ni trikotnik ali lik A je trikotnik.
2. Če je lik C desno od D, potem je lik A pod D.
3. Ali je lik A nad D ali je lik A manjši kot B.
4. Lik C je pod D ali je lik B desno od D.

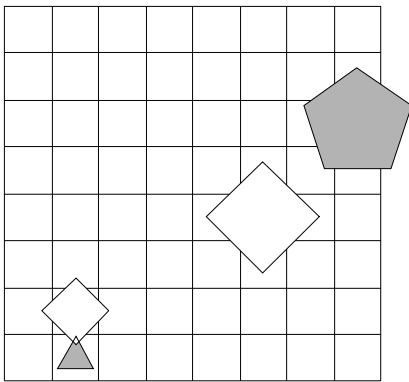
1	2	3	4
R	N	R	R



11. Ugotovi imena likov, če poznaš vrednosti stavkov v danem svetu, ki so podane v spodnji tabeli.

1. Lik A je kvadrat, če in samo če lik C ni kvadrat.
2. Lik A je pod D, če in samo če je lik A levo od C.
3. Če je lik A nad B, potem je lik A pod D.
4. Lik A je manjši kot D, če in samo če je lik B levo od D.

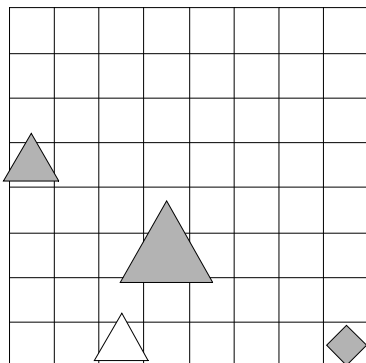
1	2	3	4
N	N	R	N



12. Ugotovi imena likov, če poznaš vrednosti stavkov v danem svetu, ki so podane v spodnji tabeli.

1. Če lik D je kvadrat, potem lik A je velik.
2. Lik A je desno od B, če in samo če je lik C levo od D.
3. Lik A je levo od C, če in samo če je lik A levo od B.
4. Lik A je pod D, če in samo če je lik A nad C.

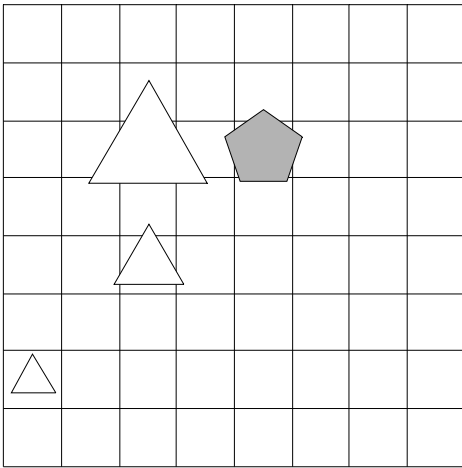
1	2	3	4
R	R	N	R



13. Ugotovi imena likov, če poznaš vrednosti stavkov v danem svetu, ki so podane v spodnji tabeli.

1. Lik B je srednje velikosti in lik A ni bel.
2. Lik B je nad D ali je lik B nad D.
3. Lik B je pod C, če in samo če je lik A nad B.
4. Lik A je manjši kot B ali je lik A pod B.

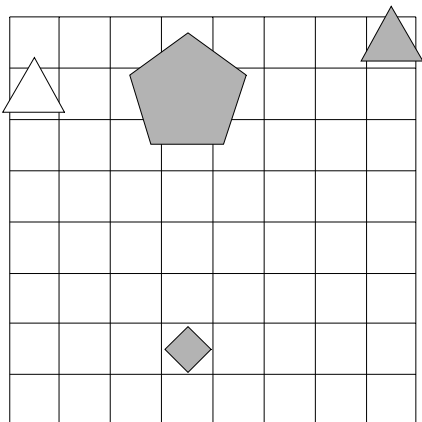
1	2	3	4
R	N	N	N



14. Ugotovi imena likov, če poznaš vrednosti stavkov v danem svetu, ki so podane v spodnji tabeli.

1. Če lik A je srednje velikosti, potem lik D ni kvadrat.
2. Ali je lik A pod C ali je lik B pod D.
3. Lik A je pod B, če in samo če je lik C nad D.
4. Ali je lik A pod D ali je lik C desno od D.

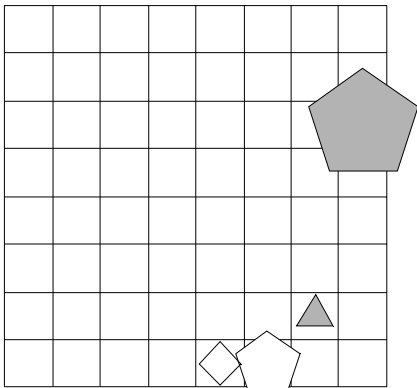
1	2	3	4
R	N	R	R



15. Ugotovi imena likov, če poznaš vrednosti stavkov v danem svetu, ki so podane v spodnji tabeli.

1. Ali lik B ni velik ali lik A ni kvadrat.
2. Ali je lik B nad C ali je lik A desno od D.
3. Lik A je večji kot B, če in samo če je lik C pod D.
4. Lik A je večji kot D, če in samo če je lik A desno od D.

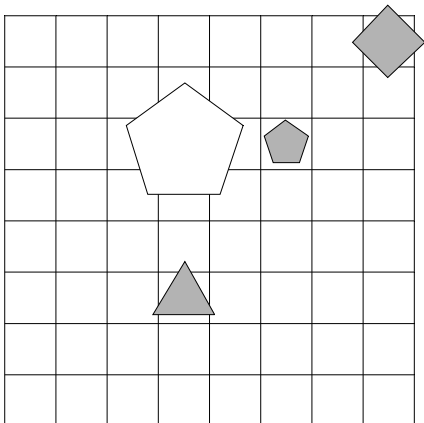
1	2	3	4
R	R	N	R



16. Ugotovi imena likov, če poznaš vrednosti stavkov v danem svetu, ki so podane v spodnji tabeli.

1. Lik C je velik, če in samo če lik A je bel.
2. Ali je lik A večji kot B ali je lik A manjši kot B.
3. Lik C je nad D ali je lik A pod D.
4. Lik A je levo od B in lik A je desno od C.

1	2	3	4
N	N	R	N

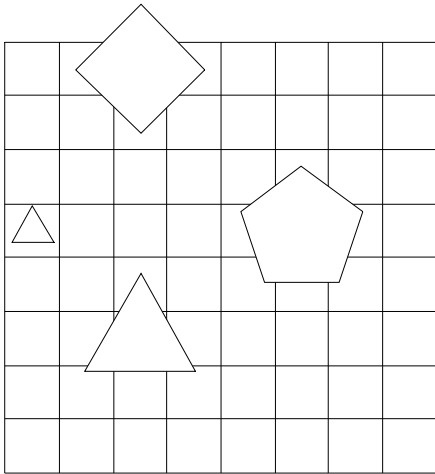




17. Ugotovi imena likov, če poznaš vrednosti stavkov v danem svetu, ki so podane v spodnji tabeli.

1. Lik C je trikotnik ali lik A je velik.
2. Lik C je večji kot D in lik B je desno od C.
3. Ali je lik A levo od C ali je lik B manjši kot D.
4. Lik B je nad D ali je lik C nad D.

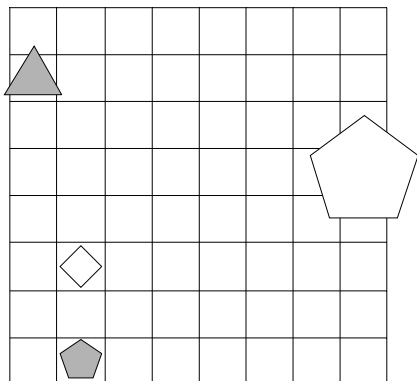
1	2	3	4
R	R	N	N



18. Ugotovi imena likov, če poznaš vrednosti stavkov v danem svetu, ki so podane v spodnji tabeli.

1. Lik D ni velik ali lik D ni siv.
2. Lik A je večji kot C ali je lik A pod B.
3. Če je lik A manjši kot B, potem je lik A pod C.
4. Lik A je nad B ali je lik C levo od D.

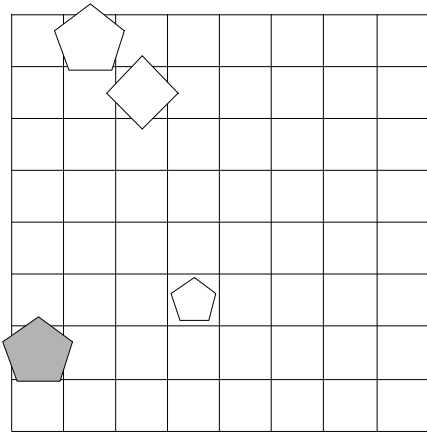
1	2	3	4
R	R	N	N



19. Ugotovi imena likov, če poznaš vrednosti stavkov v danem svetu, ki so podane v spodnji tabeli.

1. Če lik C je bel, potem lik B ni majhen.
2. Lik B je večji kot D, če in samo če je lik B desno od C.
3. Lik A je manjši kot D in lik A je nad D.
4. Lik C je desno od D in lik B je pod D.

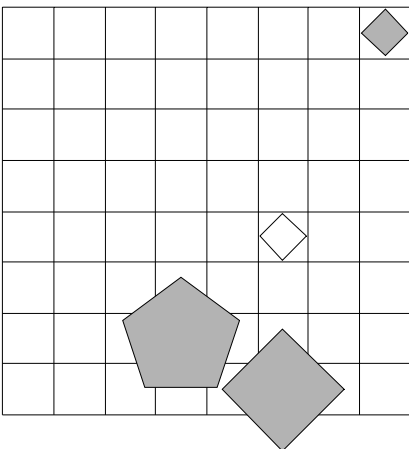
1	2	3	4
N	N	N	R



20. Ugotovi imena likov, če poznaš vrednosti stavkov v danem svetu, ki so podane v spodnji tabeli.

1. Ali lik B je srednje velikosti ali lik C ni petkotnik.
2. Ali je lik C manjši kot D ali je lik C nad D.
3. Lik A je desno od C in lik A je desno od C.
4. Lik C je manjši kot D ali je lik A levo od B.

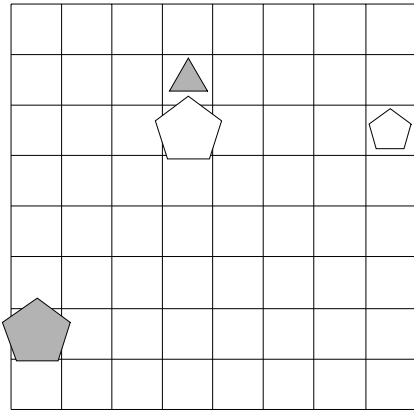
1	2	3	4
R	R	N	N



21. Ugotovi imena likov, če poznaš vrednosti stavkov v danem svetu, ki so podane v spodnji tabeli.

1. Ali lik C je velik ali lik C je petkotnik.
2. Lik B je pod D in lik C je manjši kot D.
3. Lik A je desno od D, če in samo če je lik B pod D.
4. Lik A je desno od B ali je lik B levo od C.

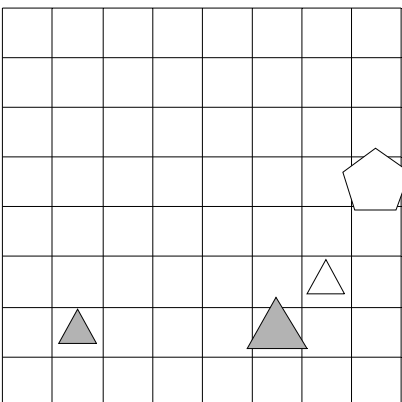
1	2	3	4
N	N	N	N



22. Ugotovi imena likov, če poznaš vrednosti stavkov v danem svetu, ki so podane v spodnji tabeli.

1. Če lik B je majhen, potem lik C ni velik.
2. Lik C je nad D ali je lik A levo od C.
3. Če je lik B manjši kot C, potem je lik B manjši kot D.
4. Lik C je desno od D, če in samo če je lik B manjši kot C.

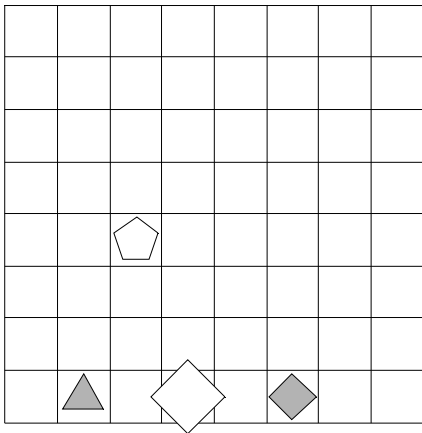
1	2	3	4
R	N	N	R



23. Ugotovi imena likov, če poznaš vrednosti stavkov v danem svetu, ki so podane v spodnji tabeli.

1. Lik B ni srednje velikosti, če in samo če lik C ni siv.
2. Če je lik C levo od D, potem je lik A manjši kot C.
3. Lik A je manjši kot C in lik A je desno od D.
4. Lik A je levo od C ali je lik A pod B.

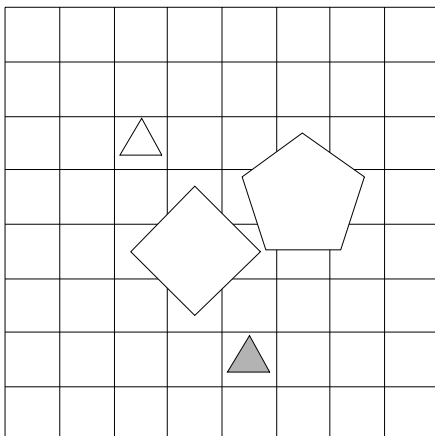
1	2	3	4
R	R	N	N



24. Ugotovi imena likov, če poznaš vrednosti stavkov v danem svetu, ki so podane v spodnji tabeli.

1. Lik C ni bel ali lik C ni srednje velikosti.
2. Če je lik B večji kot C, potem je lik B pod C.
3. Če je lik A desno od C, potem je lik C pod D.
4. Ali je lik B nad C ali je lik A levo od C.

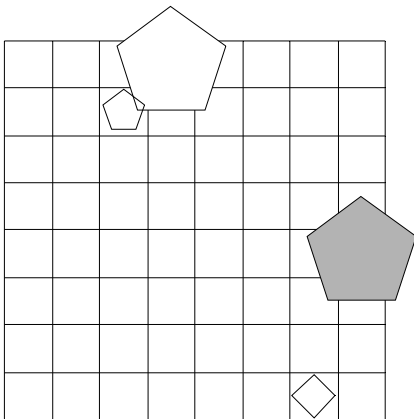
1	2	3	4
R	N	R	R



25. Ugotovi imena likov, če poznaš vrednosti stavkov v danem svetu, ki so podane v spodnji tabeli.

1. Če lik C je kvadrat, potem lik C ni bel.
2. Lik A je večji kot B ali je lik B desno od C.
3. Če je lik B večji kot D, potem je lik C pod D.
4. Lik B je večji kot D ali je lik C večji kot D.

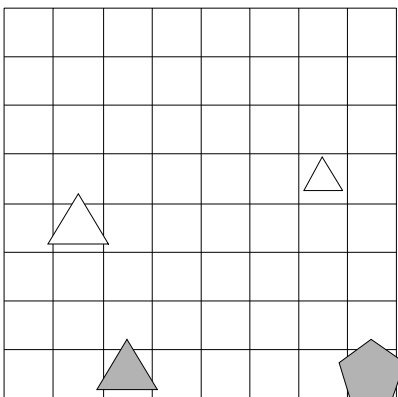
1	2	3	4
R	N	N	R



26. Ugotovi imena likov, če poznaš vrednosti stavkov v danem svetu, ki so podane v spodnji tabeli.

1. Lik D je bel, če in samo če lik A je bel.
2. Ali je lik B pod C ali je lik A levo od B.
3. Lik A je desno od C in lik A je levo od D.
4. Če je lik B nad C, potem je lik A pod B.

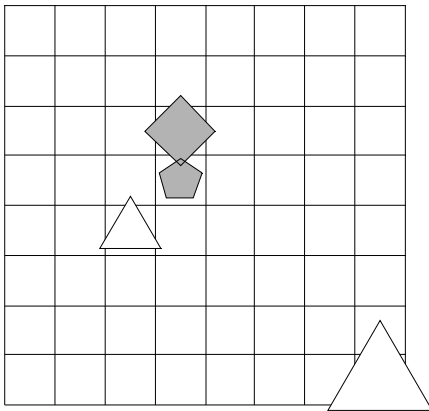
1	2	3	4
N	N	R	R



27. Ugotovi imena likov, če poznaš vrednosti stavkov v danem svetu, ki so podane v spodnji tabeli.

1. Lik A je srednje velikosti, če in samo če lik B je srednje velikosti.
2. Lik A je večji kot B ali je lik A večji kot C.
3. Lik B je levo od D in lik B je pod D.
4. Lik B je manjši kot C ali je lik C pod D.

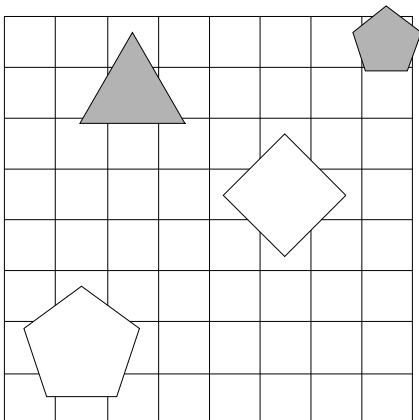
1	2	3	4
R	N	R	R



28. Ugotovi imena likov, če poznaš vrednosti stavkov v danem svetu, ki so podane v spodnji tabeli.

1. Lik D ni petkotnik, če in samo če lik D je kvadrat.
2. Ali je lik A pod B ali je lik C levo od D.
3. Lik B je desno od D in lik C je večji kot D.
4. Lik A je večji kot C, če in samo če je lik C desno od D.

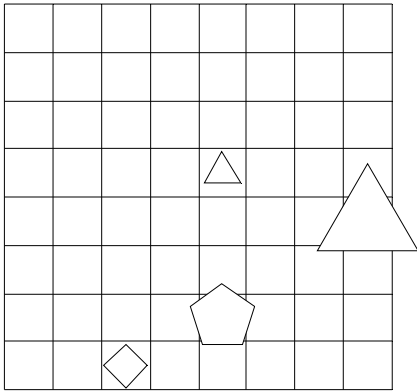
1	2	3	4
N	R	N	N



29. Ugotovi imena likov, če poznaš vrednosti stavkov v danem svetu, ki so podane v spodnji tabeli.

1. Lik D je bel in lik B ni srednje velikosti.
2. Lik A je pod D ali je lik C levo od D.
3. Ali je lik C nad D ali je lik B manjši kot D.
4. Če je lik B nad C, potem je lik A večji kot B.

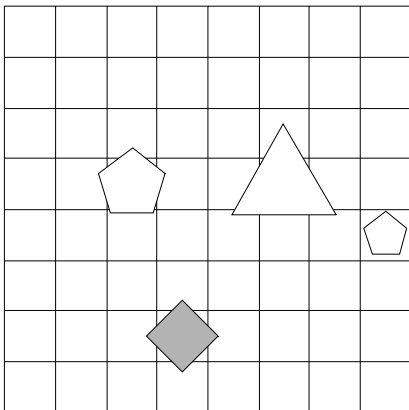
1	2	3	4
R	R	R	N



30. Ugotovi imena likov, če poznaš vrednosti stavkov v danem svetu, ki so podane v spodnji tabeli.

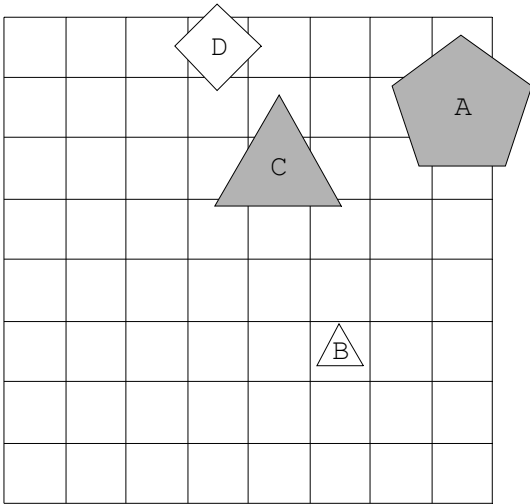
1. Lik D ni siv in lik D je trikotnik.
2. Če je lik A levo od C, potem je lik A desno od D.
3. Ali je lik B večji kot C ali je lik A desno od C.
4. Lik B je manjši kot D, če in samo če je lik A desno od B.

1	2	3	4
N	N	N	R

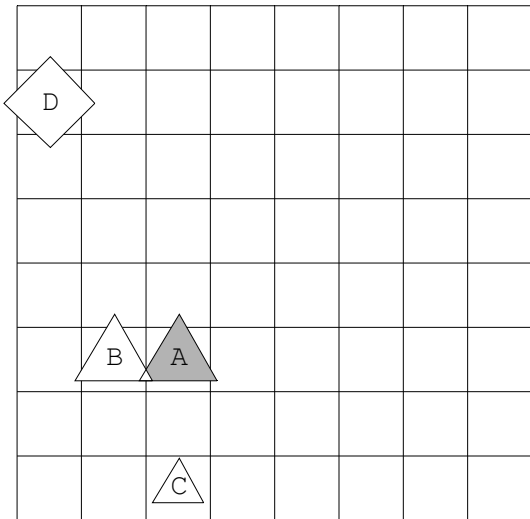


Rešitve

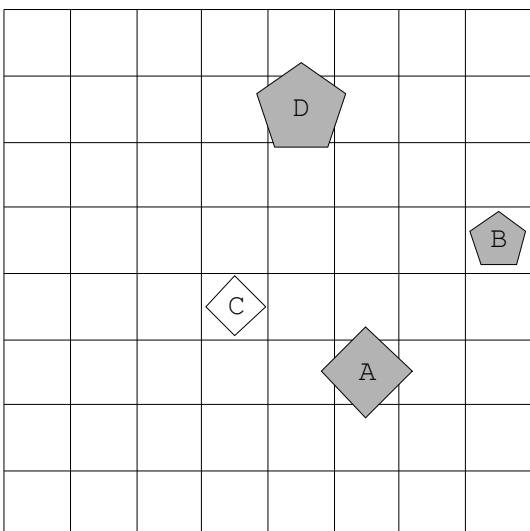
1.



2.

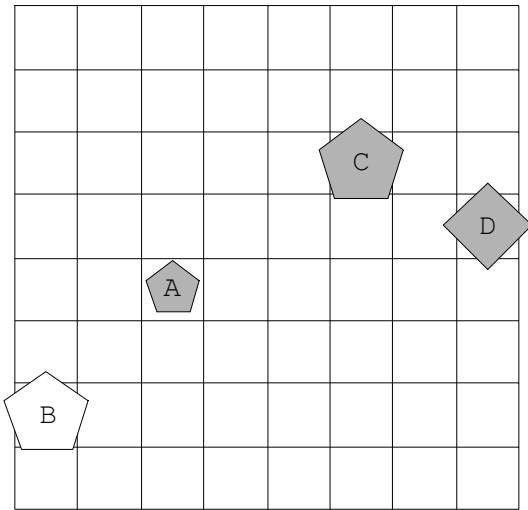


3.

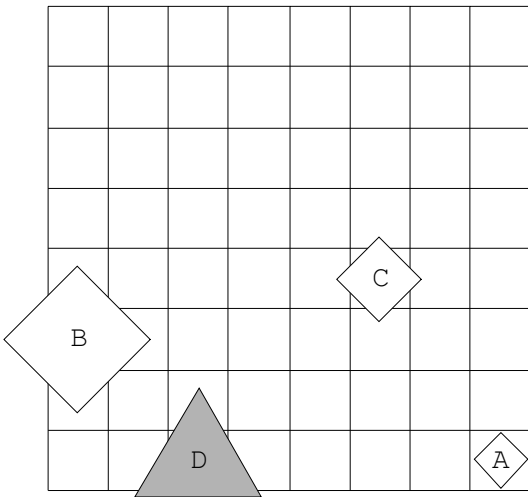




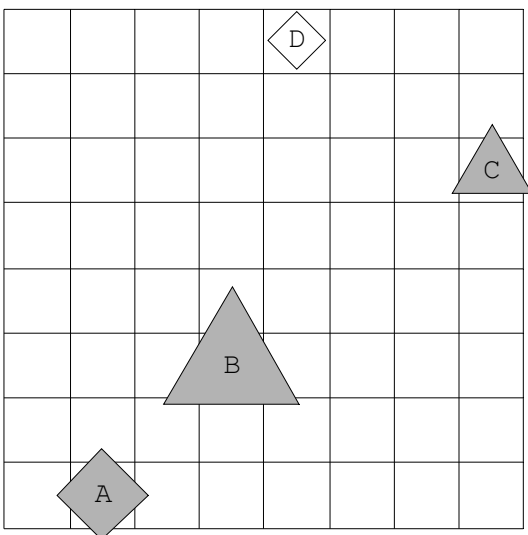
4.



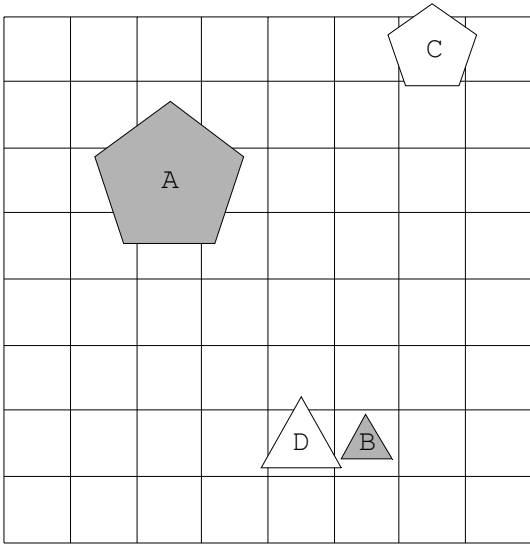
5.



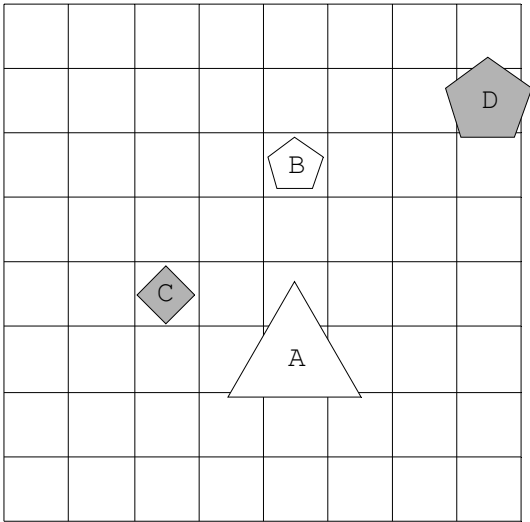
6.



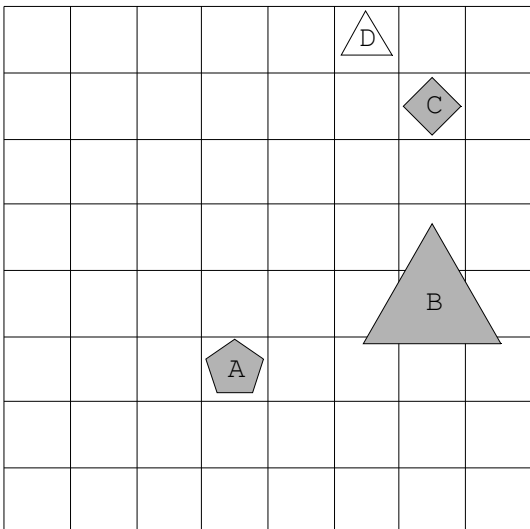
7.



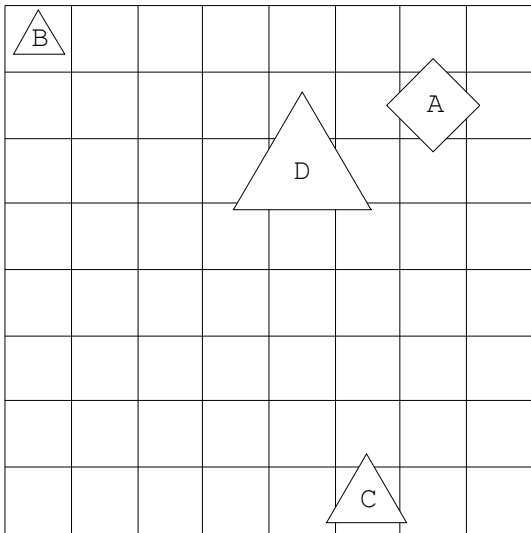
8.



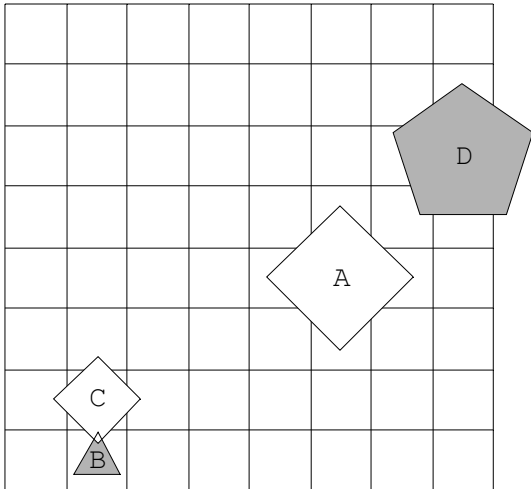
9.



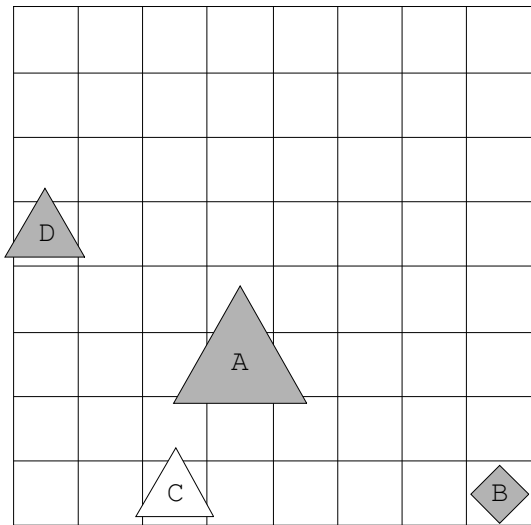
10.



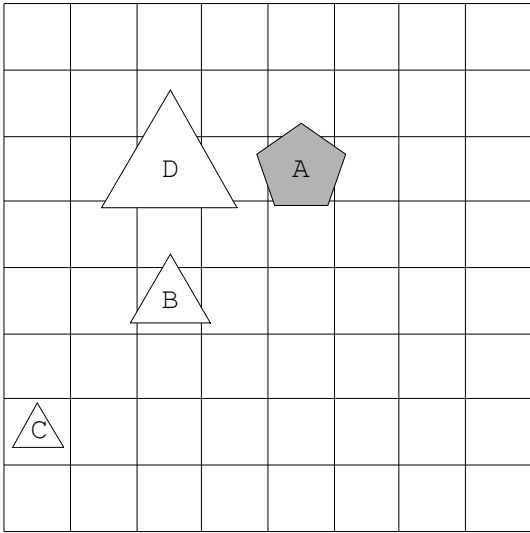
11.



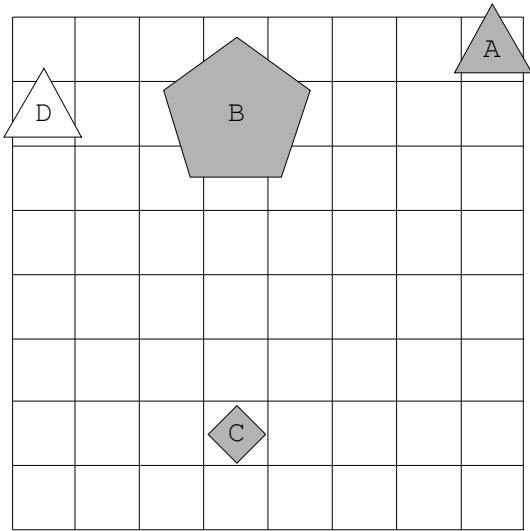
12.



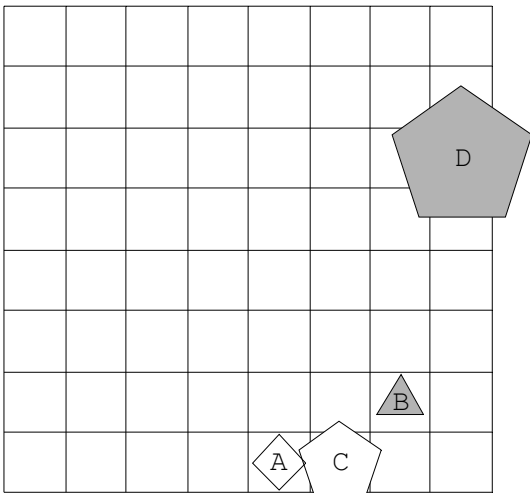
13.



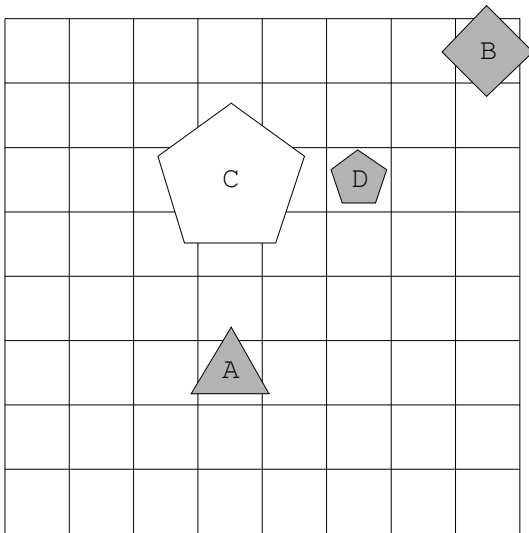
14.



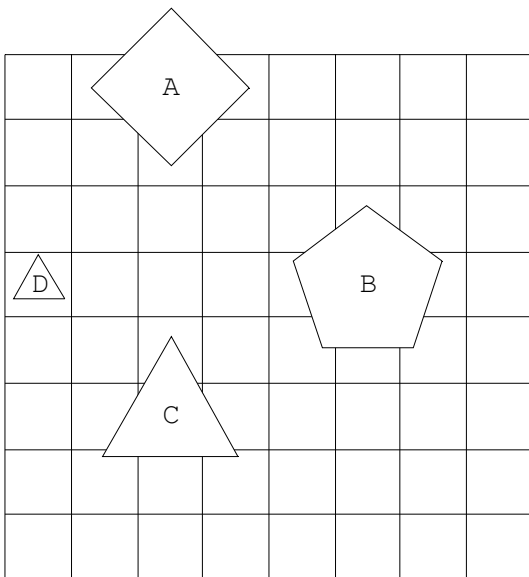
15.



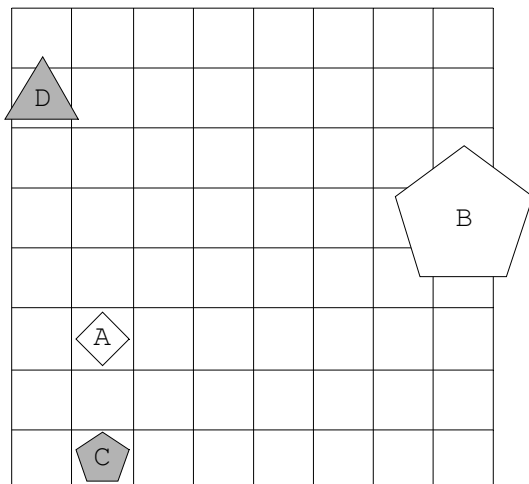
16.



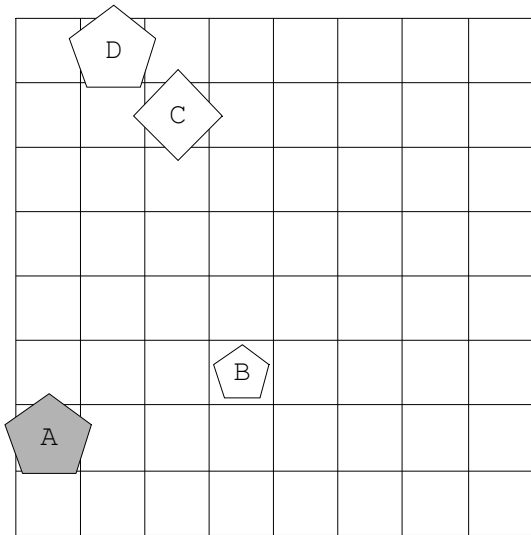
17.



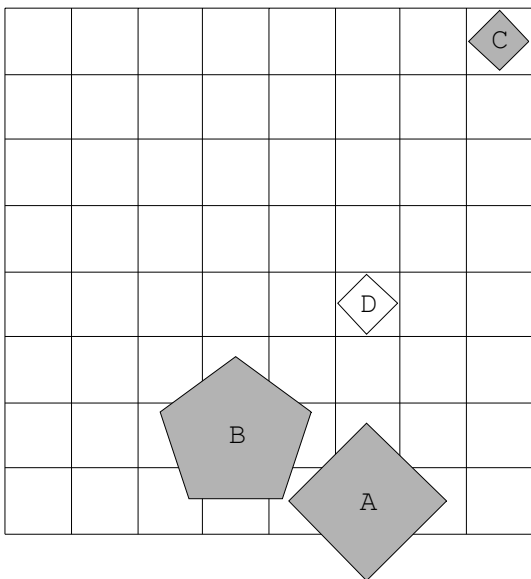
18.



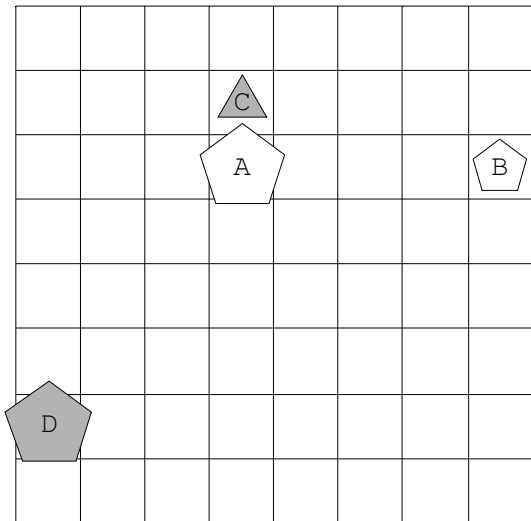
19.



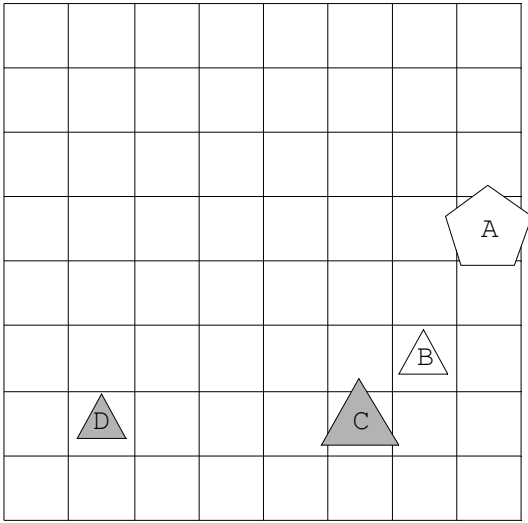
20.



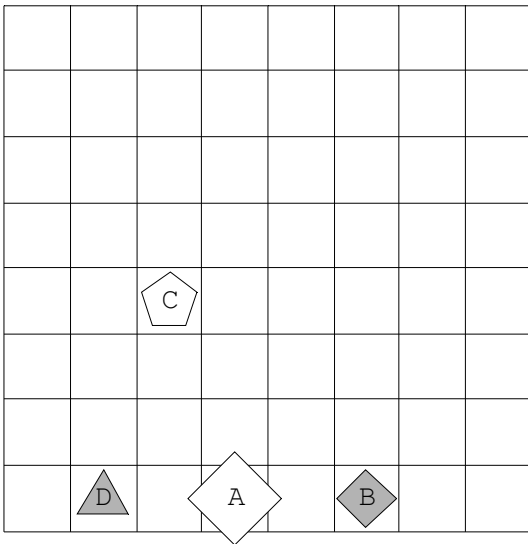
21.



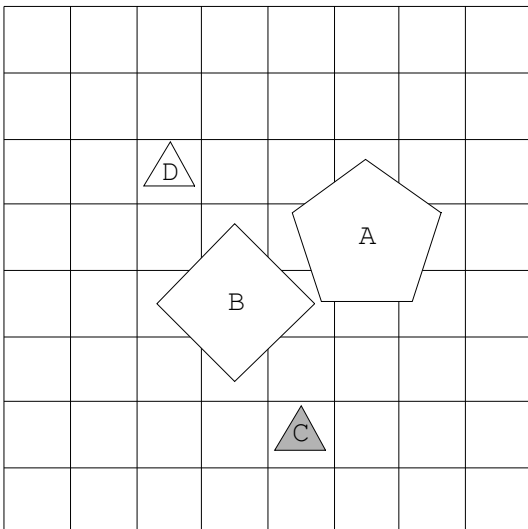
22.



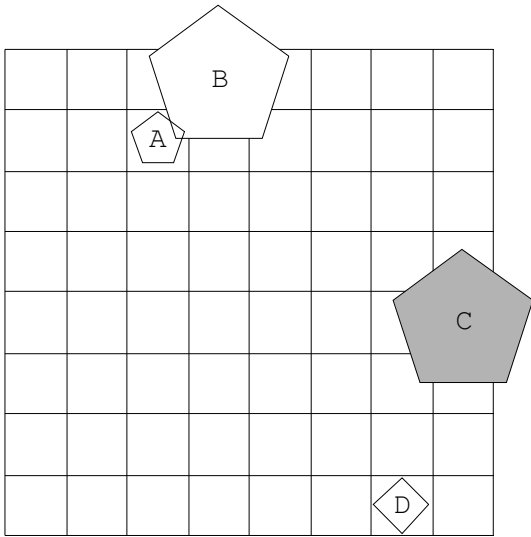
23.



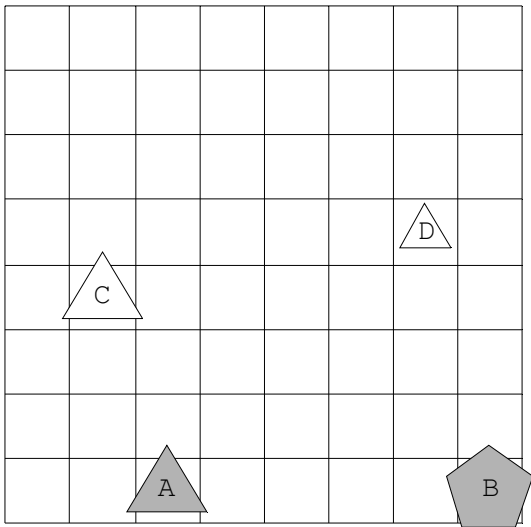
24.



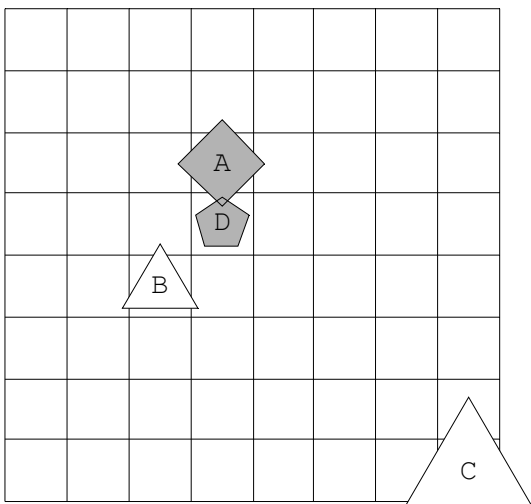
25.



26.

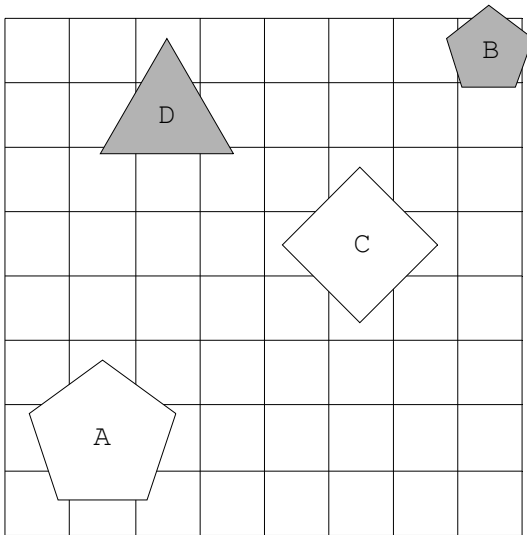


27.

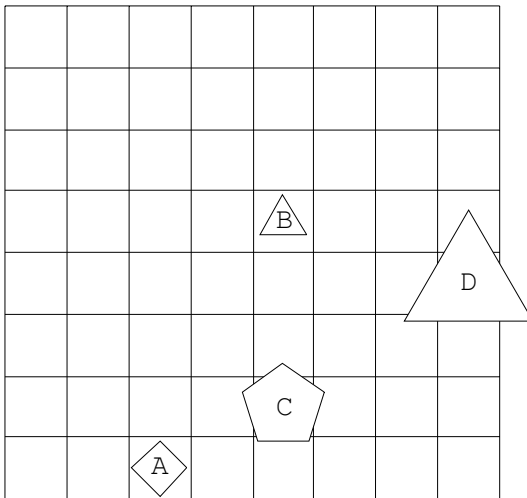




28.



29.



30.

