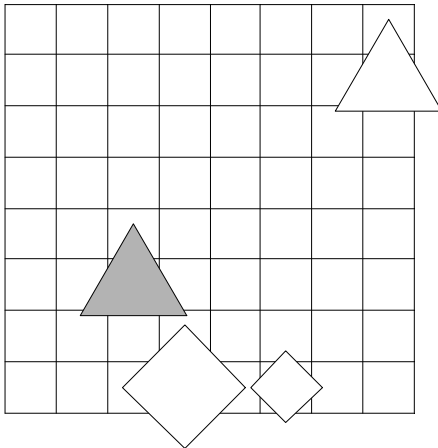


1. Ugotovi imena likov, če poznaš vrednosti stavkov v danem svetu, ki so podane v spodnji tabeli.

1. Lik A je nad C in lik B je levo od D.
2. Ali je lik A manjši kot B ali je lik A desno od C.
3. Lik A je levo od B in lik B je večji kot D.
4. Ali je lik C desno od D ali je lik A manjši kot C.

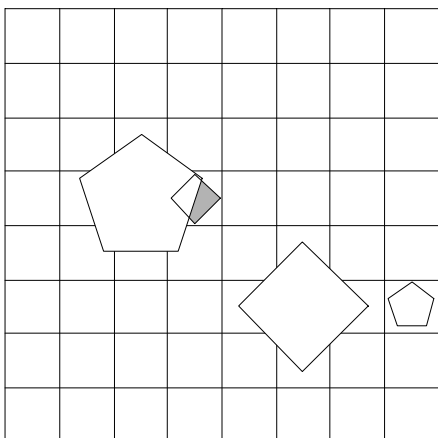
1	2	3	4
N	N	R	N



2. Ugotovi imena likov, če poznaš vrednosti stavkov v danem svetu, ki so podane v spodnji tabeli.

1. Lik A je pod D ali je lik B levo od D.
2. Ali je lik B manjši kot C ali je lik A manjši kot C.
3. Ali je lik A večji kot D ali je lik A pod D.
4. Če je lik A levo od C, potem je lik A desno od C.

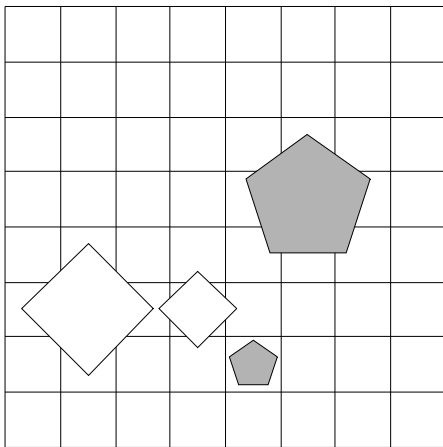
1	2	3	4
N	N	N	R



3. Ugotovi imena likov, če poznaš vrednosti stavkov v danem svetu, ki so podane v spodnji tabeli.

1. Če je lik A pod D, potem je lik B nad D.
2. Ali je lik B pod C ali je lik B pod C.
3. Lik B je pod C, če in samo če je lik A večji kot C.
4. Lik C je levo od D, če in samo če je lik A večji kot D.

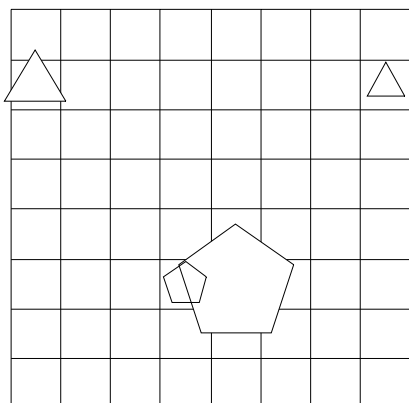
1	2	3	4
R	N	R	N



4. Ugotovi imena likov, če poznaš vrednosti stavkov v danem svetu, ki so podane v spodnji tabeli.

1. Ali je lik B levo od C ali je lik B pod C.
2. Če je lik C manjši kot D, potem je lik C pod D.
3. Ali je lik B manjši kot D ali je lik A levo od C.
4. Če je lik A desno od D, potem je lik B večji kot C.

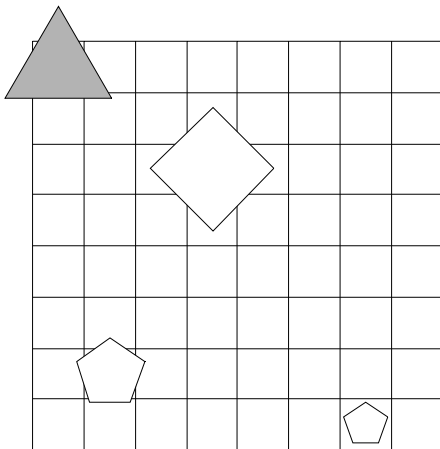
1	2	3	4
R	N	N	R



5. Ugotovi imena likov, če poznaš vrednosti stavkov v danem svetu, ki so podane v spodnji tabeli.

1. Če je lik B pod D, potem je lik C levo od D.
2. Lik C je levo od D in lik A je večji kot B.
3. Lik A je manjši kot B in lik A je večji kot C.
4. Ali je lik B nad C ali je lik C pod D.

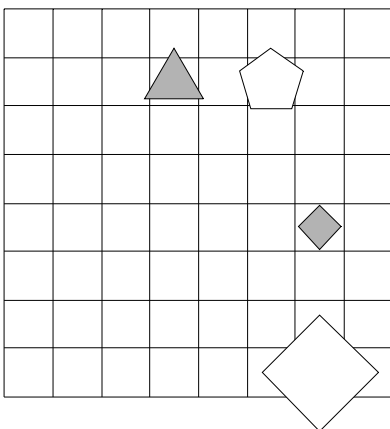
1	2	3	4
N	N	R	N



6. Ugotovi imena likov, če poznaš vrednosti stavkov v danem svetu, ki so podane v spodnji tabeli.

1. Ali je lik A manjši kot C ali je lik A desno od B.
2. Lik B je levo od D in lik B je levo od C.
3. Če je lik B levo od D, potem je lik A pod C.
4. Ali je lik C manjši kot D ali je lik A desno od B.

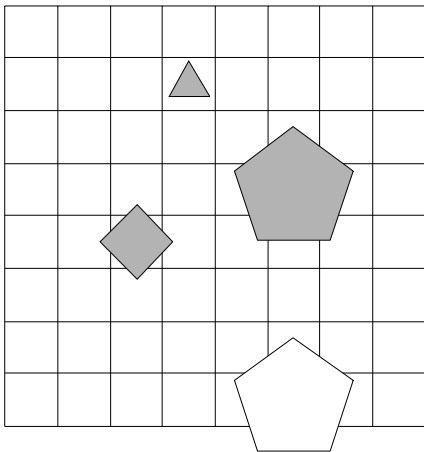
1	2	3	4
R	R	R	N



7. Ugotovi imena likov, če poznaš vrednosti stavkov v danem svetu, ki so podane v spodnji tabeli.

1. Lik A je večji kot D in lik B je večji kot D.
2. Ali je lik A manjši kot C ali je lik B nad C.
3. Lik A je nad C ali je lik A pod D.
4. Lik B je desno od D ali je lik A nad C.

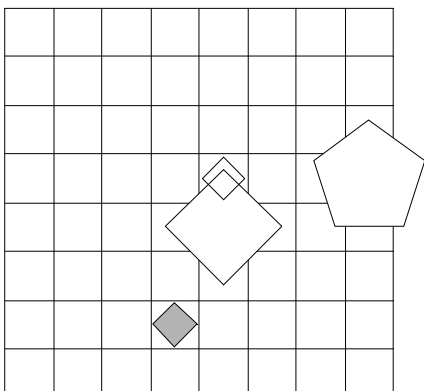
1	2	3	4
R	N	R	N



8. Ugotovi imena likov, če poznaš vrednosti stavkov v danem svetu, ki so podane v spodnji tabeli.

1. Ali je lik C pod D ali je lik A desno od C.
2. Lik A je desno od C, če in samo če je lik A manjši kot D.
3. Ali je lik B nad C ali je lik C večji kot D.
4. Lik B je nad D ali je lik A nad C.

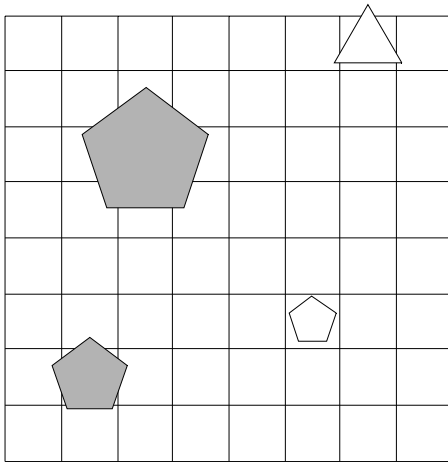
1	2	3	4
R	N	R	N



9. Ugotovi imena likov, če poznaš vrednosti stavkov v danem svetu, ki so podane v spodnji tabeli.

1. Lik A je manjši kot B in lik B je desno od D.
2. Če je lik A manjši kot D, potem je lik A pod B.
3. Lik A je levo od B in lik A je levo od B.
4. Lik B je pod D in lik A je desno od D.

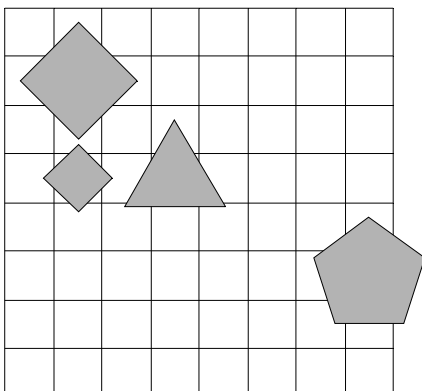
1	2	3	4
N	R	N	R



10. Ugotovi imena likov, če poznaš vrednosti stavkov v danem svetu, ki so podane v spodnji tabeli.

1. Lik A je desno od C ali je lik A manjši kot C.
2. Lik A je pod C in lik B je levo od C.
3. Ali je lik B nad C ali je lik C večji kot D.
4. Lik A je desno od D in lik B je manjši kot C.

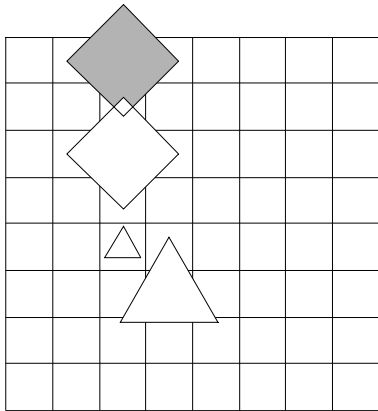
1	2	3	4
R	N	N	R



11. Ugotovi imena likov, če poznaš vrednosti stavkov v danem svetu, ki so podane v spodnji tabeli.

1. Če je lik A manjši kot D, potem je lik B večji kot D.
2. Ali je lik A pod D ali je lik B nad D.
3. Če je lik A desno od B, potem je lik A manjši kot D.
4. Ali je lik C desno od D ali je lik A pod D.

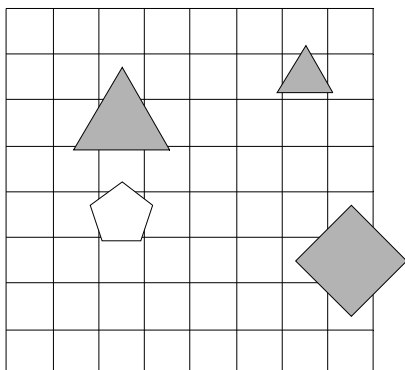
1	2	3	4
N	N	R	N



12. Ugotovi imena likov, če poznaš vrednosti stavkov v danem svetu, ki so podane v spodnji tabeli.

1. Če je lik C pod D, potem je lik A manjši kot B.
2. Če je lik A desno od C, potem je lik B levo od D.
3. Ali je lik C večji kot D ali je lik A desno od C.
4. Lik B je večji kot D ali je lik B levo od C.

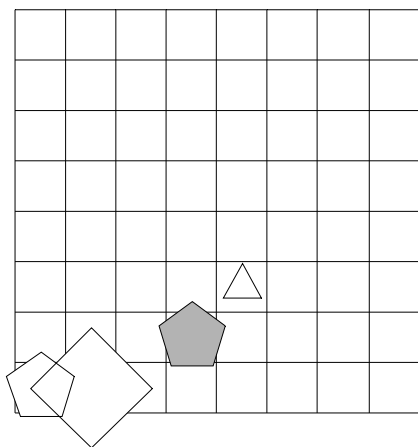
1	2	3	4
N	N	R	N



13. Ugotovi imena likov, če poznaš vrednosti stavkov v danem svetu, ki so podane v spodnji tabeli.

1. Lik B je pod C, če in samo če je lik A nad C.
2. Ali je lik B manjši kot C ali je lik B nad D.
3. Če je lik B desno od C, potem je lik A nad D.
4. Lik A je desno od D, če in samo če je lik A večji kot D.

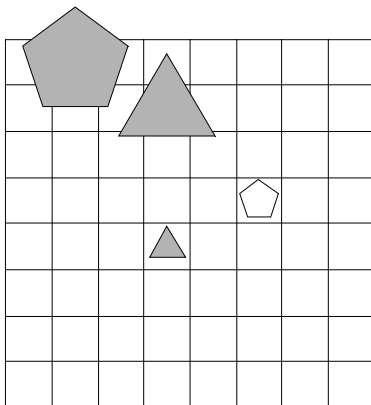
1	2	3	4
N	N	R	R



14. Ugotovi imena likov, če poznaš vrednosti stavkov v danem svetu, ki so podane v spodnji tabeli.

1. Lik A je pod B in lik A je nad B.
2. Če je lik A levo od D, potem je lik A manjši kot B.
3. Lik A je nad B in lik A je nad B.
4. Lik A je levo od C, če in samo če je lik B manjši kot C.

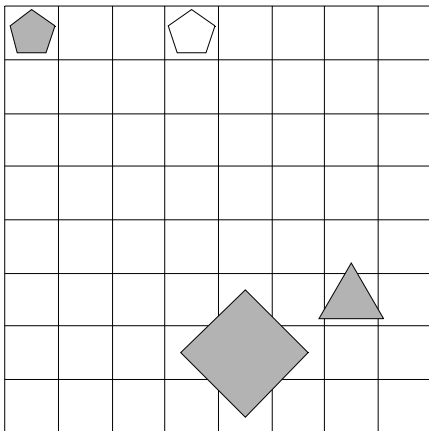
1	2	3	4
N	R	R	R



15. Ugotovi imena likov, če poznaš vrednosti stavkov v danem svetu, ki so podane v spodnji tabeli.

1. Lik B je manjši kot C in lik B je levo od D.
2. Lik A je pod B, če in samo če je lik A večji kot C.
3. Lik A je desno od D in lik A je manjši kot B.
4. Ali je lik A desno od D ali je lik B desno od D.

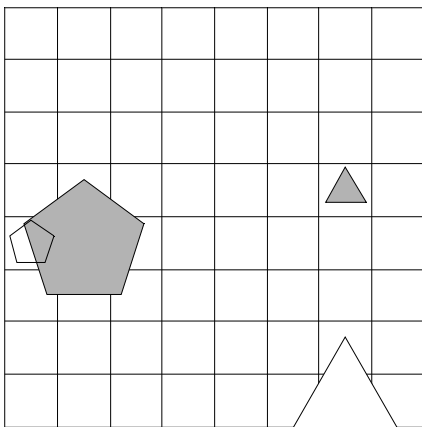
1	2	3	4
R	R	N	R



16. Ugotovi imena likov, če poznaš vrednosti stavkov v danem svetu, ki so podane v spodnji tabeli.

1. Ali je lik B manjši kot C ali je lik B manjši kot D.
2. Lik B je pod D, če in samo če je lik A manjši kot B.
3. Ali je lik C večji kot D ali je lik A pod D.
4. Lik B je manjši kot D in lik C je nad D.

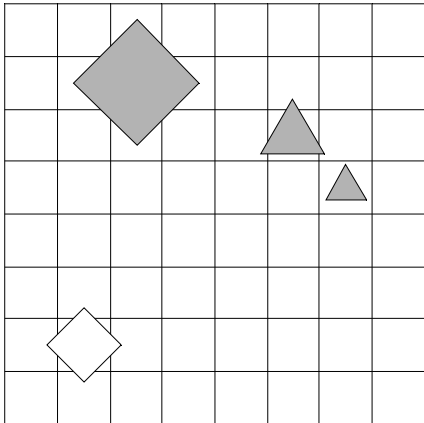
1	2	3	4
R	R	R	R



17. Ugotovi imena likov, če poznaš vrednosti stavkov v danem svetu, ki so podane v spodnji tabeli.

1. Lik B je desno od C in lik B je desno od D.
2. Ali je lik B pod D ali je lik A desno od B.
3. Lik A je nad B ali je lik A manjši kot D.
4. Lik A je manjši kot D ali je lik B levo od C.

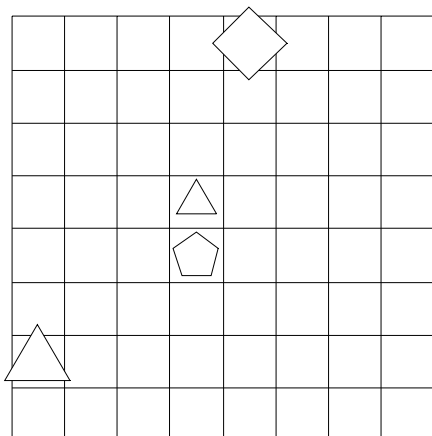
1	2	3	4
R	R	N	N



18. Ugotovi imena likov, če poznaš vrednosti stavkov v danem svetu, ki so podane v spodnji tabeli.

1. Lik A je levo od B, če in samo če je lik A nad C.
2. Lik C je pod D in lik B je levo od D.
3. Lik B je pod C ali je lik B nad D.
4. Lik A je manjši kot B, če in samo če je lik A levo od D.

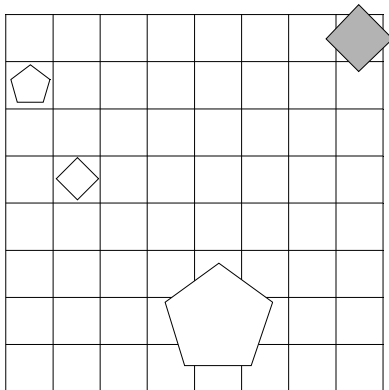
1	2	3	4
N	N	N	R



19. Ugotovi imena likov, če poznaš vrednosti stavkov v danem svetu, ki so podane v spodnji tabeli.

1. Lik B je pod D ali je lik A manjši kot C.
2. Če je lik A nad D, potem je lik B pod C.
3. Ali je lik A nad B ali je lik B pod C.
4. Lik A je desno od C, če in samo če je lik B pod C.

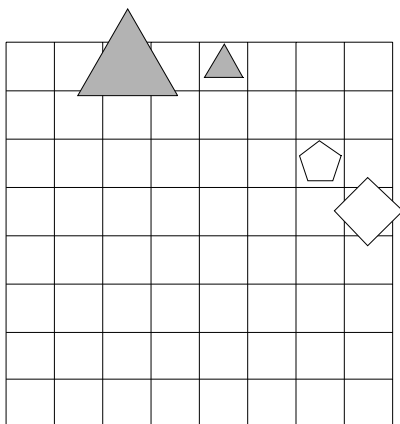
1	2	3	4
N	N	N	R



20. Ugotovi imena likov, če poznaš vrednosti stavkov v danem svetu, ki so podane v spodnji tabeli.

1. Če je lik A nad B, potem je lik B desno od D.
2. Lik A je manjši kot C, če in samo če je lik B nad D.
3. Lik B je nad D in lik B je večji kot C.
4. Če je lik A manjši kot B, potem je lik B večji kot D.

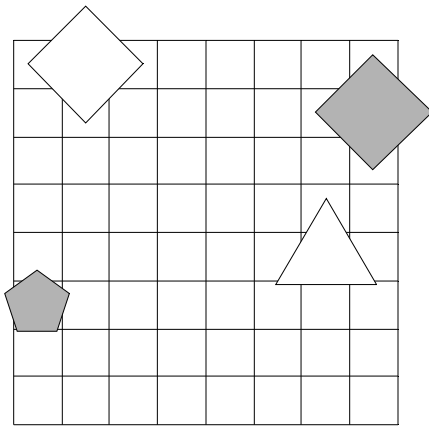
1	2	3	4
R	R	R	R



21. Ugotovi imena likov, če poznaš vrednosti stavkov v danem svetu, ki so podane v spodnji tabeli.

1. Če je lik A manjši kot B, potem je lik A nad C.
2. Če je lik A levo od B, potem je lik C manjši kot D.
3. Lik A je desno od C, če in samo če je lik A manjši kot C.
4. Lik A je desno od C ali je lik B pod D.

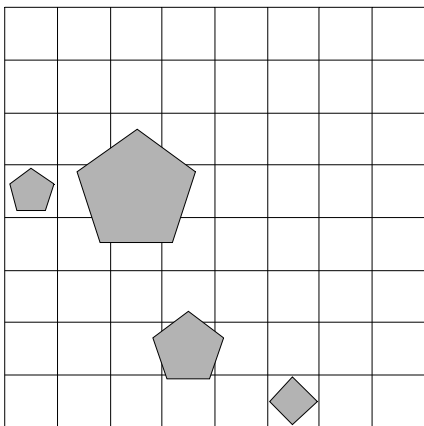
1	2	3	4
R	R	R	N



22. Ugotovi imena likov, če poznaš vrednosti stavkov v danem svetu, ki so podane v spodnji tabeli.

1. Lik A je nad C in lik C je pod D.
2. Lik A je nad B, če in samo če je lik B levo od D.
3. Lik A je manjši kot D ali je lik B manjši kot D.
4. Lik C je večji kot D in lik A je manjši kot C.

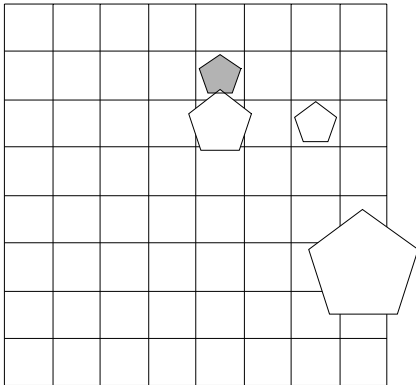
1	2	3	4
R	R	N	N



23. Ugotovi imena likov, če poznaš vrednosti stavkov v danem svetu, ki so podane v spodnji tabeli.

1. Ali je lik A desno od B ali je lik A levo od D.
2. Lik B je manjši kot C ali je lik B manjši kot C.
3. Lik C je večji kot D ali je lik B pod C.
4. Lik A je desno od B in lik A je manjši kot B.

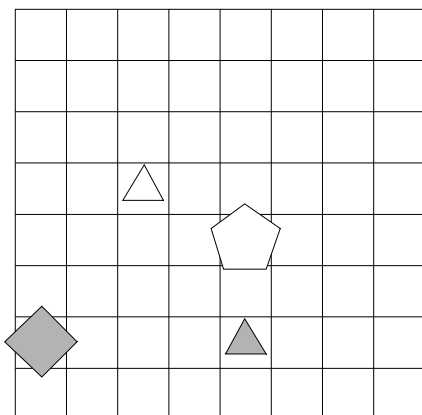
1	2	3	4
N	R	N	N



24. Ugotovi imena likov, če poznaš vrednosti stavkov v danem svetu, ki so podane v spodnji tabeli.

1. Lik A je levo od D, če in samo če je lik B levo od D.
2. Ali je lik A manjši kot C ali je lik A pod D.
3. Lik C je nad D, če in samo če je lik B nad C.
4. Ali je lik A večji kot C ali je lik A nad B.

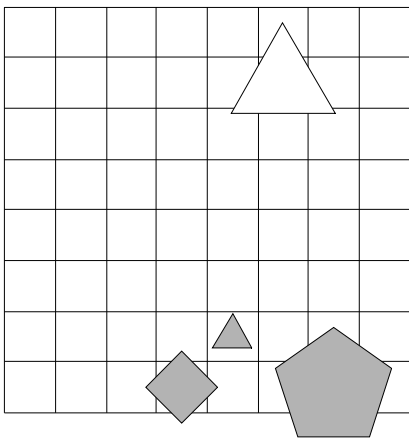
1	2	3	4
R	R	R	R



25. Ugotovi imena likov, če poznaš vrednosti stavkov v danem svetu, ki so podane v spodnji tabeli.

1. Če je lik A pod B, potem je lik A nad B.
2. Če je lik A manjši kot D, potem je lik A večji kot B.
3. Lik B je manjši kot D in lik B je levo od D.
4. Lik C je pod D, če in samo če je lik C manjši kot D.

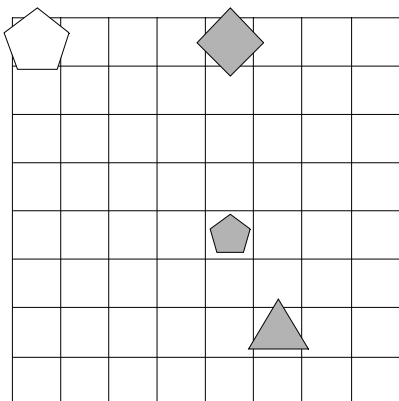
1	2	3	4
R	N	R	N



26. Ugotovi imena likov, če poznaš vrednosti stavkov v danem svetu, ki so podane v spodnji tabeli.

1. Ali je lik C manjši kot D ali je lik A pod B.
2. Lik B je nad C, če in samo če je lik A pod C.
3. Lik A je manjši kot B in lik B je levo od C.
4. Če je lik B nad D, potem je lik B večji kot D.

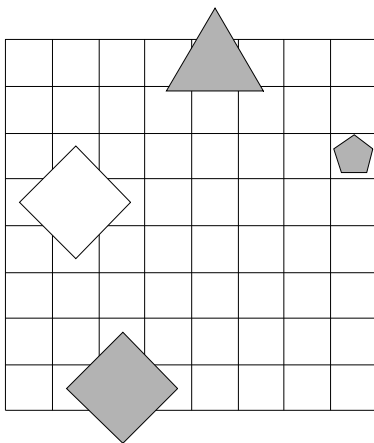
1	2	3	4
R	N	R	N



27. Ugotovi imena likov, če poznaš vrednosti stavkov v danem svetu, ki so podane v spodnji tabeli.

1. Ali je lik C desno od D ali je lik A levo od D.
2. Če je lik A večji kot B, potem je lik B večji kot C.
3. Ali je lik A manjši kot B ali je lik C večji kot D.
4. Lik B je nad C, če in samo če je lik A desno od B.

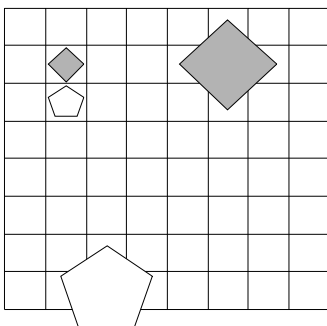
1	2	3	4
N	N	N	R



28. Ugotovi imena likov, če poznaš vrednosti stavkov v danem svetu, ki so podane v spodnji tabeli.

1. Če je lik A večji kot B, potem je lik A pod C.
2. Lik B je pod C, če in samo če je lik B nad D.
3. Lik A je večji kot D, če in samo če je lik A manjši kot D.
4. Če je lik C pod D, potem je lik A večji kot D.

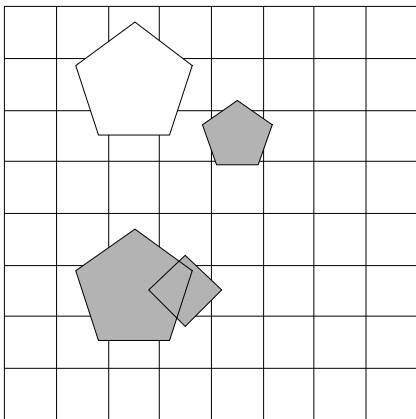
1	2	3	4
R	N	N	N



29. Ugotovi imena likov, če poznaš vrednosti stavkov v danem svetu, ki so podane v spodnji tabeli.

1. Če je lik A nad D, potem je lik B večji kot D.
2. Ali je lik A večji kot B ali je lik B nad C.
3. Ali je lik B večji kot C ali je lik C levo od D.
4. Lik A je pod D, če in samo če je lik A pod B.

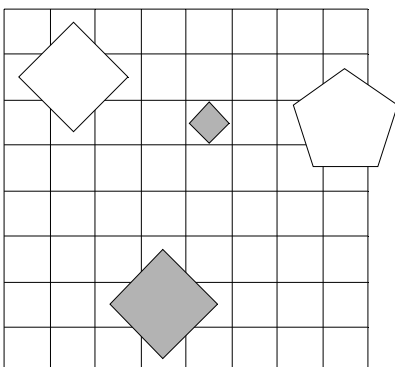
1	2	3	4
R	R	R	R



30. Ugotovi imena likov, če poznaš vrednosti stavkov v danem svetu, ki so podane v spodnji tabeli.

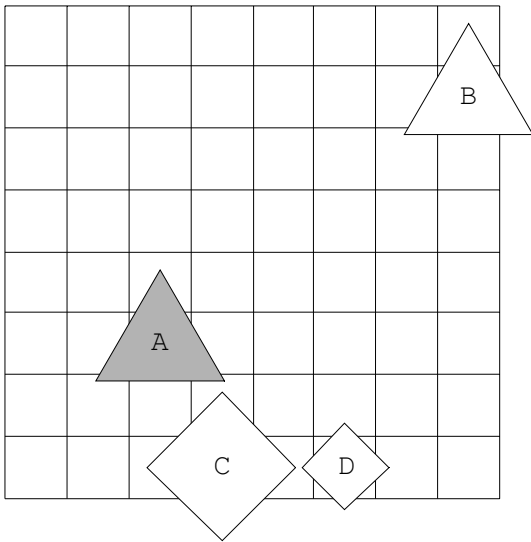
1. Ali je lik A pod B ali je lik A nad D.
2. Lik A je nad B ali je lik A nad D.
3. Lik C je večji kot D ali je lik A nad D.
4. Lik A je večji kot D ali je lik A pod C.

1	2	3	4
N	R	R	R

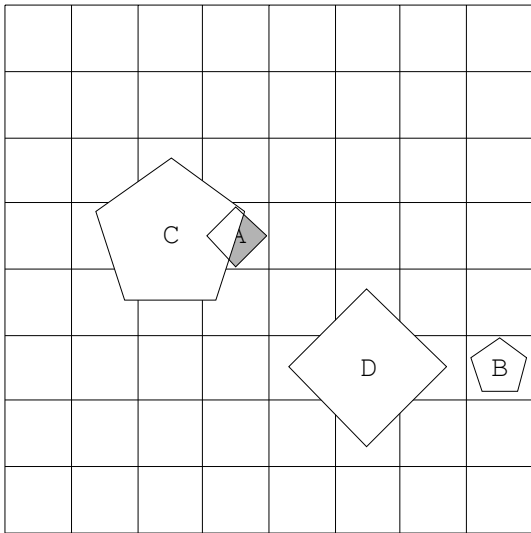


Rešitve

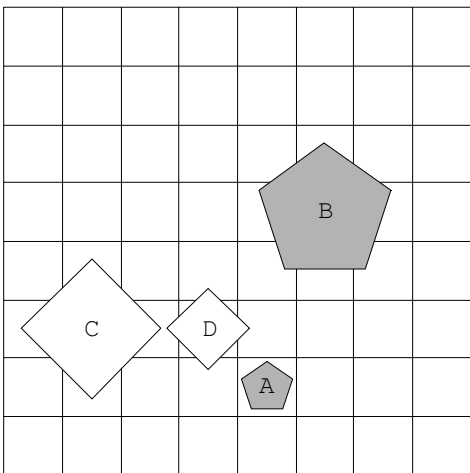
1.



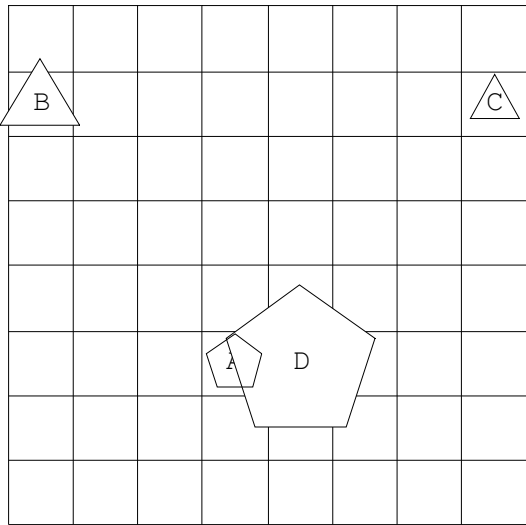
2.



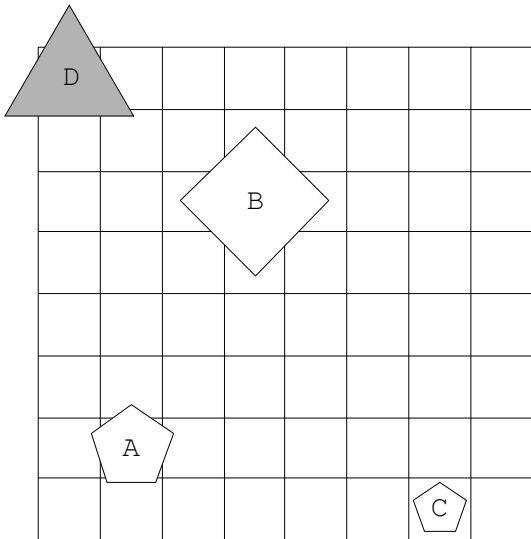
3.



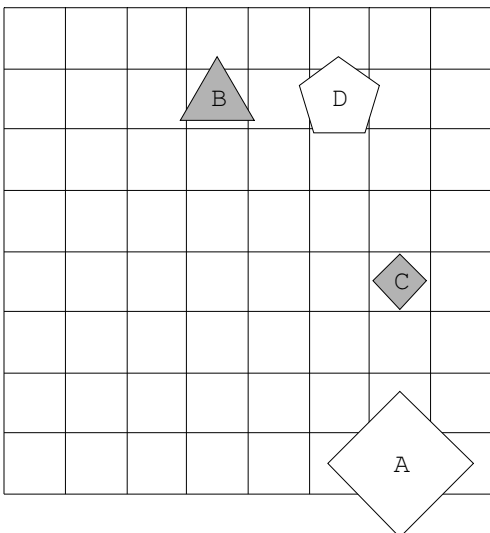
4.



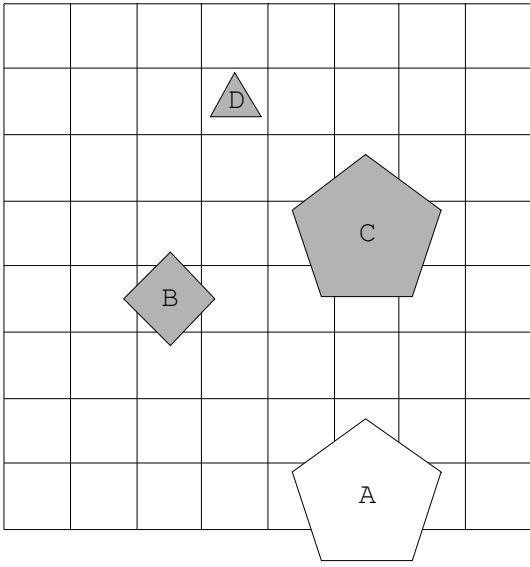
5.



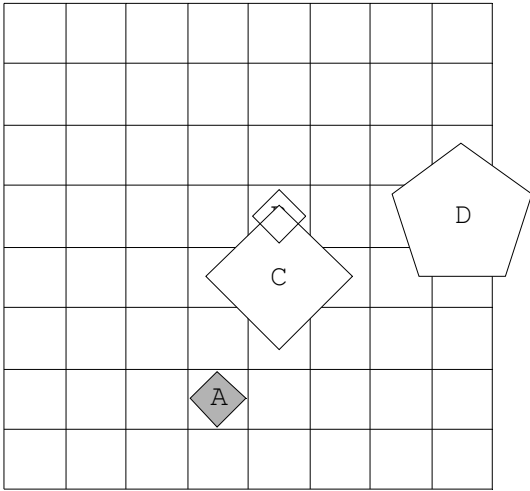
6.



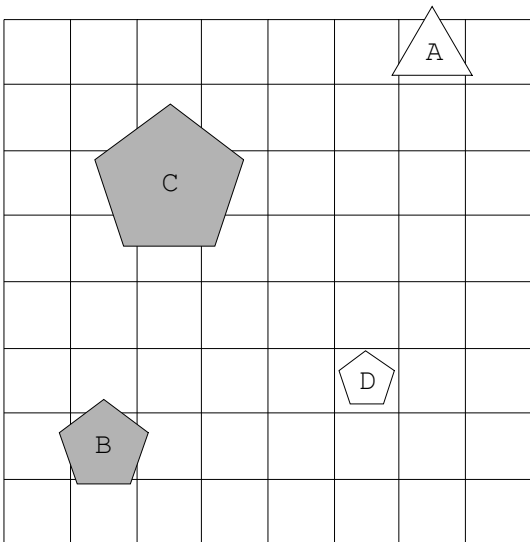
7.



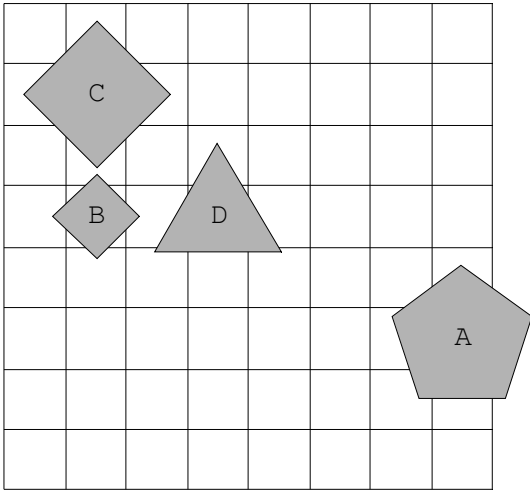
8.



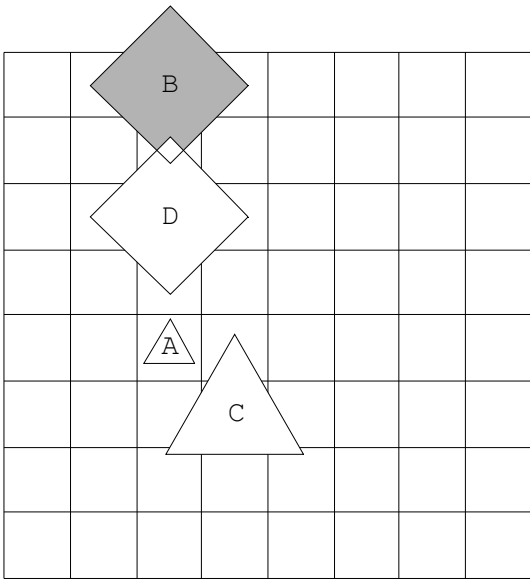
9.



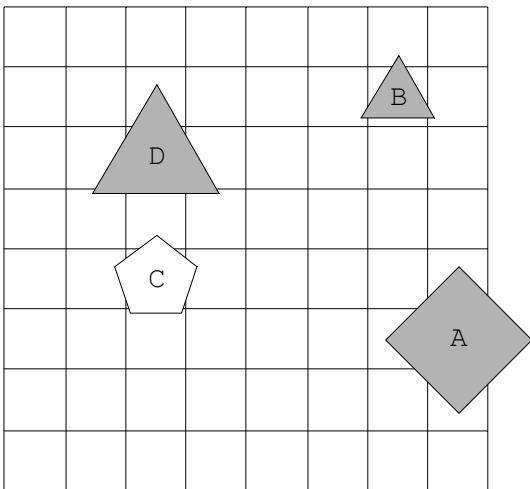
10.



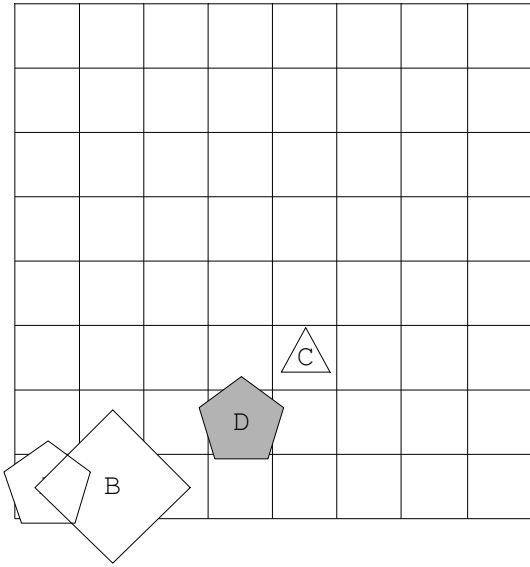
11.



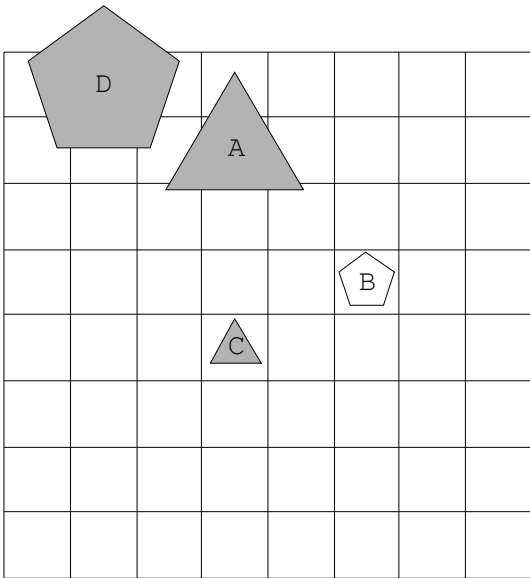
12.



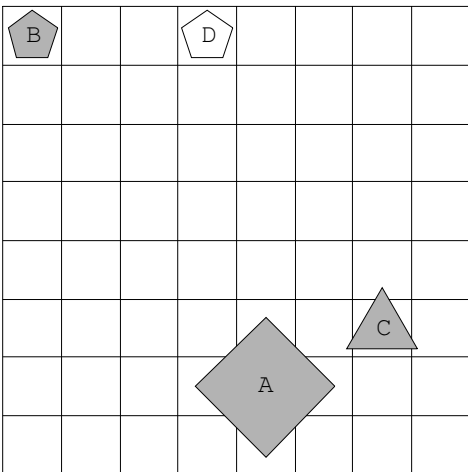
13.



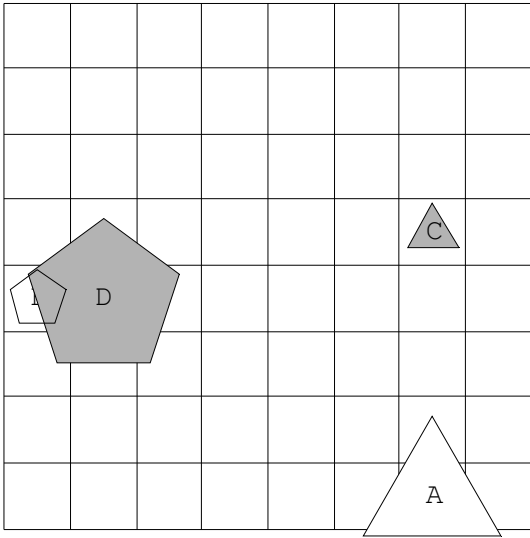
14.



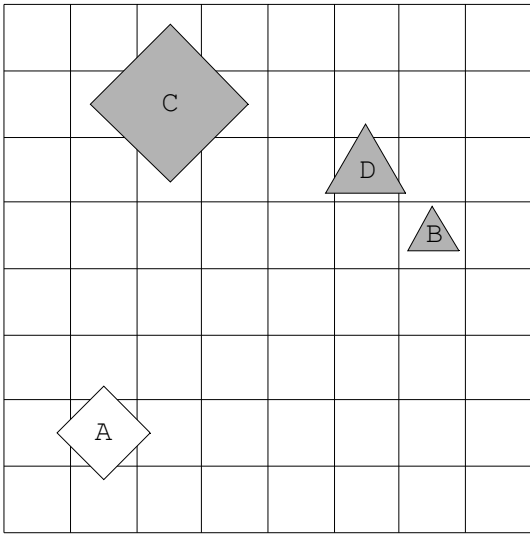
15.



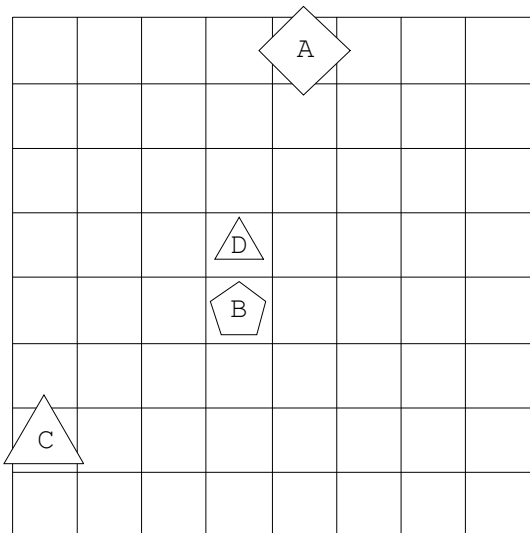
16.



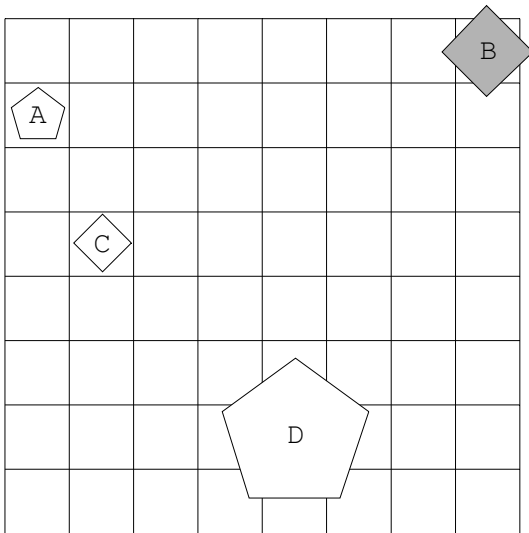
17.



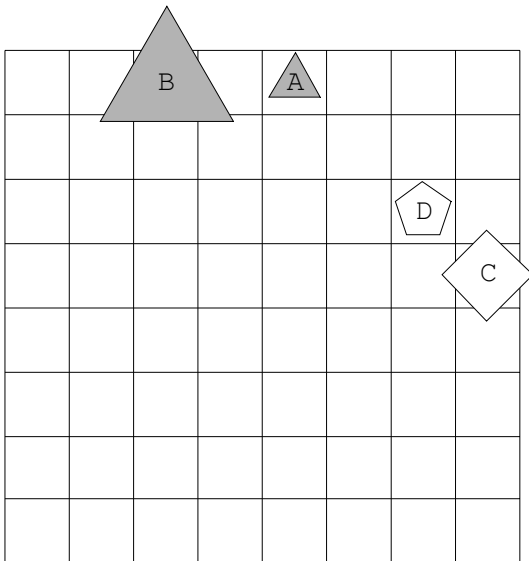
18.



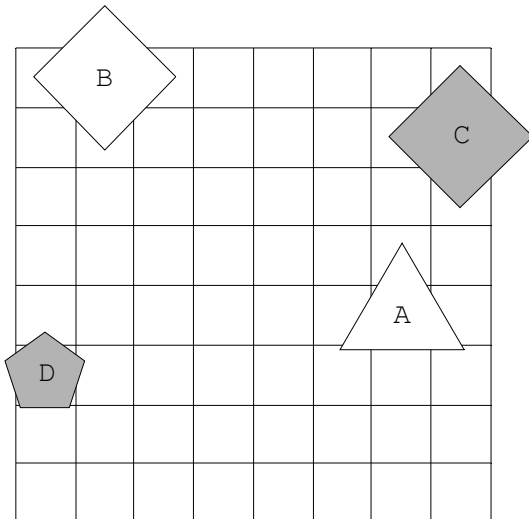
19.



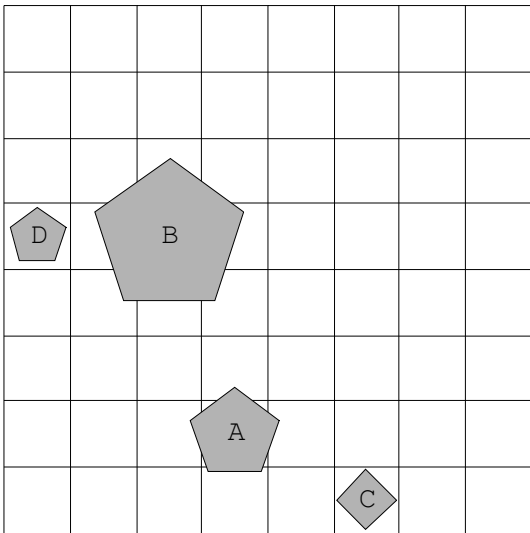
20.



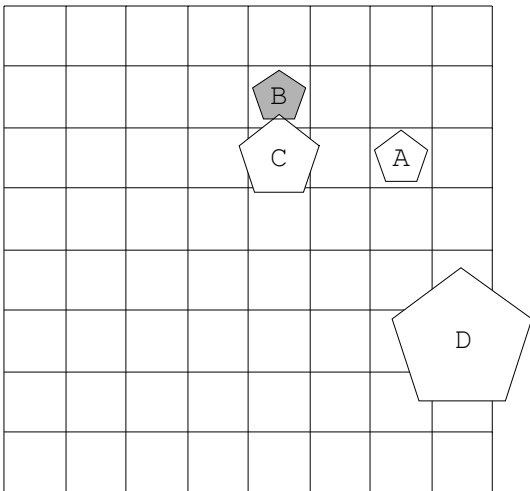
21.



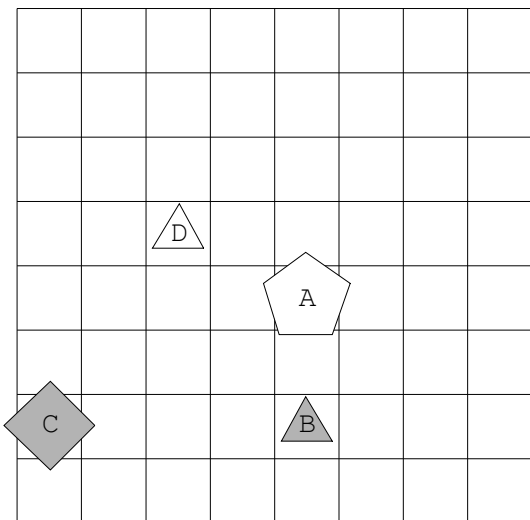
22.



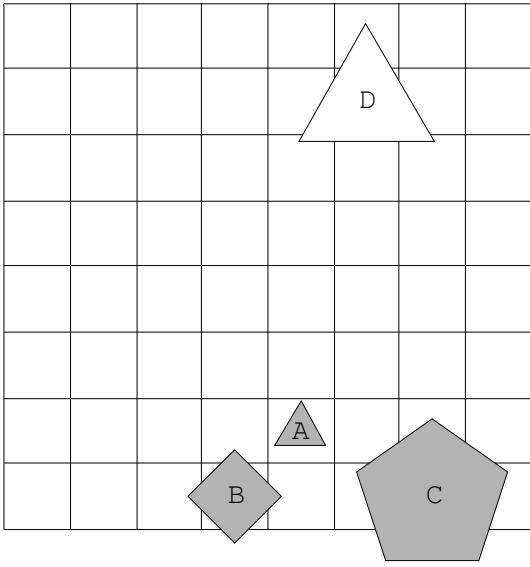
23.



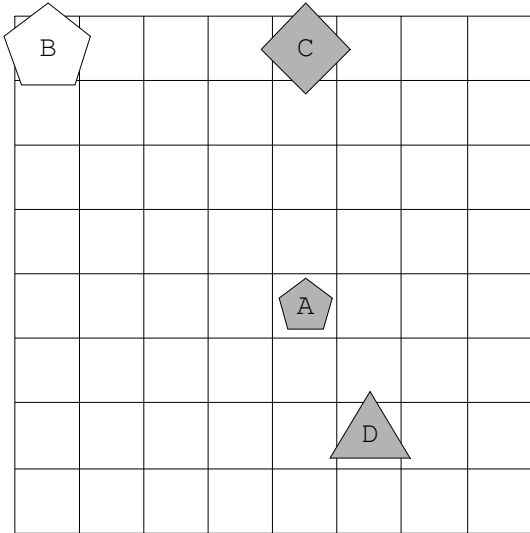
24.



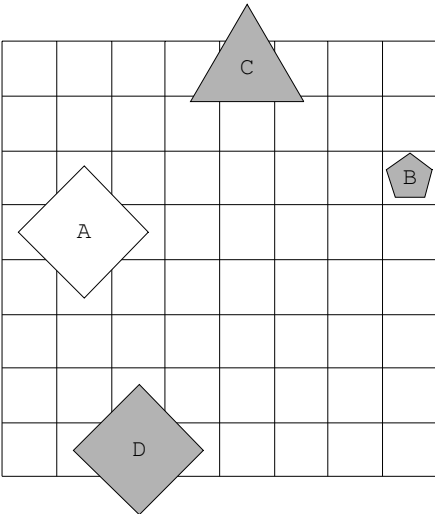
25.



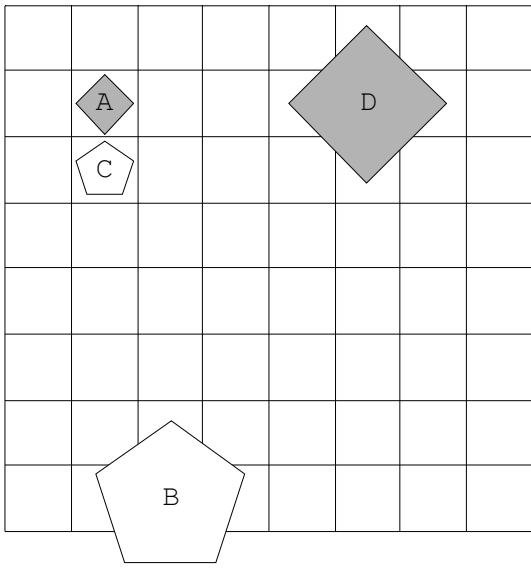
26.



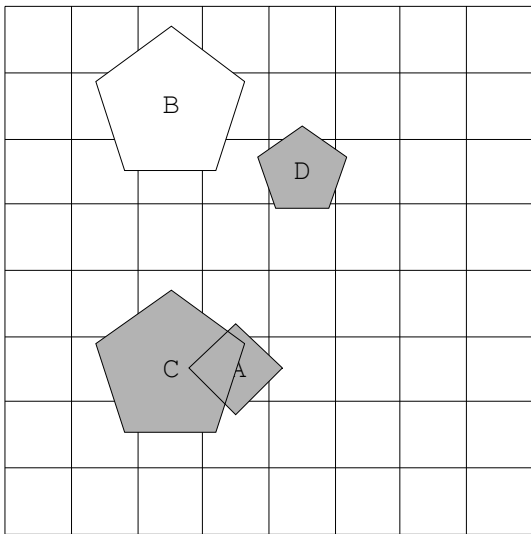
27.



28.



29.



30.

