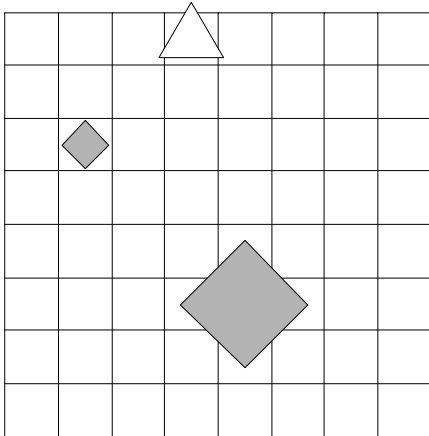


1. Ugotovi imena likov, če poznaš vrednosti stavkov v danem svetu, ki so podane v spodnji tabeli.

1. Lik C ni majhen ali lik A ni srednje velikosti.
2. Ali lik A ni bel ali lik B je bel.
3. Lik C ni trikotnik in lik B je velik.
4. Ali je lik A večji kot C ali je lik B pod C.

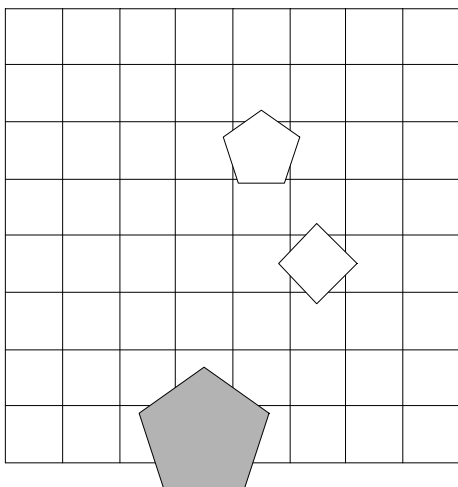
1	2	3	4
N	N	R	N



2. Ugotovi imena likov, če poznaš vrednosti stavkov v danem svetu, ki so podane v spodnji tabeli.

1. Lik A je siv in lik B je kvadrat.
2. Lik B je majhen in lik B ni siv.
3. Ali lik C ni srednje velikosti ali lik A ni majhen.
4. Če lik B ni majhen, potem lik B ni petkotnik.

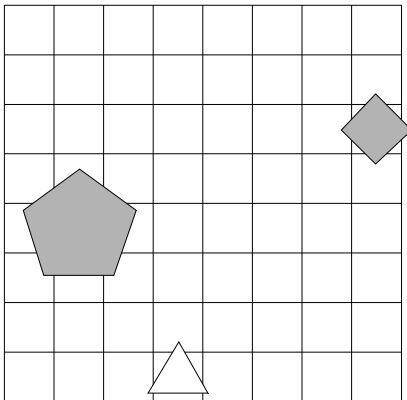
1	2	3	4
N	N	N	R



3. Ugotovi imena likov, če poznaš vrednosti stavkov v danem svetu, ki so podane v spodnji tabeli.

1. Lik C je petkotnik, če in samo če lik B je srednje velikosti.
2. Lik A je majhen ali lik B ni srednje velikosti.
3. Ali lik C je petkotnik ali lik B je trikotnik.
4. Lik A je levo od C, če in samo če je lik A večji kot B.

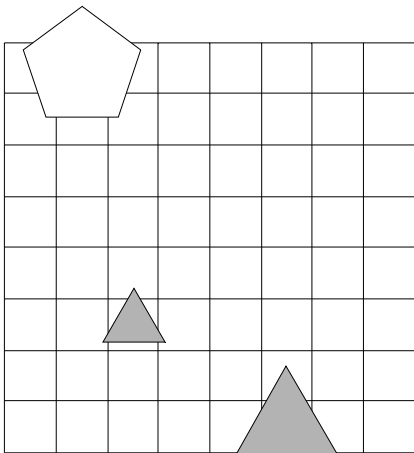
1	2	3	4
R	R	N	R



4. Ugotovi imena likov, če poznaš vrednosti stavkov v danem svetu, ki so podane v spodnji tabeli.

1. Če lik C je siv, potem lik C ni srednje velikosti.
2. Ali lik C ni petkotnik ali lik A ni majhen.
3. Lik C ni siv ali lik A je bel.
4. Lik A je nad C, če in samo če je lik A večji kot B.

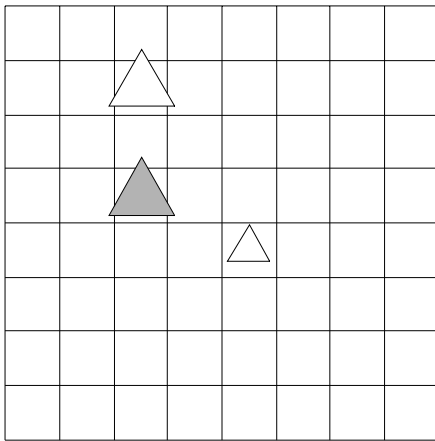
1	2	3	4
R	R	R	R



5. Ugotovi imena likov, če poznaš vrednosti stavkov v danem svetu, ki so podane v spodnji tabeli.

1. Ali lik C ni petkotnik ali lik C je siv.
2. Lik A je petkotnik in lik B ni majhen.
3. Če lik B ni srednje velikosti, potem lik B je kvadrat.
4. Lik A je večji kot C in lik B je večji kot C.

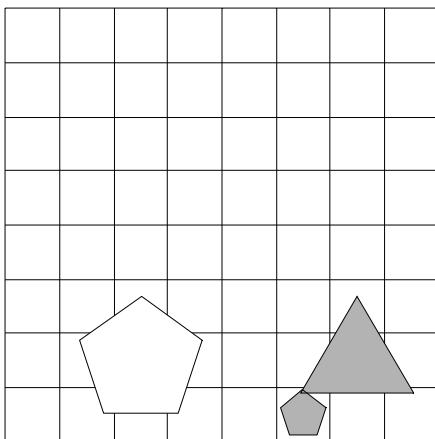
1	2	3	4
N	N	N	N



6. Ugotovi imena likov, če poznaš vrednosti stavkov v danem svetu, ki so podane v spodnji tabeli.

1. Lik B ni majhen, če in samo če lik C ni petkotnik.
2. Lik A je trikotnik ali lik A je siv.
3. Ali lik B je bel ali lik A je velik.
4. Lik A je manjši kot C, če in samo če je lik A večji kot B.

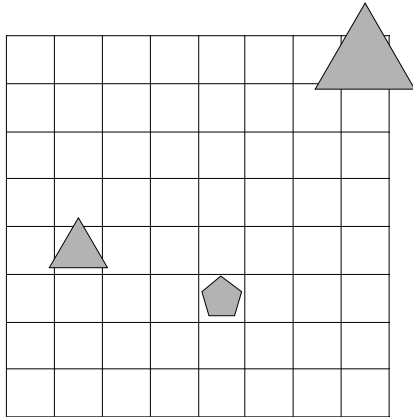
1	2	3	4
N	N	R	N



7. Ugotovi imena likov, če poznaš vrednosti stavkov v danem svetu, ki so podane v spodnji tabeli.

1. Lik C je srednje velikosti ali lik B je bel.
2. Lik C je srednje velikosti in lik B ni majhen.
3. Ali lik B je petkotnik ali lik B ni bel.
4. Lik A je desno od B ali je lik B desno od C.

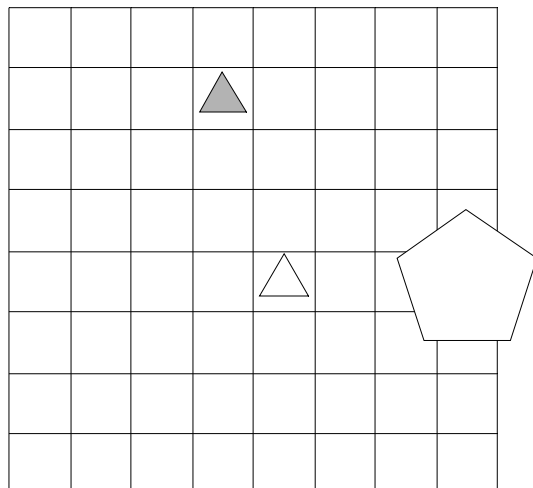
1	2	3	4
R	N	N	R



8. Ugotovi imena likov, če poznaš vrednosti stavkov v danem svetu, ki so podane v spodnji tabeli.

1. Lik C je majhen in lik B ni kvadrat.
2. Ali je lik A levo od B ali je lik B manjši kot C.
3. Če je lik A levo od C, potem je lik A levo od B.
4. Če je lik A večji kot B, potem je lik A pod C.

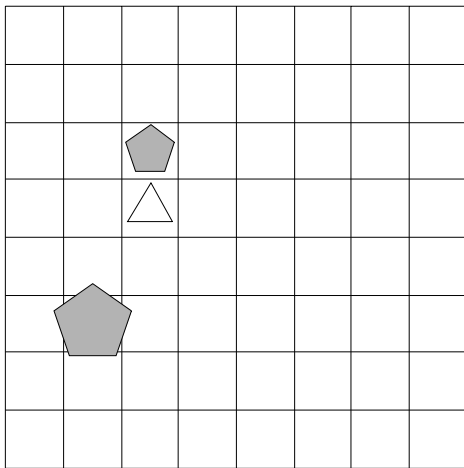
1	2	3	4
N	R	N	R



9. Ugotovi imena likov, če poznaš vrednosti stavkov v danem svetu, ki so podane v spodnji tabeli.

1. Lik A ni bel ali lik B ni kvadrat.
2. Lik C je bel, če in samo če lik A ni bel.
3. Lik B ni trikotnik, če in samo če lik B ni trikotnik.
4. Lik B je nad C ali je lik B nad C.

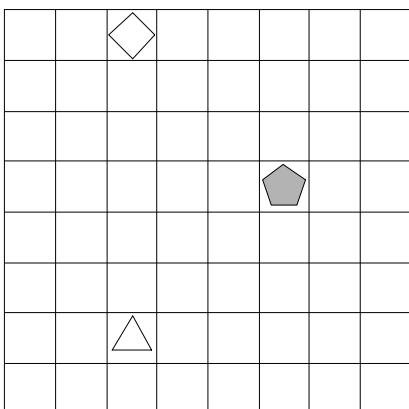
1	2	3	4
R	N	R	N



10. Ugotovi imena likov, če poznaš vrednosti stavkov v danem svetu, ki so podane v spodnji tabeli.

1. Lik C je srednje velikosti ali lik C ni siv.
2. Če je lik B desno od C, potem je lik A nad B.
3. Če je lik A manjši kot B, potem je lik B večji kot C.
4. Ali je lik A levo od C ali je lik B pod C.

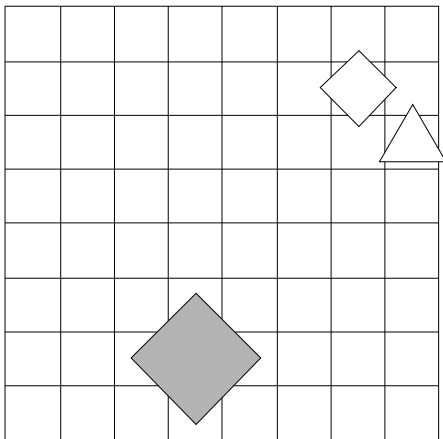
1	2	3	4
N	R	R	N



11. Ugotovi imena likov, če poznaš vrednosti stavkov v danem svetu, ki so podane v spodnji tabeli.

1. Ali lik A ni majhen ali lik B je srednje velikosti.
2. Če lik B ni trikotnik, potem lik C je siv.
3. Če je lik A desno od B, potem je lik A manjši kot B.
4. Lik A je desno od C in lik B je desno od C.

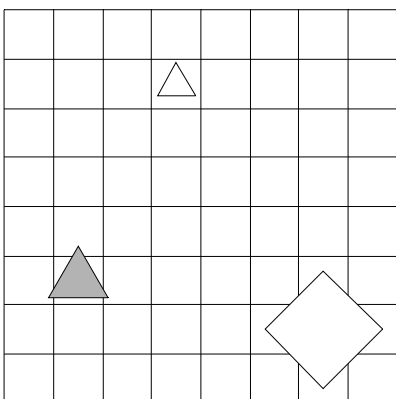
1	2	3	4
N	R	R	R



12. Ugotovi imena likov, če poznaš vrednosti stavkov v danem svetu, ki so podane v spodnji tabeli.

1. Če lik A je bel, potem lik B je velik.
2. Lik A je desno od B, če in samo če je lik A desno od C.
3. Lik A je nad B ali je lik A manjši kot B.
4. Lik A je večji kot B in lik A je večji kot B.

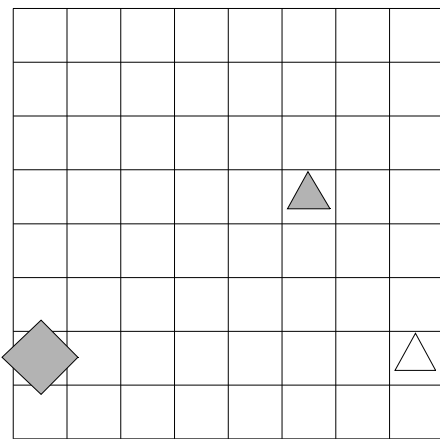
1	2	3	4
N	N	R	N



13. Ugotovi imena likov, če poznaš vrednosti stavkov v danem svetu, ki so podane v spodnji tabeli.

1. Če lik A ni majhen, potem lik C je majhen.
2. Lik C je srednje velikosti, če in samo če lik C ni petkotnik.
3. Ali je lik B pod C ali je lik A manjši kot C.
4. Lik A je manjši kot B ali je lik B večji kot C.

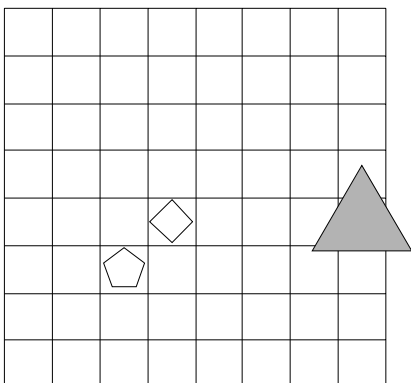
1	2	3	4
R	N	R	R



14. Ugotovi imena likov, če poznaš vrednosti stavkov v danem svetu, ki so podane v spodnji tabeli.

1. Lik B ni trikotnik in lik A ni bel.
2. Lik B ni siv ali lik B je petkotnik.
3. Lik A je levo od C, če in samo če je lik B manjši kot C.
4. Lik B je pod C ali je lik A nad B.

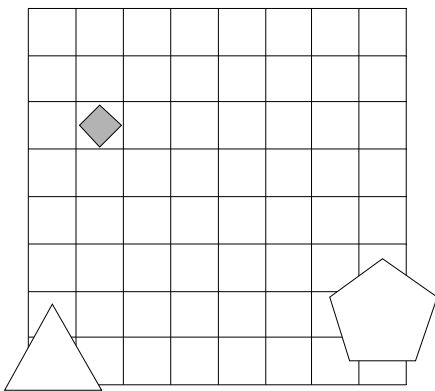
1	2	3	4
R	R	R	R



15. Ugotovi imena likov, če poznaš vrednosti stavkov v danem svetu, ki so podane v spodnji tabeli.

1. Lik C je siv, če in samo če lik B je trikotnik.
2. Lik B je petkotnik in lik B ni bel.
3. Lik A je trikotnik, če in samo če lik C je bel.
4. Lik A je desno od C, če in samo če je lik A večji kot C.

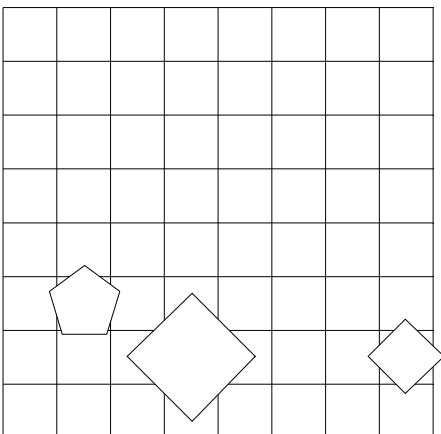
1	2	3	4
N	N	N	N



16. Ugotovi imena likov, če poznaš vrednosti stavkov v danem svetu, ki so podane v spodnji tabeli.

1. Lik A je petkotnik ali lik B ni bel.
2. Lik C ni trikotnik ali lik B ni velik.
3. Če je lik A levo od C, potem je lik A manjši kot C.
4. Lik A je manjši kot C, če in samo če je lik A večji kot C.

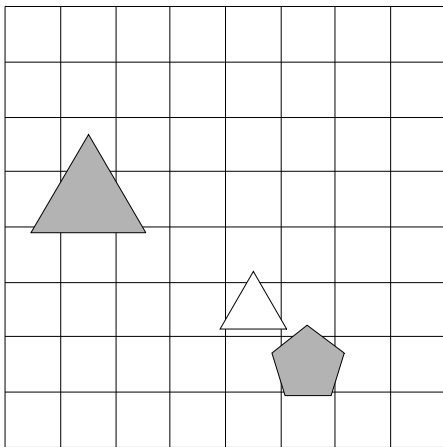
1	2	3	4
R	R	N	R



17. Ugotovi imena likov, če poznaš vrednosti stavkov v danem svetu, ki so podane v spodnji tabeli.

1. Lik B je siv, če in samo če lik B ni velik.
2. Lik C ni kvadrat in lik A je majhen.
3. Lik A je bel, če in samo če lik A je petkotnik.
4. Lik A je majhen, če in samo če lik A je kvadrat.

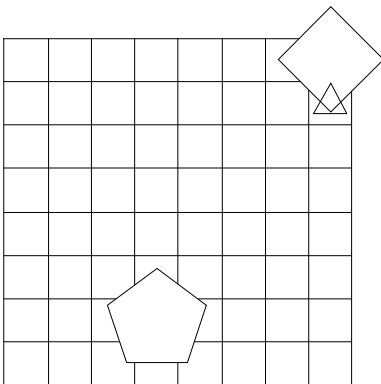
1	2	3	4
R	N	R	R



18. Ugotovi imena likov, če poznaš vrednosti stavkov v danem svetu, ki so podane v spodnji tabeli.

1. Lik B je kvadrat ali lik B ni velik.
2. Če lik A je petkotnik, potem lik C je trikotnik.
3. Ali je lik B manjši kot C ali je lik A desno od B.
4. Lik A je levo od C, če in samo če je lik B levo od C.

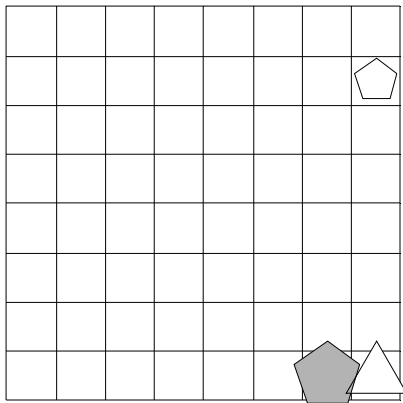
1	2	3	4
R	R	N	R



19. Ugotovi imena likov, če poznaš vrednosti stavkov v danem svetu, ki so podane v spodnji tabeli.

1. Če lik A ni velik, potem lik B ni kvadrat.
2. Če je lik B desno od C, potem je lik A desno od B.
3. Lik A je desno od B ali je lik A večji kot B.
4. Lik A je desno od B, če in samo če je lik A nad B.

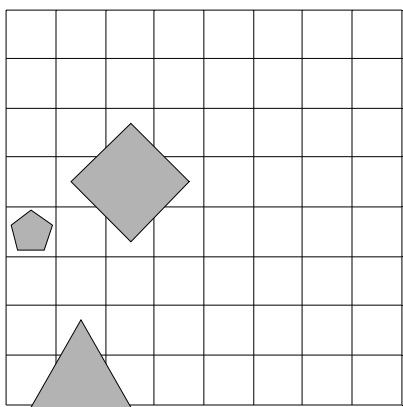
1	2	3	4
R	R	R	N



20. Ugotovi imena likov, če poznaš vrednosti stavkov v danem svetu, ki so podane v spodnji tabeli.

1. Če lik C ni srednje velikosti, potem lik C je bel.
2. Ali lik C ni siv ali lik B je srednje velikosti.
3. Lik A je levo od C in lik A je pod C.
4. Če je lik A manjši kot B, potem je lik B nad C.

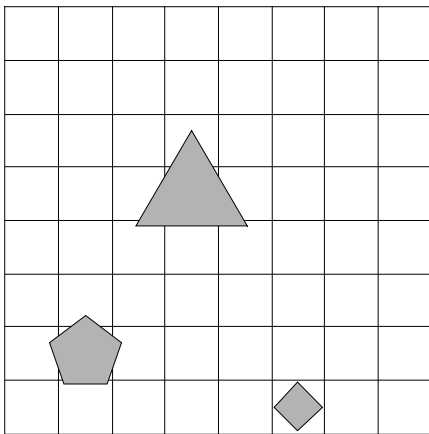
1	2	3	4
N	N	R	N



21. Ugotovi imena likov, če poznaš vrednosti stavkov v danem svetu, ki so podane v spodnji tabeli.

1. Lik A je srednje velikosti, če in samo če lik A ni siv.
2. Če lik A je srednje velikosti, potem lik B ni kvadrat.
3. Če lik B je bel, potem lik B ni petkotnik.
4. Lik A je kvadrat, če in samo če lik C ni trikotnik.

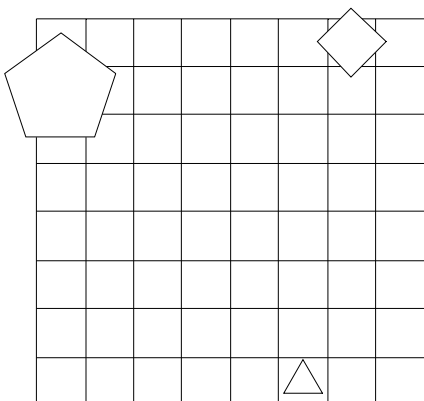
1	2	3	4
N	R	R	N



22. Ugotovi imena likov, če poznaš vrednosti stavkov v danem svetu, ki so podane v spodnji tabeli.

1. Če lik A je trikotnik, potem lik A ni siv.
2. Lik B je petkotnik in lik B je kvadrat.
3. Ali lik A ni trikotnik ali lik C ni majhen.
4. Ali lik C ni petkotnik ali lik B ni trikotnik.

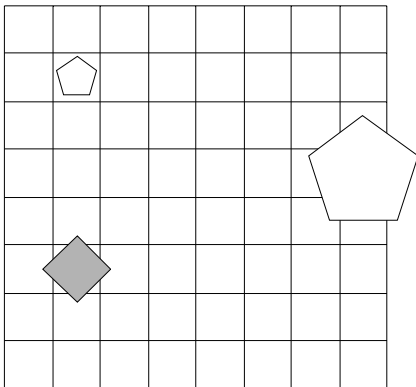
1	2	3	4
R	N	N	R



23. Ugotovi imena likov, če poznaš vrednosti stavkov v danem svetu, ki so podane v spodnji tabeli.

1. Če lik A ni siv, potem lik A je srednje velikosti.
2. Lik B je velik ali lik B je velik.
3. Lik B je nad C in lik B je večji kot C.
4. Ali je lik A nad B ali je lik A večji kot C.

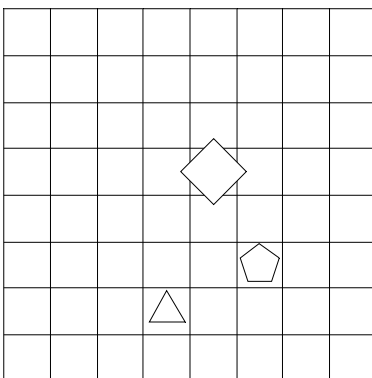
1	2	3	4
R	N	N	N



24. Ugotovi imena likov, če poznaš vrednosti stavkov v danem svetu, ki so podane v spodnji tabeli.

1. Lik B je trikotnik, če in samo če lik C je kvadrat.
2. Lik A je večji kot C, če in samo če je lik A pod B.
3. Če je lik B levo od C, potem je lik A manjši kot C.
4. Če je lik B manjši kot C, potem je lik B levo od C.

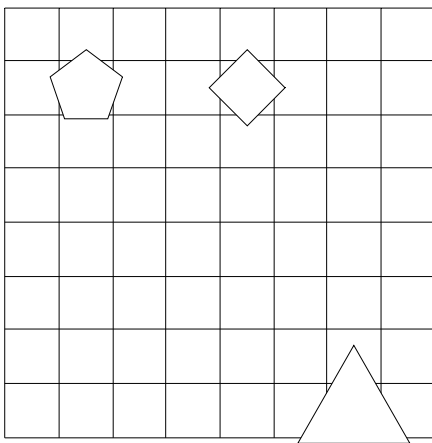
1	2	3	4
R	R	R	R



25. Ugotovi imena likov, če poznaš vrednosti stavkov v danem svetu, ki so podane v spodnji tabeli.

1. Lik A ni velik, če in samo če lik C ni petkotnik.
2. Lik A je majhen, če in samo če lik B je trikotnik.
3. Lik A ni velik ali lik B ni srednje velikosti.
4. Če lik A je petkotnik, potem lik A je petkotnik.

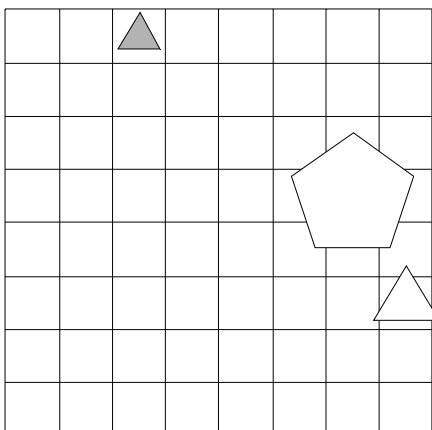
1	2	3	4
R	N	R	R



26. Ugotovi imena likov, če poznaš vrednosti stavkov v danem svetu, ki so podane v spodnji tabeli.

1. Lik B je majhen ali lik C ni petkotnik.
2. Lik A ni trikotnik in lik B ni velik.
3. Lik B je nad C in lik A je nad B.
4. Če je lik A desno od B, potem je lik A pod C.

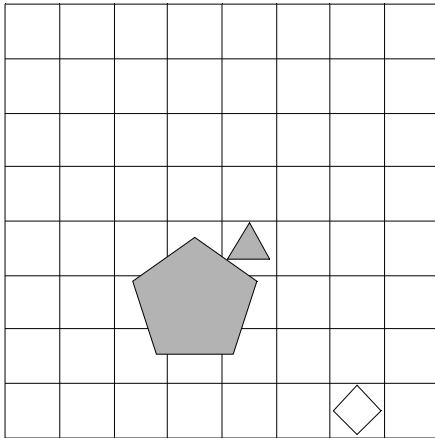
1	2	3	4
R	R	N	R



27. Ugotovi imena likov, če poznaš vrednosti stavkov v danem svetu, ki so podane v spodnji tabeli.

1. Lik C je petkotnik ali lik B je petkotnik.
2. Ali lik A ni kvadrat ali lik B ni siv.
3. Ali lik B ni petkotnik ali lik B ni kvadrat.
4. Lik B ni velik ali lik B je petkotnik.

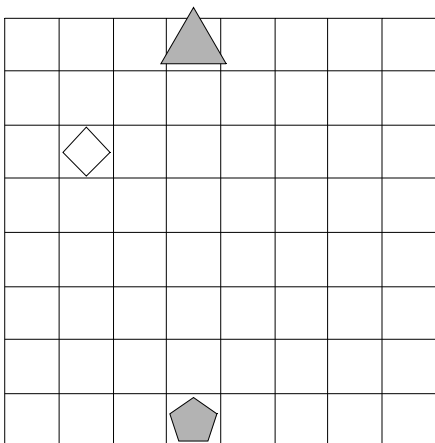
1	2	3	4
R	N	N	R



28. Ugotovi imena likov, če poznaš vrednosti stavkov v danem svetu, ki so podane v spodnji tabeli.

1. Lik A je srednje velikosti in lik C je velik.
2. Lik A ni kvadrat, če in samo če lik B ni majhen.
3. Če lik A ni petkotnik, potem lik C ni bel.
4. Lik A je desno od B, če in samo če je lik A desno od C.

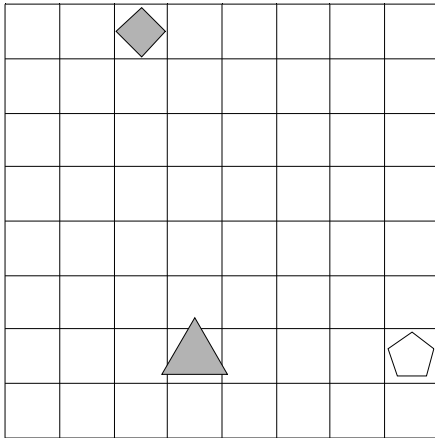
1	2	3	4
N	N	R	R



29. Ugotovi imena likov, če poznaš vrednosti stavkov v danem svetu, ki so podane v spodnji tabeli.

1. Lik C je bel ali lik B ni kvadrat.
2. Lik A ni trikotnik in lik A ni petkotnik.
3. Lik B ni velik in lik B je majhen.
4. Ali lik B ni majhen ali lik A ni trikotnik.

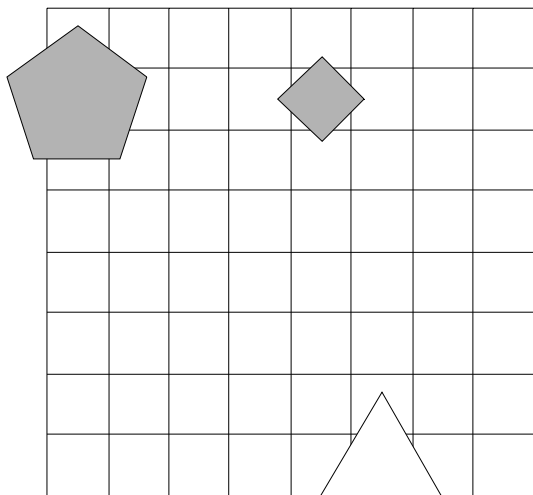
1	2	3	4
R	R	R	R



30. Ugotovi imena likov, če poznaš vrednosti stavkov v danem svetu, ki so podane v spodnji tabeli.

1. Lik C ni bel, če in samo če lik B je kvadrat.
2. Ali lik C je siv ali lik A ni siv.
3. Če je lik B manjši kot C, potem je lik A desno od B.
4. Lik A je pod C ali je lik B desno od C.

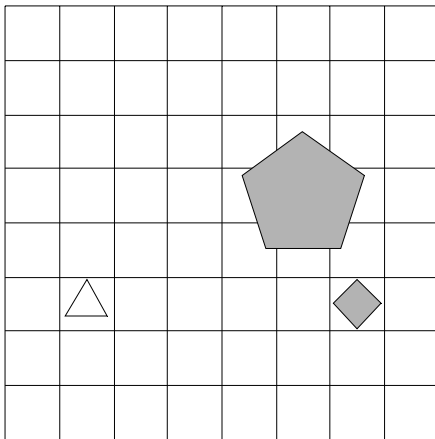
1	2	3	4
N	N	R	R



31. Ugotovi imena likov, če poznaš vrednosti stavkov v danem svetu, ki so podane v spodnji tabeli.

1. Lik B je petkotnik ali lik C ni kvadrat.
2. Če lik A ni petkotnik, potem lik C je siv.
3. Lik C je srednje velikosti ali lik B je trikotnik.
4. Če lik C ni kvadrat, potem lik B ni majhen.

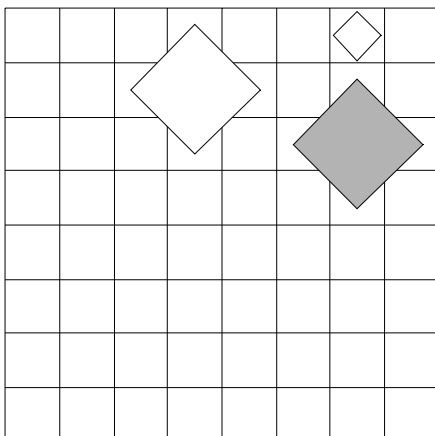
1	2	3	4
R	R	N	R



32. Ugotovi imena likov, če poznaš vrednosti stavkov v danem svetu, ki so podane v spodnji tabeli.

1. Če lik A ni srednje velikosti, potem lik B ni bel.
2. Lik A je majhen ali lik B ni kvadrat.
3. Lik A je pod B in lik B je levo od C.
4. Lik A je desno od C, če in samo če je lik B manjši kot C.

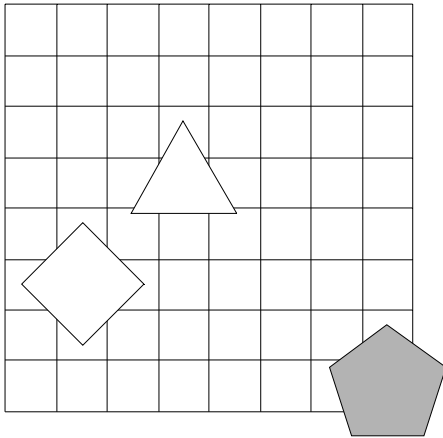
1	2	3	4
N	N	N	N



33. Ugotovi imena likov, če poznaš vrednosti stavkov v danem svetu, ki so podane v spodnji tabeli.

1. Ali lik A je trikotnik ali lik C ni velik.
2. Lik A je majhen in lik A je siv.
3. Ali lik B je petkotnik ali lik B je srednje velikosti.
4. Ali je lik B desno od C ali je lik B manjši kot C.

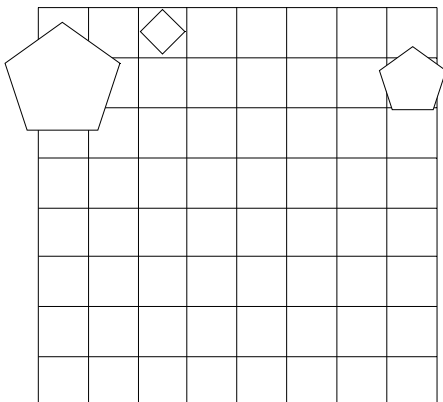
1	2	3	4
N	N	R	R



34. Ugotovi imena likov, če poznaš vrednosti stavkov v danem svetu, ki so podane v spodnji tabeli.

1. Ali lik B ni trikotnik ali lik B ni bel.
2. Če je lik A pod B, potem je lik B pod C.
3. Lik B je manjši kot C, če in samo če je lik A nad B.
4. Lik B je manjši kot C, če in samo če je lik A manjši kot C.

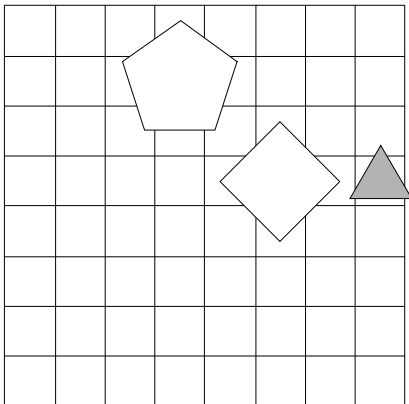
1	2	3	4
R	N	N	N



35. Ugotovi imena likov, če poznaš vrednosti stavkov v danem svetu, ki so podane v spodnji tabeli.

1. Ali lik B ni bel ali lik B je bel.
2. Lik A je manjši kot C, če in samo če je lik A nad C.
3. Lik A je levo od C in lik B je nad C.
4. Lik A je večji kot C ali je lik A pod C.

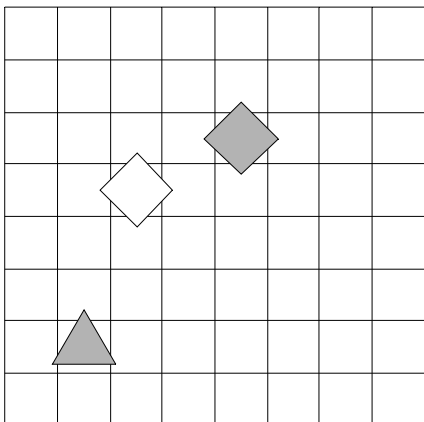
1	2	3	4
R	R	N	R



36. Ugotovi imena likov, če poznaš vrednosti stavkov v danem svetu, ki so podane v spodnji tabeli.

1. Ali lik B je bel ali lik B ni petkotnik.
2. Če lik B je bel, potem lik C je siv.
3. Če je lik A desno od B, potem je lik B večji kot C.
4. Če je lik B pod C, potem je lik A manjši kot B.

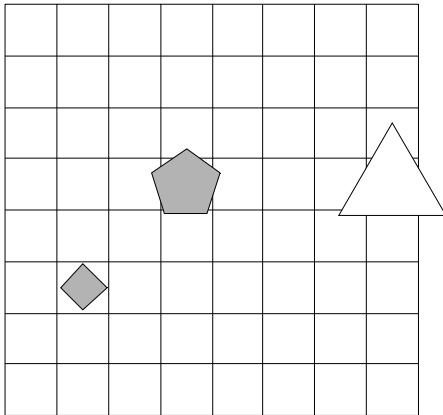
1	2	3	4
N	R	R	N



37. Ugotovi imena likov, če poznaš vrednosti stavkov v danem svetu, ki so podane v spodnji tabeli.

1. Če lik C je bel, potem lik C je trikotnik.
2. Lik A je siv ali lik A je kvadrat.
3. Če lik C ni kvadrat, potem lik B je velik.
4. Ali lik B je siv ali lik A je siv.

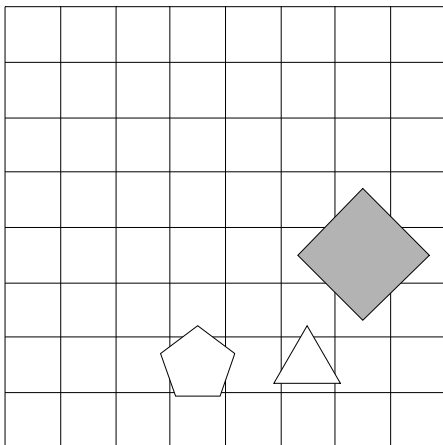
1	2	3	4
R	N	R	R



38. Ugotovi imena likov, če poznaš vrednosti stavkov v danem svetu, ki so podane v spodnji tabeli.

1. Lik C ni trikotnik, če in samo če lik C je majhen.
2. Če lik B je bel, potem lik C ni bel.
3. Ali lik C je srednje velikosti ali lik A ni trikotnik.
4. Lik B ni majhen ali lik C je srednje velikosti.

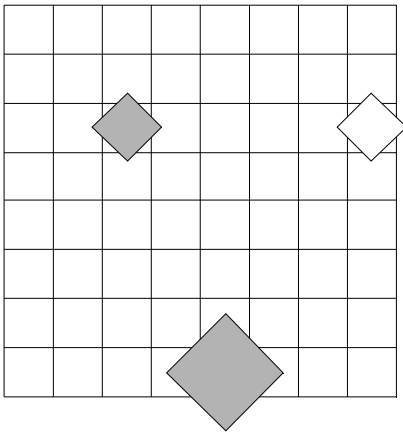
1	2	3	4
N	R	N	R



39. Ugotovi imena likov, če poznaš vrednosti stavkov v danem svetu, ki so podane v spodnji tabeli.

1. Če lik B ni petkotnik, potem lik B je majhen.
2. Lik A je levo od C ali je lik B manjši kot C.
3. Lik A je levo od C, če in samo če je lik B desno od C.
4. Lik B je nad C ali je lik A levo od B.

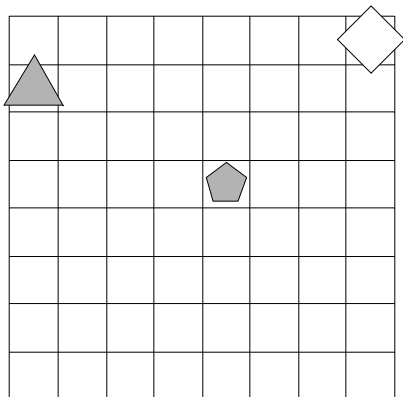
1	2	3	4
N	R	N	N



40. Ugotovi imena likov, če poznaš vrednosti stavkov v danem svetu, ki so podane v spodnji tabeli.

1. Če lik B ni trikotnik, potem lik C je srednje velikosti.
2. Lik C ni majhen ali lik B je bel.
3. Če lik B ni trikotnik, potem lik A ni siv.
4. Lik A je trikotnik, če in samo če lik C je siv.

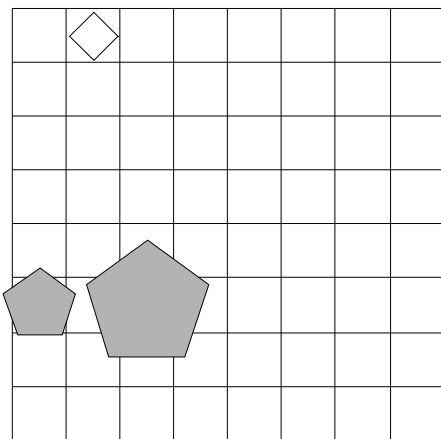
1	2	3	4
R	N	R	N



41. Ugotovi imena likov, če poznaš vrednosti stavkov v danem svetu, ki so podane v spodnji tabeli.

1. Lik C je bel, če in samo če lik B ni velik.
2. Ali je lik A pod C ali je lik B levo od C.
3. Če je lik B pod C, potem je lik A levo od C.
4. Lik B je nad C ali je lik B večji kot C.

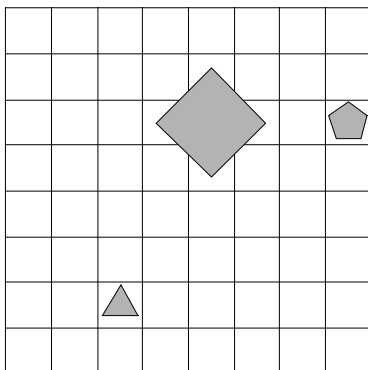
1	2	3	4
N	N	R	R



42. Ugotovi imena likov, če poznaš vrednosti stavkov v danem svetu, ki so podane v spodnji tabeli.

1. Lik B ni kvadrat ali lik A ni trikotnik.
2. Lik B je nad C, če in samo če je lik A desno od C.
3. Če je lik A večji kot B, potem je lik A levo od C.
4. Če je lik A nad B, potem je lik B levo od C.

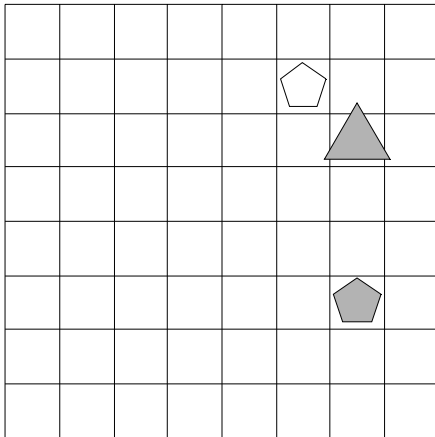
1	2	3	4
R	N	R	R



43. Ugotovi imena likov, če poznaš vrednosti stavkov v danem svetu, ki so podane v spodnji tabeli.

1. Lik C ni bel, če in samo če lik A ni bel.
2. Ali lik A je bel ali lik C ni srednje velikosti.
3. Lik C ni velik in lik C je kvadrat.
4. Ali je lik B pod C ali je lik A pod B.

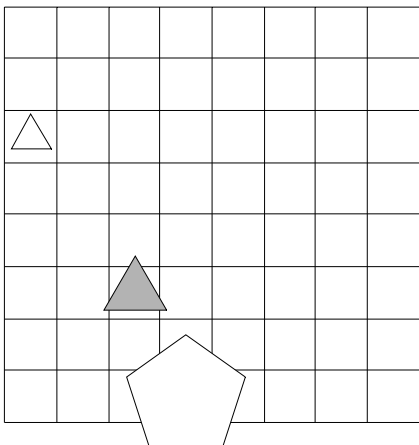
1	2	3	4
N	N	N	N



44. Ugotovi imena likov, če poznaš vrednosti stavkov v danem svetu, ki so podane v spodnji tabeli.

1. Če lik C je kvadrat, potem lik B je srednje velikosti.
2. Lik C je kvadrat ali lik B je bel.
3. Ali lik A je srednje velikosti ali lik B je siv.
4. Lik A je pod B ali je lik A večji kot B.

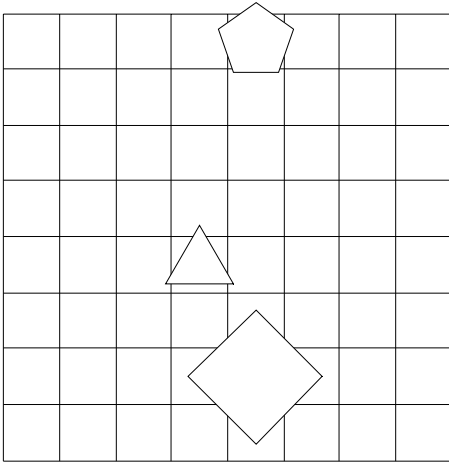
1	2	3	4
R	R	R	R



45. Ugotovi imena likov, če poznaš vrednosti stavkov v danem svetu, ki so podane v spodnji tabeli.

1. Lik B ni siv in lik B ni srednje velikosti.
2. Lik B ni petkotnik in lik B ni bel.
3. Če lik B je trikotnik, potem lik B je majhen.
4. Lik A je pod B in lik A je pod B.

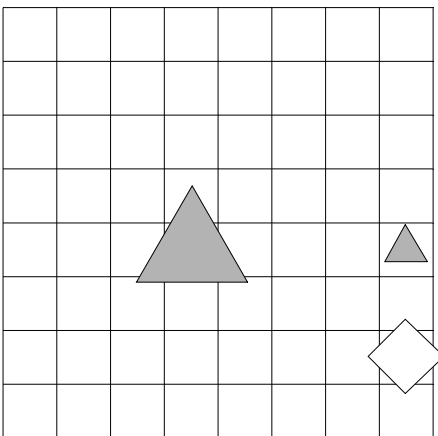
1	2	3	4
N	N	N	R



46. Ugotovi imena likov, če poznaš vrednosti stavkov v danem svetu, ki so podane v spodnji tabeli.

1. Lik C je majhen in lik C ni bel.
2. Lik A je bel ali lik B ni petkotnik.
3. Lik A je desno od B ali je lik B levo od C.
4. Lik A je desno od C in lik A je nad C.

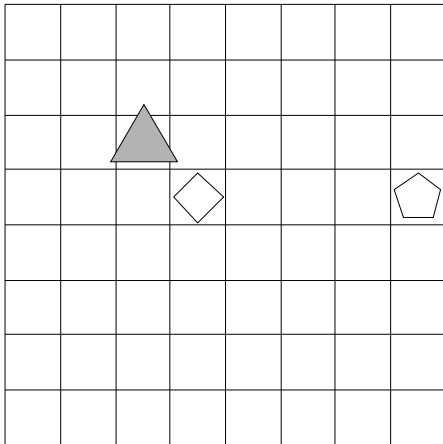
1	2	3	4
R	R	N	N



47. Ugotovi imena likov, če poznaš vrednosti stavkov v danem svetu, ki so podane v spodnji tabeli.

1. Lik B je velik ali lik B ni petkotnik.
2. Lik A ni bel ali lik C je siv.
3. Če lik A je kvadrat, potem lik B je petkotnik.
4. Lik B je manjši kot C in lik A je pod C.

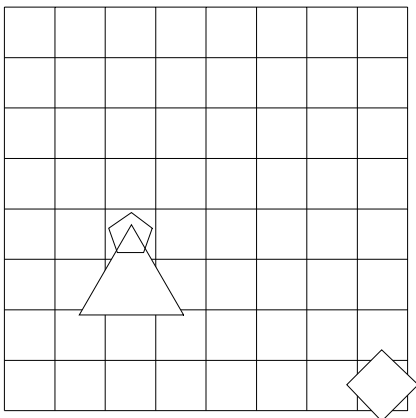
1	2	3	4
R	N	R	N



48. Ugotovi imena likov, če poznaš vrednosti stavkov v danem svetu, ki so podane v spodnji tabeli.

1. Lik C je srednje velikosti, če in samo če lik B je bel.
2. Če je lik A večji kot B, potem je lik B desno od C.
3. Ali je lik A pod C ali je lik A manjši kot C.
4. Lik A je pod B in lik A je večji kot C.

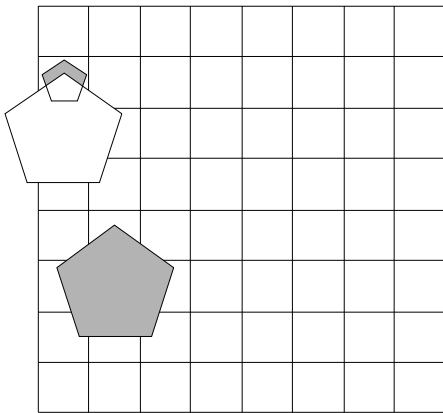
1	2	3	4
N	N	N	N



49. Ugotovi imena likov, če poznaš vrednosti stavkov v danem svetu, ki so podane v spodnji tabeli.

1. Če lik B je srednje velikosti, potem lik A je siv.
2. Ali lik B je srednje velikosti ali lik C je siv.
3. Ali je lik A desno od C ali je lik B nad C.
4. Če je lik A nad B, potem je lik B levo od C.

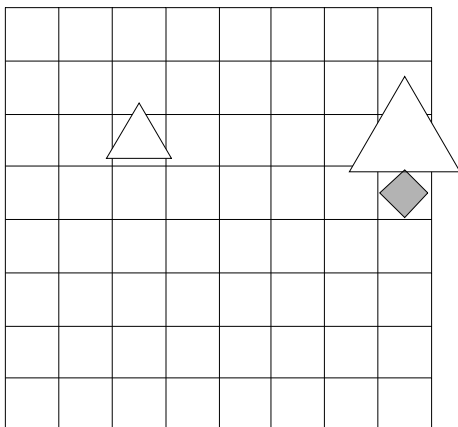
1	2	3	4
R	N	N	R



50. Ugotovi imena likov, če poznaš vrednosti stavkov v danem svetu, ki so podane v spodnji tabeli.

1. Ali lik A je kvadrat ali lik C ni petkotnik.
2. Če lik C ni velik, potem lik C ni trikotnik.
3. Lik B je siv ali lik B ni trikotnik.
4. Lik A ni petkotnik ali lik C ni kvadrat.

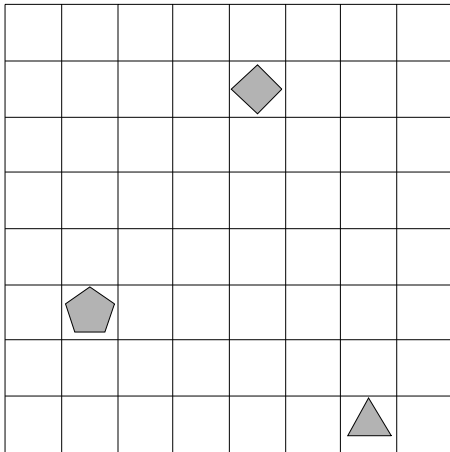
1	2	3	4
R	R	R	R



51. Ugotovi imena likov, če poznaš vrednosti stavkov v danem svetu, ki so podane v spodnji tabeli.

1. Lik C je petkotnik ali lik C ni siv.
2. Lik B ni majhen in lik C ni petkotnik.
3. Lik B je desno od C in lik A je večji kot B.
4. Ali je lik A nad C ali je lik B manjši kot C.

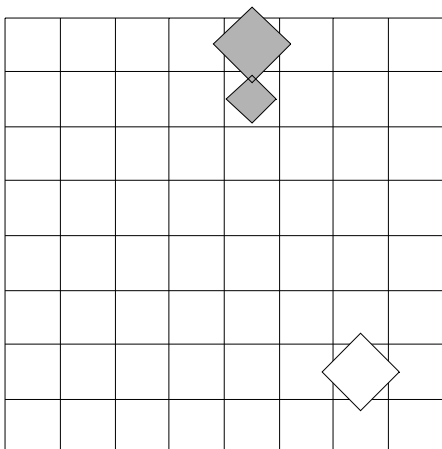
1	2	3	4
R	N	N	N



52. Ugotovi imena likov, če poznaš vrednosti stavkov v danem svetu, ki so podane v spodnji tabeli.

1. Lik A ni siv in lik B je velik.
2. Če je lik A nad C, potem je lik B levo od C.
3. Lik B je desno od C ali je lik B večji kot C.
4. Lik B je desno od C in lik A je desno od C.

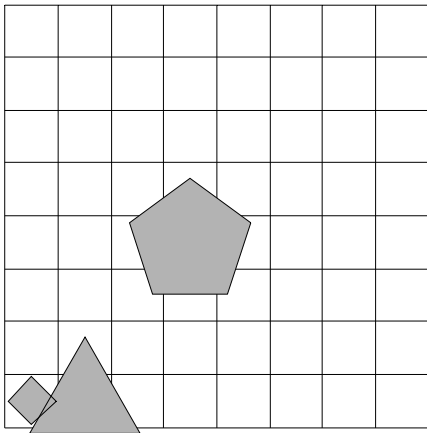
1	2	3	4
N	N	R	N



53. Ugotovi imena likov, če poznaš vrednosti stavkov v danem svetu, ki so podane v spodnji tabeli.

1. Lik B ni trikotnik, če in samo če lik A ni trikotnik.
2. Ali je lik B večji kot C ali je lik A pod C.
3. Ali je lik A pod C ali je lik A manjši kot C.
4. Ali je lik A manjši kot B ali je lik B nad C.

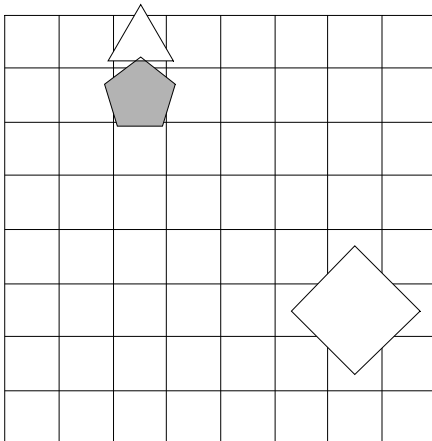
1	2	3	4
R	N	N	N



54. Ugotovi imena likov, če poznaš vrednosti stavkov v danem svetu, ki so podane v spodnji tabeli.

1. Lik A ni kvadrat ali lik B je majhen.
2. Ali lik C ni trikotnik ali lik C je majhen.
3. Če lik A je trikotnik, potem lik B ni kvadrat.
4. Lik B ni siv, če in samo če lik B je petkotnik.

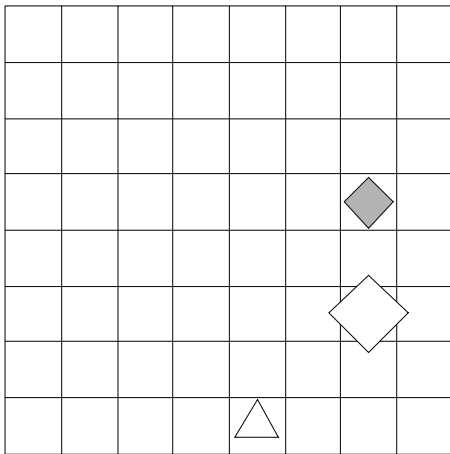
1	2	3	4
N	N	R	N



55. Ugotovi imena likov, če poznaš vrednosti stavkov v danem svetu, ki so podane v spodnji tabeli.

1. Lik B ni srednje velikosti, če in samo če lik C ni kvadrat.
2. Lik A ni majhen ali lik C je velik.
3. Lik B je nad C in lik A je pod B.
4. Če je lik A desno od C, potem je lik A levo od B.

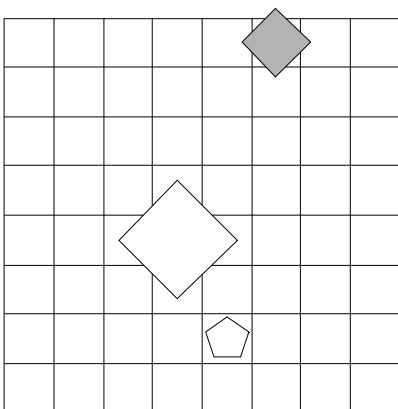
1	2	3	4
N	N	N	R



56. Ugotovi imena likov, če poznaš vrednosti stavkov v danem svetu, ki so podane v spodnji tabeli.

1. Lik C je petkotnik ali lik A je trikotnik.
2. Lik A je manjši kot C, če in samo če je lik B nad C.
3. Lik A je levo od C ali je lik A desno od B.
4. Lik B je nad C, če in samo če je lik A pod B.

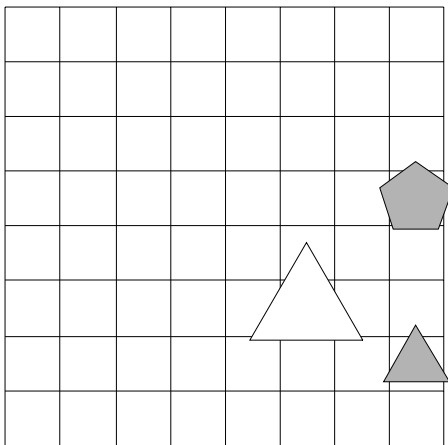
1	2	3	4
R	N	R	R



57. Ugotovi imena likov, če poznaš vrednosti stavkov v danem svetu, ki so podane v spodnji tabeli.

1. Če lik B je bel, potem lik A ni petkotnik.
2. Če je lik B desno od C, potem je lik A manjši kot B.
3. Lik A je večji kot B ali je lik B pod C.
4. Če je lik B pod C, potem je lik B desno od C.

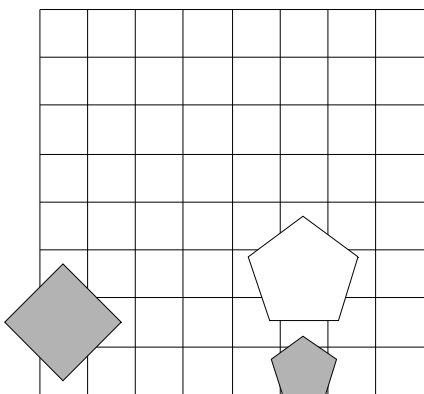
1	2	3	4
N	R	N	R



58. Ugotovi imena likov, če poznaš vrednosti stavkov v danem svetu, ki so podane v spodnji tabeli.

1. Če lik C ni kvadrat, potem lik C je kvadrat.
2. Lik B je siv ali lik A ni velik.
3. Lik B je petkotnik ali lik B ni velik.
4. Ali lik B je kvadrat ali lik A je trikotnik.

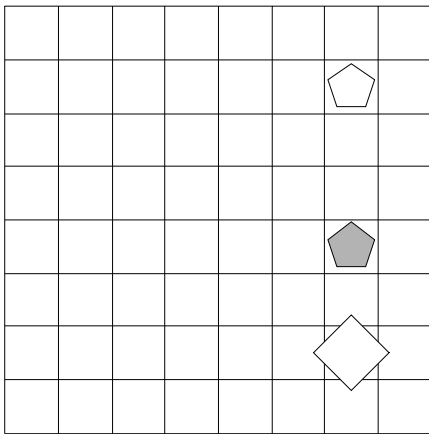
1	2	3	4
N	N	R	N



59. Ugotovi imena likov, če poznaš vrednosti stavkov v danem svetu, ki so podane v spodnji tabeli.

1. Če lik A je majhen, potem lik B ni petkotnik.
2. Če lik B je bel, potem lik A ni velik.
3. Lik A je bel, če in samo če lik C ni petkotnik.
4. Lik A je manjši kot B ali je lik A levo od B.

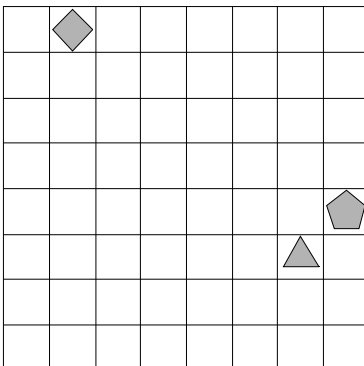
1	2	3	4
N	R	N	N



60. Ugotovi imena likov, če poznaš vrednosti stavkov v danem svetu, ki so podane v spodnji tabeli.

1. Če lik C ni srednje velikosti, potem lik B ni velik.
2. Lik B ni trikotnik in lik A ni petkotnik.
3. Če lik A ni bel, potem lik C je bel.
4. Lik B ni bel, če in samo če lik A ni petkotnik.

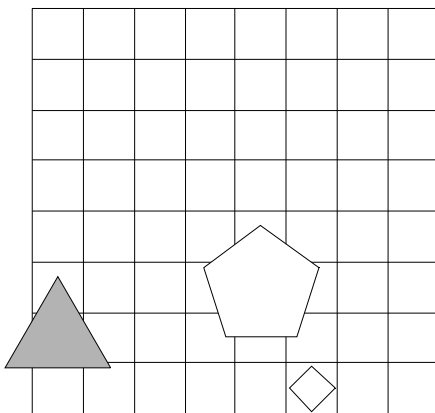
1	2	3	4
R	N	N	R



61. Ugotovi imena likov, če poznaš vrednosti stavkov v danem svetu, ki so podane v spodnji tabeli.

1. Če lik B ni majhen, potem lik C je majhen.
2. Če lik C ni bel, potem lik A je bel.
3. Če lik C je trikotnik, potem lik C ni velik.
4. Ali je lik B nad C ali je lik B desno od C.

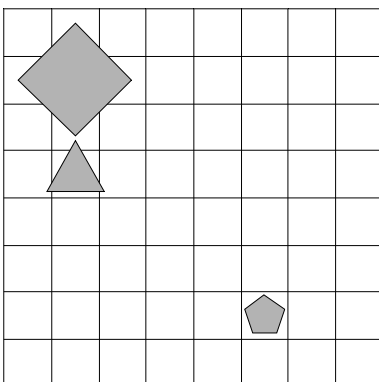
1	2	3	4
N	R	N	N



62. Ugotovi imena likov, če poznaš vrednosti stavkov v danem svetu, ki so podane v spodnji tabeli.

1. Lik A je majhen in lik B ni petkotnik.
2. Lik A je levo od B, če in samo če je lik A desno od C.
3. Lik A je večji kot B ali je lik B desno od C.
4. Lik A je pod B, če in samo če je lik B levo od C.

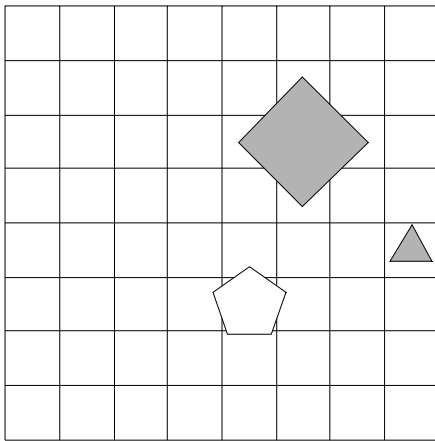
1	2	3	4
N	R	R	N



63. Ugotovi imena likov, če poznaš vrednosti stavkov v danem svetu, ki so podane v spodnji tabeli.

1. Če lik A ni siv, potem lik A je trikotnik.
2. Lik A ni petkotnik, če in samo če lik A ni majhen.
3. Ali lik A ni petkotnik ali lik C ni velik.
4. Ali lik A ni trikotnik ali lik B je srednje velikosti.

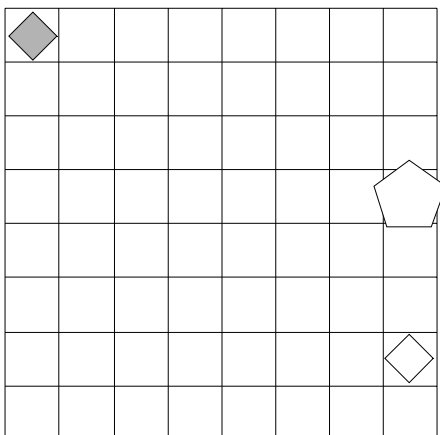
1	2	3	4
R	N	R	R



64. Ugotovi imena likov, če poznaš vrednosti stavkov v danem svetu, ki so podane v spodnji tabeli.

1. Ali lik B ni trikotnik ali lik B ni kvadrat.
2. Lik B ni bel ali lik B ni trikotnik.
3. Ali lik C je bel ali lik C je trikotnik.
4. Ali je lik A levo od B ali je lik B manjši kot C.

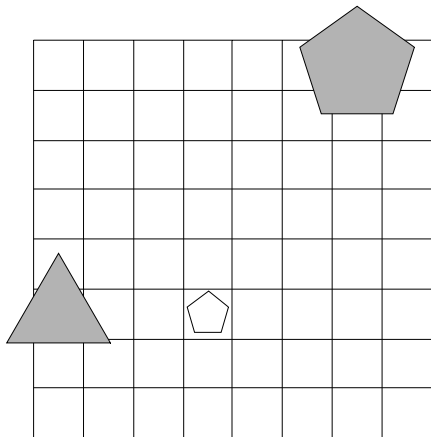
1	2	3	4
R	R	R	R



65. Ugotovi imena likov, če poznaš vrednosti stavkov v danem svetu, ki so podane v spodnji tabeli.

1. Lik C ni velik, če in samo če lik A ni trikotnik.
2. Lik A ni majhen in lik A je trikotnik.
3. Lik C ni petkotnik ali lik A ni petkotnik.
4. Lik A je manjši kot C in lik A je nad C.

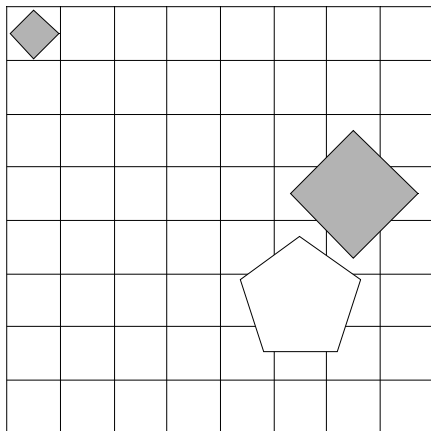
1	2	3	4
R	N	N	N



66. Ugotovi imena likov, če poznaš vrednosti stavkov v danem svetu, ki so podane v spodnji tabeli.

1. Lik C je petkotnik ali lik B je majhen.
2. Lik A ni velik, če in samo če lik A ni trikotnik.
3. Lik A je srednje velikosti in lik C je majhen.
4. Lik B je manjši kot C ali je lik A desno od B.

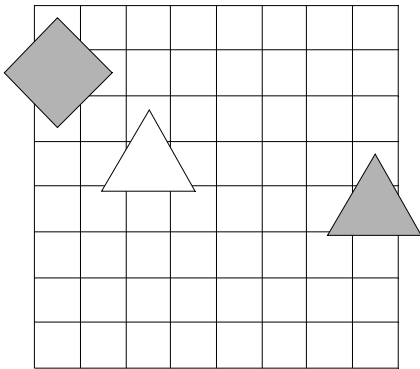
1	2	3	4
N	N	N	R



67. Ugotovi imena likov, če poznaš vrednosti stavkov v danem svetu, ki so podane v spodnji tabeli.

1. Če lik A ni majhen, potem lik A je trikotnik.
2. Lik C ni velik in lik B ni majhen.
3. Lik B ni siv ali lik C ni velik.
4. Lik A je nad B, če in samo če je lik A nad B.

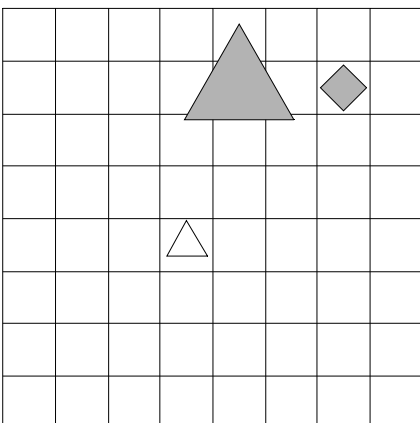
1	2	3	4
R	N	R	R



68. Ugotovi imena likov, če poznaš vrednosti stavkov v danem svetu, ki so podane v spodnji tabeli.

1. Ali lik C je bel ali lik C ni srednje velikosti.
2. Če lik B ni srednje velikosti, potem lik A ni trikotnik.
3. Ali je lik A večji kot C ali je lik A večji kot B.
4. Če je lik A levo od B, potem je lik A nad C.

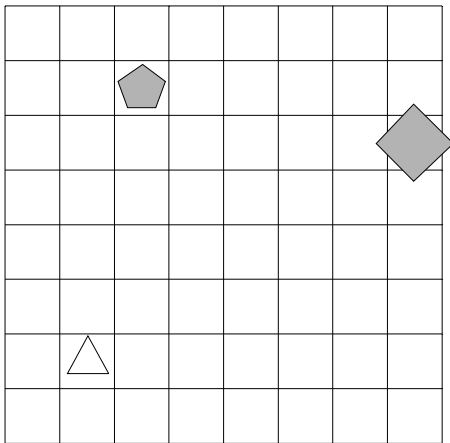
1	2	3	4
N	N	N	R



69. Ugotovi imena likov, če poznaš vrednosti stavkov v danem svetu, ki so podane v spodnji tabeli.

1. Lik A je bel in lik C je petkotnik.
2. Lik B je bel, če in samo če lik C ni velik.
3. Lik B je pod C in lik B je nad C.
4. Lik A je večji kot C in lik A je pod C.

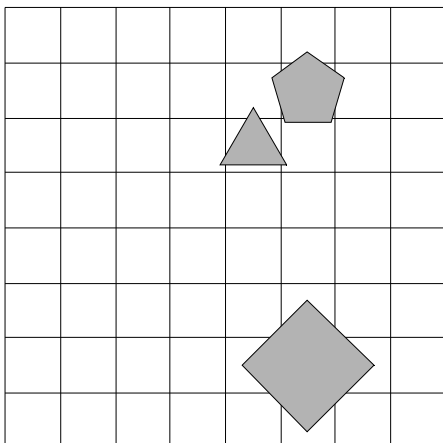
1	2	3	4
R	N	N	N



70. Ugotovi imena likov, če poznaš vrednosti stavkov v danem svetu, ki so podane v spodnji tabeli.

1. Lik C je kvadrat, če in samo če lik B ni bel.
2. Lik B ni siv ali lik A ni majhen.
3. Ali lik B je srednje velikosti ali lik B je petkotnik.
4. Lik A ni trikotnik in lik C je bel.

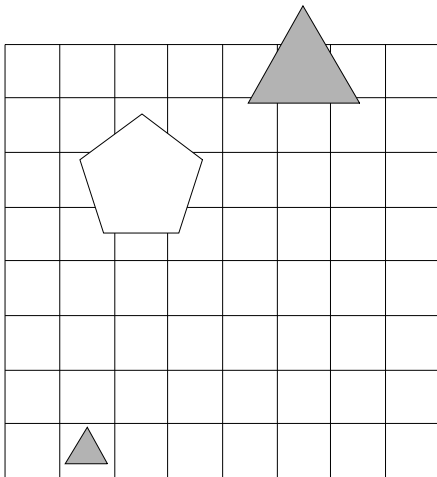
1	2	3	4
R	R	R	N



71. Ugotovi imena likov, če poznaš vrednosti stavkov v danem svetu, ki so podane v spodnji tabeli.

1. Lik B ni velik, če in samo če lik A ni velik.
2. Ali lik A ni bel ali lik A ni siv.
3. Lik B je desno od C ali je lik A levo od B.
4. Lik A je večji kot B, če in samo če je lik B nad C.

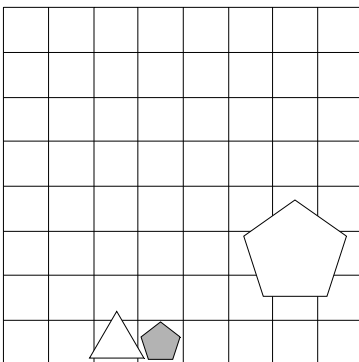
1	2	3	4
N	R	R	N



72. Ugotovi imena likov, če poznaš vrednosti stavkov v danem svetu, ki so podane v spodnji tabeli.

1. Če lik C je srednje velikosti, potem lik A ni petkotnik.
2. Ali je lik A levo od B ali je lik A nad B.
3. Ali je lik B pod C ali je lik A večji kot C.
4. Lik A je večji kot C in lik B je pod C.

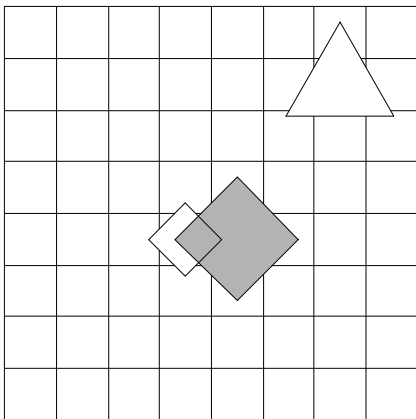
1	2	3	4
R	N	R	N



73. Ugotovi imena likov, če poznaš vrednosti stavkov v danem svetu, ki so podane v spodnji tabeli.

1. Če lik C ni velik, potem lik B ni velik.
2. Lik C ni trikotnik, če in samo če lik C ni velik.
3. Če lik A je bel, potem lik A ni srednje velikosti.
4. Če lik B ni majhen, potem lik B je siv.

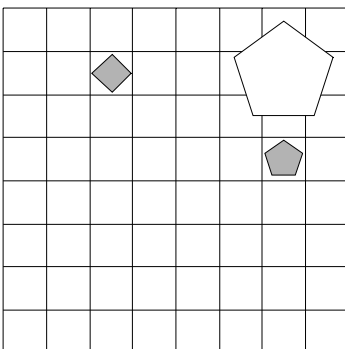
1	2	3	4
R	N	N	N



74. Ugotovi imena likov, če poznaš vrednosti stavkov v danem svetu, ki so podane v spodnji tabeli.

1. Če lik A ni trikotnik, potem lik C ni srednje velikosti.
2. Lik B je majhen, če in samo če lik C ni siv.
3. Lik A ni siv in lik B je srednje velikosti.
4. Če lik C je kvadrat, potem lik B je trikotnik.

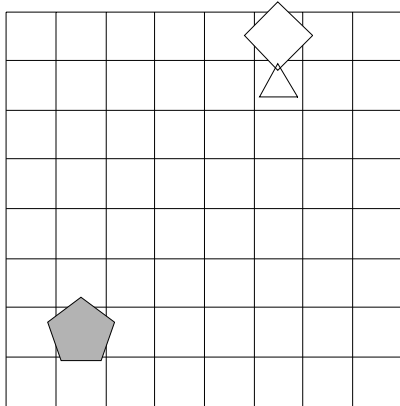
1	2	3	4
R	R	N	N



75. Ugotovi imena likov, če poznaš vrednosti stavkov v danem svetu, ki so podane v spodnji tabeli.

1. Lik C je siv, če in samo če lik A je trikotnik.
2. Če lik A ni kvadrat, potem lik B ni bel.
3. Lik A je desno od C ali je lik A manjši kot B.
4. Ali je lik A desno od C ali je lik B nad C.

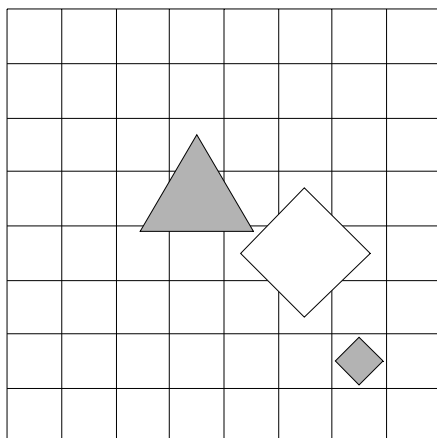
1	2	3	4
R	N	N	N



76. Ugotovi imena likov, če poznaš vrednosti stavkov v danem svetu, ki so podane v spodnji tabeli.

1. Če lik C je velik, potem lik A ni kvadrat.
2. Ali lik C je majhen ali lik C je petkotnik.
3. Če lik A ni majhen, potem lik B ni kvadrat.
4. Lik A je nad C ali je lik A desno od C.

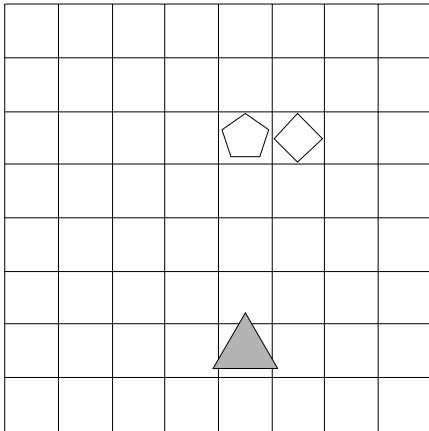
1	2	3	4
R	R	R	R



77. Ugotovi imena likov, če poznaš vrednosti stavkov v danem svetu, ki so podane v spodnji tabeli.

1. Lik A je majhen ali lik B ni srednje velikosti.
2. Če je lik B manjši kot C, potem je lik A nad C.
3. Ali je lik A desno od C ali je lik A nad C.
4. Ali je lik B pod C ali je lik B levo od C.

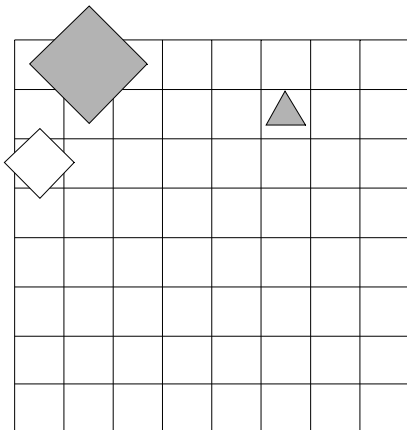
1	2	3	4
R	R	R	N



78. Ugotovi imena likov, če poznaš vrednosti stavkov v danem svetu, ki so podane v spodnji tabeli.

1. Če lik B ni srednje velikosti, potem lik C je bel.
2. Lik C ni kvadrat, če in samo če lik A ni srednje velikosti.
3. Če je lik A manjši kot B, potem je lik B levo od C.
4. Lik B je manjši kot C in lik B je levo od C.

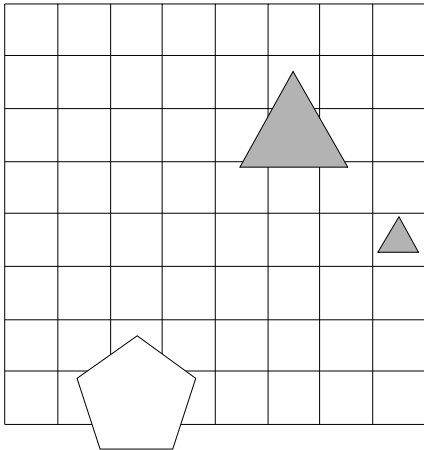
1	2	3	4
N	N	R	N



79. Ugotovi imena likov, če poznaš vrednosti stavkov v danem svetu, ki so podane v spodnji tabeli.

1. Ali lik B je trikotnik ali lik C je petkotnik.
2. Če je lik B večji kot C, potem je lik B večji kot C.
3. Lik A je manjši kot B ali je lik B pod C.
4. Lik A je desno od C in lik B je desno od C.

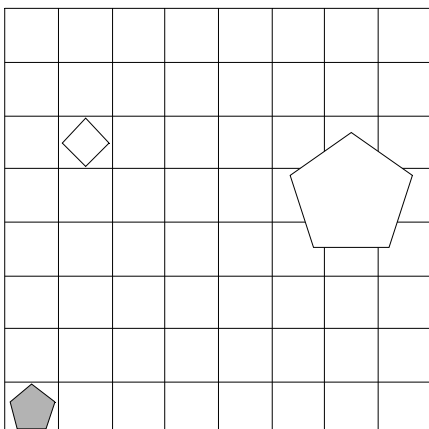
1	2	3	4
R	R	N	N



80. Ugotovi imena likov, če poznaš vrednosti stavkov v danem svetu, ki so podane v spodnji tabeli.

1. Ali lik A ni siv ali lik A ni srednje velikosti.
2. Lik B ni trikotnik, če in samo če lik C ni velik.
3. Ali je lik B levo od C ali je lik A manjši kot B.
4. Če je lik A večji kot C, potem je lik B desno od C.

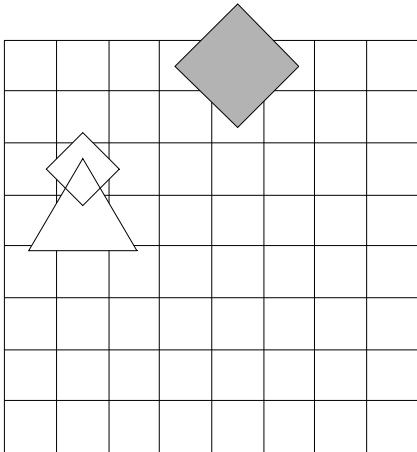
1	2	3	4
R	R	R	R



81. Ugotovi imena likov, če poznaš vrednosti stavkov v danem svetu, ki so podane v spodnji tabeli.

1. Ali lik A ni srednje velikosti ali lik C je velik.
2. Lik B je bel in lik C je velik.
3. Lik B je bel in lik B je srednje velikosti.
4. Lik B je siv, če in samo če lik A je trikotnik.

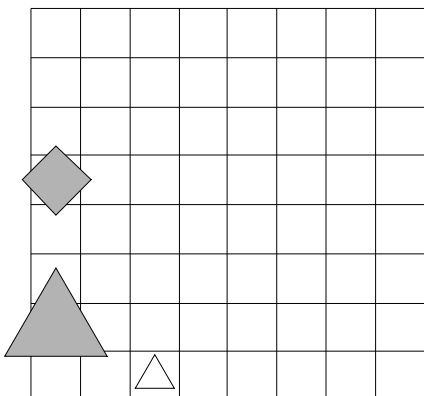
1	2	3	4
R	N	N	N



82. Ugotovi imena likov, če poznaš vrednosti stavkov v danem svetu, ki so podane v spodnji tabeli.

1. Če lik C ni petkotnik, potem lik C ni trikotnik.
2. Lik A je pod C, če in samo če je lik A manjši kot B.
3. Lik A je levo od B, če in samo če je lik A levo od B.
4. Lik A je levo od B in lik A je pod B.

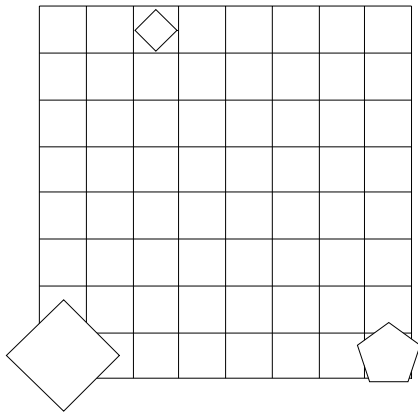
1	2	3	4
R	N	R	N



83. Ugotovi imena likov, če poznaš vrednosti stavkov v danem svetu, ki so podane v spodnji tabeli.

1. Lik B ni petkotnik, če in samo če lik C je velik.
2. Ali lik B je siv ali lik A je srednje velikosti.
3. Ali lik A je bel ali lik B ni siv.
4. Lik C je srednje velikosti ali lik A ni bel.

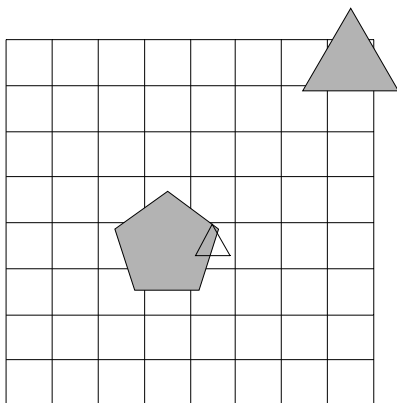
1	2	3	4
R	R	N	N



84. Ugotovi imena likov, če poznaš vrednosti stavkov v danem svetu, ki so podane v spodnji tabeli.

1. Lik A je trikotnik ali lik A je srednje velikosti.
2. Ali lik A ni majhen ali lik B je kvadrat.
3. Ali lik B ni majhen ali lik C je kvadrat.
4. Lik A ni kvadrat in lik B je petkotnik.

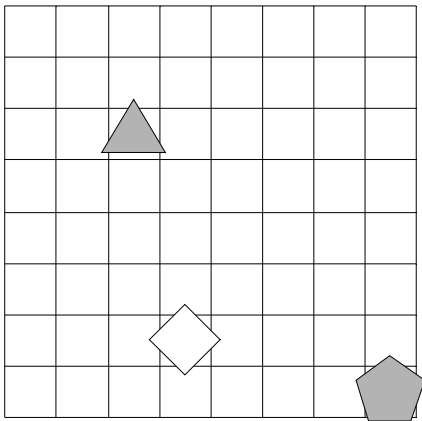
1	2	3	4
R	N	R	N



85. Ugotovi imena likov, če poznaš vrednosti stavkov v danem svetu, ki so podane v spodnji tabeli.

1. Lik B ni majhen, če in samo če lik C je siv.
2. Če lik B ni siv, potem lik C ni srednje velikosti.
3. Ali je lik A manjši kot B ali je lik A pod C.
4. Lik A je pod B ali je lik A manjši kot C.

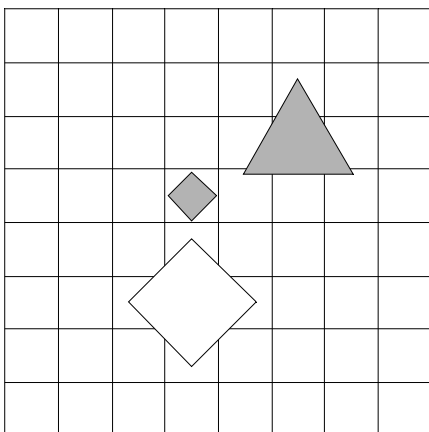
1	2	3	4
R	R	N	R



86. Ugotovi imena likov, če poznaš vrednosti stavkov v danem svetu, ki so podane v spodnji tabeli.

1. Ali lik A je siv ali lik C ni bel.
2. Lik A je srednje velikosti in lik B je bel.
3. Ali je lik A nad C ali je lik A nad B.
4. Če je lik A večji kot B, potem je lik A desno od B.

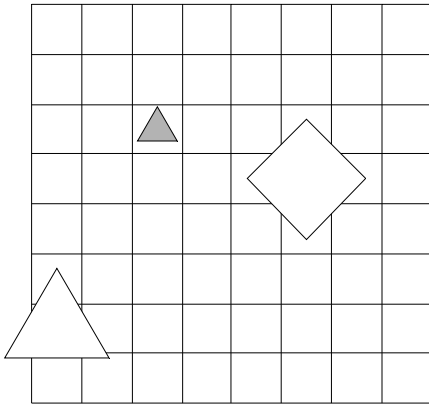
1	2	3	4
R	N	N	N



87. Ugotovi imena likov, če poznaš vrednosti stavkov v danem svetu, ki so podane v spodnji tabeli.

1. Lik B ni trikotnik ali lik B je majhen.
2. Lik B ni siv, če in samo če lik B je trikotnik.
3. Lik A je bel ali lik A ni kvadrat.
4. Lik C je majhen in lik B je kvadrat.

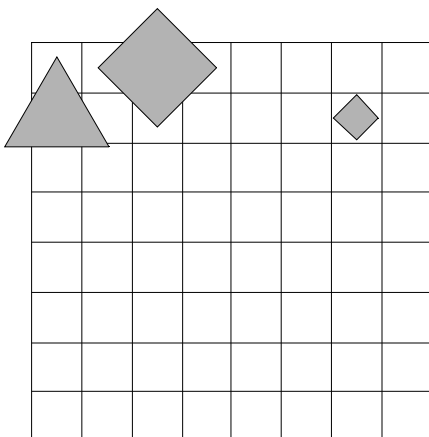
1	2	3	4
R	N	R	R



88. Ugotovi imena likov, če poznaš vrednosti stavkov v danem svetu, ki so podane v spodnji tabeli.

1. Če lik A je bel, potem lik C ni bel.
2. Lik A je petkotnik ali lik B ni velik.
3. Lik A ni trikotnik, če in samo če lik A je petkotnik.
4. Lik B je desno od C ali je lik A manjši kot C.

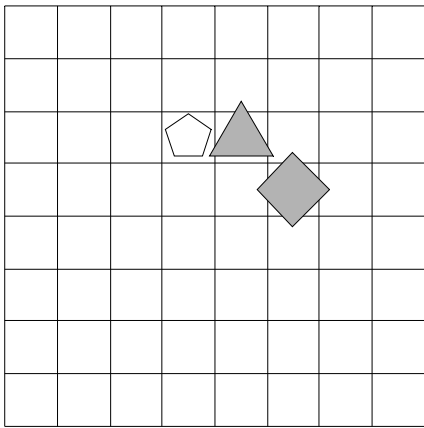
1	2	3	4
R	N	R	N



89. Ugotovi imena likov, če poznaš vrednosti stavkov v danem svetu, ki so podane v spodnji tabeli.

1. Lik B je trikotnik, če in samo če lik A je bel.
2. Lik A je nad B in lik A je nad B.
3. Lik A je večji kot C ali je lik A manjši kot C.
4. Lik A je nad B ali je lik A pod C.

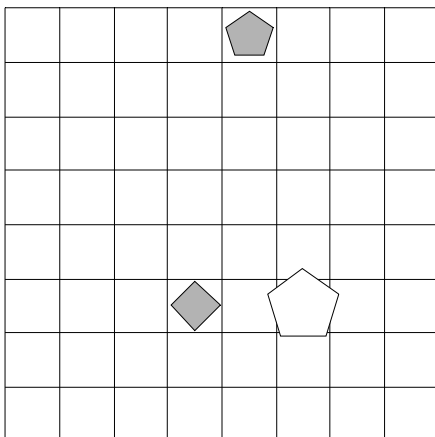
1	2	3	4
R	N	R	N



90. Ugotovi imena likov, če poznaš vrednosti stavkov v danem svetu, ki so podane v spodnji tabeli.

1. Ali lik A je srednje velikosti ali lik A ni kvadrat.
2. Lik A ni petkotnik, če in samo če lik B je bel.
3. Lik A je trikotnik in lik A ni srednje velikosti.
4. Lik A je levo od C ali je lik B manjši kot C.

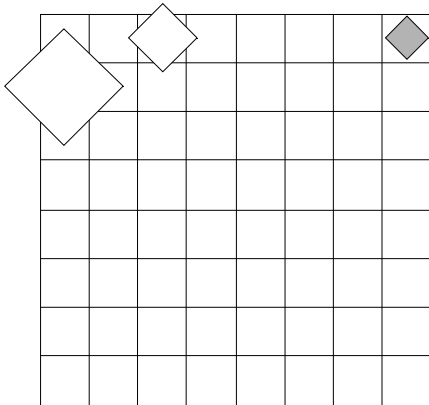
1	2	3	4
R	N	N	N



91. Ugotovi imena likov, če poznaš vrednosti stavkov v danem svetu, ki so podane v spodnji tabeli.

1. Če lik B ni bel, potem lik C ni kvadrat.
2. Ali lik B je bel ali lik B ni bel.
3. Lik A je pod B, če in samo če je lik B levo od C.
4. Lik A je nad C in lik B je desno od C.

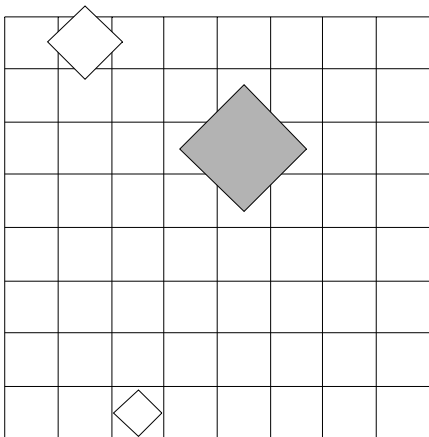
1	2	3	4
N	R	N	N



92. Ugotovi imena likov, če poznaš vrednosti stavkov v danem svetu, ki so podane v spodnji tabeli.

1. Lik B je srednje velikosti, če in samo če lik B ni majhen.
2. Lik A ni bel, če in samo če lik C ni srednje velikosti.
3. Ali lik C je trikotnik ali lik A je srednje velikosti.
4. Lik B je pod C, če in samo če je lik B manjši kot C.

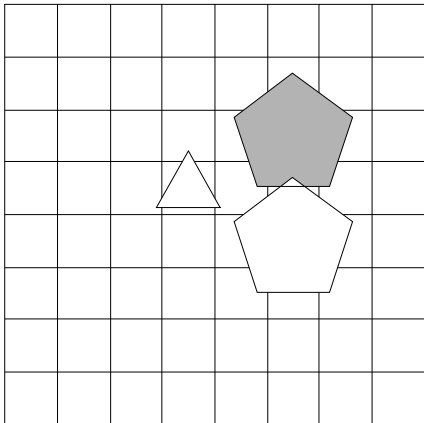
1	2	3	4
R	N	R	R



93. Ugotovi imena likov, če poznaš vrednosti stavkov v danem svetu, ki so podane v spodnji tabeli.

1. Če lik B je majhen, potem lik B je majhen.
2. Ali je lik B desno od C ali je lik B levo od C.
3. Lik B je levo od C in lik A je nad B.
4. Lik A je pod C ali je lik A pod B.

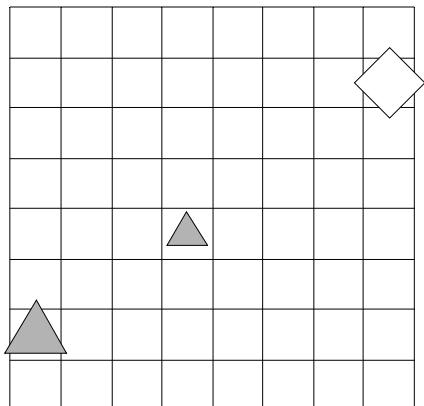
1	2	3	4
R	R	R	N



94. Ugotovi imena likov, če poznaš vrednosti stavkov v danem svetu, ki so podane v spodnji tabeli.

1. Če lik A je kvadrat, potem lik C je petkotnik.
2. Lik A ni kvadrat, če in samo če lik C ni velik.
3. Lik C ni srednje velikosti ali lik C je siv.
4. Lik B je večji kot C ali je lik A večji kot C.

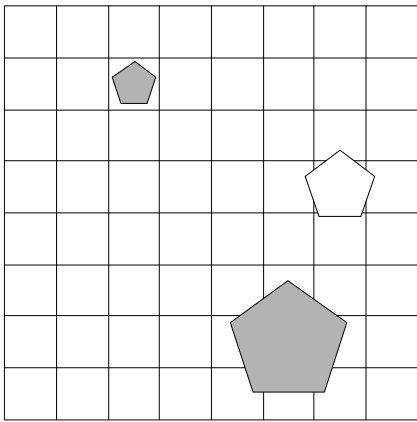
1	2	3	4
N	N	R	R



95. Ugotovi imena likov, če poznaš vrednosti stavkov v danem svetu, ki so podane v spodnji tabeli.

1. Če lik B je trikotnik, potem lik C ni bel.
2. Lik A je kvadrat ali lik A ni velik.
3. Lik A je večji kot C in lik A je pod C.
4. Lik A je desno od B ali je lik B večji kot C.

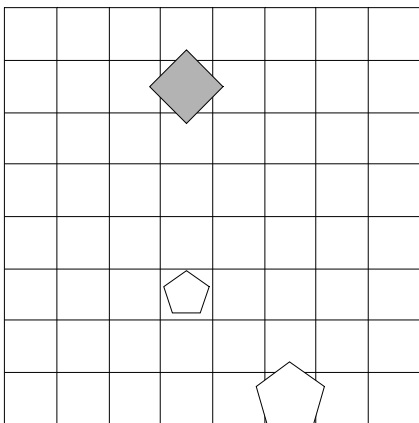
1	2	3	4
R	R	R	R



96. Ugotovi imena likov, če poznaš vrednosti stavkov v danem svetu, ki so podane v spodnji tabeli.

1. Ali lik B ni bel ali lik C ni siv.
2. Lik A je srednje velikosti in lik A je trikotnik.
3. Lik B ni petkotnik in lik B je kvadrat.
4. Lik B je pod C, če in samo če je lik A manjši kot C.

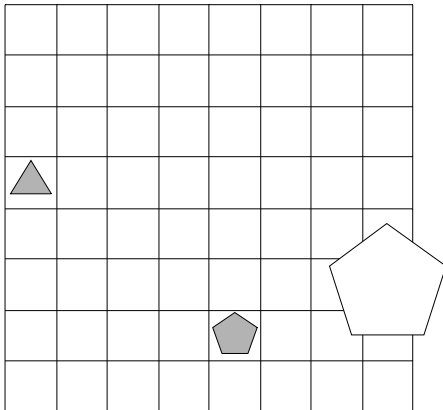
1	2	3	4
N	N	R	R



97. Ugotovi imena likov, če poznaš vrednosti stavkov v danem svetu, ki so podane v spodnji tabeli.

1. Lik C je trikotnik, če in samo če lik B ni velik.
2. Lik A je trikotnik ali lik B je bel.
3. Lik A je trikotnik ali lik B je trikotnik.
4. Lik B je bel ali lik B je kvadrat.

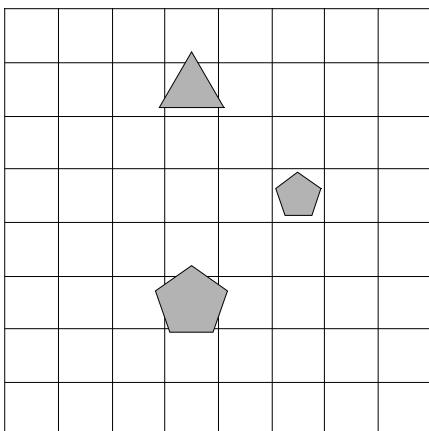
1	2	3	4
N	R	R	N



98. Ugotovi imena likov, če poznaš vrednosti stavkov v danem svetu, ki so podane v spodnji tabeli.

1. Lik B je srednje velikosti ali lik B ni siv.
2. Lik B je velik, če in samo če lik C ni siv.
3. Lik B je trikotnik, če in samo če lik A ni petkotnik.
4. Lik B je srednje velikosti ali lik B je majhen.

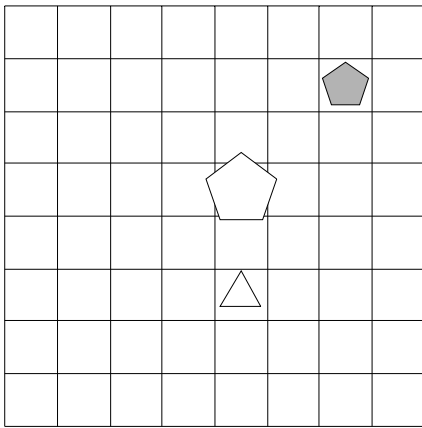
1	2	3	4
N	R	R	R



99. Ugotovi imena likov, če poznaš vrednosti stavkov v danem svetu, ki so podane v spodnji tabeli.

1. Če lik C je majhen, potem lik B je trikotnik.
2. Ali je lik A manjši kot C ali je lik A pod B.
3. Ali je lik B manjši kot C ali je lik A manjši kot B.
4. Lik A je večji kot C in lik A je manjši kot C.

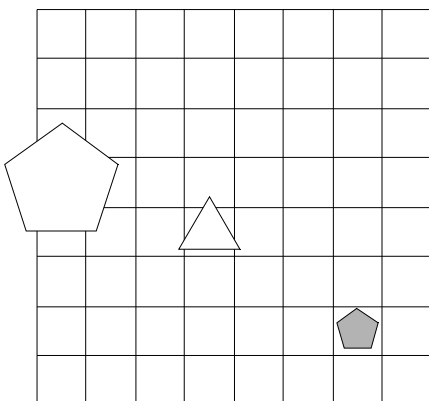
1	2	3	4
R	R	R	N



100. Ugotovi imena likov, če poznaš vrednosti stavkov v danem svetu, ki so podane v spodnji tabeli.

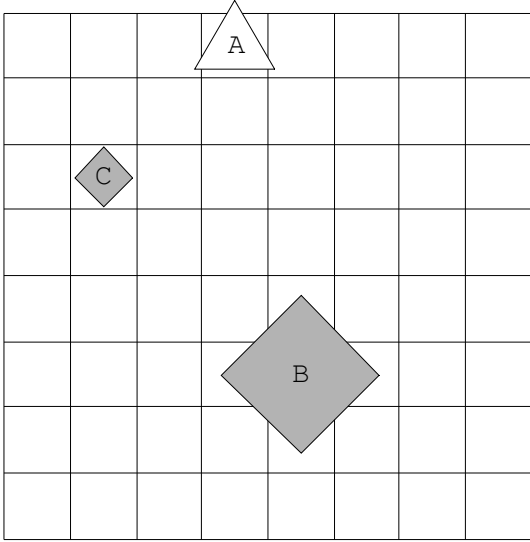
1. Če lik C ni siv, potem lik A ni bel.
2. Če lik B ni siv, potem lik C ni petkotnik.
3. Ali lik C je srednje velikosti ali lik B je petkotnik.
4. Lik A je manjši kot C in lik A je manjši kot B.

1	2	3	4
R	N	N	R

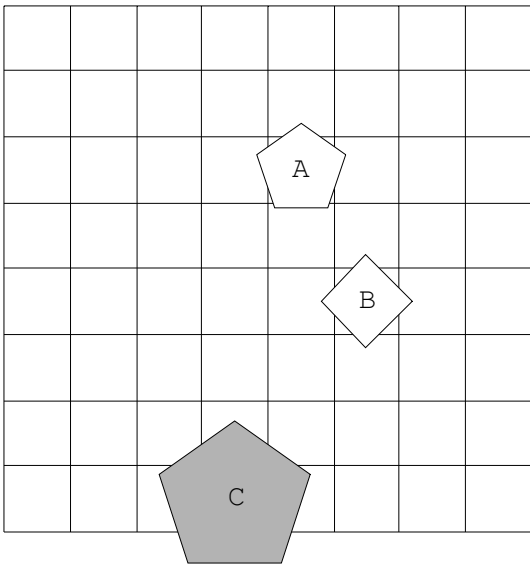


Rešitve

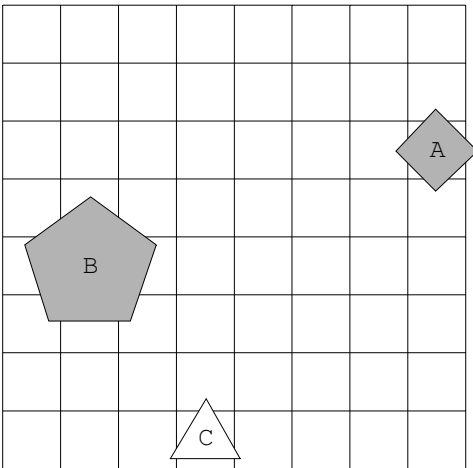
1.



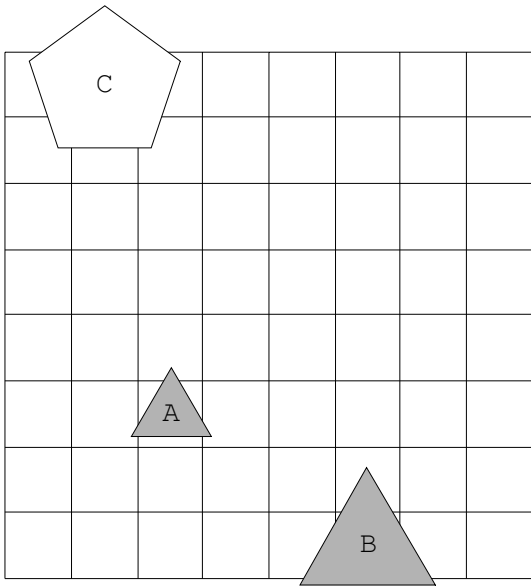
2.



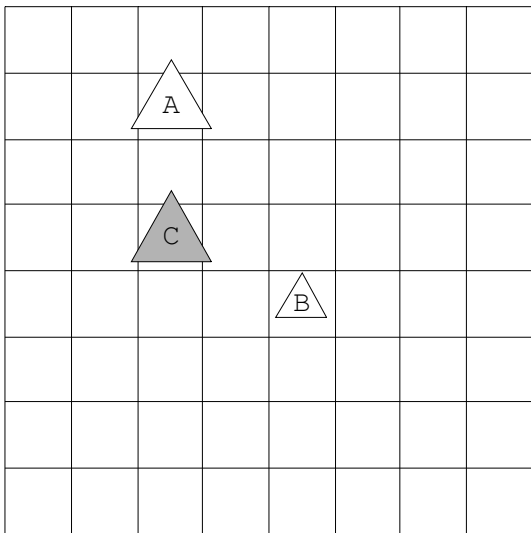
3.



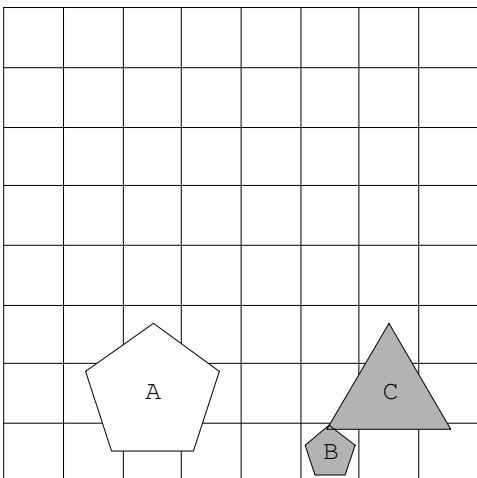
4.



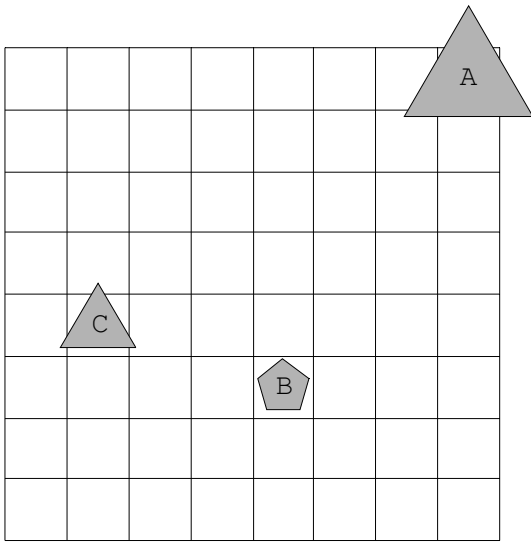
5.



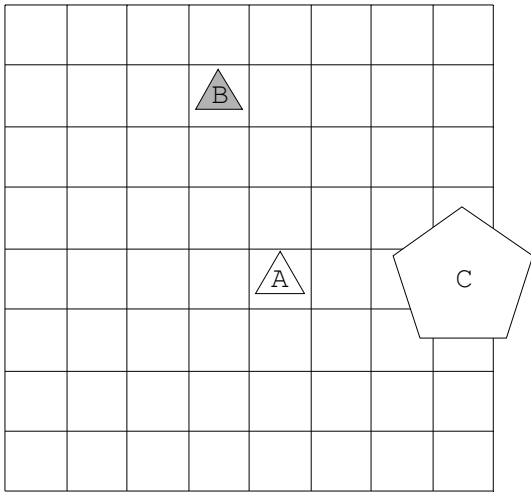
6.



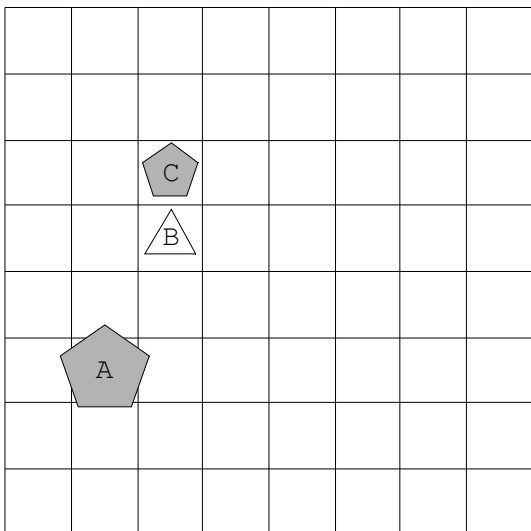
7.



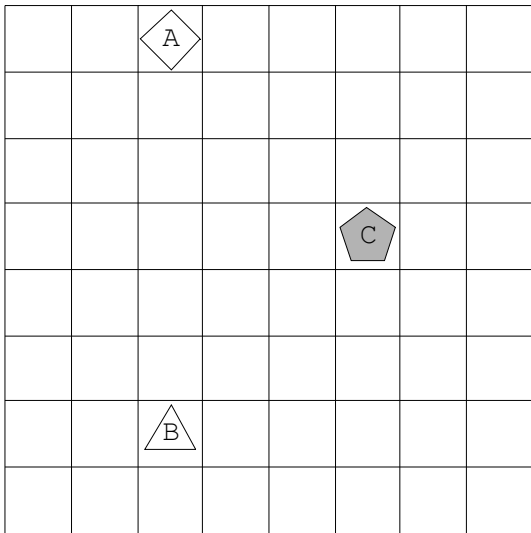
8.



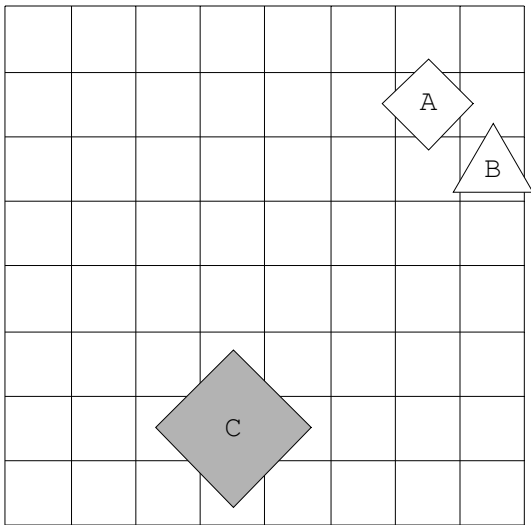
9.



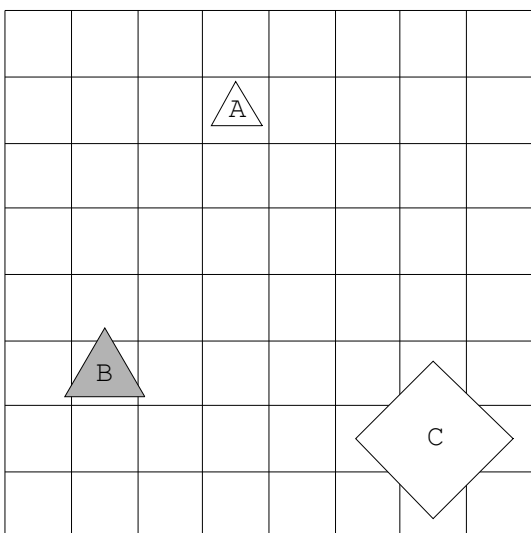
10.



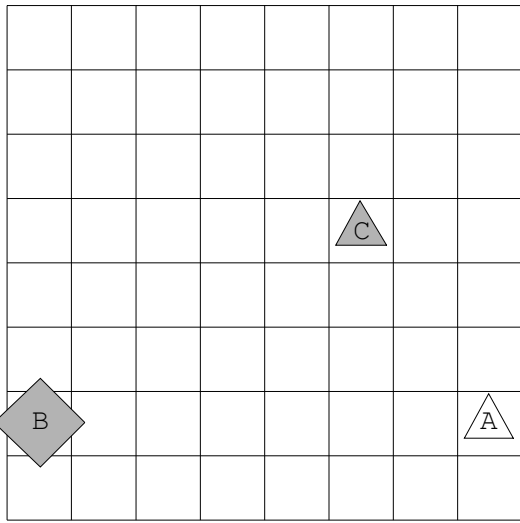
11.



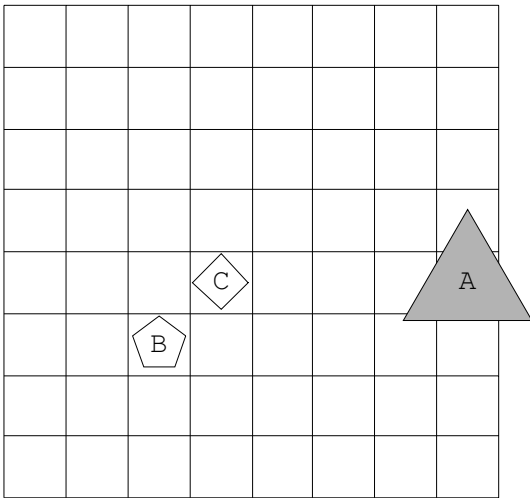
12.



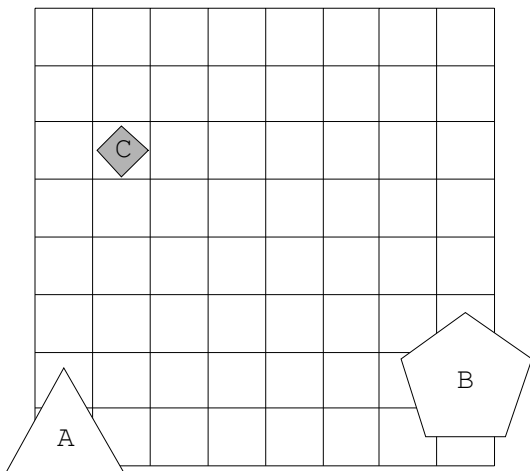
13.



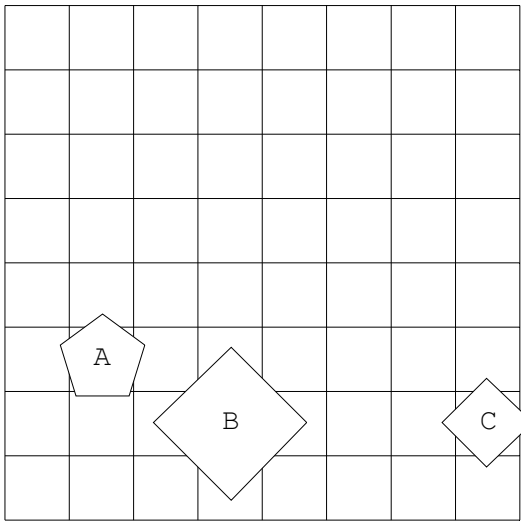
14.



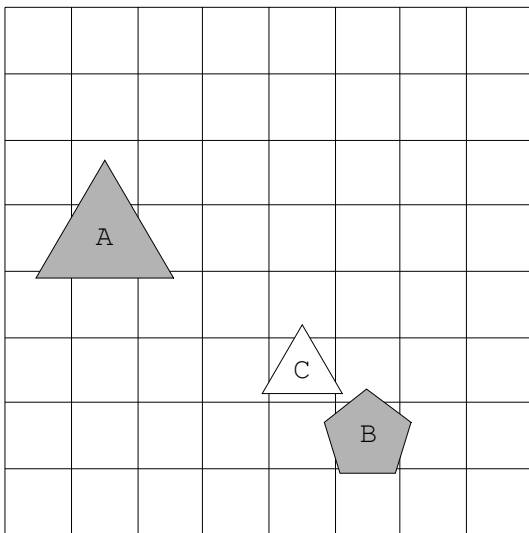
15.



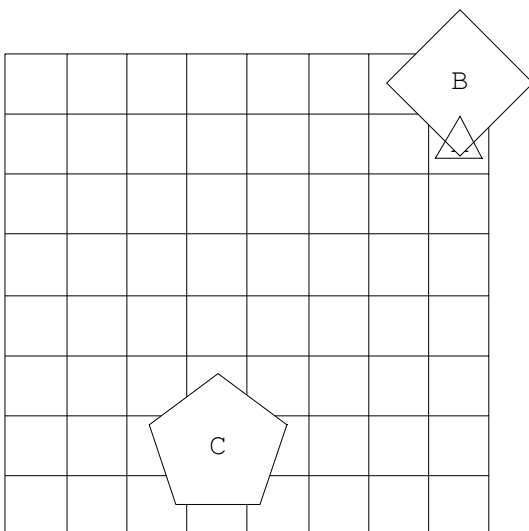
16.



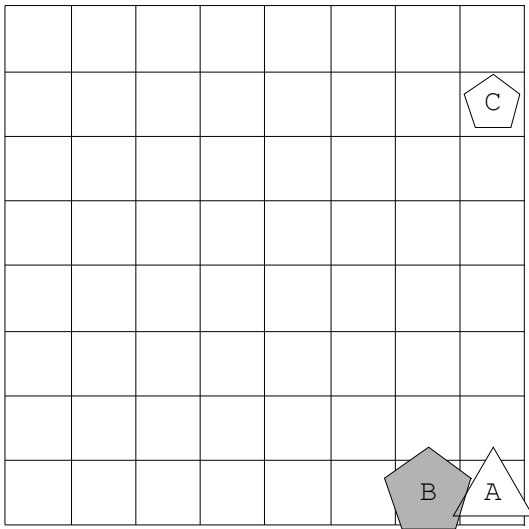
17.



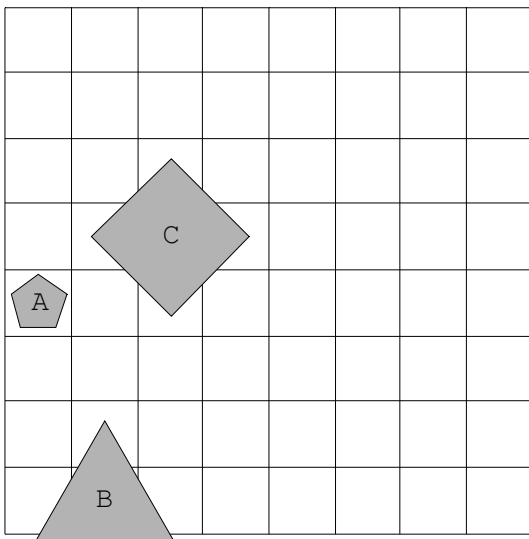
18.



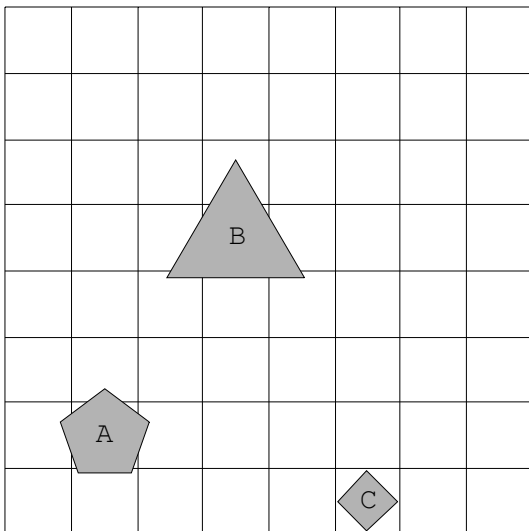
19.



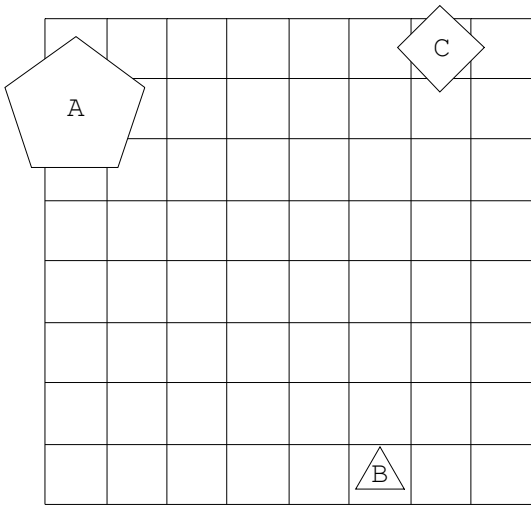
20.



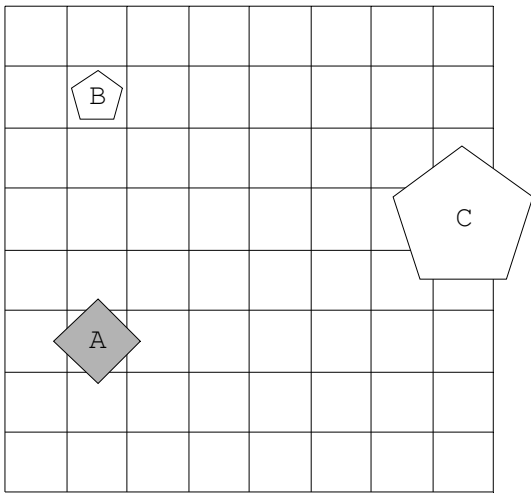
21.



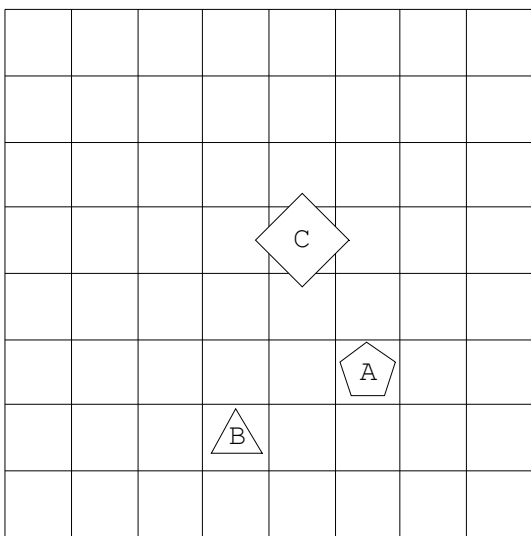
22.



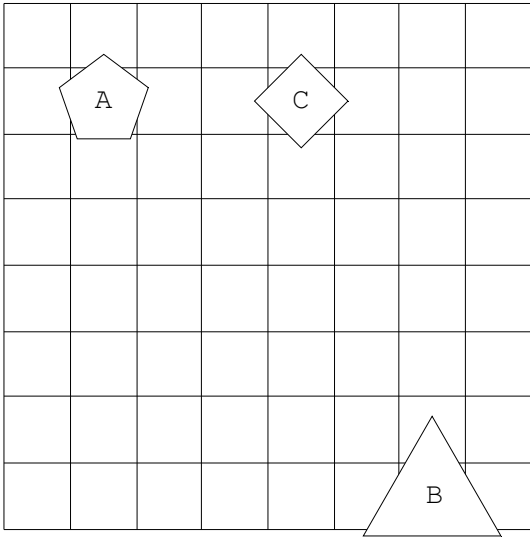
23.



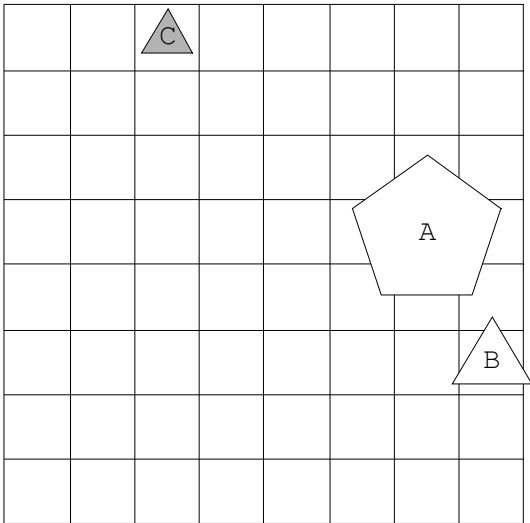
24.



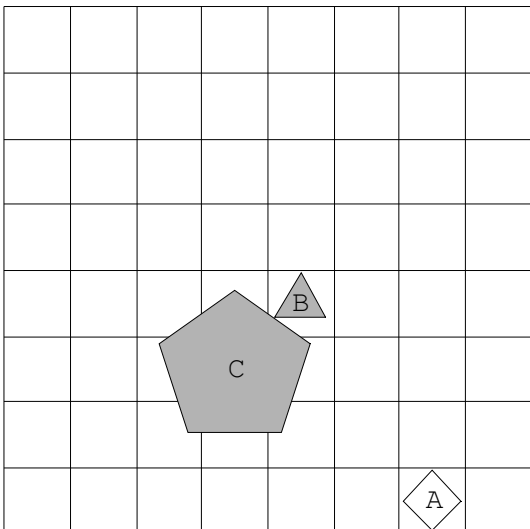
25.



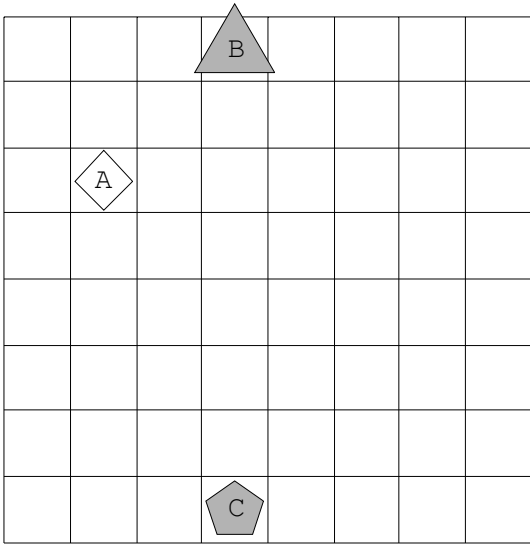
26.



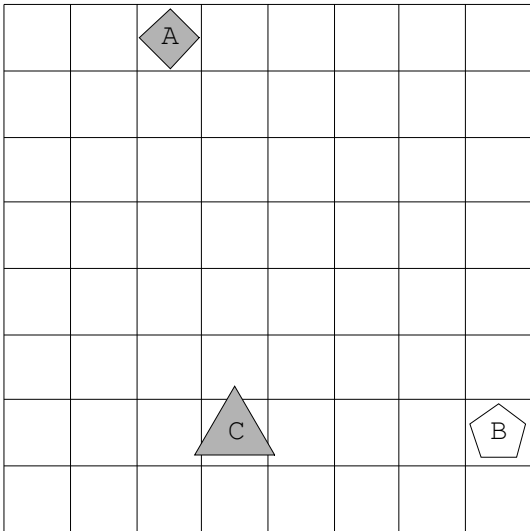
27.



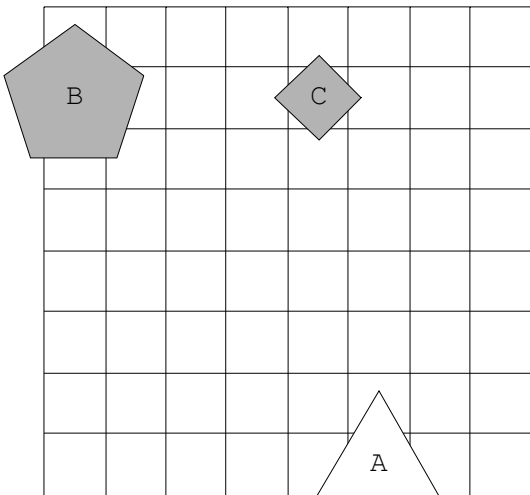
28.



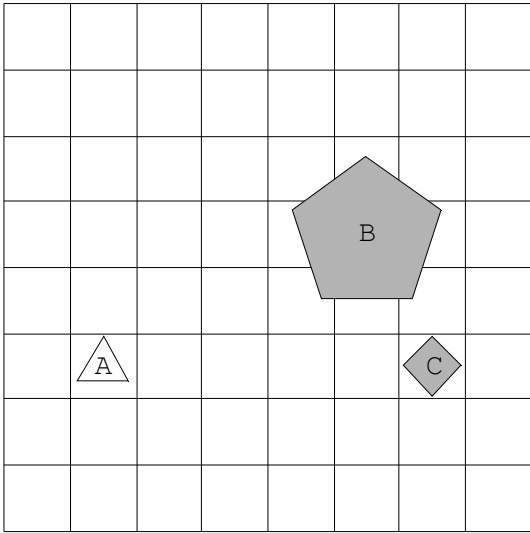
29.



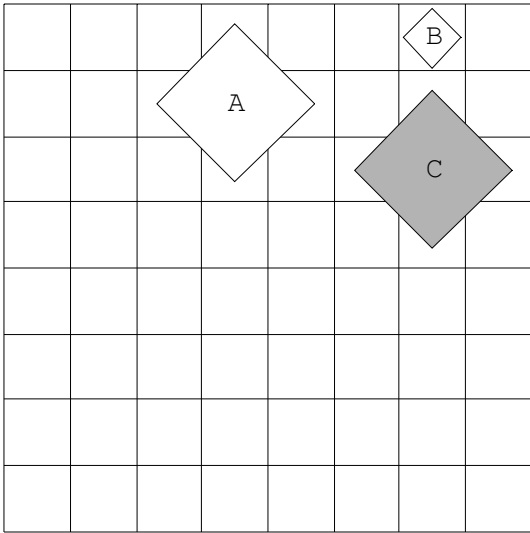
30.



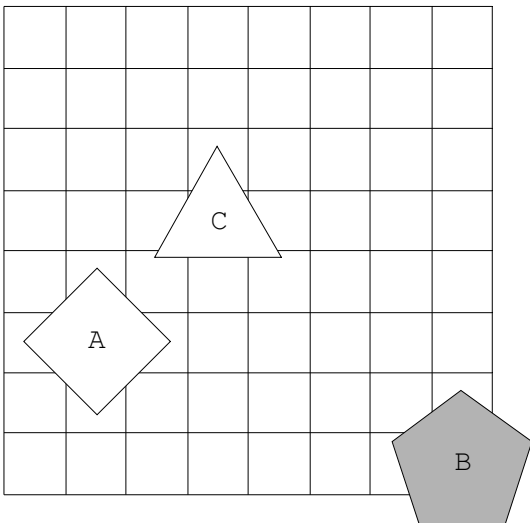
31.



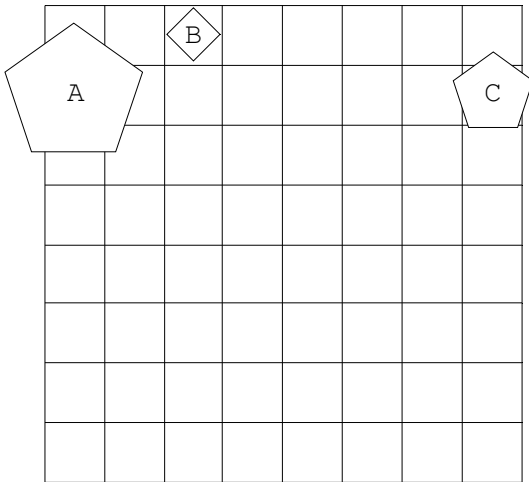
32.



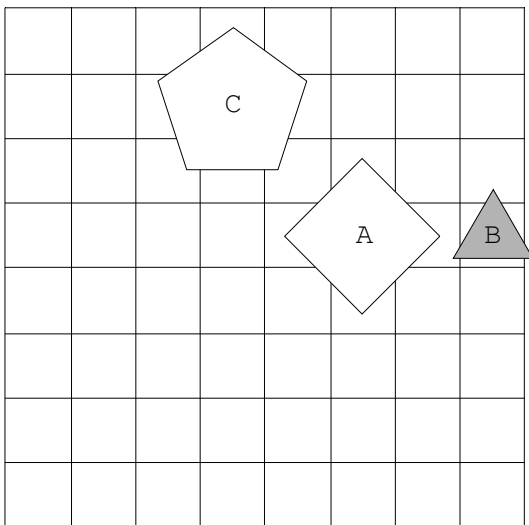
33.



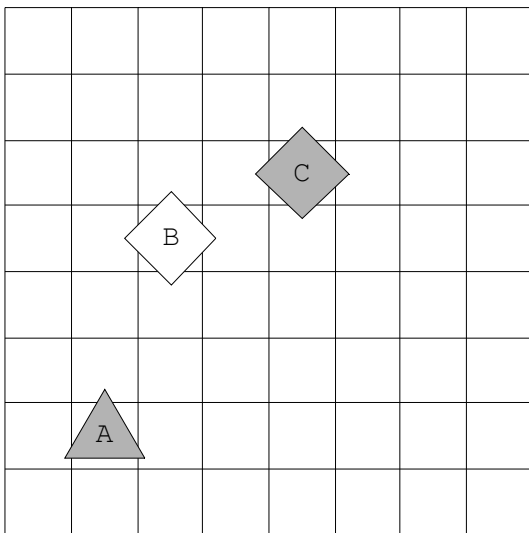
34.



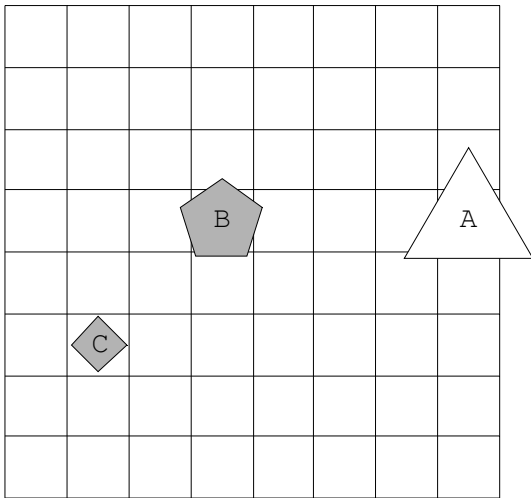
35.



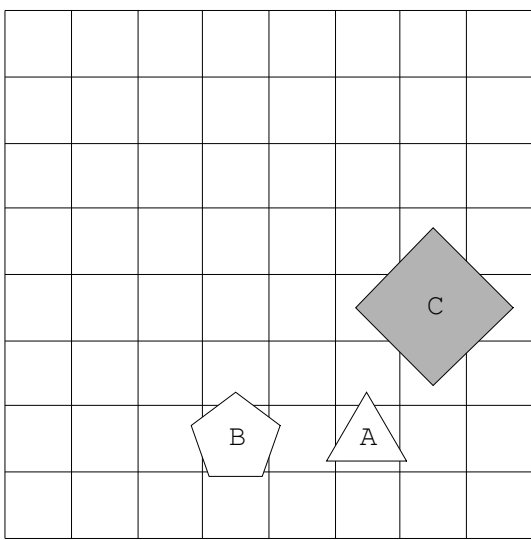
36.



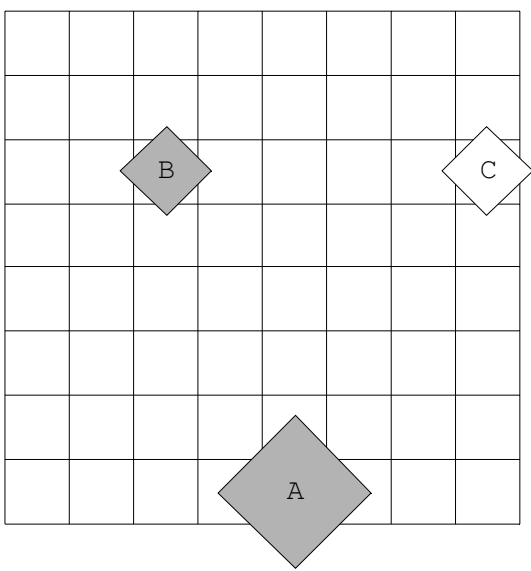
37.



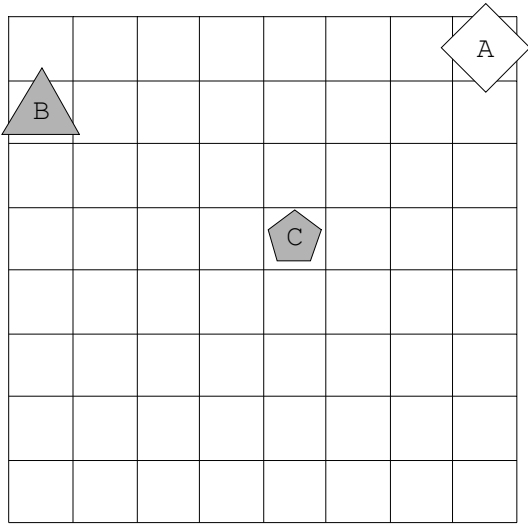
38.



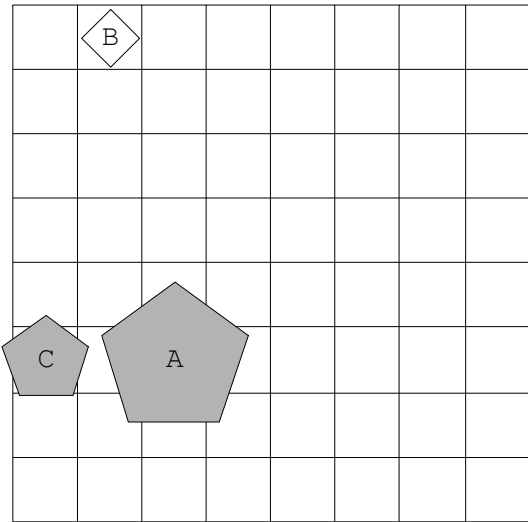
39.



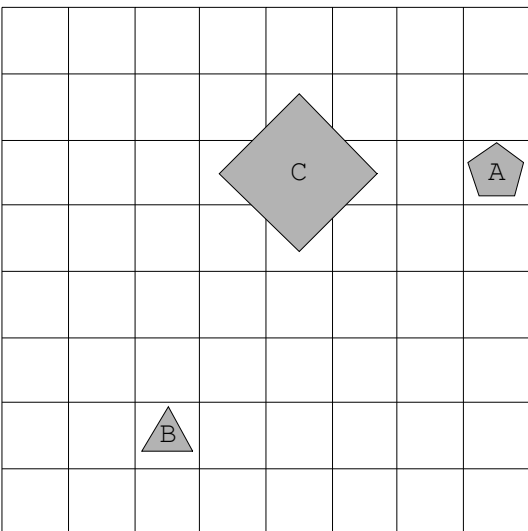
40.



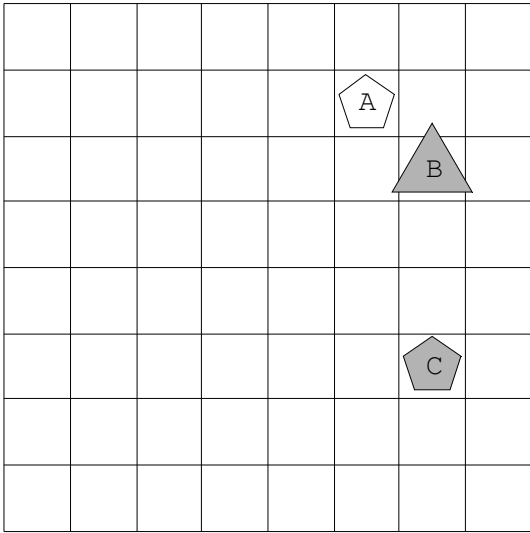
41.



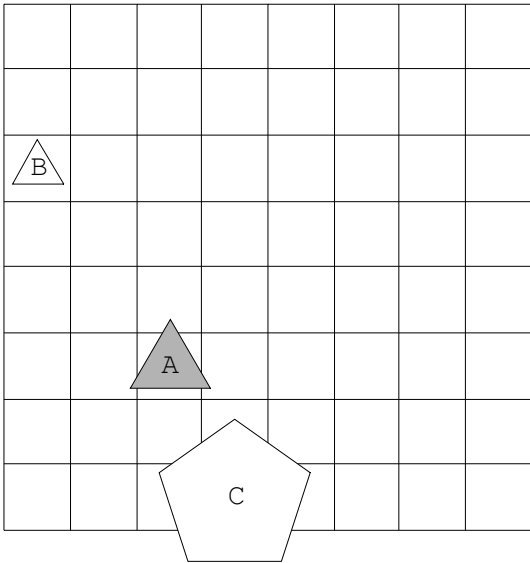
42.



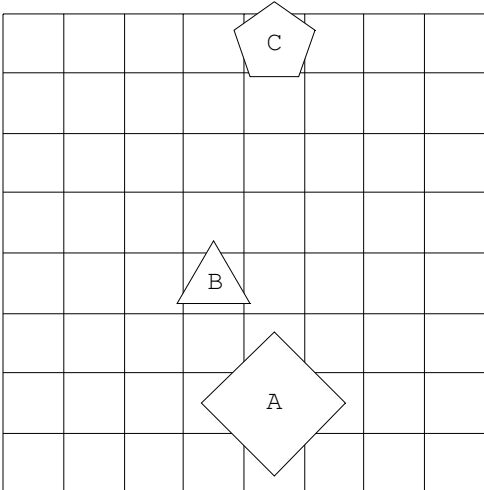
43.



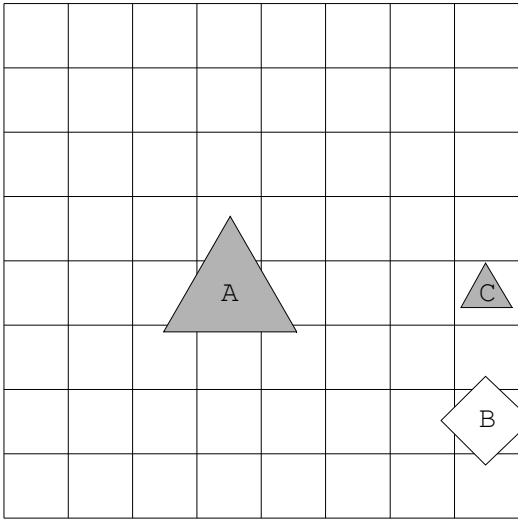
44.



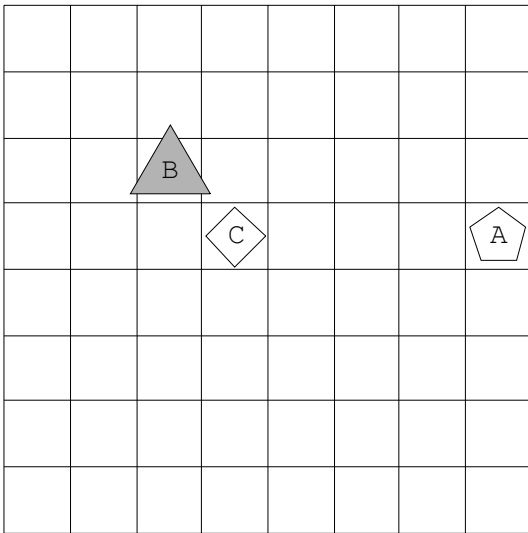
45.



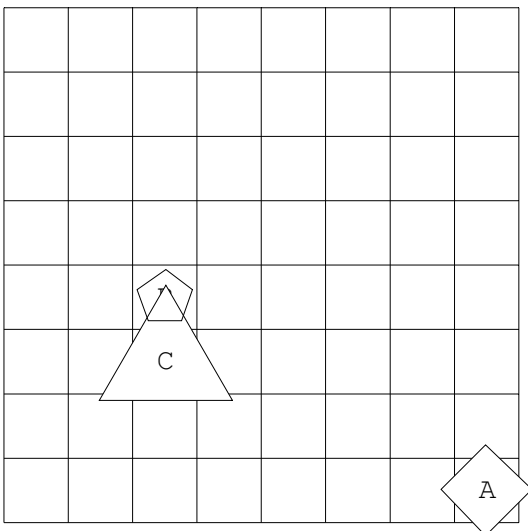
46.



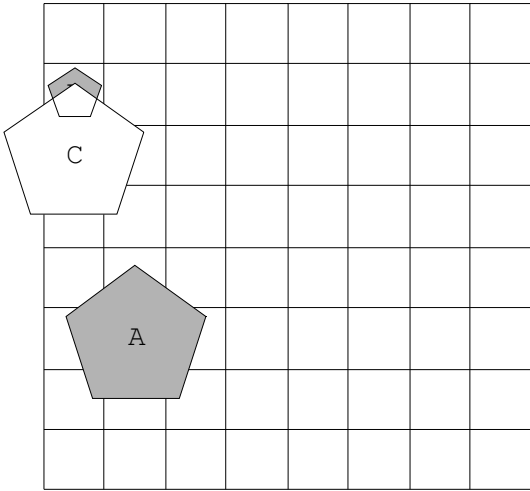
47.



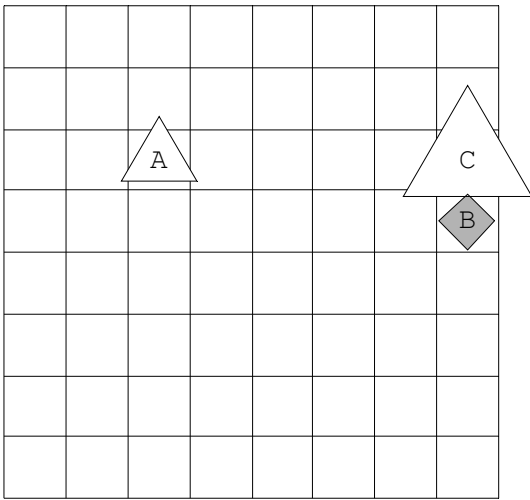
48.



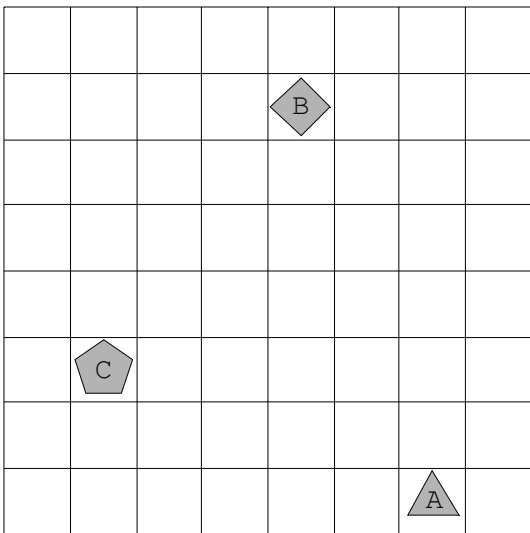
49.



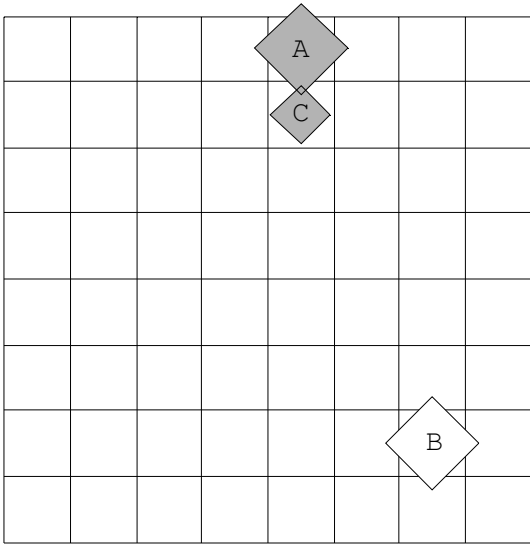
50.



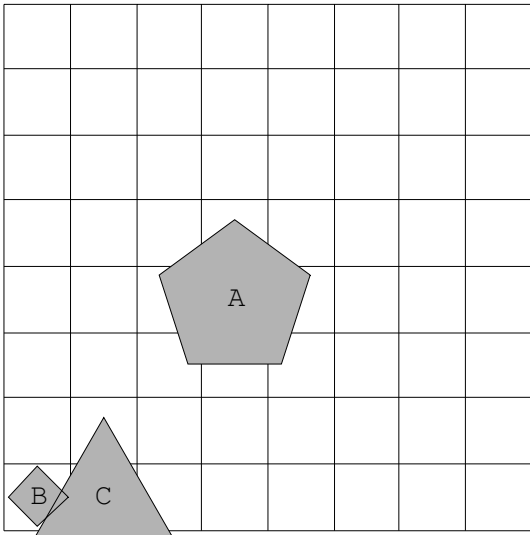
51.



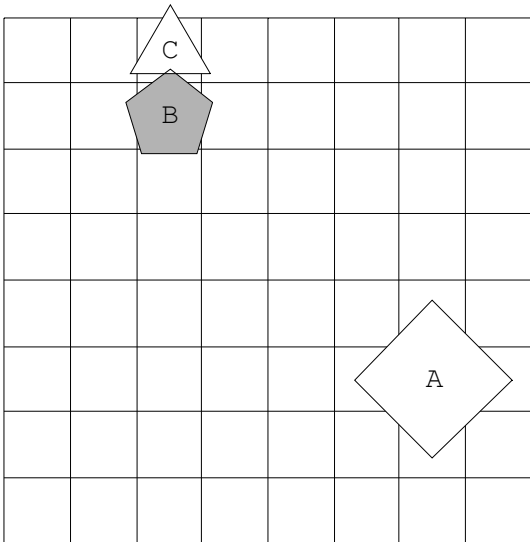
52.



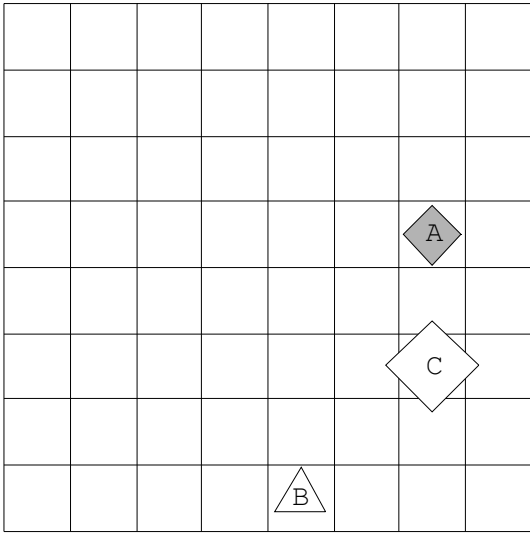
53.



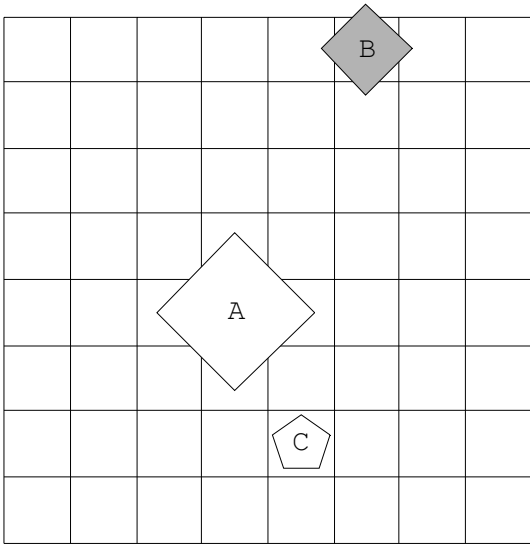
54.



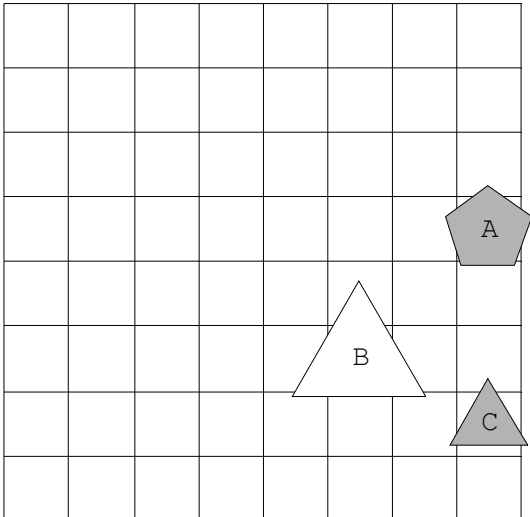
55.



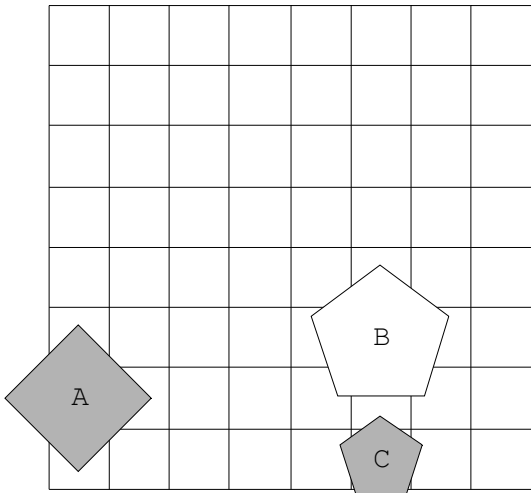
56.



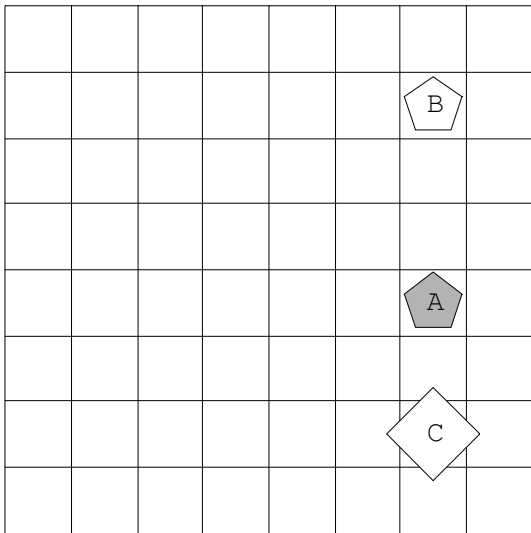
57.



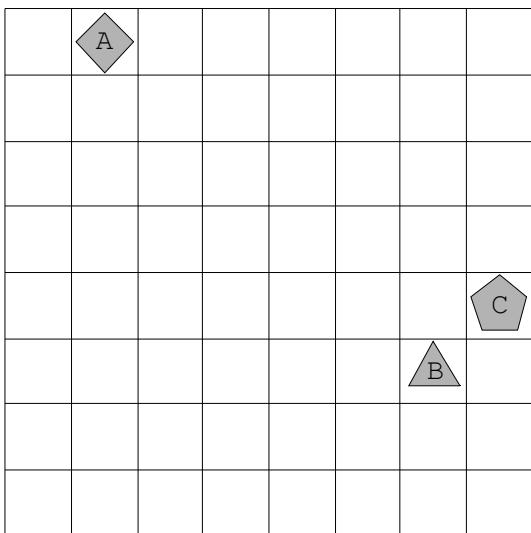
58.



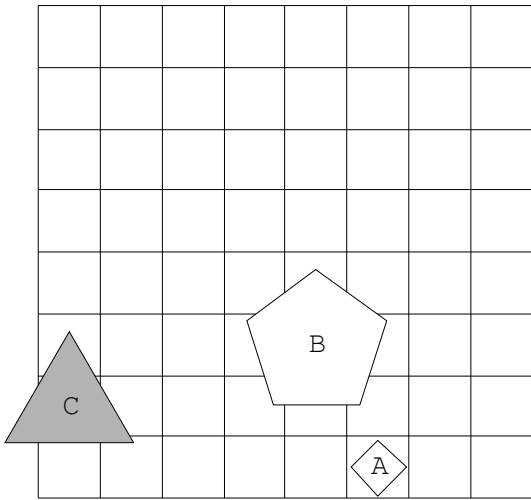
59.



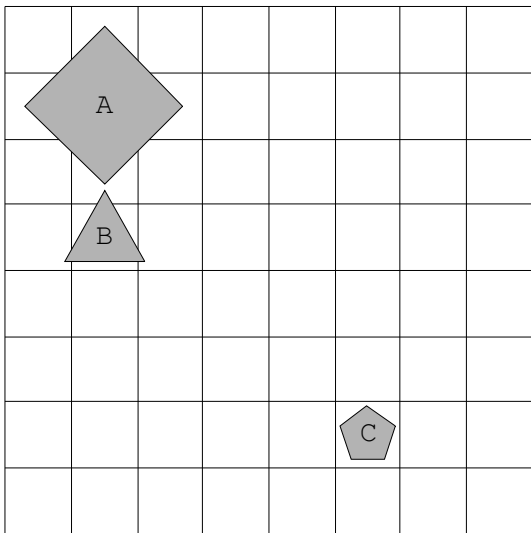
60.



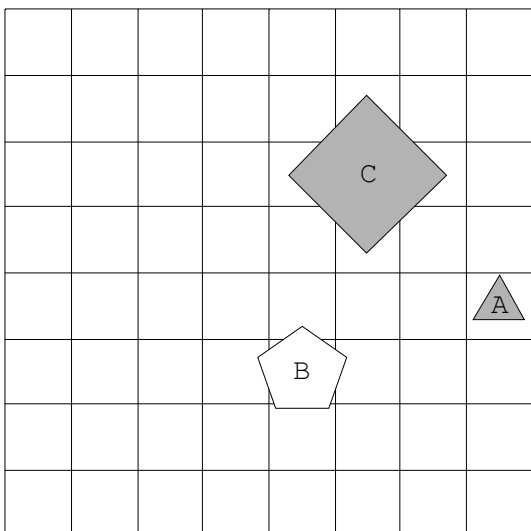
61.



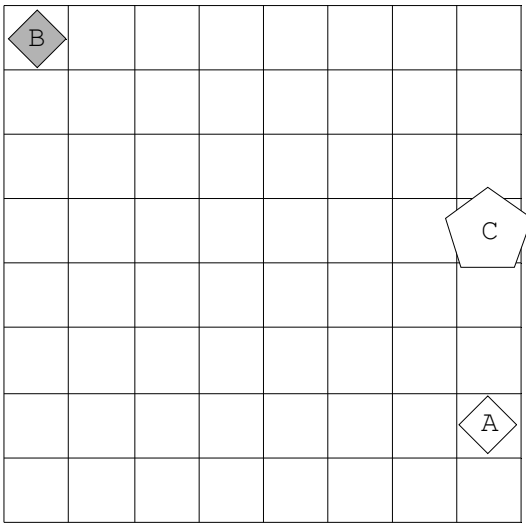
62.



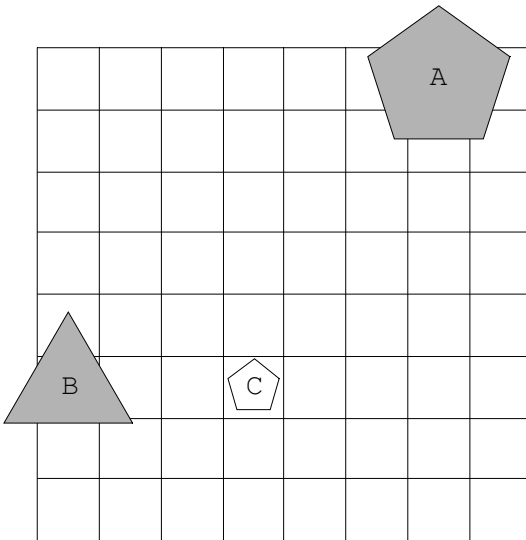
63.



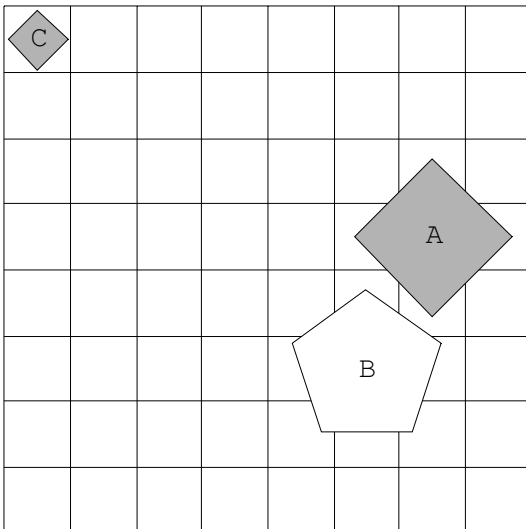
64.



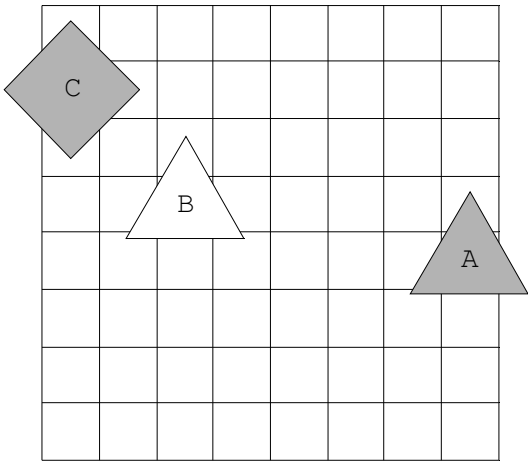
65.



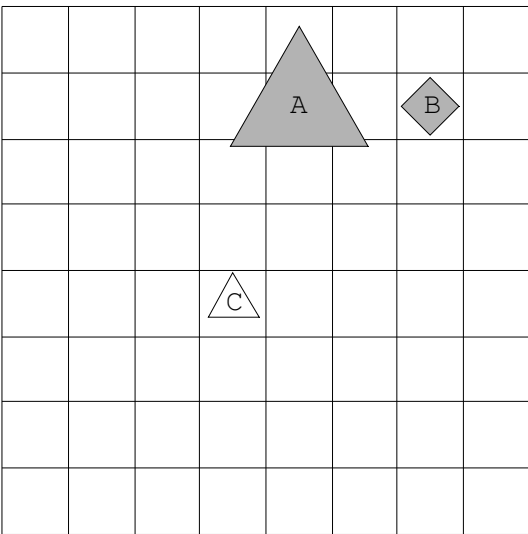
66.



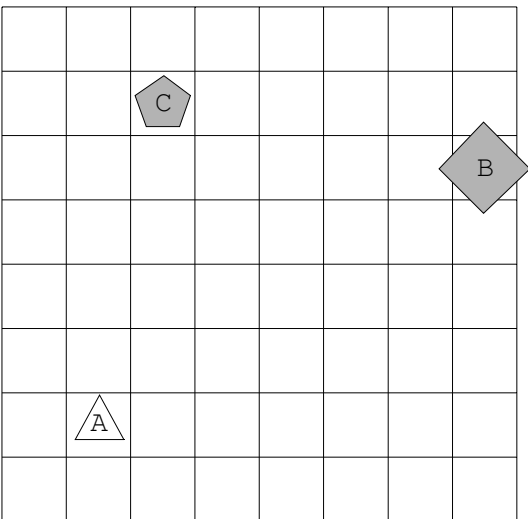
67.



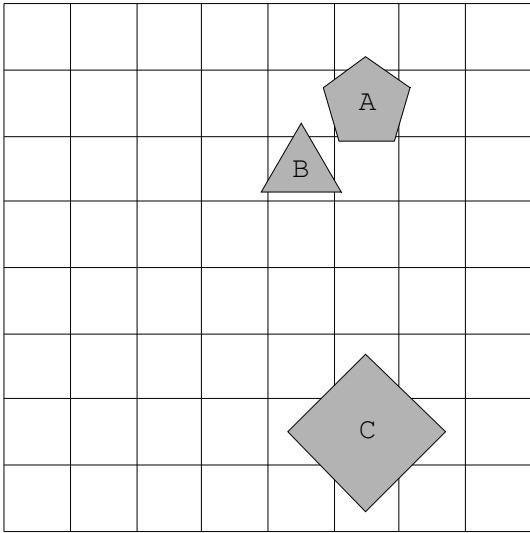
68.



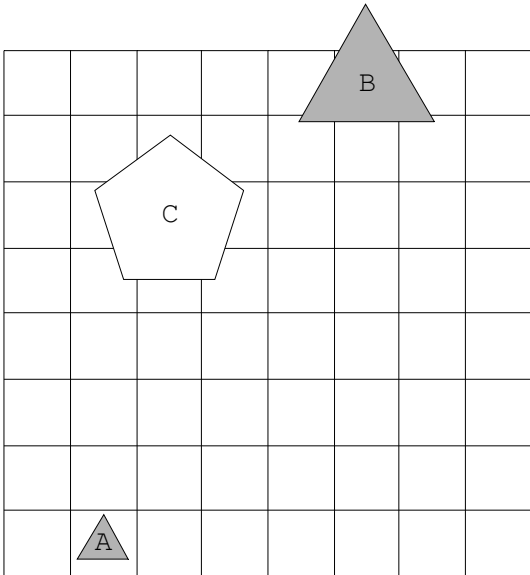
69.



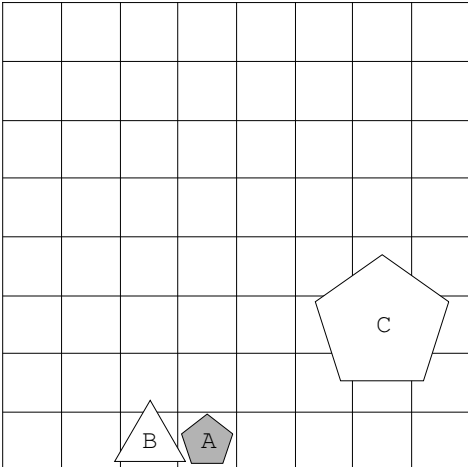
70.



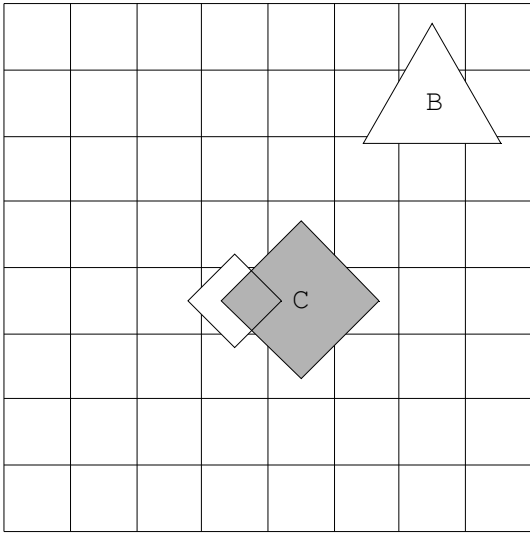
71.



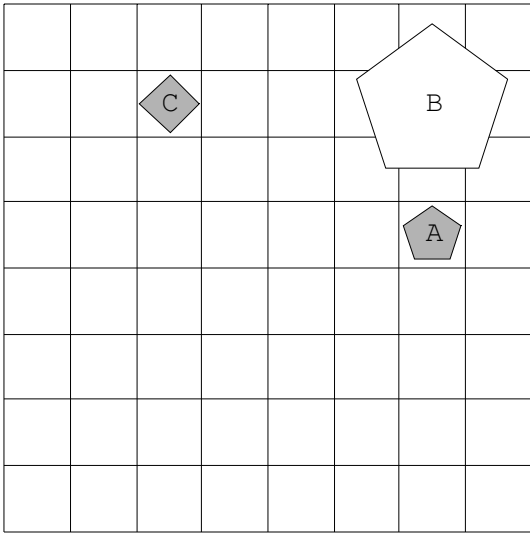
72.



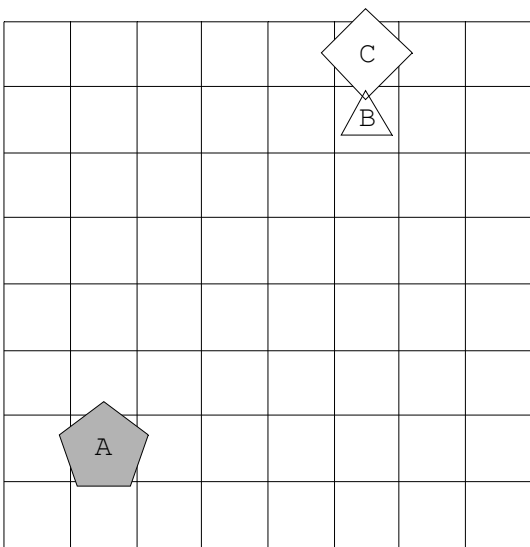
73.



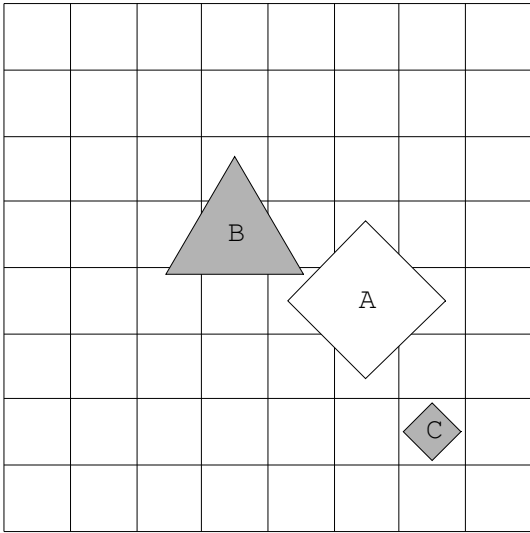
74.



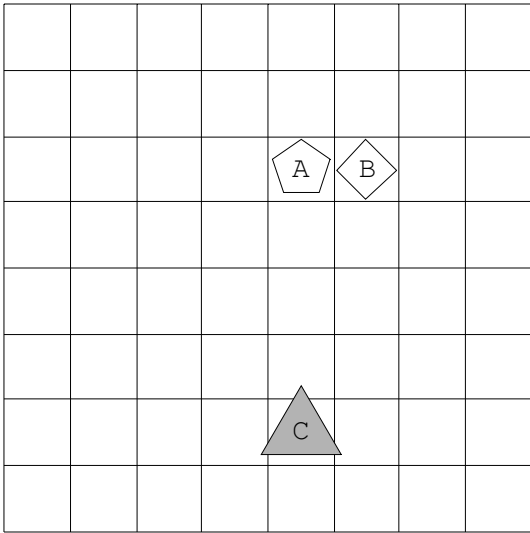
75.



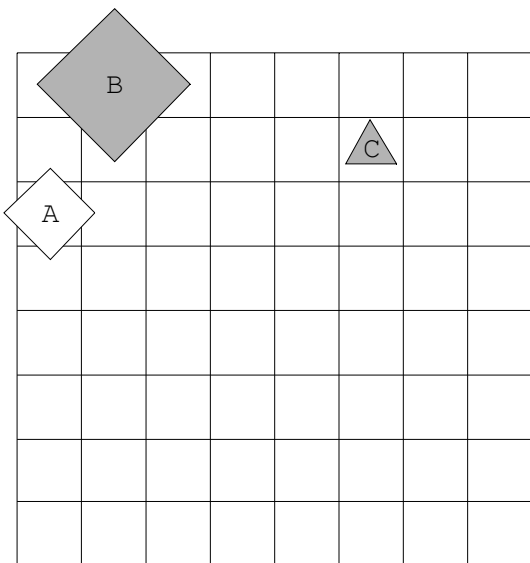
76.



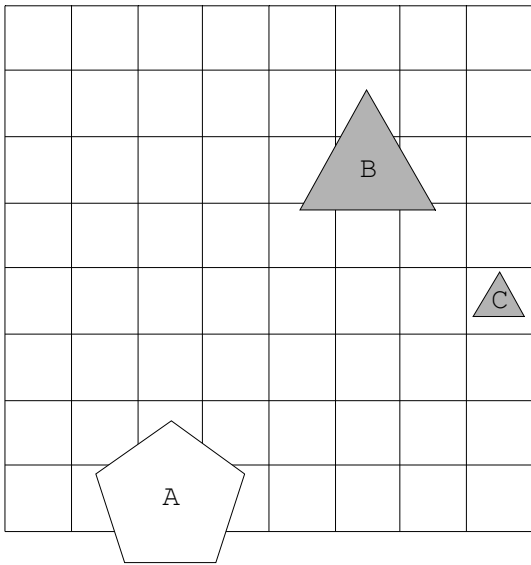
77.



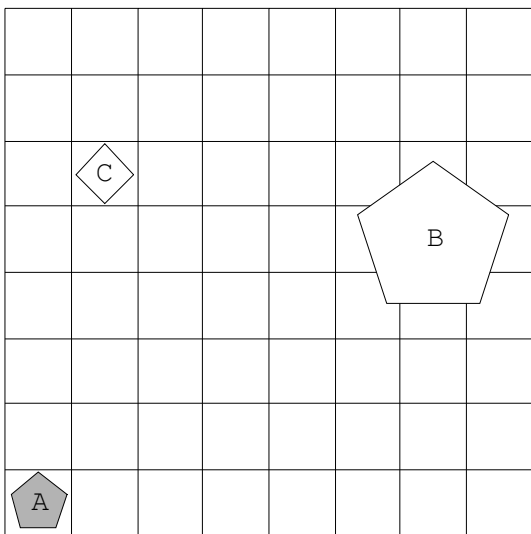
78.



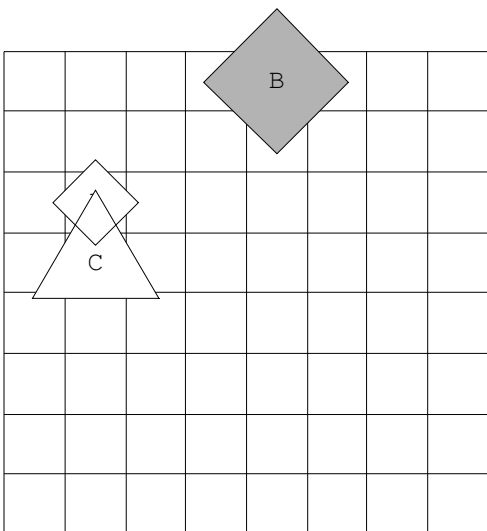
79.



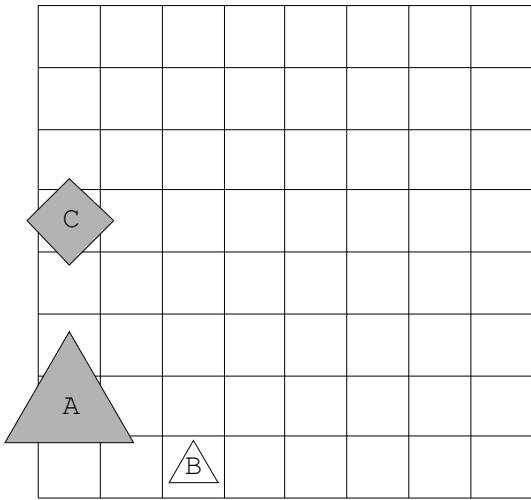
80.



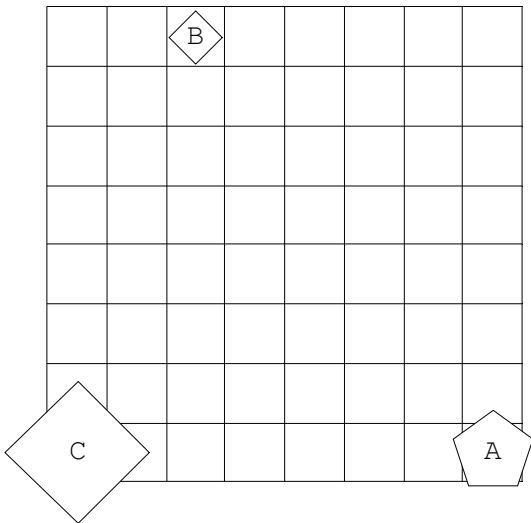
81.



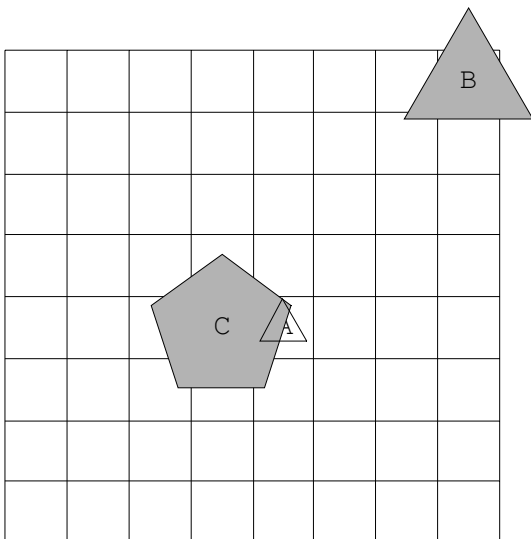
82.



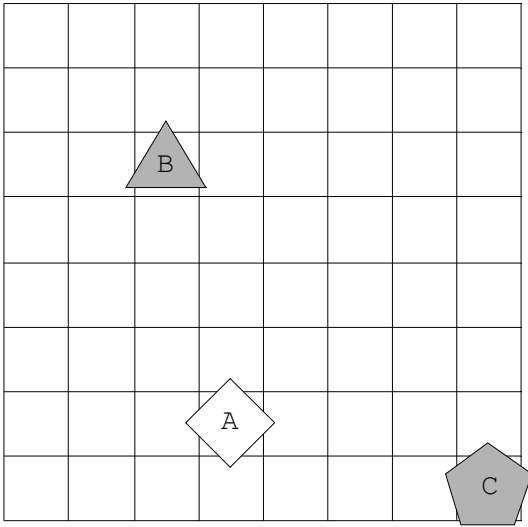
83.



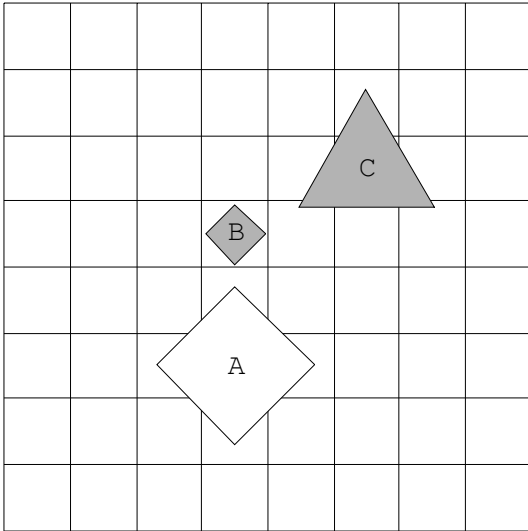
84.



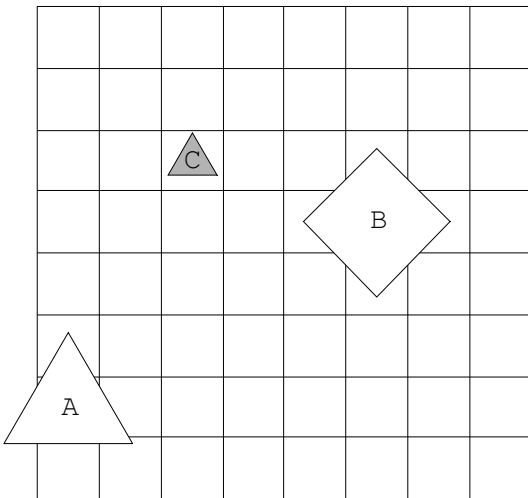
85.



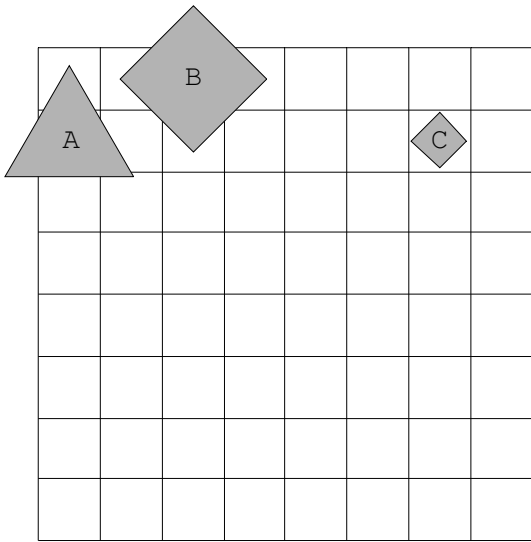
86.



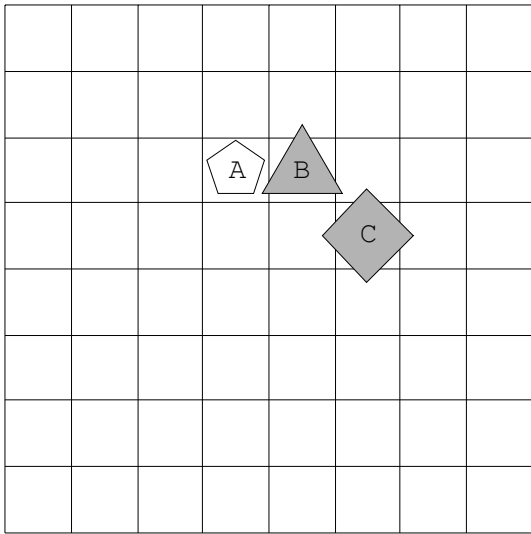
87.



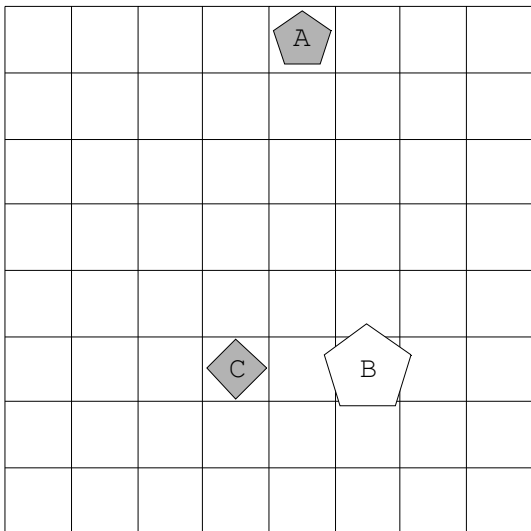
88.



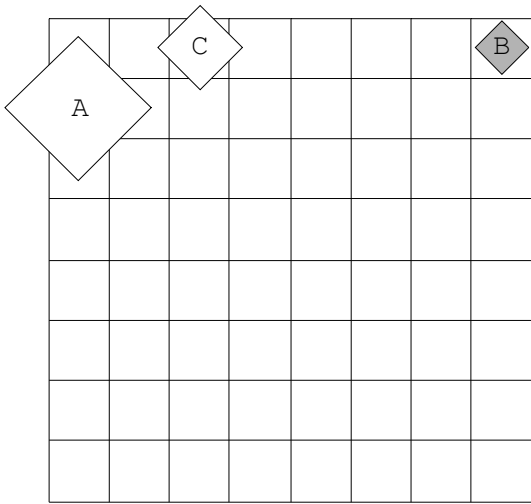
89.



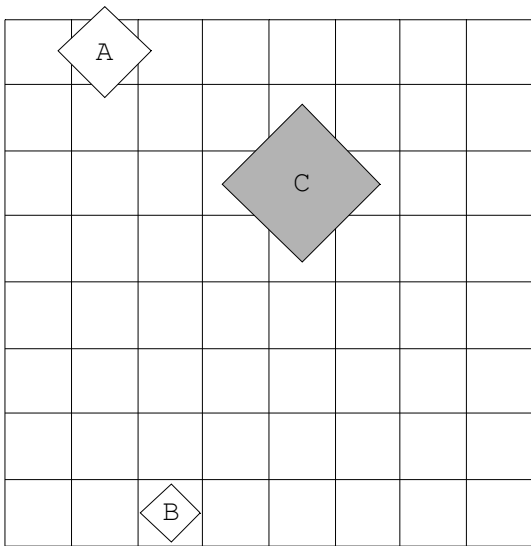
90.



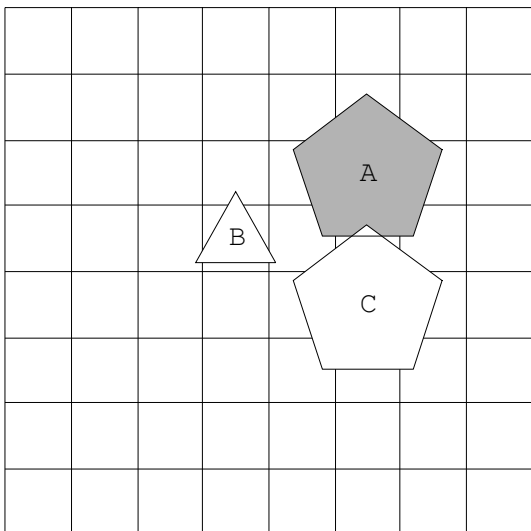
91.



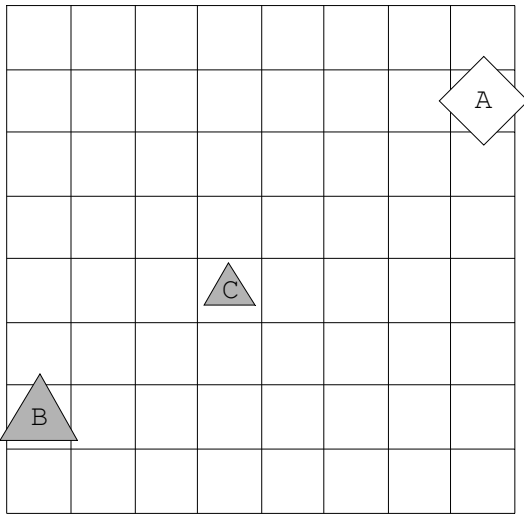
92.



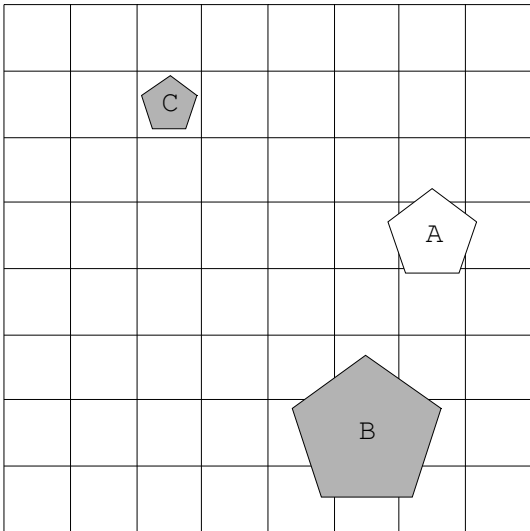
93.



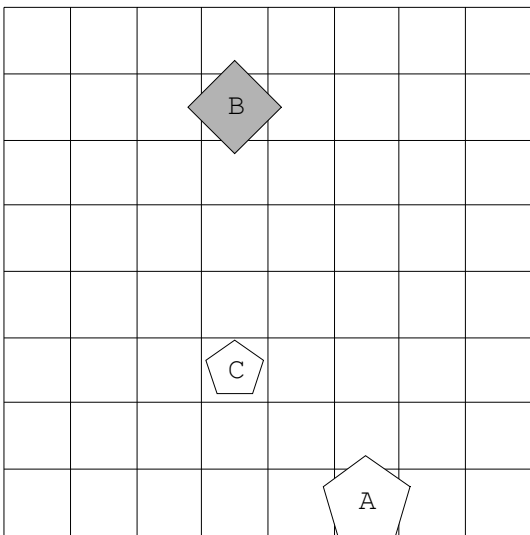
94.



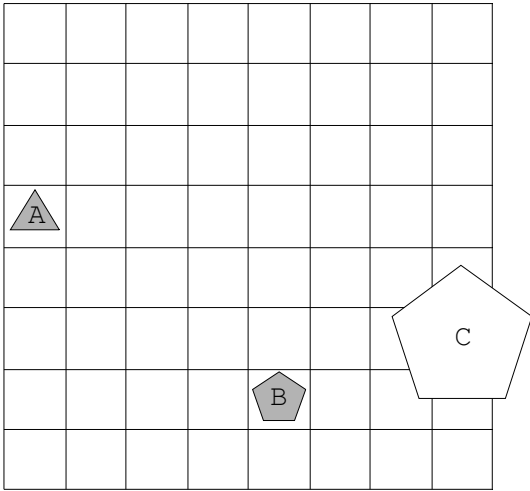
95.



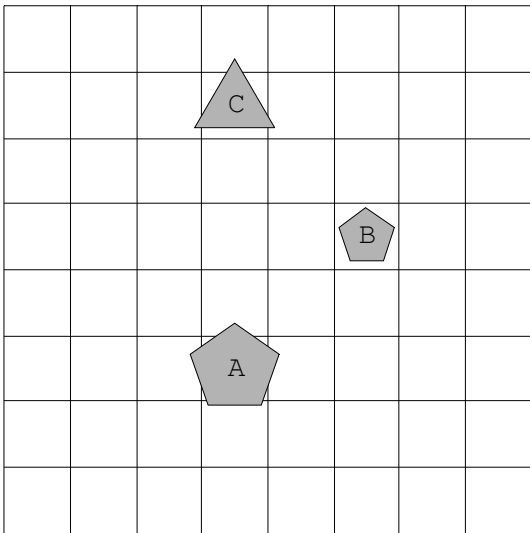
96.



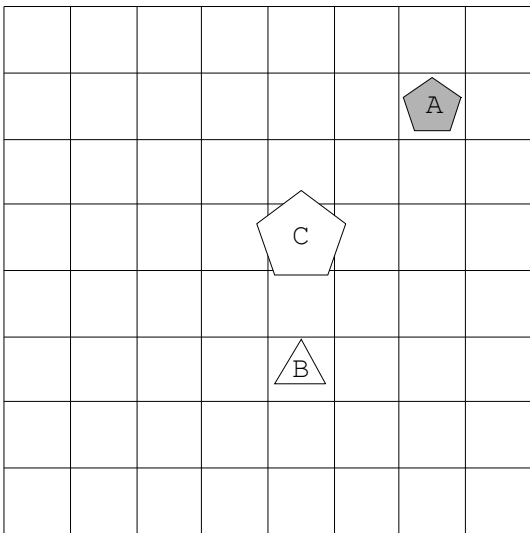
97.



98.



99.



100.

